



المستوى: الأولي ابتدائي (1AP) ديسمبر 2021

اختبار الفصل الأول في التربية العلمية

1- أربط كل صورة بالحاسة المُستعملة فيها :



via indiabix.com (2017)

2- أربط كل نوع الحركة بالبطاقة :



يقفز



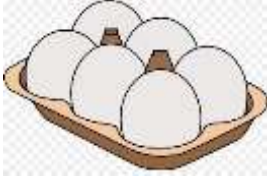


يجري


يمشي



3- أَصْلُ كُلِّ غِذَاءٍ بِمَصْدَرِهِ :



مصدر حيواني



مصدر نباتي



|| بالتوفيق ||

التصحيح النموذجي

1- أربط كل صورة بالحاسة المُستعمَلة فيها :



2- أربط كل نوع الحركة بالبطاقة :



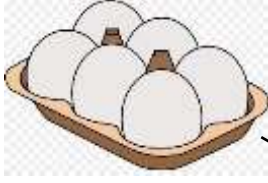
يقفز

يجري


يمشي



3- أَصْلُ كُلِّ غِذَاءٍ بِمَصْدَرِهِ :



مصدر حيواني



مصدر نباتي

