

سنة أولى ابتدائي	اختبار الفصل الثالث في مادة الرياضيات	مدرسة راحم راحم لعروسي
السنة الدراسية 2021-2022		الاسم: .....
		اللقب: .....

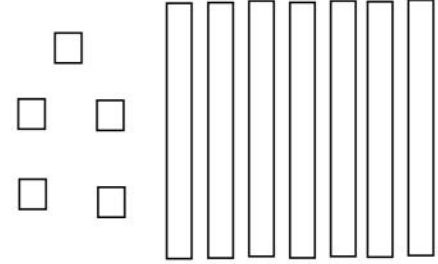
### التمرين الأول: لاحظ ثم أكمل الفراغ:

توجد ..... عشرات

و ..... وحدات

العدد الممثل هو .....

سبب .....

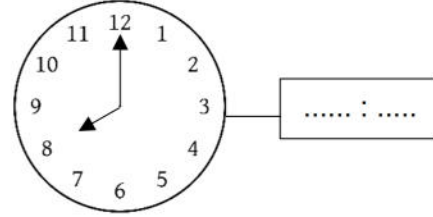
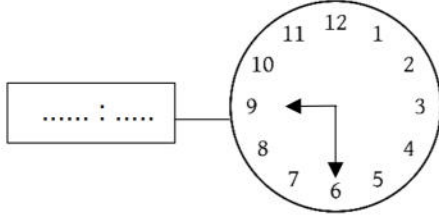


### التمرين الثاني: أحسب المجاميع الآتية :

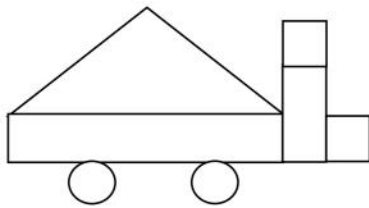
$$\begin{array}{r} 25 \\ + 21 \\ \hline = . . \end{array}$$

$$\begin{array}{r} 56 \\ + 33 \\ \hline = . . \end{array}$$

### التمرين الثالث: أكمل كتابة التوقيت بالأرقام :



### التمرين الرابع: أكمل العبارات بالرقم المناسب:



- عدد المستطيلات .....
- عدد المربعات .....
- عدد المثلثات .....
- عدد الدوائر .....

### الوضعية الإدماجية :

تملك سلسبيل 25 ديناراً، زادتها أمها 35 ديناراً

• كم ديناراً تملك سلسبيل ؟

$$\begin{array}{r} . . \\ ( ) \\ . . \\ \hline = . . \end{array}$$

$$\text{.....} = \text{.....} ( ) \text{.....}$$

تملك سلسبيل ..... ديناراً