

## اختبار الفصل الثالث في الرياضيات (الموضوع الأول)

السنة الأولى ابتدائي

التمرين 1 أكمل الجدول:

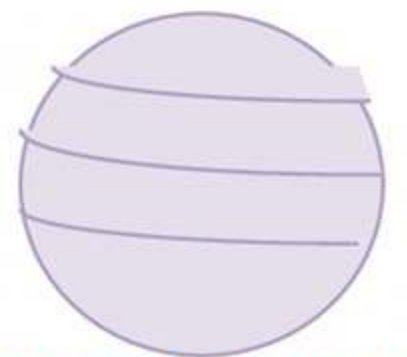
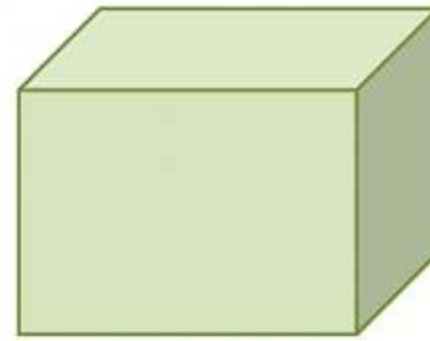
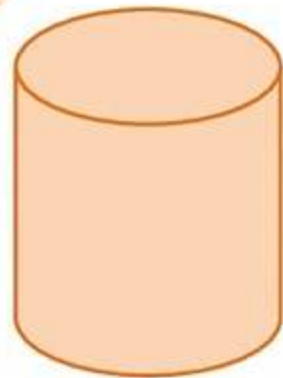
العَدَدُ بِالْأَرْقَامِ	العَدَدُ بِالْحُرُوفِ
37	.....
.....	أَرْبَعَةٌ وَ خَمْسُونَ
88	.....

التمرين 2 : رَتِّبِ الأَعْدَادَ التَّالِيَةَ تَرْتِيبًا تَصَاعُدِيًّا: 45 ، 12 ، 99 ، 36 ، 63

..... ، ..... ، ..... ، ..... ، .....  


التمرين 3 : اِمْلَأِ الجَدُولَ بِمَا يُنَاسِبُ:

.....	السَّادِسَةُ مَسَاءً
02:00	.....
.....	التَّاسِعَةُ صَبَاحًا

التمرين 4 : اُكْتُبِ إِسْمَ كُلِّ شَكْلِ تَحْتَهُ:الوضعية الإدماجية:

يَمْلِكُ عَبْدُ اللَّهِ 40 دِينَارًا ، زَادَهُ أَبُوهُ 35 دِينَارًا .  
 كَمْ صَارَ يَمْلِكُ عَبْدُ اللَّهِ ؟

..... = .....

صَارَ يَمْلِكُ عَبْدُ اللَّهِ ..... دِينَارًا.