

## اختبار الفصل الثالث في الرياضيات (الموضوع الثالث)

السنة الأولى ابتدائي

التمرين 1 صل بين كل بطاقة و العدد المناسب لها:

عشرة

53+35

سبعة و أربعون

5 عشرات و 3 وحدات

47

53

88





10


التمرين 2 : أكمل حسب المثال:  $39 + 1 = 30 + 9 + 1 = 30 + 10 = 40$ 

$68 + 2 = .. + .. + .. = .. + .. = ..$

$73 + 7 = .. + .. + .. = .. + .. = ..$

التمرين 3: أرسم عقربي الساعة لتشير إلى التوقيت المكتوب:

			
21:35	15:45	10:10	00:20

التمرين 4: صل بالمسطرة النقط للحصول على أشكال و سمها:الوضعية الإدماجية:

يملك أنس 45 دينارًا ، اشتري قلما بـ 25 دينارًا.

- ما هو المبلغ الذي بقي عند أنس ؟

المبلغ الذي بقي عند أنس هو ..... دينارًا. =.....