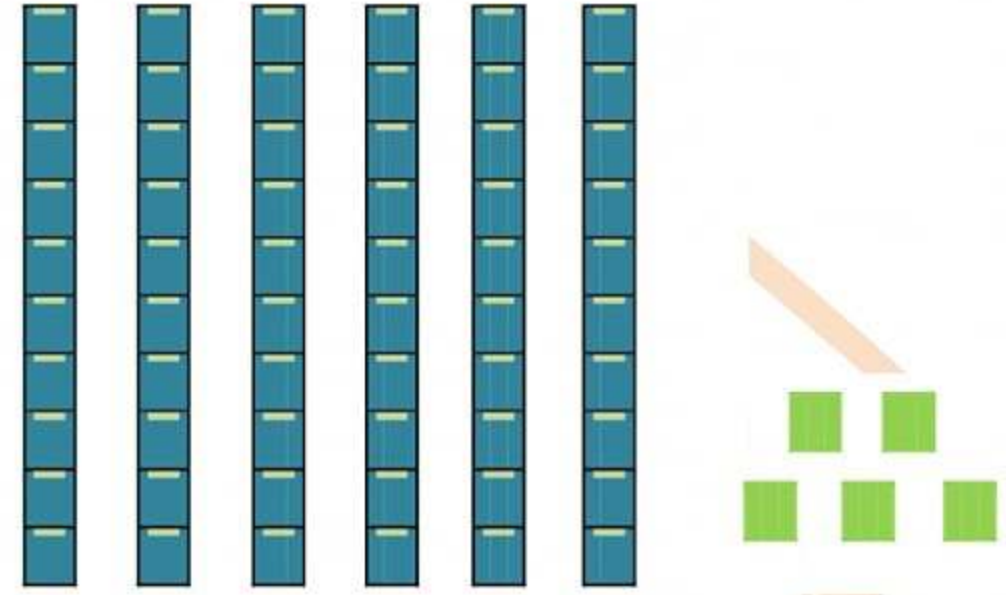


اختبار الفصل الثالث في الرياضيات (الموضوع الثاني)

السنة الأولى ابتدائي

التمرين 1: لاحظ ثم أكمل الفراغ:

يُوجَدُ عَشْرَاتٍ وَ وَحَدَاتٍ.
العَدَدُ الْمُتَمَثِّلُ هُوَ:

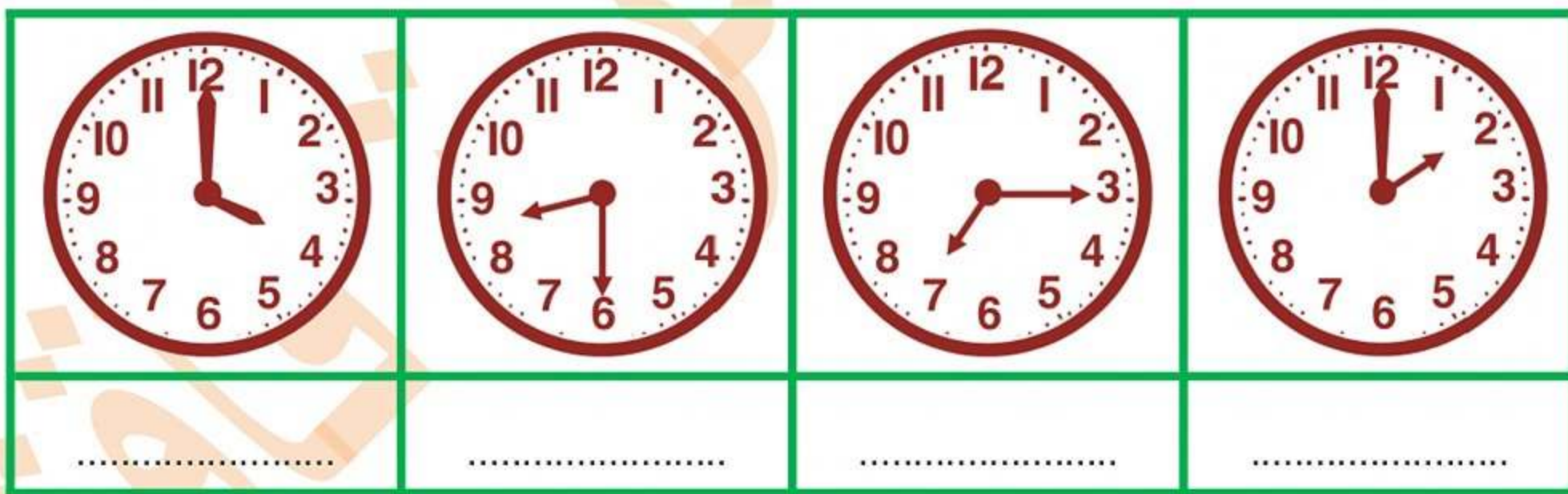
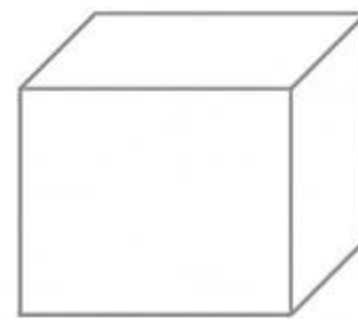
التمرين 2: أكمل بكتابة (أكبر من، أصغر من، يساوي):

72.....27

15.....8+7

10+10+10+5.....34

52+40.....92

التمرين 3: اكتب بالأرقام التوقيت الذي تشير إليه الساعة:التمرين 4: لون أوجه المكعب، وضع إشارة X على رؤوس البلاط القائم و مرر بخط أخضر على أحرفه:الوضعية الإدماجية:

في الشجرة 65 ثفاحة، سقطت منها 23 ثفاحة.

- كم بقيت من ثفاحة في الشجرة؟

بقيت ثفاحة.

.....=.....