



ماي 2022

المستوى: الأولى ابتدائي (1AP)

الاسم : اللقب : القسم :

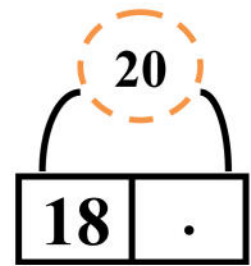

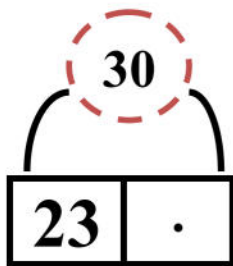

اختبار الفصل الثالث في مادة الرياضيات

التمرين 1 : أنجز العمليّات العموديّة (2ن)

$$\begin{array}{r} 43 \\ + \\ \hline 42 \\ = \end{array} \qquad \begin{array}{r} 56 \\ + \\ \hline 21 \\ = \end{array}$$

14-4=.....

39-6=.....

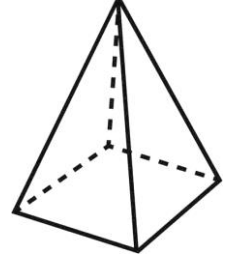
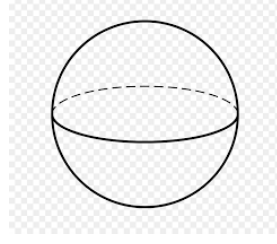
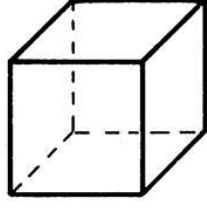
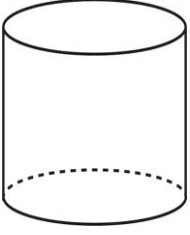
التمرين 2 : أتم إلى العشرة الموائية: (5,1ن)**التمرين 3 :** أكمل بما يناسب: (1ن)**(ب)** أرسم عقربي الساعة حسبما تُشير إليه الساعة :

09:30

(أ) اكتب بالأرقام التوقيت الذي تُشير إليه الساعة :

..... :

التمرين 4 : أ/ أرِبْطُ كُلَّ مُجَسِّمٍ بِالْبِطَاقَةِ الْمُنَاسِبَةِ. (5,1ن)



هَرَم

كُرَّة

أَسْطَوَانَةٌ

مُكْعَب

ب/ أَشْطَبُ عَلَى الْمُجَسِّمِ الَّذِي يَتَدَخَّرُج.

التمرين 4 : أَحْصُرْ هَذِهِ الْأَعْدَادَ بَيْنَ عَشْرَتَيْنِ مُتتَالِيَتَيْنِ : (2ن)



الوضعية الإدماجية : (2ن)

• يَمْلِكُ أَمِينُ 18 كُرْيَةً، لَعِبَ مَعَ زُمَلَائِهِ فَخَسِرَ 9 كُرْيَاتٍ.

التَّمثِيلُ بِالرَّسْمِ

- كَمْ كُرْيَةً بَقِيَتْ عِنْدَ أَمِينٍ ؟

..... =

• بَقِيَتْ عِنْدَ أَمِينٍ كُرْيَاتٍ.



تصحيح اختبار الفصل الثالث في مادة الرياضيات

التمرين 1 : أنجز العمليّات العموديّة (2ن)

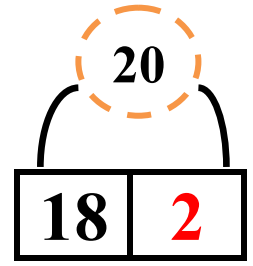
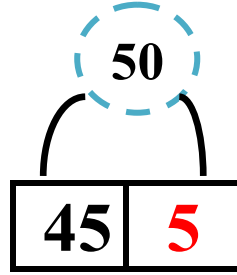
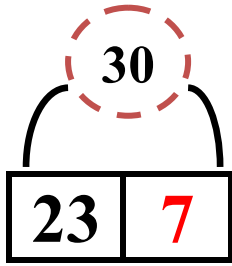
$$\begin{array}{r} 43 \\ + \\ \hline 42 \\ = 85 \end{array}$$

$$\begin{array}{r} 56 \\ + \\ \hline 21 \\ = 77 \end{array}$$

$$14-4= 10$$

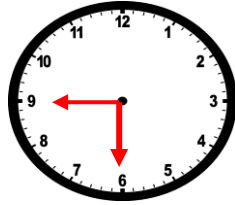
$$39-6= 33$$

التمرين 2 : أتم إلى العشرة الموائية: (1,5ن)




التمرين 3 : أكمل بما يناسب: (1ن)

(ب) أرسم عقربي الساعة حسبما تُشير إليه الساعة:



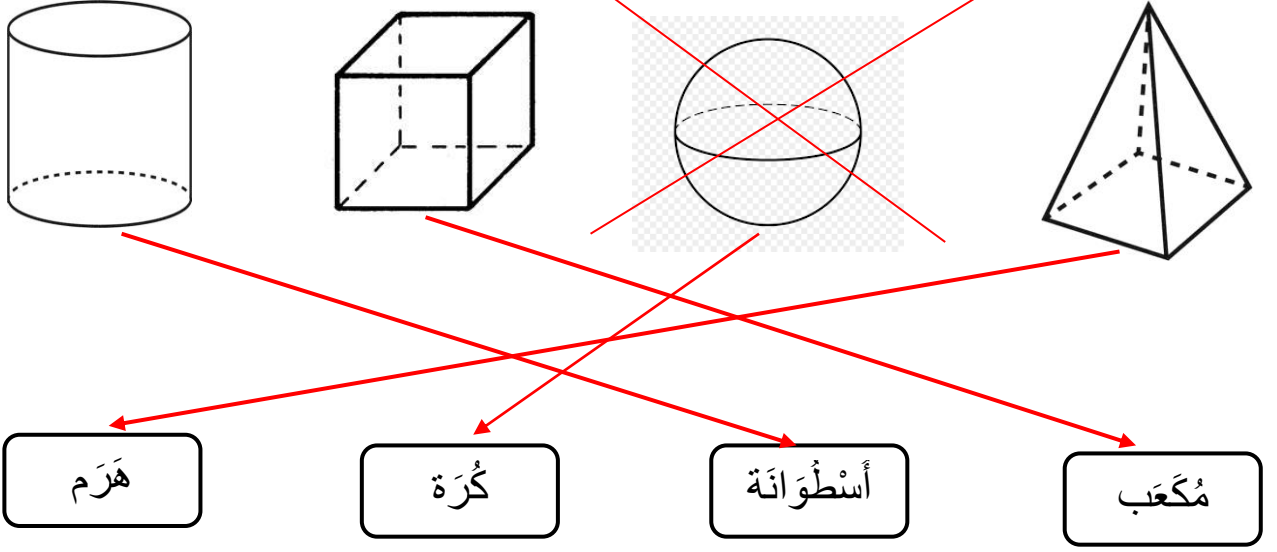
09:30

(ب) أكتب بالأرقام التوقيت الذي تُشير إليه الساعة:



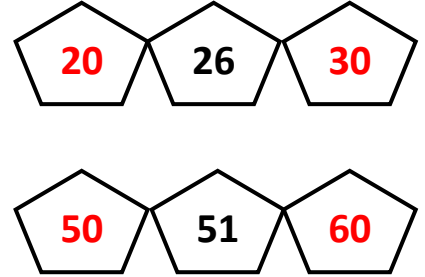
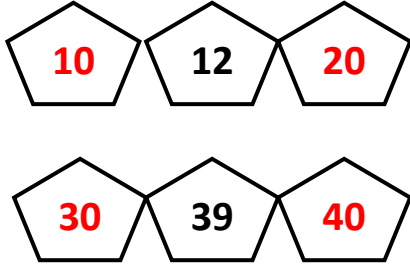
3:00

التمرين 4 : أ/ أرِبْطُ كُلَّ مُجَسِّمٍ بِالْبِطَاقَةِ الْمُنَاسِبَةِ. (5,1ن)



ب/ أَشْطَبُ عَلَى الْمُجَسِّمِ الَّذِي يَتَدَخَّرُج.

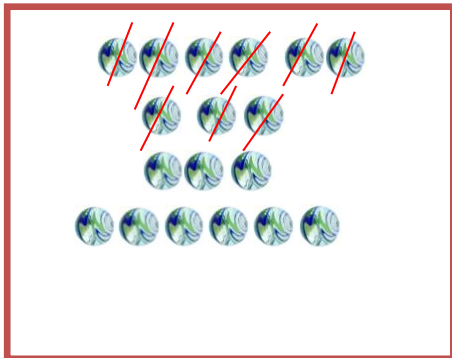
التمرين 4 : أَحْصُرْ هَذِهِ الْأَعْدَادَ بَيْنَ عَشْرَتَيْنِ مُتتَالِيَتَيْنِ : (2ن)



الوضعية الإدماجية : (2ن)

• يَمْلِكُ أَمِينُ 18 كُرْيَةً، لَعِبَ مَعَ زُمَلَائِهِ فَخَسِرَ 9 كُرْيَاتٍ.

التَّمثِيلُ بِالرَّسْمِ



- كَمْ كُرْيَةً بَقِيَتْ عِنْدَ أَمِينٍ ؟

$$18 - 9 = 9$$

• بَقِيَتْ عِنْدَ أَمِينٍ 9 كُرْيَاتٍ.