

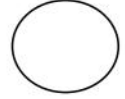

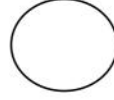

ماي 2022

المستوى: الأولى ابتدائي (1AP)

الاسم: اللقب: القسم:

اختبار الفصل الثالث في التربية العلمية

النشاط 1: ألون القرص الذي يظهر المواد التي تذوب بالحرارة :



النشاط 2: أضغ (ص) أو (خ) :

- العَصِيرُ جِسْمٌ سَائِلٌ. (.....)
- الخَشَبُ يَذُوبُ بِالْحَرَارَةِ. (.....)
- أَحْتَفِظُ بِمَوَادِّ التَّنْظِيفِ بَعِيدًا عَنِ الْأَطْفَالِ. (.....)
- مَاءُ الْجَافِيلِ مِنْ مَوَادِّ التَّنْظِيفِ. (.....)

النشاط 3: أربط اسم كل شجرة باسم المكان الذي تعيش فيه :

شجرة النّقّاح

شجرة الصنوبر

النخلة

الصحراء

الغابة

البستان

النشاط 4: أصنّف هذه الأجسام في الجدول :

- زَيْتٌ - بَطَاطَا - حَلِيبٌ - قَلَمٌ - بَيْضٌ - مَاءٌ.

جِسْمٌ صَلْبٌ	جِسْمٌ سَائِلٌ
.....
.....
.....

الوضعية الإدماجية: أملأ الفراغات بما يلي :



• (جَامِدَةٌ - تَدُوبٌ - التُّلُوجُ - الحَرَارَةُ)

• فِي فَصْلِ الشِّتَاءِ تَتَكَوَّنُ عَلَى قِمَمِ الْجِبَالِ وَالَّتِي فِي فَصْلِ
الصَّيْفِ بِفَعْلٍ

• فِي فَصْلِ الصَّيْفِ وَضَعَتِ الْأُمُّ قَارُورَةَ مَاءٍ فِي النَّلَاجَةِ فَصَارَتْ

التّصحيح

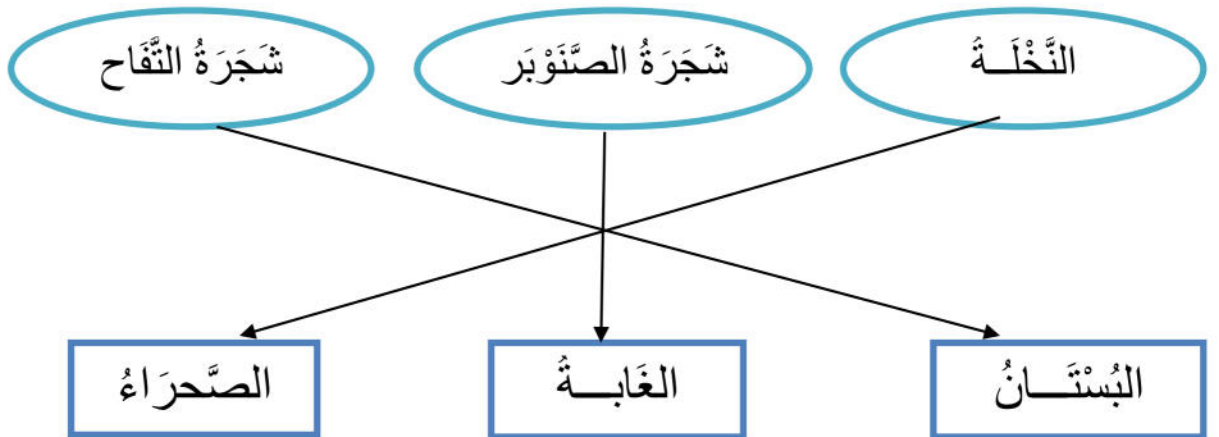
النشاط 1: ألون القرص الذي يظهر المواد التي تذوب بالحرارة :



النشاط 2: أضغ (ص) أو (خ) :

- العصير جسم سائل. (ص)
- الخشب يذوب بالحرارة. (خ)
- أحتفظ بمواد التنظيف بعيدًا عن الأطفال. (ص)
- ماء الجافيل من مواد التطهير. (ص)

النشاط 3: أربط اسم كل شجرة باسم المكان الذي تعيش فيه :



النشاط 4: أصنّف هذه الأجسام في الجدول :

- زَيْتٌ - بَطَاطَا - حَلِيبٌ - قَلَمٌ - بَيْضٌ - مَاءٌ.

جِسْمٌ سَائِلٌ	جِسْمٌ صَلْبٌ
زَيْتٌ	بَطَاطَا
حَلِيبٌ	قَلَمٌ
مَاءٌ	بَيْضٌ

الوضعية الإدماجية: أملأ الفراغات بما يلي :

• (جَامِدَةٌ - تَدُوبٌ - الثَّلُوجُ - الحَرَارَةُ)

• فِي فَصْلِ الشِّتَاءِ تَتَكَوَّنُ عَلَى قِمَمِ الْجِبَالِ **الثَّلُوجُ** وَالتّي **تَدُوبُ** فِي فَصْلِ الصَّيْفِ بِفِعْلِ **الحَرَارَةِ**.

• فِي فَصْلِ الصَّيْفِ وَضَعَتِ الأُمُّ قَارُورَةَ مَاءٍ فِي الثَّلَاجَةِ فَصَارَتْ **جَامِدَةً**.