




## اختبار الفصل الأول في مادة الرياضيات السنة الاولى ابتدائي

الاسم: ..... اللقب: ..... القسم: .....



### التمرين الأول:


- ألونُ البَالُونِ الَّذِي يَحْمِلُهُ الْوَلَدُ بِيَدِهِ الْيُمْنَى بِاللُّونِ الْأَخْضَرِ - ألونُ  
البَالُونِ الَّذِي يَحْمِلُهُ الْوَلَدُ بِيَدِهِ الْيُسْرَى بِاللُّونِ الْأَحْمَرِ.

### التمرين الثاني: أعدُ وأكملُ

عدُّ الأَقْلَامِهُوَ: .....

عدُّ المِقْلَمَاتِهُوَ: .....




عدُّ المِبَارِهُوَ: .....



التمرين الثالث: ألون الشريط الأَقْصَرَ بِالْأَصْفَرِ وَالْأَطْوَلَ بِالْأَخْضَرِ، ثُمَّ أرتبها من الأَقْصَرِ إِلَى الْأَطْوَلِ.


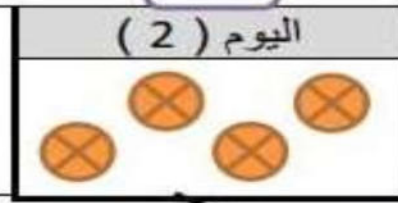
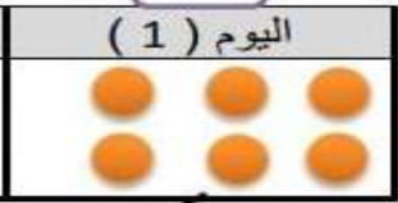
التمرين الرابع: أكمل عمليّات الجمع التّالية.

-أرسم مجموعة كرات عناصرها أقل من مجموعة الحيوانات أكمل الكتابة الناقصة.



الوضعية الإدماجية :


يُحبُّ بلالُ جمع الكُرَيَاتِ الصَّغِيرَةِ حيثُ جَمَعَ:

	اليوم ( 2 )	اليوم ( 1 )
		

.....

مَجْمُوعُ كُرَاتِ بِلَالِ هُوَ : ..... كُرَيَاتٍ

## التصحيح النموذجي



### التمرين الأول :

- أَلَوْنُ الْبَالُونِ الَّذِي يَحْمِلُهُ الْوَلَدُ بِيَدِهِ الْيُمْنَى بِاللَّوْنِ الْأَخْضَرِ.


-أَلَوْنُ الْبَالُونِ الَّذِي يَحْمِلُهُ الْوَلَدُ بِيَدِهِ الْيُسْرَى بِاللَّوْنِ الْأَحْمَرِ.

### التمرين الثاني: أَعُدُّ وَأَكْمِلُ

عَدَدُ الْأَقْلَامِ هُوَ: 6

عَدَدُ الْمَقْلَمَاتِ هُوَ: 3

عَدَدُ الْمَبَارِ هُوَ: 4



التمرين الثالث: أَلَوْنَا الشَّرِيطَةَ الْأَقْصَرَ بِالْأَصْفَرِ وَالْأَطْوَلَ بِالْأَخْضَرِ، ثُمَّ أَرْتَبْنَاهَا مِنَ الْأَقْصَرِ إِلَى الْأَطْوَلِ.

3

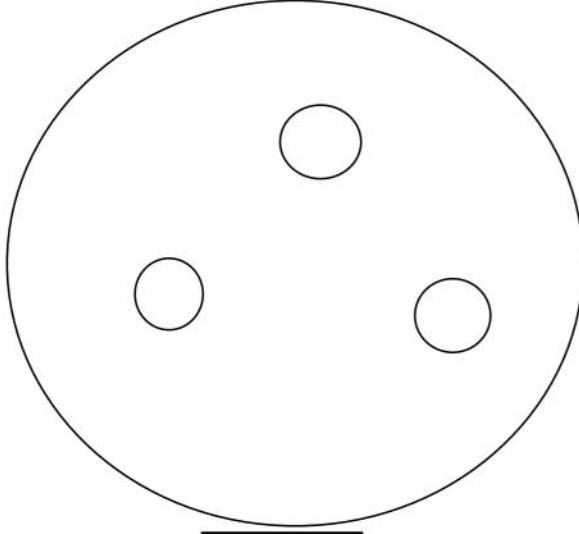
2

1


4

التمرين الرابع: أكمل عمليّات الجمع التّالية.

-أرسم مجموعة كرات عناصرها أقل من عناصر مجموعة الحيوانات وأكمل الكتابة الناقصة.



3



8

الوضعية الإدماجية :

اليوم الأول: 6

اليوم الثاني: 4

المجموع : 10

مجموع كرات بلال هو: 10 كرات .