



المستوى: الأولى ابتدائي (1AP) نوفمبر 2021


التقويم الثاني للفصل الأول في الرياضيات

اللقب: الاسم: القسم:


التمرين الأول: أرسمُ فَرِيصَاتٍ بِقَدْرِ العَدَدِ المَكْتُوبِ.




1



3



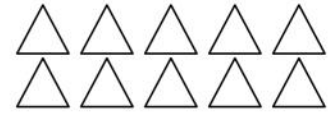
5




7

التمرين الثاني: أصِلْ بِالْعَدَدِ المُنَاسِبِ.

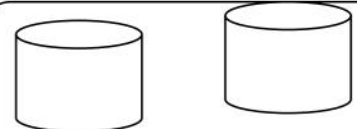
10



2



6



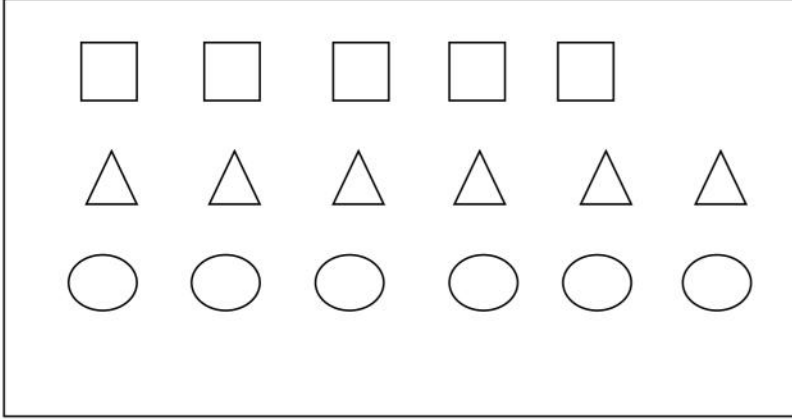
0



التمرين الثالث: أكمل الشريط العددي.

1	5	..	7
---	----	----	----	---	----	---	----	----	----

التمرين الرابع: إليك الأشكال التالية.



ألون بالأصفر 3 مربعات

ألون بالأخضر 4 مثلثات

ألون بالأحمر 3 فريصات


عدّد كلّ الأشكال الملونة هو..... شكلاً.

التصحيح النموذجي


التمرين الأول: أَرَسِّمْ فُرَيْصَاتِ بَقْدَرِ الْعَدَدِ الْمَكْتُوبِ.




1



3



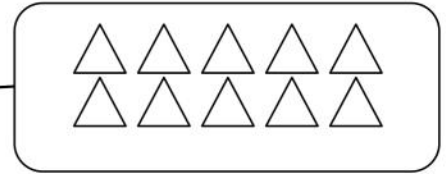
5




7

التمرين الثاني: أَصِلْ بِالْعَدَدِ الْمُنَاسِبِ.

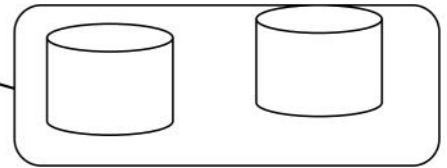
10



2



6



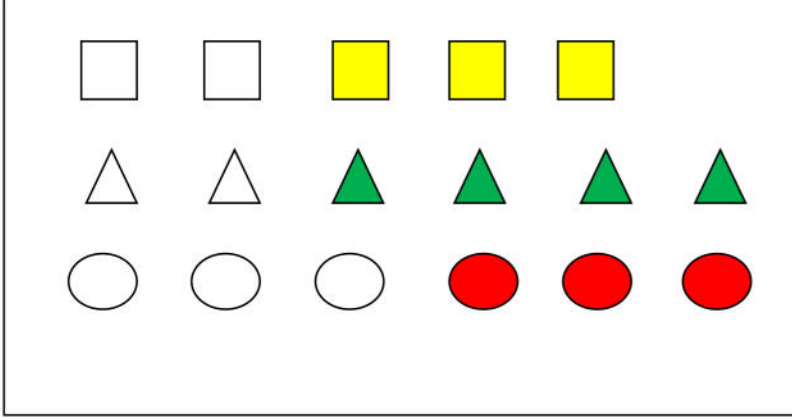
0



التمرين الثالث: أَكْمِلُ الشَّرِيْطَ الْعَدَدِي.

1	2	3	4	5	6	7	8	9	10
---	---	---	---	---	---	---	---	---	----

التمرين الرابع: إِيك الأشكال التالفة.



ألون بالأصفر 3 مربعات

ألون بالأخضر 4 مثلثات

ألون بالأحمر 3 فريصات

عدد كل الأشكال الملونة هو 10 أشكال.