

الاسم واللقب:
التاريخ:

المادة: الرياضيات
المستوى: الأولى ابتدائي

اختبار الفصل الأول

التمرين الأول:

أكمل الشريط العددي

0	6	10
---	-------	-------	-------	-------	-------	---	-------	-------	-------	----

التمرين الثاني:

أكمل العدد ناقص

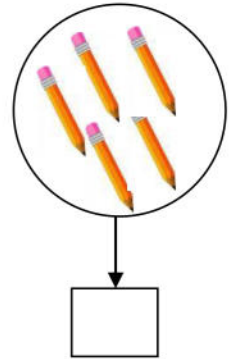
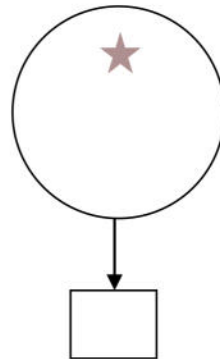
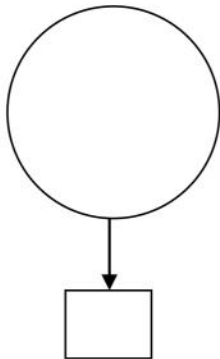
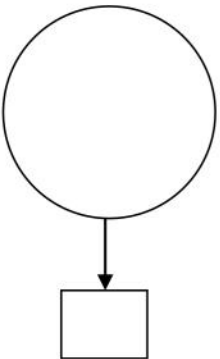
.....	2	3	5
.....	6	7	9

مدرسة "الرجاء والتفوق" الخاصة

Ecole Erradja wa Tafaouk
ÉCOLE PRIVÉE

التمرين الثالث:

أحسب وأكمل بالعدد المناسب



التّمرين الرَّابِع:

ألْوَنُ البِطَاقَةَ المُنَاسِبَةَ

5	أكبر من	5
	أصغر من	
	تساوي	

9	أكبر من	6
	أصغر من	
	تساوي	


5	أكبر من	8
	أصغر من	
	تساوي	

التّمرين الخَامِس:

أُنْجِزِ العَمَلِيَّاتِ

$5+3=.....$	$4+4=.....$	$3+6=.....$	$0+3=.....$
-------------	-------------	-------------	-------------

(0.5 علامة لنظافة الورقة)



الاسم واللقب:
التاريخ:

المادة: الرياضيات
المستوى: الأولى ابتدائي

تصحيح اختبار الفصل الأول

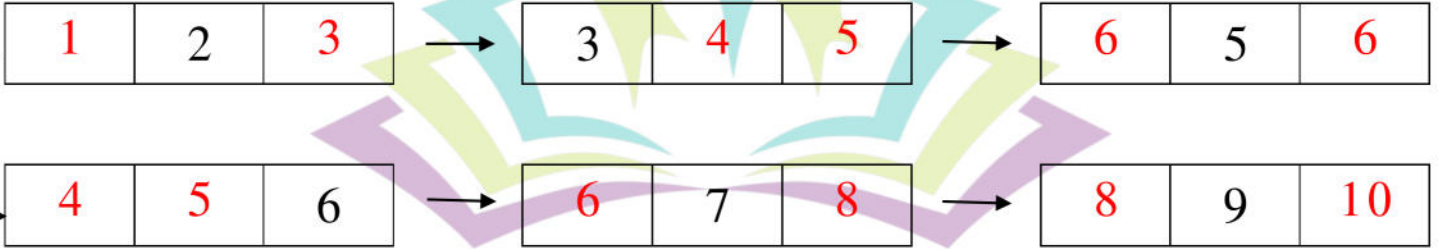
التمرين الأول:

أكمل الشريط العددي



التمرين الثاني:

أكمل العدد ناقص

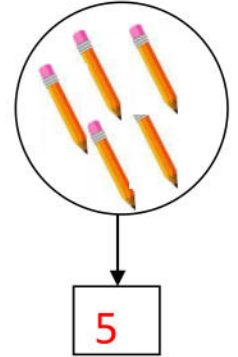
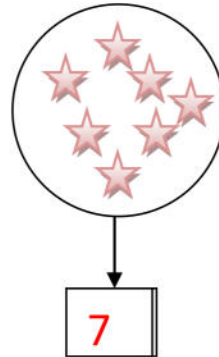
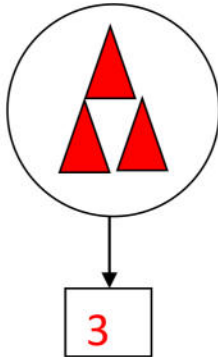
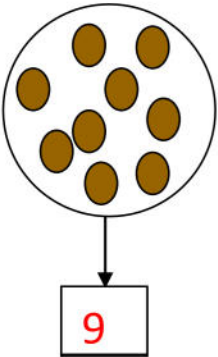


مدرسة "الرجاء والتفوق" الخاصة

Ecole Erradja wa Tafaouk
ÉCOLE PRIVÉE

التمرين الثالث:

أحسب وأكمل بالعدد المناسب



التمرين الرابع:

ألون البطاقة المناسبة

	أكبر من	
5	أصغر من	5
	تساوي	

	أكبر من	
9	أصغر من	6
	تساوي	

	أكبر من	
5	أصغر من	8
	تساوي	

التمرين الخامس:

أنجز العمليات

$5+3=8$	$4+4=8$	$3+6=9$	$0+3=3$
---------	---------	---------	---------

(0.5 علامة لنظافة الورقة)

