

التَّارِيخُ: 2022/05/18

المُدَّة: 03 سَاعَاتٍ وَ30 دَقِيقَةً

المَادَّة: تاريخ وجغرافيا

المستوى: 3ت إ

## امتحان البكالوريا التجريبي

اختر واحدا من الموضوعين وأجب عليه:

### الموضوع الأول:

التَّارِيخُ:

الجزء الأول: (06ن)

السَّند:

"حقاً لقد تراجع الاستعمار التقليدي في عدّة جهات وجبهات لكنّه في نفس الوقت يمدُّ نفوذه تحت صور أخرى في العالم ويعمل على تأمين سيطرته على ثروات الشُّعوب النّامية ومواردها. إنّ المهام الملقاة على دول حركة عدم الانحياز تتمثّل حسب رأينا في ضمان الاستقلال الوطني وتحقيق تنميتها لاستكمال هذا الاستقلال وتعزيزه ومناصرة حركات التحرُّر ومصارعة الصُّهيونية والتَّميُّز العنصري .... وجميع مظاهر الاستغلال والاستعمار الجديد والامبريالية ..."

مقتطفات من خطاب الرئيس هواري بومدين بمناسبة افتتاح المؤتمر الرابع لحركة عدم الانحياز

- (1) حدّد مفهوم المصطلحات التي تحتها خط في السَّند.
- (2) عرّف الشَّخصيات التَّالية: الجنرال جياب . على جناح . رونالد ريغن . رابح بيطاط .
- (3) أكمل الجدول التالي:

الحدث	طبيعته
1957/01/5م	.....
.....	إضراب ثمانية أيام
1958/02/8م	.....
.....	سقوط جدار برلين

- (4) على الخريطة المرفقة (الشَّكل 01) وقّع أربع أزمات دوليّة وقعت خلال الحرب الباردة في أوروبا و آسيا و إفريقيا و أمريكا اللاتينية.

## الجزء الثاني: (04 نقاط)

ورد في بيان 1 نوفمبر 1954 م "...إن الوقت قد حان لإخراج الحركة من المأزق الذي أوقعها فيها صراع الأشخاص، والتأثيرات لدفعها إلى المعركة الحقيقية ..."

**المطلوب:** انطلاقا من الفقرة واعتمادا على ما درست، أكتب مقالا تاريخيا تبين فيه ما يلي:

(1) الظروف الإقليمية والمحلية التي ساعدت على اندلاع الثورة.

(2) الصعوبات التي واجهت الثورة عند انطلاقها.

## الجغرافيا:

### الجزء الأول: (06 نقاط)

(1) حدّد مفهوم المصطلحات التالية:

مجموعة التبادل الحر – الاستقطاب – تنظيم الإقليم – مجموعة الثمانية.

(2) إليك الجدول التالي يبيّن مساهمة الأقطاب الكبرى في التجارة الدولية:

الصادرات	النسبة العالمية	الواردات	النسبة العالمية
782مليار	12.3%	1258مليار	18.9%
2239مليار	36.23%	2245مليار	34.64%
459مليون	7.22%	342مليون	5.13%

المرجع الاقتصاد العالمي 2005 م الوحدة دولار.

أ- مثّل نسب الصادرات والواردات بواسطة أعمدة بيانية. 1 سم ← 5 - 1 سم ← عمود

ب- علّق على الجدول.

(3) عيّن على الخريطة المرفقة الشكل (2) دولتين من النّمور ودولتين من التّينينات.

### الجزء الثاني: (04 نقاط)

إذا كان الهند يمتاز ببساطة الوسط الطبيعي، فإنّ الحكومة الهندية ترفع تحديًا صعبًا في عملية التّكثيف بين الوسط السّكاني الكثيف والمعقّد بين السياسة التّنموية وأهدافه.

### التّعليم:

انطلاقا من الفقرة واعتمادا على ما درست ومكتسباتك القبلية، أكتب مقالا جغرافيا تبين فيه:

(1) سياسة التّنمية في الهند.

(2) أهمّ المفارقات التي تعرفها الهند.

انتهى الموضوع الأوّل

## الموضوع الثاني

### التاريخ:

#### الجزء الأول: (06 ن)

(1) عرّف المصطلحات التالية:

الحلف الأطلسي . سياسة المشاريع . الدبلوماسية – الثورة الزراعية .

(2) عرف الشخصيات التالية:

جوزيف بروز تيتو . بن يوسف بن خدة . نيقولا بولغانين .

(3) أكمل الجدول التالي:

الحدث	طبيعته
1956/07/26م	.....
.....	وصول ديغول إلى الحكم
1991/12/25م	.....
1962/03/19م	.....

(4) وقّع على الخريطة المرفقة (الشكل 03) مشاريع التقسيم الفرنسية للجزائر (1957م - 1961م)

### الجزء الثاني: (04 نقاط)

"إنّ من أهم عوامل ظهور النظام الدولي الجديد وانتهاء الحرب الباردة هو سقوط الاتحاد السوفياتي"

ÉCOLE PRIVÉE

المطلوب:

انطلاقا من الفكرة واعتمادا على مكتسباتك القبلية، أكتب مقالا تاريخيا تبين فيه ما يلي:

أ- الأسباب الدّاخلية لسقوط الاتحاد السوفياتي.

ب- أثر ذلك على دول العالم الثالث.

## الجغرافيا:

### الجزء الأول: (06 نقاط)

#### (1) عرّف المصطلحات التالية:

القطب الاقتصادي – العولمة – التنمية المستدامة – الموارد الطبيعية.

(2) إليك الجدول الذي يمثّل صادرات الصين نحو العالم سنة 2002 م.

المنطقة	الو.م.أ	أوروبا	آسيا	باقي الدول
النسبة %	21.5 %	18.2 %	37.5 %	22.5 %

#### أ- المطلوب:

مثّل أرقام الجدول بواسطة دائرة نسبية نقّ = 3 سم.

ب- علّق على الجدول.

(3) على الخريطة المرفقة (الشكل 04) وقّع عليها الدول الموقعة على معاهدة روما 1957 م.

### الجزء الثاني: (04 نقاط)

تعدّ دول الجنوب المتخلفة ضحيّة الواقع الاقتصادي العالمي الذي وضعته الدول الكبرى، التي لازالت تحاول جاهدة الخروج منه وتغييره من أجل الخروج من دائرة الهيمنة.

#### المطلوب:

اعتمادا على العبارة وعلى ما درست ومكتسباتك القبلية، حرّر مقالا جغرافيا تبين فيه ما يلي:

(1) أثر الواقع الاقتصادي العالمي على دول الجنوب.

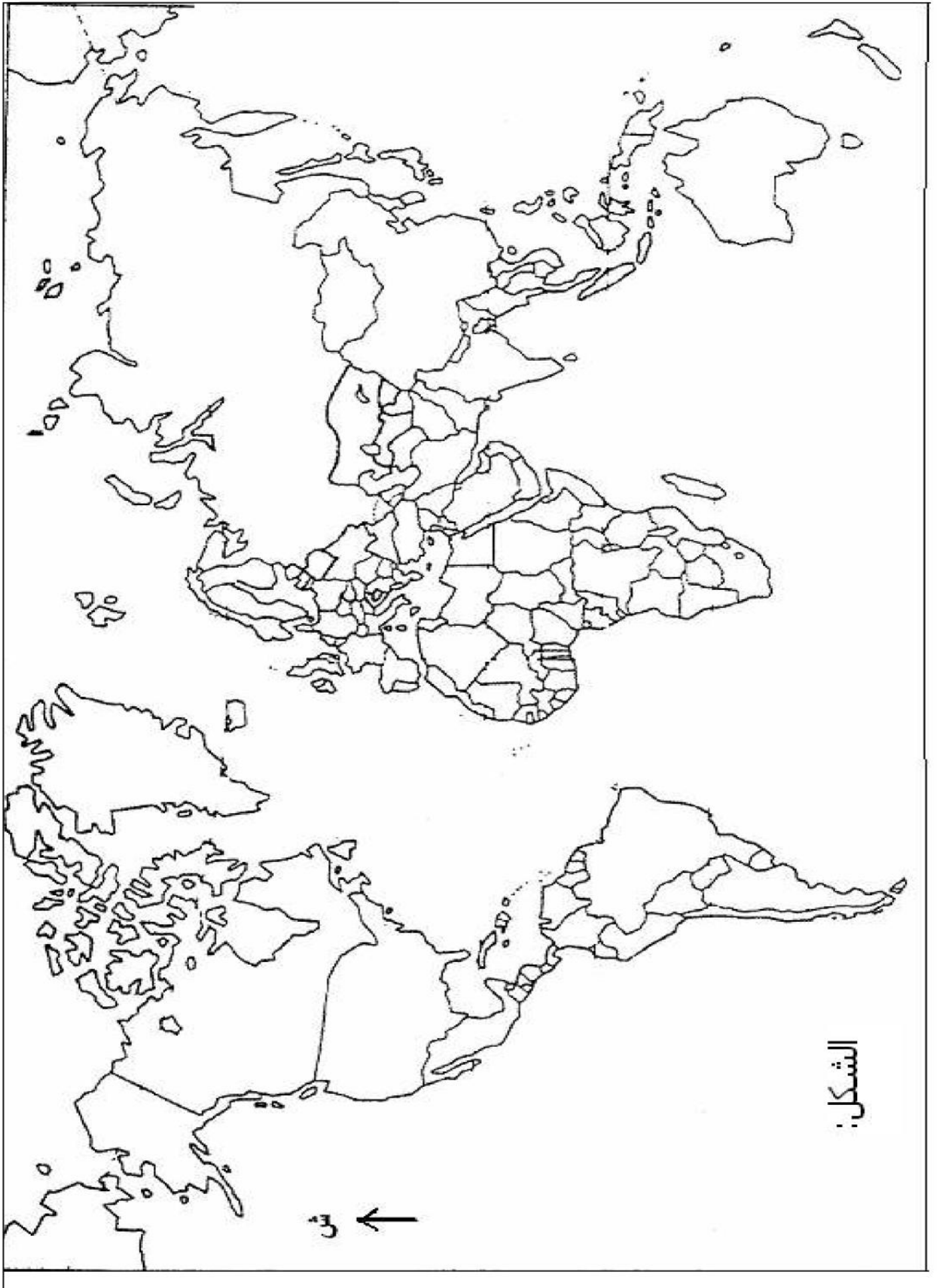
(2) الحلول المقترحة للخروج من هذا الواقع.

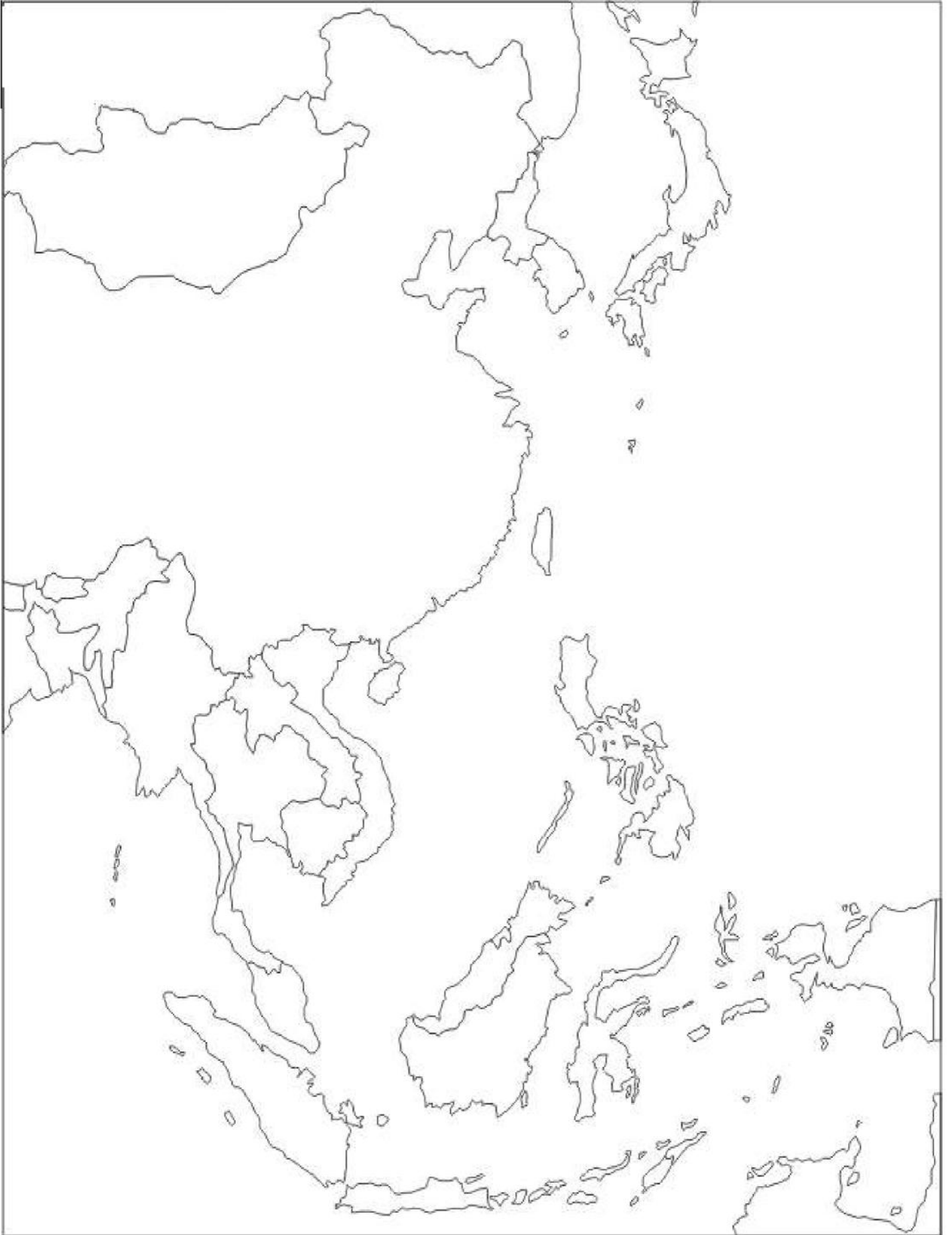
Ecole Erradja wa Talabouk  
ÉCOLE PRIVÉE

انتهى الموضوع الثاني

بالتّوفيق للجميع

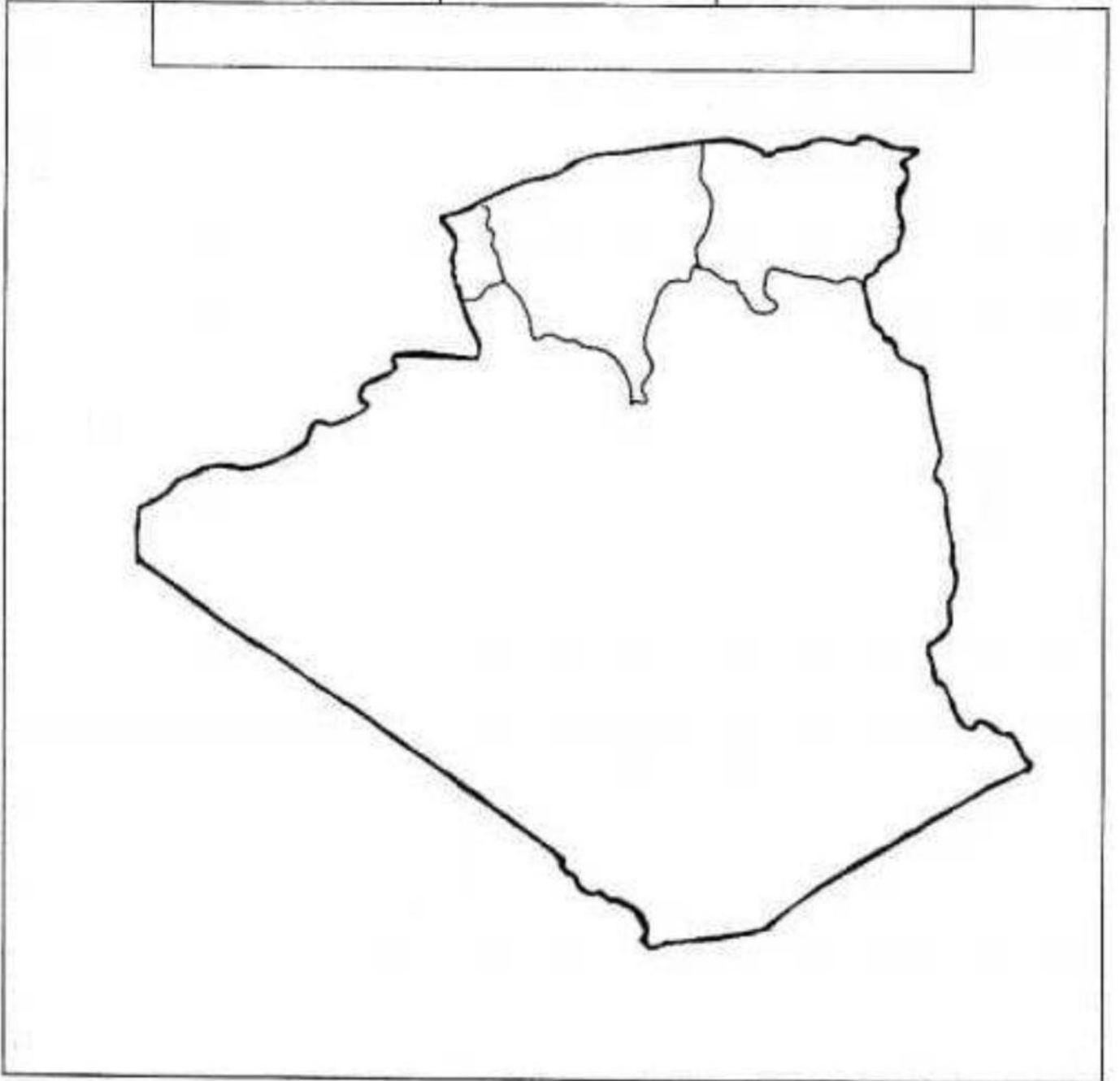






الاسم واللقب:

خريطة الجزائر



التاريخ: 2022/05/18

المدة: 03 س و 30 د

المادة: تاريخ وجغرافيا

المستوى: 3 ت إ

## تصحيح امتحان البكالوريا التجريبي

### الموضوع الأول:

### التاريخ:

### الجزء الأول:

العلامة	عناصر الإجابة	المحاور
0.5	الاستعمار التقليدي: هو القائم على استخدام الحملات العسكرية لتحقيق الهيمنة التامة ونهب ثروات المستعمرات واستغلال شعوبها.	تعريف المصطلحات
0.5	حركة عدم الانحياز: تنظيم سياسي تأسس على إثر مؤتمر بلغراد في سبتمبر 1961 تضم الدول حديثة الاستقلال التي اختارت سياسة الحياد الإيجابي وعدم الميل لأي من المعسكرين المتصارعين في إطار الحرب الباردة.	
0.25	الاستقلال: جلاء المستعمر واسترجاع السيادة الوطنية والاعتراف الدولي بسيادة دولة ما.	
0.5	الإمبريالية: هيمنة اقتصادية وعسكرية وثقافية وسياسية لدولة أو عدة دول على دولة أو عدة دول، ونهب وثرواتها وهي صورة أخرى للاستعمار التقليدي.	
0.5	الجنرال فونغوين جياب (1912-): بطل عسكري فيتنامي حارب اليابانيين ثم الفرنسيين وانتصر عليهم في معركة ديان بيان فو وهو أحد أصدقاء والمقربين من هوشي منه عرف بعبقريته في حرب العصابات وتحرير الفيتنام من الأمريكان.	الشخصيات
0.5	محمد علي جناح: (1876. 1948) مناضل وسياسي باكستاني ناضل لتحرير شبه القارة الهندية من الوجود البريطاني إلى جانب غاندي ونهرو من أجل إقامة دولة مستقلة للهند المسلمين عن الهندوس أول رئيس لباكستان منذ استقلالها 1947.	طبيعة
0.5	رونالد ريغن (1911. 2004): الرئيس الـ 40 للولايات المتحدة (1981. 1989) انتهج سياسة متشددة اتجاه السوفييت، في 1983 أطلق ما عرف بمبادرة الدفاع الاستراتيجي ضد الاتحاد السوفييتي - حرب النجوم.	التواريخ



التعيين على الخريطة	<p>راجح بيطاط (1925-2000): ناضل في صفوف حركة الانتصار للحريات الديمقراطية عضو في اللجنة الثورية للوحدة والعمل وهو عضو في مجموعة 22 ومجموعة 9 اعتقل سنة 1955 وبعد وقف إطلاق النار أطلق سراحه تولى رئاسة المجلس الشعبي الوطني إلى غاية 1990</p> <p>05\01\1957: مشروع إيزنهاور . 28/01/1957-02/04: إضراب ثمانية أيام.</p> <p>08/02/1958: قصف ساقية سيدي يوسف 09/11/1989: سقوط جدار برلين</p> <p>الأزمات الدولية: أزمة برلين بألمانيا - أزمة السويس بمصر- أزمة الكوريتين - أزمة كوبا</p> <p>العنوان: - 0.25. الانجاز: - 01.</p>
---------------------	---

الجزء الثاني

المحاور	عناصر الإجابة	العلامة
مقدمة	<p>أن الظروف السائدة إقليميا و محليا كانت مواتية لإعلان الثورة الجزائرية التي كانت انطلاقتها في 01 نوفمبر 1954 ،إلا أنها واجهت العديد من الصعوبات عند انطلاقتها فيما تمثلت ظروف قيامها الإقليمية و المحلية؟و الصعوبات التي واجهتها؟</p> <p><b>1 - الظروف التي ساعدت على اندلاعها :</b></p> <p>أ- الظروف الإقليمية:</p> <ul style="list-style-type: none"> <li>✓ استقلال العديد من الدول العربية ( سوريا، لبنان، مصر.... ) .</li> <li>✓ العمل المسلح في تونس و المغرب الأقصى</li> <li>✓ الدعم العربي للحركات التحررية خاصة ليبيا و مصر</li> <li>✓ ظهور منظمات إقليمية (جامعة الدول العربية)</li> </ul> <p>ب- المحلية:</p> <ul style="list-style-type: none"> <li>✓ أساليب الاستعمار</li> <li>✓ فداحة الخسائر البشرية في 08/05/1945</li> <li>✓ فشل الإصلاحات الفرنسية</li> <li>✓ انعكاسات أزمة حركة الانتصار للحريات الديمقراطية.</li> </ul>	0.5
العرض	<p><b>2- الصعوبات التي واجهت الثورة:</b></p> <ul style="list-style-type: none"> <li>✓ صعوبة إقناع الشعب و الرأي العام العالمي بشرعية الثورة.</li> <li>✓ مشكل التموين بالأسلحة و الأموال.</li> <li>✓ صعوبة الاتصال و التنسيق بين قادة المناطق.</li> <li>✓ الرد العسكري الفرنسي العنيف و الحصار المفروض على الثورة خاصة لأوراس</li> <li>✓ الحرب النفسية و الإعلامية الفرنسية ضد الثورة و الثوار .</li> <li>✓ عدم وجود مؤسسات و تنظيمات لتسيير الثورة.</li> </ul>	01.5
الخاتمة	<p>رغم الصعوبات التي واجهتها الثورة في بدايتها إلا أنها استطاعت أن تحقق نجاحات كبيرة على الاستعمار الفرنسي ،اقتنع الشعب بحتمية الثورة، خاصة بعد هجومات الشمال القسنطيني و مؤتمر الصومام.</p>	0.5

العلامة	عناصر الإجابة	المحاور
0.5	مجموعة التبادل الحر ALENA: اتفاقية تجمع الو.م.أ وكندا والمكسيك تقضي برفع الرسوم الجمركية بينهما 1994.	تعريف
0.5	الاستقطاب: عملية جذب وإغراء للإفراد الاستثمارات أو الشركات نحو دولة أو منطقة أو مدينة ما بسبب الفوائد والخدمات والضمانات والحماية الممنوحة.	المصطلحات
0.5	تنظيم الإقليم (التهيئة الإقليمية): هو عبارة عن هيكلة للمظاهر الجغرافية والبشرية والاقتصادية على مستوى الإقليم أي بوضع خطة تأخذ بعين الاعتبار الظروف والإمكانيات الطبيعية والموارد البشرية والاقتصادية التي تتوفر عليها الإقليم.	التعليق على الجدول
0.5	مجموعة الثمانية: هي الدول الأكثر تصنيعا في العالم تأسست سنة 1975 تضم فرنسا، ألمانيا، إيطاليا، بريطانيا، الولايات المتحدة، كندا واليابان، ثم روسيا في التسعينات تعقد هذه الدول اجتماعات دورية كل سنة لبحث قضايا اقتصادية، سياسية...	
1.5	العنوان: 0.25 الانجاز: 01 المقياس + المفتاح 0.5	
1	* معظم المبادلات تقدر بمئات المليارات عدا اليابان.. * ضخامة نسبة المبادلات للأقطاب الثلاث * نسبة المبادلات الاتحاد مرتفعة نتيجة سياسة التكتل.	التحديد على الخريطة
1.5	* ضخامة الإنتاج وتوفر الإمكانيات للأقطاب الثلاث. تعيين دولتين من التينينات: /كوريا.ج / سنغافورة. دولتين من النمرور الفلبين - اندونيسيا العنوان: 0.25. الانجاز: 01 المفتاح 0.25	

العلامة	عناصر الإجابة	المحاور
0.5	<p>. تعرف دولة الهند ببلد التناقضات إذ تعد القوة الاقتصادية العاشرة عالميا وفي المقابل تشهد نموا ديمغرافيا كبيرا إضافة إلى الفقر والتخلف ... فما هي سياستها التنموية؟ وفيما تتمثل أهم التناقضات التي تعرفها؟</p> <p><b>1- سياسة التنمية في الهند:</b></p> <p>1- بعد استقلالها سنة 1947 ----- النظام الاشتراكي</p> <p>2- بعد تصدع المعسكر الشيوعي تبني الهند نظام اقتصاد السوق أي تشجيع القطاع الخاص و الاستثمار الأجنبي مما أسهم في تضاعف نسبة النمو الاقتصادي إلى أكثر من 9.9 % سنة 2009 و تقوم السياسة التنموية في الهند على الأسس التالية :</p> <p>📌 تصنيع البلاد من خلال تطوير الصناعة الاستخراجية والتحويلية (الأسلحة والأجهزة والمعدات التكنولوجية)</p> <p>📌 تطوير البحث العلمي والتركيز على المجالات الإستراتيجية (المفاعلات النووية – الأقمار الصناعية – المعلوماتية)</p> <p>📌 العمل على تحقيق الاكتفاء الغذائي بانتهاج سياسية زراعية شعارها الثورة الخضراء بداية من 1965: أي إصدار قانون الإصلاح الزراعي والذي يهدف إلى:</p> <p>👍 الحد من احتكار الإقطاعيين والوسطاء للأراضي الزراعية وتنظيم عملية كرائها.</p> <p>👍 تنشيط الحياة في الريف- الاستصلاح العمودي والاستصلاح الأفقي</p> <p><b>Ecole Erradia wa Tafaouk</b></p> <p>👍 تأميم 6 م هـ وتوزيعها على من 20 مليون فلاح.</p> <p>👍 استخدام المكننة والأسمدة والمبيدات.</p> <p>توظيف التكنولوجيا الحديثة والبحث العلمي لتحسين نوعية البذور وطرق التهجين</p>	مقدمة
01.5	<p><b>2. أهم التناقضات التي تعرفها الهند:</b></p> <p>✓ اتساع مجال الأمية من جهة (أكبر دولة من حيث عدد الأميين في العالم 48% سنة 2005م) في حين تمتلك أكبر عدد من الكفاءات العلمية في العالم (قراءة 2 مليون مهندس وأكثر من 60 مليون من مستخدمي الانترنت).</p> <p>✓ التناقض بين المنشآت العمرانية المتطورة منها والمتدهورة.</p> <p>✓ التطور في مجال الصحة، وع ذلك انتشار الأمراض والأوبئة الفتاكة وسوء التغذية وانتشار ظاهرة الفقر حيث تحتل الهند المرتبة 20 ضمن الدول الأكثر فقرا في العالم</p>	العرض

0.5	<p>✓ التناقض بين التطور العالمي والاعتقادات الدينية.</p> <p>✓ ضخامة الاستثمارات المالية الضخمة في الخارج، والتخلف الصناعي وعدم تحقيق الاكتفاء الذاتي.</p> <p>✓ الاهتمام بمجالات صناعة المفاعلات النووية و البحث العلمي (أكبر دولة في العالم في عدد الباحثين الفيزيائيين) ، وانتشار الفقر المدقع و التخلف الواضح .</p> <p>ضخامة الإنتاج الزراعي واحتلالها مراتب عالمية إلا أنها تبقى مهددة في أمنها الغذائي</p> <p>إن الهند وعلى الرغم من تناقضاتها الاجتماعية والاقتصادية الصارخة حيث تقف مظاهر الثراء و التقدم التكنولوجي جنباً إلى جنب مع مظاهر التخلف و الفقر المدقع أو من حيث تقاليدها السياسية التي تتسم بالتسلط أكثر مما تتسم بالديمقراطية إلا أنها نجحت في بناء أكبر ديمقراطية خارج العالم الغربي بل هي مرشحة لأن تكون النمر الآسيوي القادم في القرن الواحد و العشرين.</p>	خاتمة
-----	---	-------

الموضوع الثاني:

التاريخ: الجزء الأول

العلامة	عناصر الإجابة	المحاور
0.5	<p>- الحلف الأطلسي: (الناتو) تأسس في 1949/04/04 بواشنطن يضم الدول - الغربية الرأسمالية- بزعامة الوم أ ويهدف إلى مواجهة القوى والأفكار الشيوعية وضرب الحركات التحررية.</p> <p>- سياسة المشاريع: ظهرت أثناء الحرب الباردة تمثلت في سعي كل طرف إلى احتواء واستقطاب أكبر عدد من الدول في إطار مواجهة للمعسكر الآخر منها مبدأ ترومان، مشروع مارشال، ومشروع أيزنهاور ورد عليها الاتحاد السوفييتي بجملة من المشاريع المماثلة الكومنفرم ، ومبدأ جdanوف ومنظمة الكوميكون .</p>	تعريف المصطلحات
0.5	<p>- الدبلوماسية: مجموعة القواعد والأعراف والمبادئ الدولية التي تهتم بتنظيم العلاقات بين الدول والمنظمات، كما تطلق على الأشخاص الذين لديهم القدرة على الإقناع</p>	
0.5	<p>- الثورة الزراعية: 1971/11/08 عملية تنمية كبرى استهدفت تطوير الزراعة وتنمية وتحديث الريف، وتقديم خدمات متنوعة لأبناء الريف.</p>	
0.5	<p>- جوزيف بروز تيتو: (1892-1980) مارشال ورجل دولة قاوم الاحتلال الألماني ومؤسس دولة يوغسلافيا 1945، وأحد الأقطاب المؤسسين لحركة عدم الانحياز.</p>	الشخصيات
0.5	<p>- بن يوسف بن خدة: (1923-2003): عضو قيادي في حركة انتصار الحريات الديمقراطية التحق بالثورة وأصبح رئيسا للحكومة المؤقتة (1960 – 1962) انسحب بعد الصراع على السلطة سنة 1962.</p> <p>- نيقولا بولغانين: (1895-1975) قائد عسكري روسي ووزير الدفاع سنة 1953 ورئيس الوزراء (1955-1958) وأحد القيادة الثلاثية (الترويك) التي جاءت بعد وفاة ستالين</p>	

0.5	1956/07/26 تأميم قناة السويس 1991/12/25: زوال دولة الاتحاد السوفياتي 1962/03/19 تكوين الحكومة الجزائرية المؤقتة 1958/06/1 وصول ديغول للحكم في فرنسا	طبيعة
0.5	توقع على الخريطة مشاريع التقسيم الفرنسي للجزائر (1961- 1957) العنوان: —0.25. الانجاز: —1.25. المفتاح —0.25	التواريخ

### الجزء الثاني

العلامة	عناصر الإجابة	المحاور
0.5	إن اختلال التوازن بين المعسكرين عجل بانهيار المعسكر الشيوعي وانفراد الولايات المتحدة الأمريكية بقيادة العالم	مقدمة
1.5	ما هي أسباب الداخلية لسقوط الاتحاد السوفياتي. وما أثر ذلك على دول العالم الثالث؟ <u>1- أسباب الداخلية لسقوط الاتحاد السوفياتي للأسباب التالية:</u>	العرض
1.5	- اتساع المساحة وصعوبة التنمية وتعدد القوميات 32 قومية - فشل التسيير الاشتراكي والركود الاقتصادي وغياب الديمقراطية - ضخامة نفقات التسليح والتدخلات العسكرية - ضعف حلفائه والاعتماد عليه - فشل إصلاحات غورباتشوف (البروسترويك الغلاسنوست) - دور الوم أ والمعسكر الغربي في حصاره وإثارة المعارضة داخله ودعمها - دور الإعلام الغربي وتأثير الفاتيكان <u>2- أثر ذلك على دول العالم الثالث</u>	
0.5	✓ ازدياد الهيمنة الأمريكية ✓ فرض نظام دولي جديد بمنظور أمريكي ✓ استخدام الهيئات والمنظمات الدولية ضد مصالح العالم ✓ ممارسة الضغوط والتدخل في شؤون العالم الثالث. ✓ كثرة الأزمات والوطنية والإقليمية. بفضل سقوط المعسكر الشرقي أصبحت الولايات المتحدة الأمريكية المهيمن الوحيد على العالم مما انعكس سلبا على العلاقات الدولية.	الخاتمة



العلامة	عناصر الإجابة	المحاور
0.5	<p>- القطب الاقتصادي: هو مركز يمثل نقطة قوة ونشاط اقتصادي كثيف لتوفره على جميع الشروط (بنية تحتية، رؤوس أموال، تكنولوجيا) التي تمكنه من إن يساهم في تفعيل الحركية الاقتصادية ويتفاعل وينافس قطب أو أقطاب أخرى</p> <p>– العولمة: العولمة تعني عالمية السوق إنتاجا واستهلاكاً على حد سواء وهي تتعارض مع الاقتصاد الوطني ومع مبدأ السيادة الوطنية للدول. وتعتبر الشركات متعددة الجنسيات والمؤسسات المالية العالمية أكبر من يقف من وراء العولمة.</p>	تعريف
0.5	<p>– التنمية المستدامة: هي الاستغلال الأمثل للموارد الطبيعية والبشرية المتاحة بشكل متوازن اقتصادياً واجتماعياً بما يضمن تلبية حاجيات الأجيال الحالية والأجيال المقبلة بصورة مستمرة مع الحفاظ على البيئة</p>	المصطلحات
0.5	<p>– الموارد الطبيعية: هي جميع الثروات السطحية والباطنية مثل المعادن والبتروول والتربة والغابات التي تنمو بشكل تلقائي والتي يمكن إن تتحول إلى ثروة فعلية على هيئة سلع أو خدمات أو غيرها.</p>	التمثيل
0.5	<p>العنوان: 0.25. المقياس: 0.25.</p> <p>المفتاح: 0.25.</p>	بالاعمد
1.75	<p>الانجاز: 0.01.</p> <p>التعليق</p> <p>-أكثر صادرات الصين نحو اسيا</p> <p>-تتعامل الصين مع الو.م.ا بنسة عالية مقارنة مع دول العالم واوروبا</p> <p>تتعامل الصين مع اوربا بنسبة 18.٪. لوجود شراكة بينهما</p> <p>معظم صادرات الصين من المواد الالكترونية</p> <p>الدول الموقعة على معاهدة روما 1957 فرنسا. ايطاليا. ألمانيا الغربية. بلجيكا. هولندا. لوكسمبورج.</p>	التوقيع على الخريطة
01	<p>لعنوان: 0.25. الانجاز: 0.01.</p>	

المحاور	عناصر الإجابة	العلامة
مقدمة	<p>إن الواقع الاقتصادي العالمي فرض على دول الجنوب البقاء في دائرة الهيمنة المباشرة وغير المباشرة للدول الكبرى، الأمر الذي أثر سلبا على التنمية وكرس التخلف في هذه الدول فما هي آثار الواقع الاقتصادي على دول الجنوب؟ وما هي الحلول للخروج من هذا الواقع؟</p> <p>1- أثر الواقع الاقتصادي على دول الجنوب:</p>	0.5
العرض	<p>❖ أصبح سوق استهلاكية واسعة لمنتجات الدول الكبرى.</p> <p>❖ التبعية المفرطة للعالم المتقدم.</p> <p>❖ استغلال واستنزاف ثروات دول الجنوب.</p> <p>❖ فقدان السيادة في اتخاذ القرارات.</p> <p>❖ كثرة الاضطرابات والحروب واللا استقرار في جميع المجالات.</p> <p>❖ اتساع وتفشي التلوث الأسود.</p> <p>2- الحلول لتغيير الواقع:</p> <p>❖ حسن استغلال الموارد.</p> <p>❖ اعتماد إستراتيجية مشتركة اقتصاديا والتكتل في وجه الدول الكبرى.</p> <p>❖ تفعيل التعاون جنوب - جنوب.</p> <p>❖ دعم البحث العلمي وعصرنة وتحديث التسيير.</p> <p>❖ العمل على تغيير قواعد النظام الاقتصادي.</p> <p>❖ إرساء قواعد تنموية متينة من خلال الإمكانيات المتاحة.</p>	1.5 1.5
خاتمة	<p>تمتلك دول الجنوب إمكانيات ضخمة جدا تمكنها من تجاوز واقعها المزري إذا ما استغلت بشكل عقلاني.</p>	0.5

### علاقة الاستعمار بظاهرة التخلف

\*نهب ثروات الشعوب

\* تجهيل الشعوب

\* منع الشعوب من التعلم

\* ربط اقتصاد العالم الثالث باقتصادها

\*احتكار التكنولوجيا

\*النظام الاقتصادي العالمي الذي وضع غداة الحرب العالمية الثانية

الصادرات: هي المواد والسلع التي تباع خارج الحدود الوطنية في الأسواق الدولية.

البترول

2 - أثره في اقتصاديات دول الأوبك

- مصدر العملة الصعبة.

- مصدر لتمويل المشاريع الاقتصادية.

- مصدر لتغطية الواردات من المواد الغذائية.

- مصدر لتمويل المشاريع الاجتماعية.

- مصدر لتحقيق فائض في الميزان التجاري

أ- الدور الاقتصادي:

- مصدر أساسي للدخل القومي بالنسبة لكثير من دول العالم.

- يمثل العمود الفقري بالنسبة لاقتصاديات بعض الدول كالكويت مثلا.

- مادة أولية لكثير من الصناعات.

- مصدر أساسي للطاقة.

- مادة تجارية أساسية في سوق المبادلات التجارية العالمية.

- تأثر السياسة التنموية للدول المصدرة بسبب تذبذب الأسعار.

ب - الدور السياسي:

- أداة ضغط سياسية في يد الدول المنتجة (حرب 1973).

- مصدر لكثير من الصراعات والنزعات الإقليمية والدولية.

