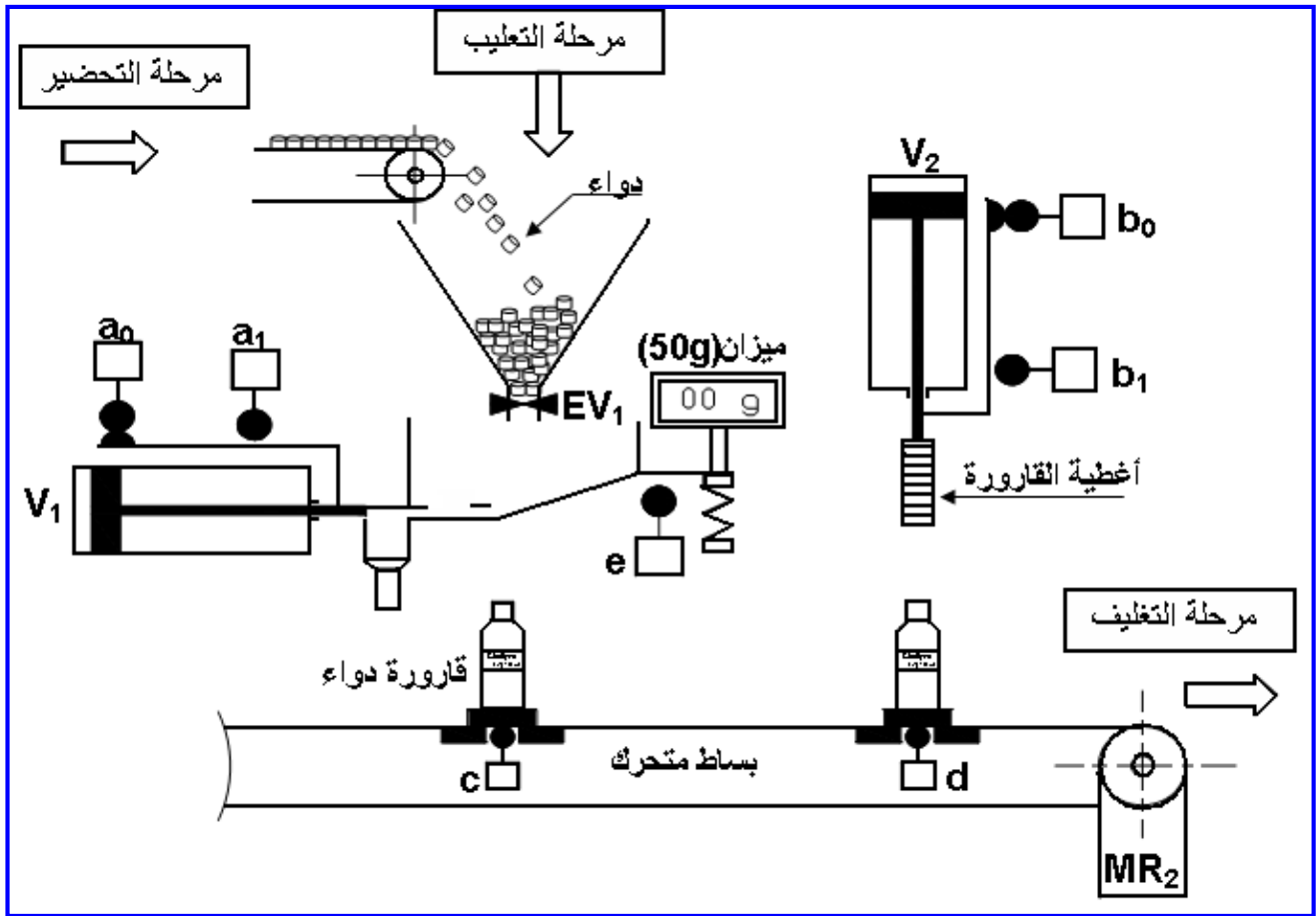


الاختبار الأول

السنة الثالثة تقني رياضي هندسة ميكانيكية

نظام آلي لمعايرة وتعبئة الدواء



.....: اللقب :

.....: الإسم :

.....: النقطة:

.....: الملاحظات:

الاختبار الأول في مادة التكنولوجيا

{ هندسة ميكانيكية }

الموضوع : نظام آلي لمعايرة و تعبئة الدواء

يحتوي ملف الدراسة على جزئين :

1- الملف التقني : الوثائق { 8\1 ، 8\2 ، 8\3 ، 8\4 ، 8\5 } .

2- ملف الإجابة : الوثائق { 8\6 ، 8\7 ، 8\8 } .

1- الملف التقني

1-1- وصف وتشغيل : (الوثيقة 8\2)

يقوم هذا النظام بمعايرة و تعبئة قارورات الدواء حسب المراحل التالية :

- المرحلة الأولى : التحضير .
- المرحلة الثانية : التعليب .
- المرحلة الثالثة : التغليف .

2-1- منتج محل الدراسة :

نقترح دراسة محرّك مخفّض MR_2 الذي يشتغل بمحرك كهربائي (الصفحة 8\3) .

3-1- معطيات تقنية :

استطاعة المحرّك : $P = 2,4 \text{ Kw}$ ، $N = 1000 \text{ tr / mn}$

المتسّنات الاسطوانية ذات أسنان قائمة : { (7), (6) } :

المقياس التناسبي (الموديول) : $m = 2 \text{ mm}$ ، $a = 58 \text{ mm}$ ، $d_6 = 32 \text{ mm}$

المتسّنات المخروطية ذات أسنان قائمة : { (8), (4) } :

المقياس التناسبي : $m = 2.5 \text{ mm}$ (الموديول) ، $Z_8 = 70$ ، $d_4 = 35 \text{ mm}$

4-1- سير الجهاز : (الوثيقة 11\3)

تنقل الحركة الدورانية من المحرّك إلى البساط المتحرّك بواسطة مجموعة مسنّنات أسطوانية ذات أسنان

قائمة { (7), (6) } و مسنّنات مخروطية ذات أسنان قائمة : { (8), (4) } .

5-1- العمل المطلوب :

1-5-1- دراسة الإنشاء :

أ- تحليل وظيفي :

* أجب مباشرة على الوثائق 8\6

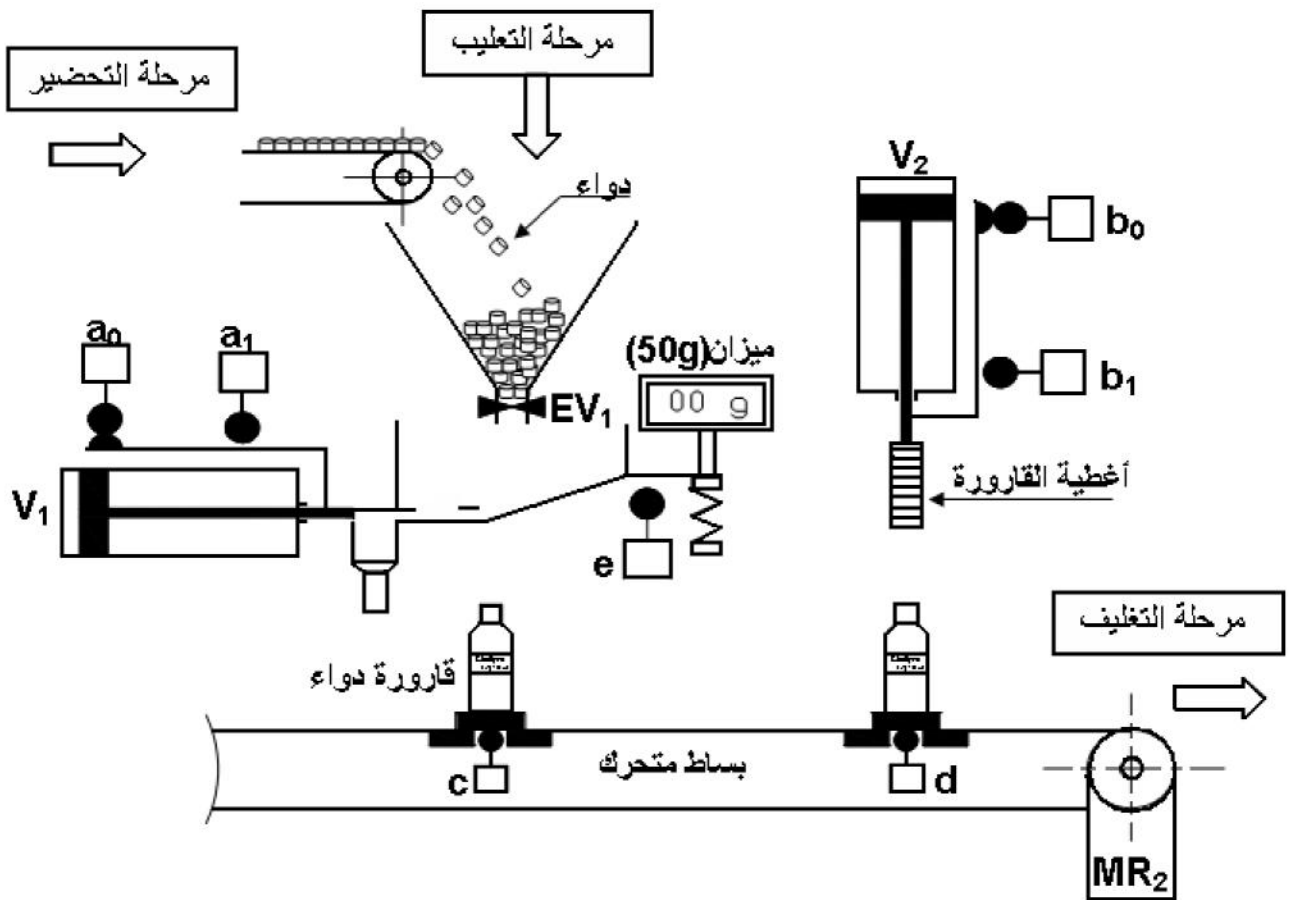
ب- تحليل بنيوي :

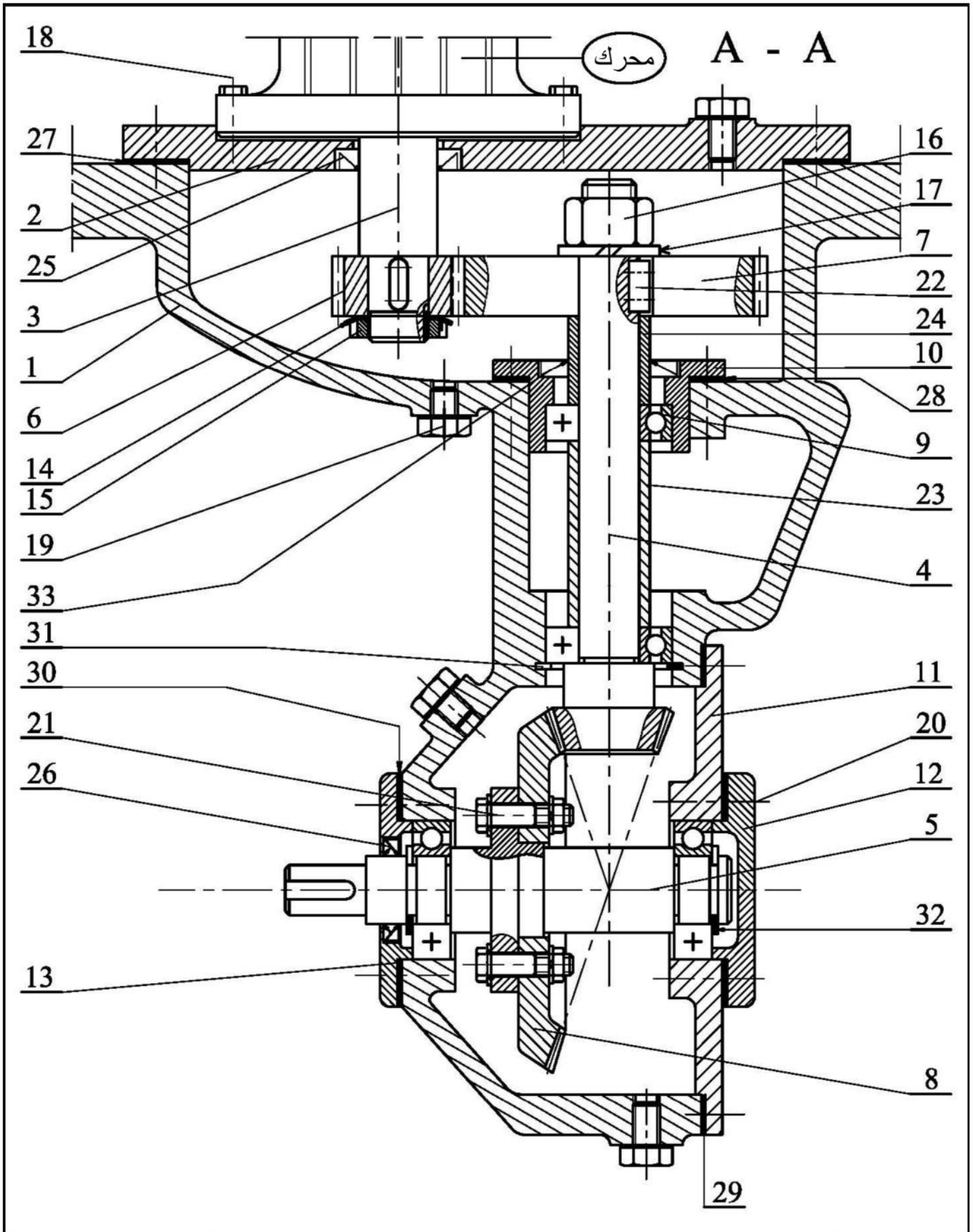
* دراسة تصميمية جزئية : أتمم الدراسة التصميمية الجزئية مباشرة على الوثيقة 8\7.

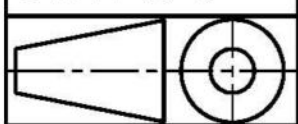
1-5-2- دراسة التحضير :

* دراسة الآليات : أجب مباشرة على الوثيقة 8\8 .

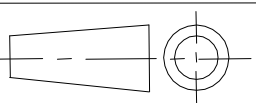
نظام آلي لمعايرة و تعبئة الدواء





مقياس : 2 : 3	<h2>محرك مخفض</h2>	الاسم	اللغة
		التاريخ	Ar
الصفحة 813			00



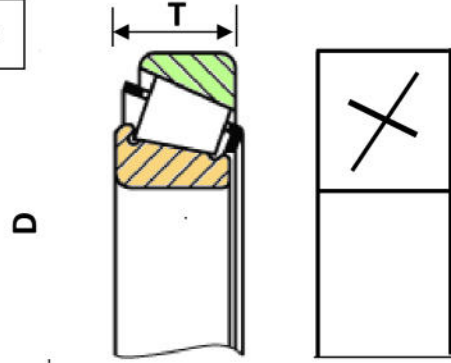
تجارة		فاصل الكتامة ذات شفة واحدة	1	33
تجارة		حلقة مرنة للأعمدة	1	32
تجارة		حلقة مرنة للأجواف	1	31
تجارة		فاصل الكتامة مسطح	1	30
تجارة		فاصل الكتامة مسطح	1	29
تجارة		سندات ضبط	1	28
تجارة		فاصل الكتامة مسطح	1	27
تجارة		فاصل الكتامة ذات شفتين	1	26
تجارة		فاصل الكتامة ذات شفة واحدة	1	25
	C 22	لجاف (خاتم)	1	24
	C 22	لجاف (خاتم)	1	23
تجارة		خابور متوازي شكل A	3	22
تجارة		لولب سداسي H	4	21
تجارة		برغي ذو رأس أسطواني بتجويف سداسي	6	20
تجارة	Cu Sn 12	براغي الملء و التفريغ	4	19
				18
تجارة		حلقة مشقوقة	1	17
تجارة		صامولة سداسية H	16	16
تجارة		صامولة ذات حوز طراز KM	1	15
تجارة		حلقة كبح طراز MB	1	14
	EN-GJL300	غطاء	1	13
	EN-GJL300	غطاء	1	12
	EN-GJL300	غطاء	1	11
	EN-GJL300	علبة	1	10
تجارة		مدرجة ذات كريات بتماس نصف قطري	4	9
	C 60	عجلة مسننة مخروطية	1	8
	C 50	عجلة مسننة	1	7
	25CrMo4	ترس	1	6
	30CrMo12	عمود خروج	1	5
	30CrMo12	عمود مسنن	1	4
	30CrMo12	عمود محرك	1	3
	EN-GJL300	غطاء	1	2
	EN-GJL300	هيكل	1	1
الملاحظات	المادة	التعيينات	الرقم العدد	
	محرك - مخفض	الإسم :	اللغة	11/4
		التاريخ :	Ar	
الصفحة 8/4				



ملف الموارد

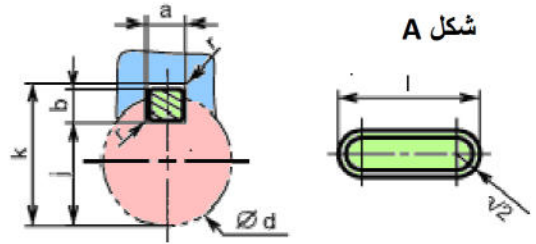
مدحرجات ذات دحاريح مخروطية طراز KB

d	D	T
17	40	13.25
20	47	15.25
25	52	16.25



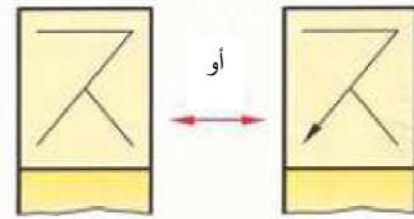
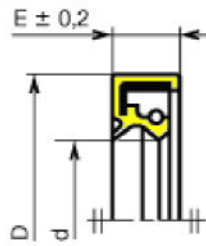
الخوابير المتوازية

d	a	b	s _{min}	j	k
17 à 22	6	6	0,25	d - 3,5	d + 2,8
22 à 30	8	7	0,25	d - 4	d + 3,3
30 à 38	10	8	0,4	d - 5	d + 3,3

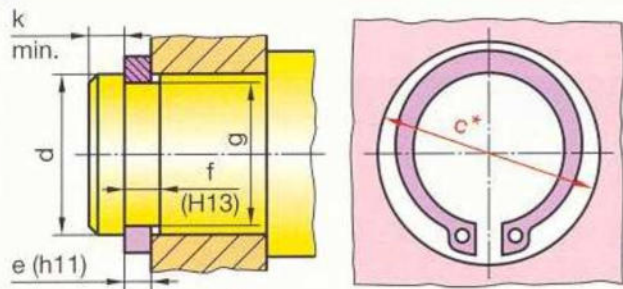


فاصل الكتامة ذات شفتين بإحتكاك نصف قطري طراز AS

d	D	E

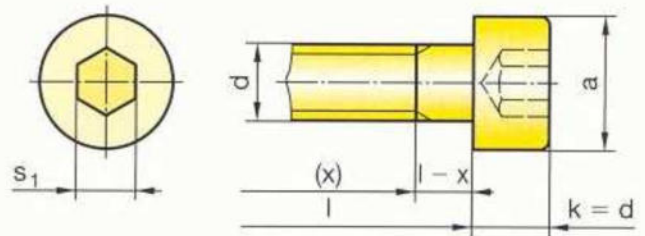


حلقات مرنة للأعمدة



d	e	c	f	g
17	1	25,6	1,1	16,2
20	1,2	29	1,3	19
22	1,2	31,4	1,3	21

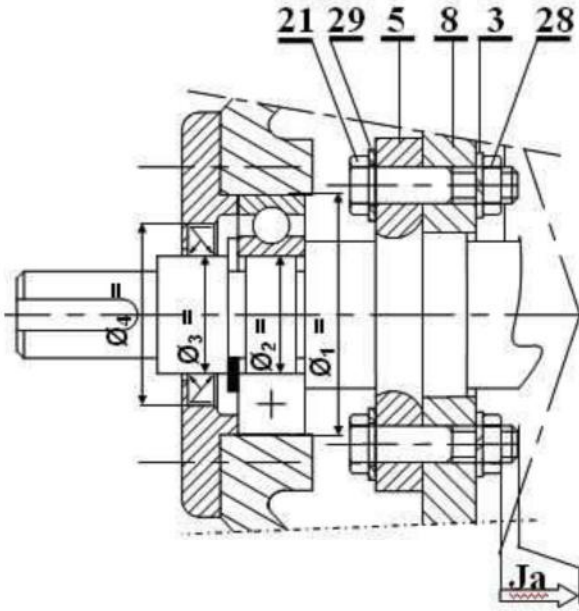
براغي أسطوانية بتجويف سداسي



d	a	s ₁
M3	5,5	2,5
M4	7	3
M5	8,5	4

1-5-1- دراسة الإنشاء :

- 4-التحديد الوظيفي للأبعاد :
 1-4- أنجز سلسلة الأبعاد الخاصة بالشرط " Ja " على الرسم التالي:
 2-4- سجل على الجدول التالي التوافقات المناسبة $\varnothing 10$ ، $\varnothing 20$ ، $\varnothing 30$ و $\varnothing 40$ الموجودة على الرسم التالي :



5- دراسة المتسنيات :

- 5-1 متسنيات أسطوانية ذات أسنان قائمة : { (6), (7) }
 أتمم جدول المميزات التالي :

a	r	Z	d	m	
58			32	2	(6)
					(7)

- 5-2 متسنيات مخروطية ذات أسنان قائمة : { (4), (8) }
 أتمم جدول المميزات التالي :

r	L	δ	z	d	m	
			70	35	2.5	(4)
						(8)

5-3- أحسب نسبة النقل الكلية r_g :

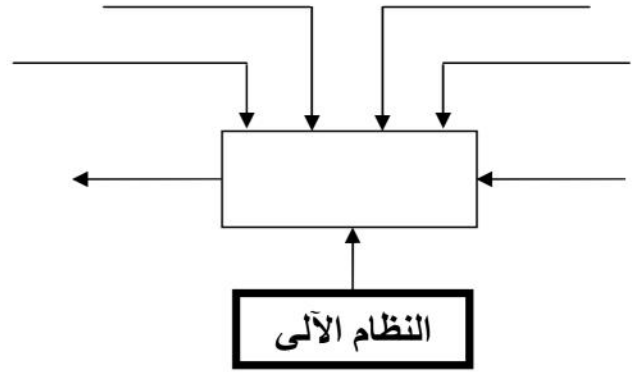
.....

5-4- أحسب سرعة الخروج N5 :

.....

أ- التحليل الوظيفي

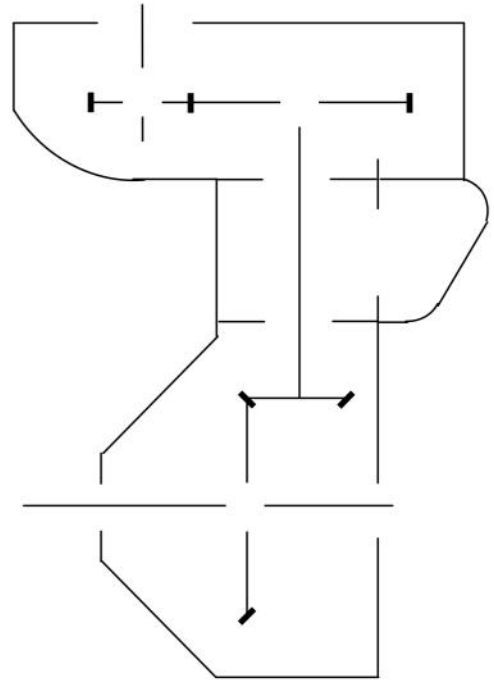
1- أتمم المخطط الوظيفي (A-0)



2- أتمم جدول الوصلات الحركية التالي :

القطع	اسم الوصلة	الرمز	الوسيلة
6 \ 3			
5 \ (11-1)			
(10-1) \ 4			
5 \ 8			

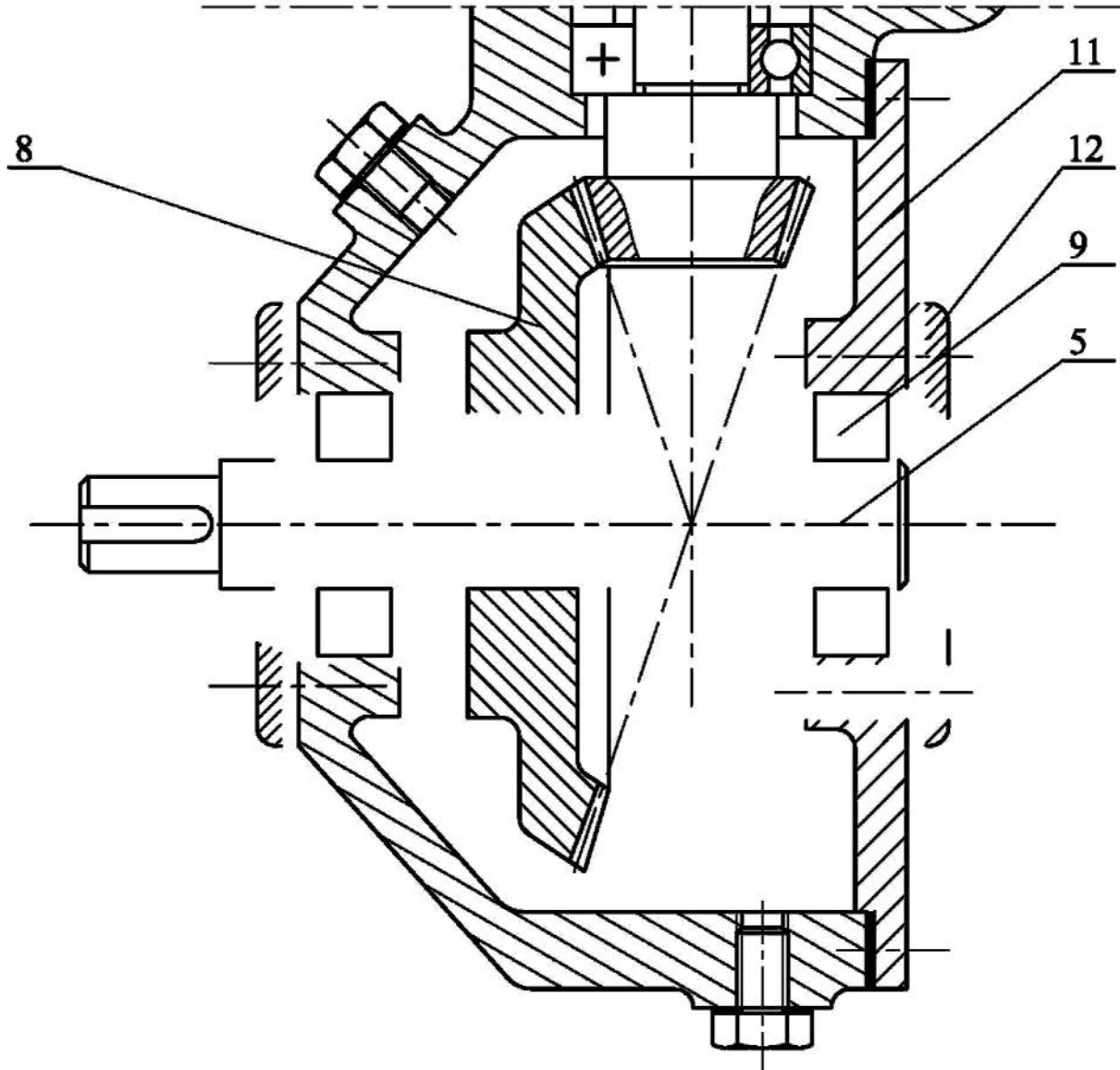
3 - أتمم الرسم التخطيطي الحركي للجهاز:



ب - الدراسة البنوية

الدراسة التصميمية الجزئية :

- ✓ تغيير الوصلة المتمحورة بين العمود (5) و الهيكل (1) بواسطة مدحرجات ذات دحاريح مخروطية .
- ✓ تغيير الوصلة الاندماجية بين العمود (5) و العجلة المسننة (8) بإستعمال خابور متوازي شكل A .
- ✓ تركيب الغطائين (12) و (13) :
- * وصلة اندماجية بواسطة براغي .
- * حماية الجهاز بإستعمال فاصل الكتامة ذات شفتين .



لمقياس 1 : 1



الصفحة 8\7

محرك مخفض

الاسم :

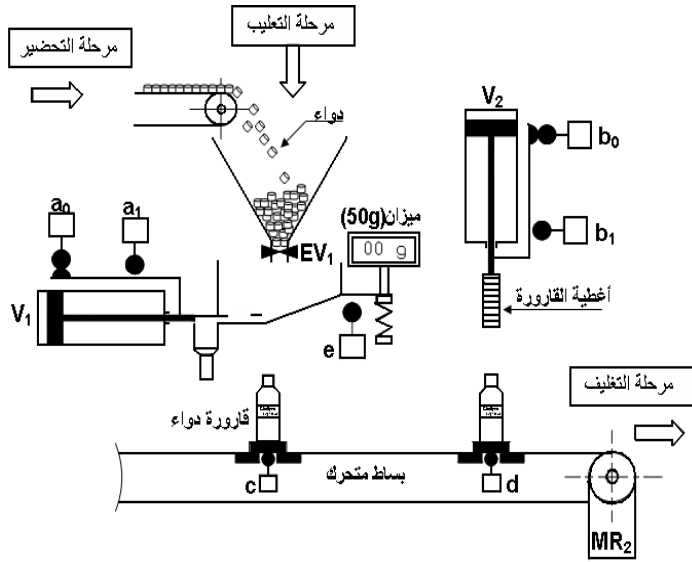
التاريخ :

اللغة

Ar

• دراسة الآليات

وصف و تشغيل :



عند وصول القارورة عند الملتقط "c" يفتح الصمام (EV₁) حتى تصل إشارة الوزن (50g) يتم الضغط على الملتقط "e" ، الذي يؤدي إلى غلق الصمام (EV₁) وخروج الدافعة (V₁) حتى الضغط على الملتقط "a₁". بعد مرور 10s ثواني تعود الدافعة (V₁) حتى الضغط على الملتقط "a₀" ، الذي يؤدي إلى دوران المحرك (M₂) إلى أن تلامس القارورة الملتقط "d" ، فيتم بذلك توقف المحرك MR₂ و نزول الدافعة (V₂) حتى الضغط على الملتقط "b₁" (وذلك لتحقيق غلق القارورة بغطاء) ، ثم تعود الدافعة (V₂) إلى أن تضغط على الملتقط "b₀" وبذلك تعاد الدورة .

المعطيات :

لدينا جدول الحقيقة لكل الدورة (الحالات الممكنة فقط) حيث تكون متغيرات الدخول a₀, a₁, b₀, b₁ ومتغيرات

الخروج V₂⁺, V₂⁻, V₁⁺, V₁⁻

المطلوب :

1- استخراج المعادلات المنطقية :

V₁⁺ =

V₁⁻ =

V₂⁺ =

V₂⁻ =

a ₀	a ₁	b ₀	b ₁	V ₁ ⁺	V ₁ ⁻	V ₂ ⁺	V ₂ ⁻
1	0	1	0	0	1	0	1
0	0	1	0	1	0	0	1
0	1	1	0	1	0	0	1
0	1	0	0	1	0	1	0
0	1	0	1	1	0	1	0
0	0	0	0	0	1	0	1

2- بسط المعادلة V₂⁺ بالطريقة الجبرية (جبر بول)

V₂⁺ =

.....

.....


4- أنشئ اللوجرام المناسب للمخرج V₁⁺ .

3- بسط المعادلة V₂⁻ باستعمال جدول كارنو

a ₀ a ₁ \ b ₀ b ₁	00	01	11	10
00				
01				
11				
10				

V₂⁻ =

عليكم وسبحنا الله وبيد كانه



بسم الله الرحمن الرحيم

بِسْمِ اللَّهِ الرَّحْمَنِ الرَّحِيمِ

الجمهورية الجزائرية الديمقراطية الشعبية

وزارة التربية الوطنية

ثانوية الحاج أحمد حطاب - بمدغوسة -



تصحيح الاختبار الثاني

نظام ألي لمعايرة وتعبئة الدواء



تحت إشراف الأستاذ :
علي شريف عمر



يحتوي ملف الدراسة على جزئيين :

•الملف التقني : الوثائق { 12\1 ، 12\2 ، 12\3 ، 12\4 ، 12\5 }.

•ملف الإجابة : الوثائق { 12\6 ، 12\7 ، 12\8 ، 12\9 ، 12\10 ، 12\11 ، 12\12 }.

الملف التقني:

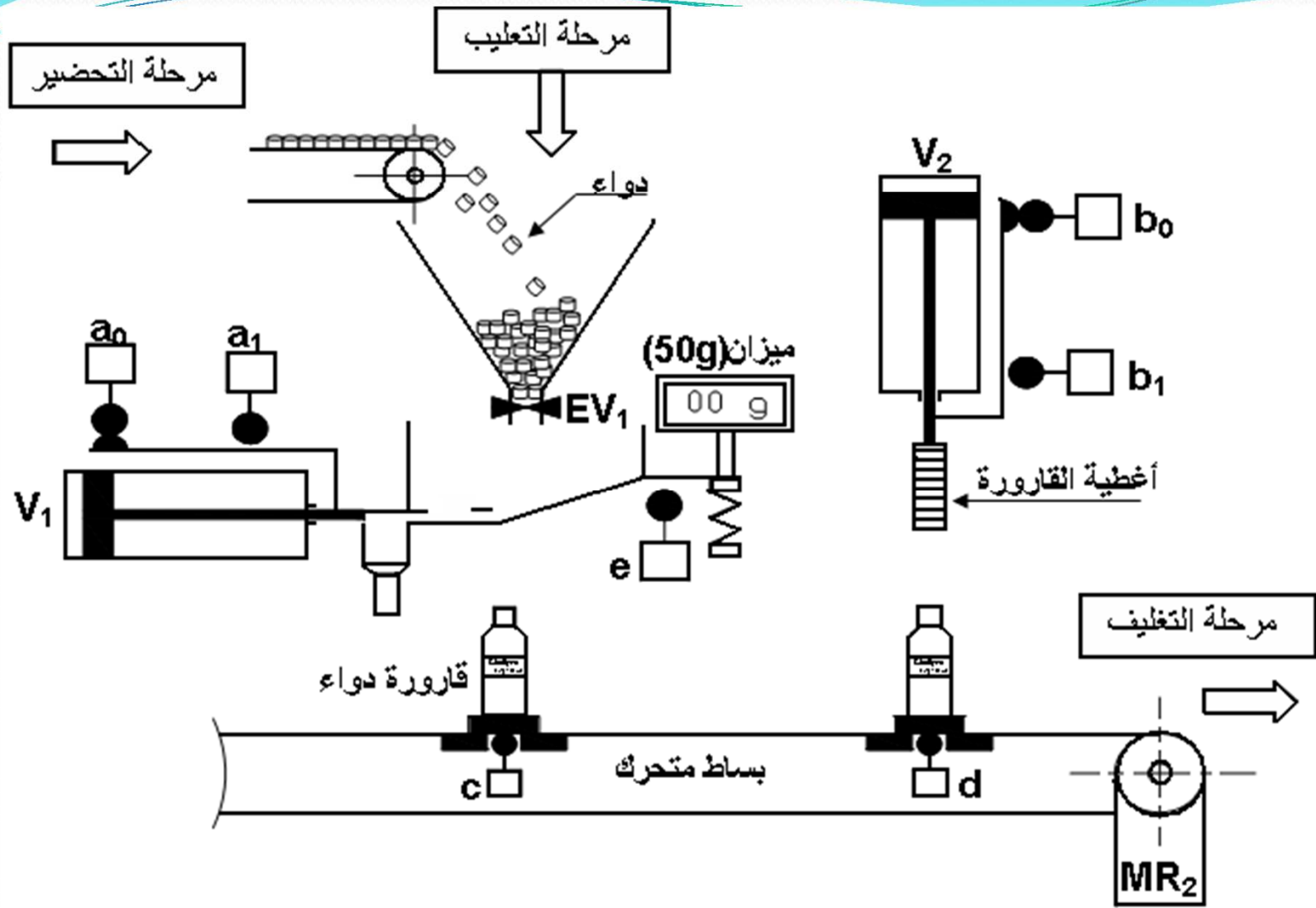
1. وصف وتشغيل : (الوثيقة 11\2)

يقوم هذا النظام بمعايرة و تعبئة قارورات الدواء حسب المراحل التالية :

•المرحلة الأولى : التحضير .

•المرحلة الثانية : التعليب .

• المرحلة الثالثة : التغليف .



نظام آلي لمعايرة و تعبئة الدواء

2-1. منتج محل الدراسة :

نقترح دراسة محرّك مخفّض MR_2 الذي يشتغل بمحرك كهربائي (الصفحة 12\3) .

3-1. معطيات تقنية :

استطاعة المحرّك : $P = 2,4 Kw$ ، $N = 1000 tr / mn$

المتسّنات الاسطوانية ذات أسنان قائمة: $\{(7), (6)\}$

المقياس التناسبي (الموديول) : $m = 2 mm$ ، $a = 58 mm$ ، $d_6 = 32 mm$

المتسّنات المخروطية ذات أسنان قائمة : $\{(8), (4)\}$

المقياس التناسبي (الموديول): $m = 2.5 mm$ ، $Z_8 = 70 dent$ ، $d_4 = 35 mm$

1-4. سير الجهاز : (الوثيقة 11\3)

تنقل الحركة الدورانية من المحرك إلى البساط المتحرك بواسطة مجموعة مسنّات أسطوانية ذات أسنان قائمة { (6), (7) } و مسنّات مخروطية ذات أسنان قائمة : { (4), (8) } .

1-5. العمل المطلوب :

1-5-1- دراسة الإنشاء :

• تحليل وظيفي : أجب مباشرة على الوثائق 12\6 و 12\7.

• تحليل بنيوي :

* دراسة تصميمية جزئية : أتم الدراسة التصميمية الجزئية مباشرة على الوثيقة 12\8.

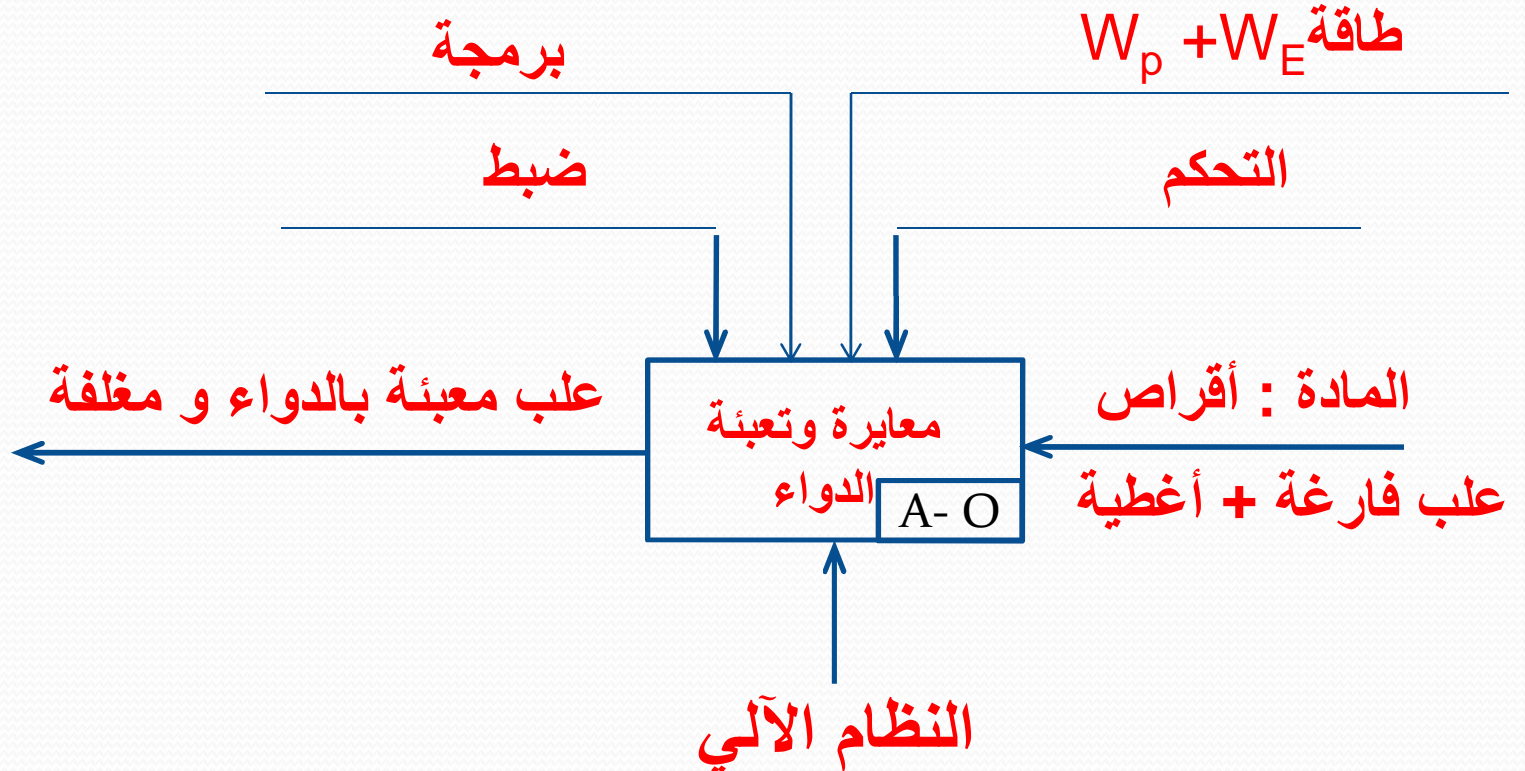
* دراسة تعريفية جزئية : أتم الدراسة التعريفية الجزئية مباشرة على الوثيقة 12\9

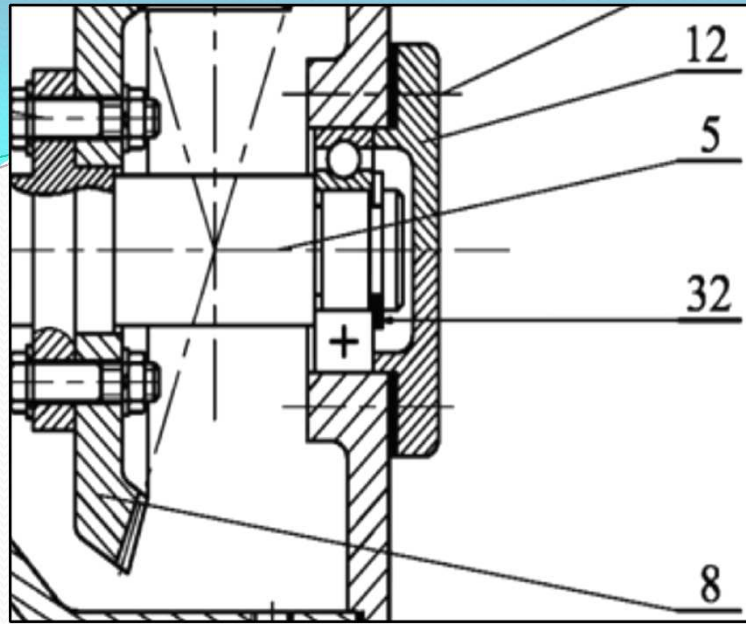
1-5-2- دراسة التحضير :

- * تكنولوجيا وسائل الصنع : أجب مباشرة على الوثيقة 12\10 .**
- * عقد المرحلة الخاص بصنع الغطاء(12) : أجب مباشرة على الوثيقة 12\11 .**
- * دراسة الآليات : أجب مباشرة على الوثيقة 12\12 .**

3-1 التحليل الوظيفي :

1-3-1 أتم المخطط الوظيفي A-O



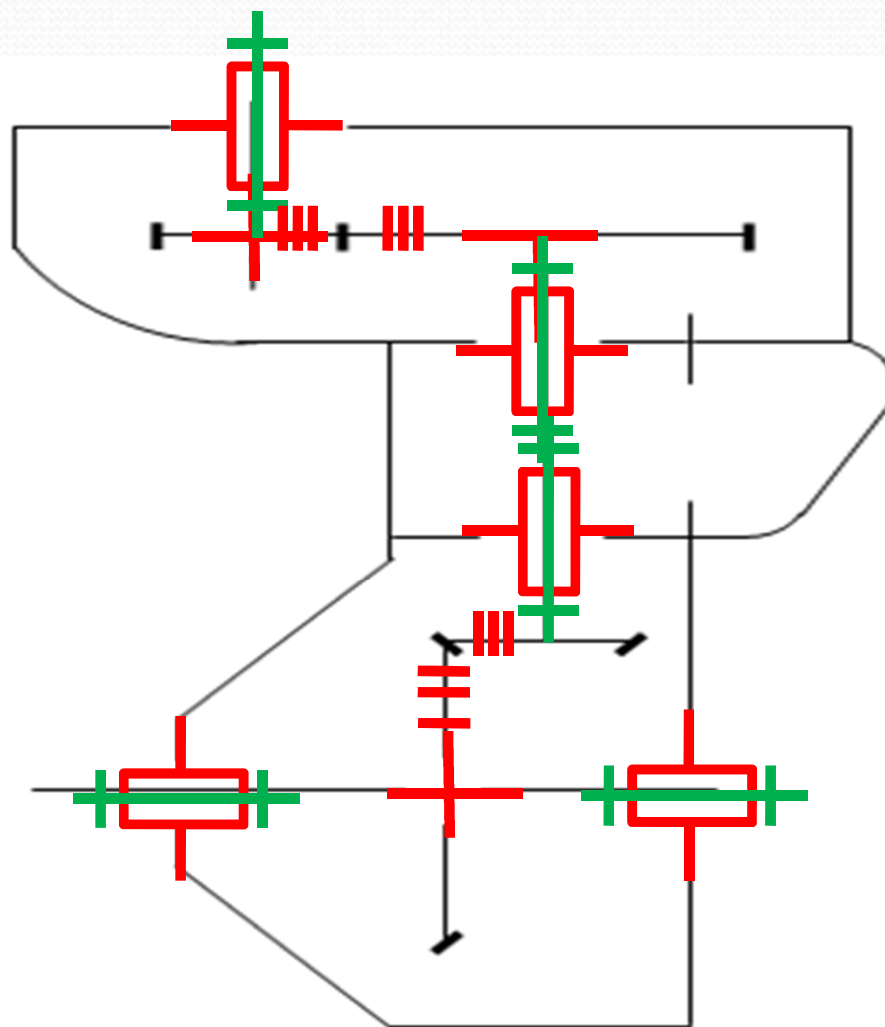


5-1 نمذجة الوصلات:

اتم جدول الوصلات الحركية التالي:

الوسيلة	الرموز	اسم الوصلة	القطع
خابور + صامولة + سند عمود		اندماجية	6/3
مدحرجتين BC		متمحورة	5 \ (11-1)
مدحرجتين BC		متمحورة	(10-1)/4
اللوالب (21)		اندماجية	5\8

6-1 الرسم التخطيطي الحراري:

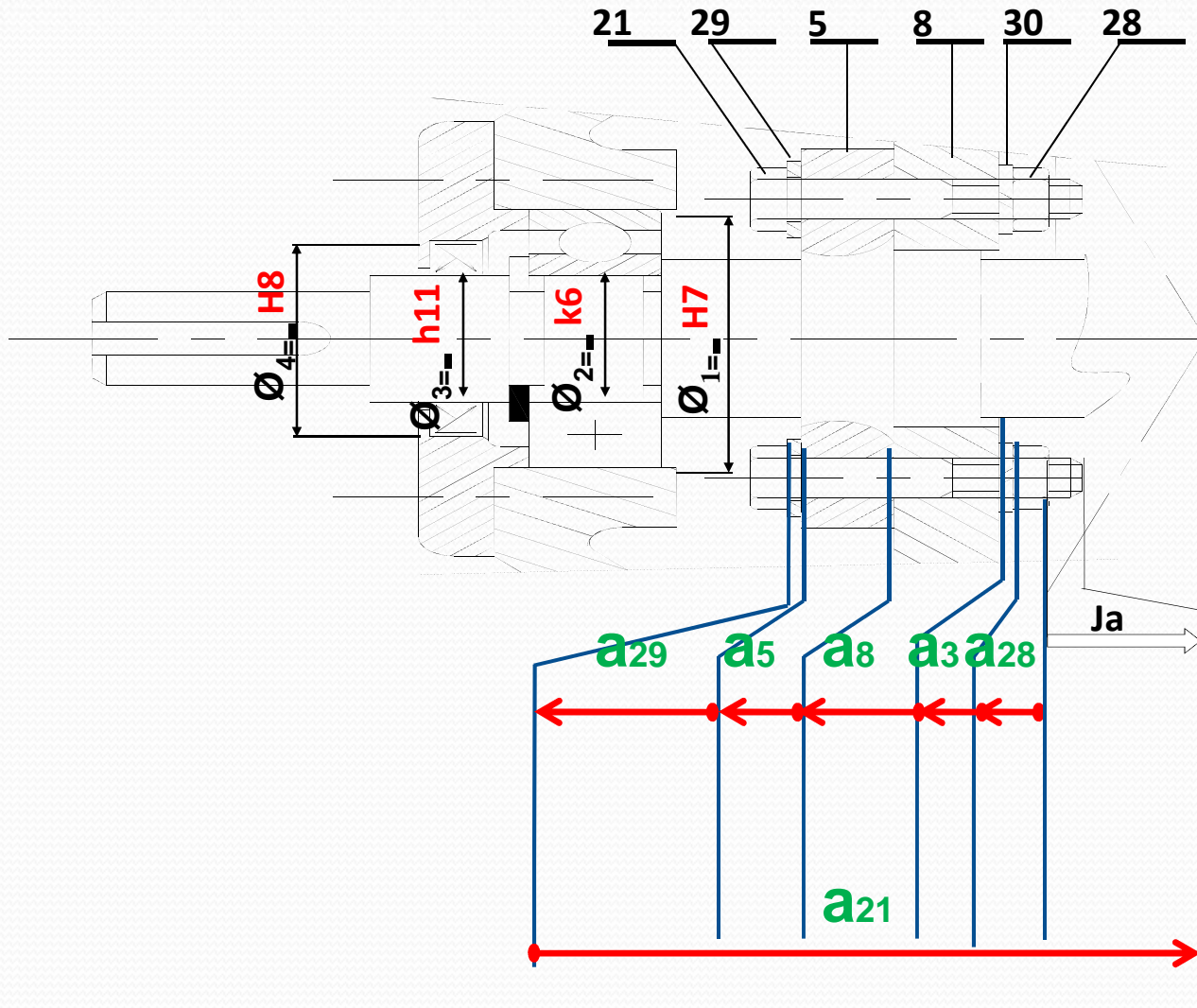


4-التحديد الوظيفي للأبعاد :

1-4- أنجز سلسلة الأبعاد الخاصة بالشرط " Ja " على الرسم التالي:

2-4- سجل على الجدول التالي التوافقات المناسبة

\emptyset_1 ، \emptyset_2 ، \emptyset_3 و \emptyset_4 الموجودة على الرسم التالي :



5- دراسة المتسّنات:

1-5 متسّنات أسطوانية ذات أسنان قائمة : $\{(7), (6)\}$
أتمم جدول المميّزات التالي :

a	r	Z	d	m	
58	8/21	16	32	2	(6)
		42	84		(7)

$$r=z6/z7=d6/d7$$

$$a=(d6+d7)/2$$

$$z6=d6/m$$

$$z7=d7/m$$

2-5 متسنيات مخروطية ذات أسنان قائمة : $\{(8), (4)\}$
 أتمم جدول المميّزات التالي :

r	L	δ	z	d	m	
1/5	89.31	11.3	14	35	2.5	(4)
		78.7	70	175		(8)

$$\text{tg } \delta_1 = Z_4 / Z_8 = d_4 / d_8 \quad d_8 = m * z_8 \quad z_4 = d_4 / m$$

$$L_4 = d_4 / 2 \text{ Sin } \delta_4 \quad \text{tg } \delta_1 = r \quad \delta_1 + \delta_2 = 90^\circ$$

3-5- أحسب نسبة النقل الكلية:

$$r_G = r_{6-7} \times r_{4-8} = 8/21 \times 1/5 = 8/105$$

3-5- حساب سرعة الخروج : N_5

$$r_G = N_5 / N_m$$

ومنه:

$$N_5 = N_m \times r_G = 1000 \times 8/105$$

إذن:

$$N_5 = 76.19 \text{ tr/min}$$

ب - الدراسة البنيوية

الدراسة التصميمية الجزئية :

- تغيير الوصلة المتمحورة بين العمود (5) و الهيكل (1) بواسطة مدحرجات ذات دحاريح مخروطية .
- تغيير الوصلة الاندماجية بين العمود (5) و العجلة المسننة (8) باستعمال خابور متوازي شكل A .
- تركيب الغطائين (12) و (13) :
- * وصلة اندماجية بواسطة براغي .
- * حماية الجهاز باستعمال فاصل الكتامة ذات شفتين .

