

الموضوع الاول

أولا / التاريخ

الجزء الأول: ( 06 ن )

**السند / >>** ظهرت في نهاية الأربعينات وبداية الخمسينات، ظاهرة ما أطلق عليها الحرب الباردة بين المعسكرين ، وبدأ العالم يتشكل حول هذين المحورين، وأصبحت سياسة المحاور والتحالفات هي السائدة، وحاولت بعض الدول ، الهند ومصر واندونيسيا تشكيل محور أطلق عليه «محور دول عدم الانحياز»، لكنه لم يكن فعالاً في العديد من القضايا، لذلك استمرت القوة السياسية والاقتصادية تتمحور حول المعسكرين الكبيرين، فاندلعت الحرب الكورية أعوام 1950 - 1953 م ، وكانت اختباراً لقوة المعسكرين، وفي عام 1962 كاد العالم يدخل في حرب عالمية نووية، بسبب << أزمة الصواريخ >> وتقارن بحصار برلين كواحدة من أشد المواجهات خلال الحرب الباردة، وتعتبر هذه الأزمة أقرب أزمة كادت تؤدي إلى قيام الحرب بين البلدين بكوبا ، لكن الأمين العام للأمم المتحدة و"جون كينيدي" ، جنّب العالم تلك الكارثة، وهو ما أشارت إليه تقارير عدة، " خروتشوف" كان متهوراً إلى حد ما، ولقد كانت حرب الفيتنام بقيادة "هوشي منه" أحد مسارح المواجهة بين المعسكرين، انتهت بهزيمة الولايات المتحدة الأميركية، ... بعدها حاولت الدول الكبرى إيجاد صيغة تفاهم بينهما، تجنب العالم الحروب والمواجهات، لكن استمر التجاذب بين القوتين...>>

المصدر: علي العنزي. الدول الكبرى والأزمات الدولية

1- عرف ما تحته خط في السند

2 - عرف بالشخصيات الواردة في السند

3- على خريطة العالم المرفقة وقع دول محور عدم الانحياز الواردة في السند

الجزء الثاني: ( 04 ن )

عرفت معظم المناطق التي قامت بها الحركات التحررية بعد الحرب العالمية الثانية حالة من المد والجزر بين المعسكرين غير أن هذه الثورات عرفت كيف تحقق انتصارها على الاستعمار التقليدي ومواجهة خطر المعسكرين .

**المطلوب :** انطلاقاً من العبارة واعتماداً على ما درست أكتب مقالا تاريخيا تبرز فيه .

1- الخصائص المشتركة لهذه الحركات التحررية

2- موقف المعسكرين منها مع أمثلة

1 / - / **السند / >>** يشكل الخط الفاصل بين الدول المصنعة و**الدول النامية** في الوقت الراهن شرخا كبيرا من حيث التفاوت في الدخل بالرغم من التحسن القليل في العشرية الأخيرة بالنسبة للدول النامية ، ويرتبط مستوى **الناتج الداخلي الخام** بالنسبة للفرد بمؤشرات مثل الاستفادة من المياه والتربية والصحة ، و**التكنولوجيات الجديدة** ، ويمكن تشخيص ذلك التفاوت في الأرقام التالية : يخصص 51 % من سكان العالم 90 % من النفقات للتكنولوجيات الجديدة و هم يوجدون في البلدان الغنية <<

المصدر: فرانسوا نيكولا، البلدان النامية . مجلة الدفتر الفرنسي ص 310

- عرف ما تحته خط في السند

2- إليك جدول يمثل الناتج المحلي الخام لبعض الدول بالمليار دولار ونموه بالنسبة المئوية

التعيين	وم أ	أندونيسيا	ألمانيا	الصين	تركيا	ع. السعودية
الناتج المحلي الخام	17968	873	3371	11385	722	632
نسبة النمو	%2.6	% 3	% 3	% 6.8	% 3	% 3.5

المصدر : البنك العالمي 2015

أ- مثل الناتج المحلي الخام بأعمدة بيانية مقياس (1سم ← 1000 مليار دولار- 1 سم ← عرض العمود)

ب- علق على الجدول

الجزء الثاني : ( 04 ن )

تبدل الجزائر مجهودات كبيرة في مجال التنمية وتنويع الصادرات وموارد الدخل وإقامة شراكات مثل الشراكة الأوروبية المتوسطية

المطلوب : انطلقا من العبارة واعتمادا على ما درست اكتب مقالا جغرافيا تبين فيه .

1- طبيعة المبادلات الجزائرية

2- الآفاق المستقبلية للجزائر في إطار الشراكة الأوروبية المتوسطية

## خريطة العالم



1000 كم

ينجز العمل المطلوب على الخريطة وتعاد مع أوراق الإجابة

6/3

## الموضوع الثاني

أولا / التاريخ

الجزء الأول : ( 06 ن )

**1- السند /** بوضياف يقول: <<...إن اللجنة الثورية حلت نفسها بنفسها قبل بضعة أيام من انعقاد المؤتمر الثاني الذي نظمه المصاليون... لأنها فقدت علة وجودها ، ( بعدم تمكنها من تحقيق الوحدة والمصالحة بين جناحي الحركة المتنازعين )... وأنها انتهت بميلاد "لجنة الخمسة" لأن اللجنة الثورية كانت تضم في صفوفها بعض المركزيين ، بينما لجنة الخمسة كانت مكونة فقط من قدماء المنظمة الخاصة...>>

محمد بوضياف : الجزائر إلى أين ؟

- عرف ما تحته خط في السند

2- عرف بالشخصيات التالية : ( أحمد سوكارنوا - بن يوسف بن خدة - ليونيد بريجنيف )

3- أكمل جدول الأحداث والتواريخ :

انعقاد مؤتمر باندونغ	
القصف الجوي الفرنسي لساقية سيدي يوسف	
توقيع اتفاقية سالت 1	

الجزء الثاني : ( 04 ن )

شكّلت موانيق الثورة مرجعية وقوة جبهة التحرير الوطني في مواجهة الاستراتيجيات التي رسمتها فرنسا للقضاء على الثورة ، وكانت نتائج انتصارات جبهة التحرير الوطني تلك التي حققتها في اتفاقية أيفيان في 18 مارس 1962 وقدرتها في إعادة بناء الدولة الجزائرية .

المطلوب : انطلاقا من العبارة واعتمادا على ما درست اكتب مقالا تاريخيا تبين فيه .

1- ما حققته جبهة التحرير في اتفاقية أيفيان حسب موانيق الثورة

2- الاختيارات التي قررتتها جبهة التحرير لبناء الدول الجزائرية انطلاقا من موانيق الثورة

1- **السند /** >>...إن الإمضاء على اتفاق الشراكة الأوروبيةمتوسطية وانضمام الجزائر لمنظمة التجارة العالمية سيؤدي حتما إلى انفتاح كبير لحدودنا الاقتصادية مم يفرض علينا تأهيل أذاتنا الإنتاجية و حيازة مواقع في الأسواق العالمية و تشجيع الاستثمار وتوسيع رقعة البلاد

المصدر : الكتاب المدرسي جغرافيا الثالثة ثانوي ص 160

- عرف ما تحته خط في السند

2- إليك جدول يمثل تطور قيم الميزان التجاري لكل من الصين والولايات المتحدة الأمريكية ( الوحدة مليار دولار )

السنوات	2000	2003	2006	2010	2013
الصين	50	100	250	200	220
الولايات م أ	400 -	600 -	750 -	420 -	440 -

المصدر : منظمة التجارة العالمية 2014

- مثل معطيات الجدول بواسطة منحنيات بيانية مقياس ( 1سم ← 1 سنة - 1سم ← 50مليار دولار )

3- وقع على الخريطة المرفقة لأوروبا الدول المؤسسة للإتحاد الأوروبي

### الجزء الثاني : ( 04 ن )

تشير التوقعات الاقتصادية الحالية إلى تراجع القطب الاقتصادي الأمريكي رغم أنه يمثل اكبر اقتصاد

منتج للثرة

**المطلوب :** انطلاقا من العبارة واعتمادا على ما درست أكتب مقالا جغرافيا تبين فيه .

1- مظاهر قوة هذا الاقتصاد

2- الصعوبات التي يواجهها

## خريطة أوروبا



ينجز العمل المطلوب على الخريطة ويعاد مع أوراق الإجابة

الجمهورية الجزائرية الديمقراطية الشعبية  
وزارة التربية الوطنية

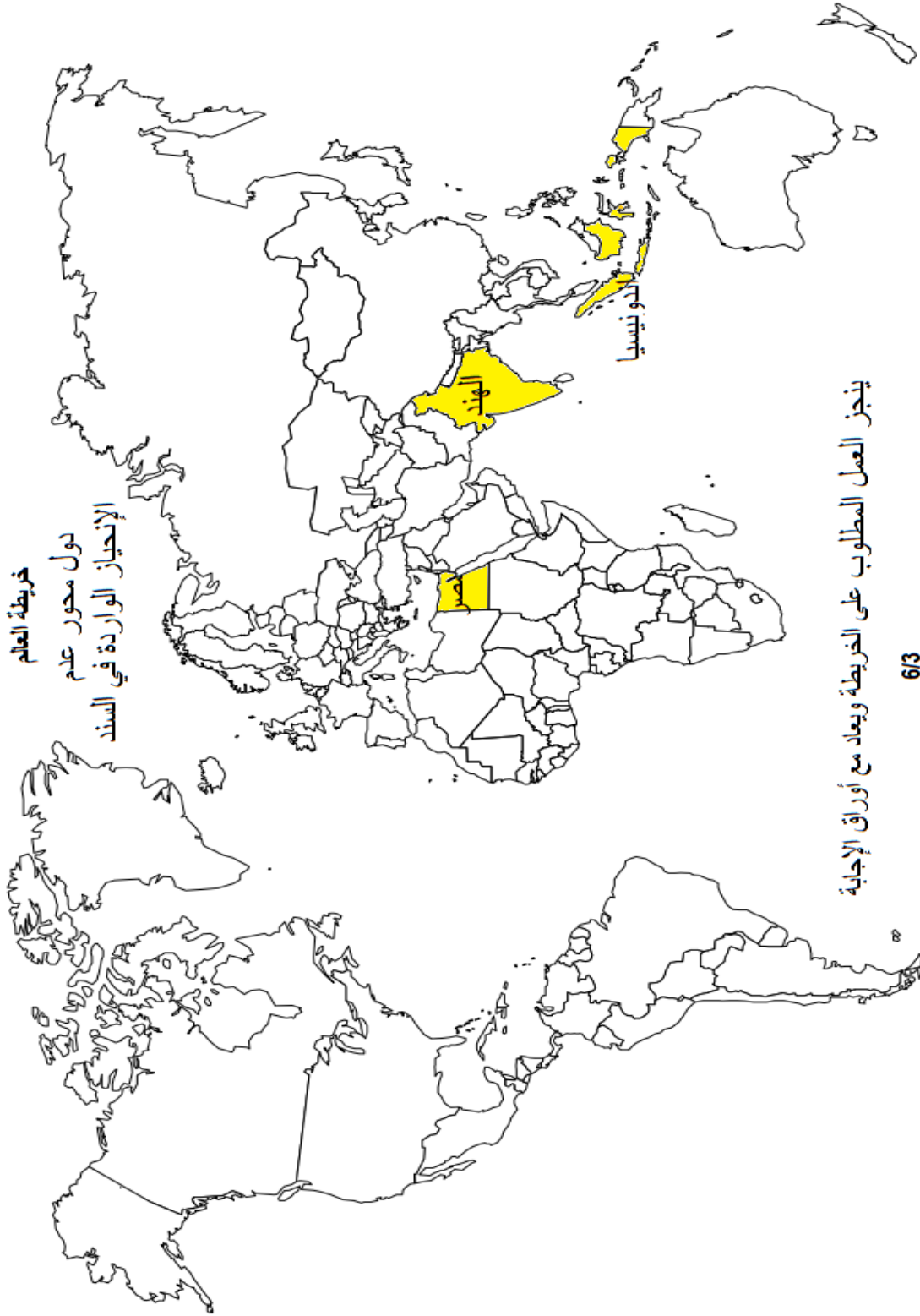
- مديرية التربية لولاية جيجل  
- ثانوية الكندي

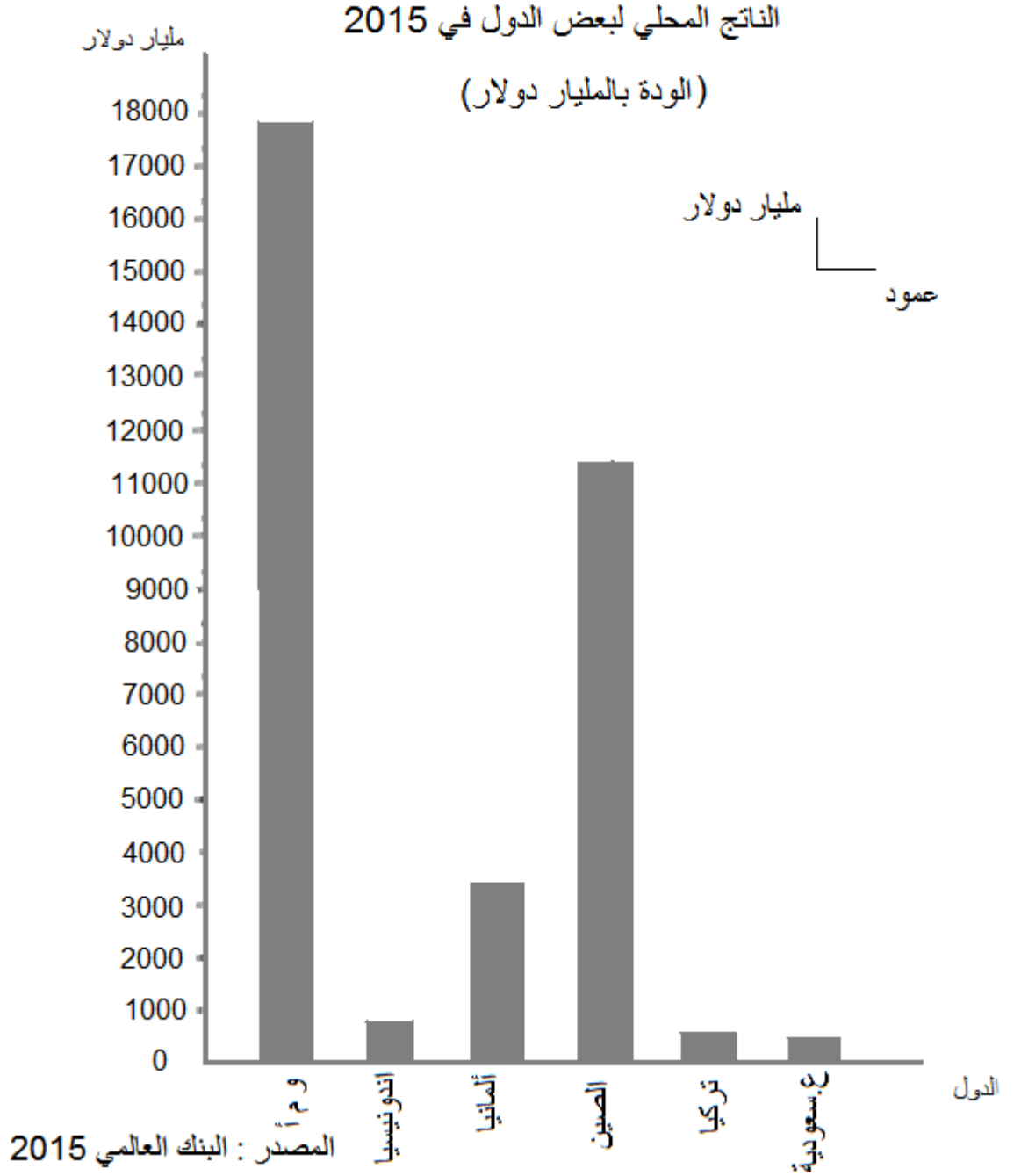
الإجابة النموذجية مع سلم التنقيط لاختبار مادة التاريخ والجغرافيا - امتحان البكالوريا التجريبي دورة 2017 - شعبة / آداب وفلسفة

العلامة	العلامة المجزئة	مؤشرات الإجابة	عناصر الإجابة
		<b>الموضوع الأول</b>	
		<b>أولا / التاريخ</b>	
		<b>الجزء الأول</b>	
	0.75	* محور دول عدم الانحياز: هو مجموعة الدول المؤسسة لحركة عدم الانحياز في مؤتمر بلغراد من 1 - 6 سبتمبر 1961 م، ضم دول آسيوية، أفريقية، أوروبية وأمريكا اللاتينية	1- تعريف ما تحته خط في السند :
	0.75	* الحرب الكورية : هي حرب بين كوريا الشمالية الشيوعية وكوريا الجنوبية الرأسمالية حول توحيد النظام ( 1950 م -1953م ) تحولت إلى أزمة بين المسكر الشرقي والمعسكر الغربي	
06 ن	0.5	* الدول الكبرى: يقصد بهما القوتين العظميتين ( الولايات المتحدة الأمريكية و الإتحاد السوفيتي ) المتصارعتين على النفوذ الإيديولوجي وقيادة العالم	
	0.75	* جون كندي : ( 9 / 5 / 1917م - 11 / 22 / 1963م ) رئيس الولايات المتحدة الأمريكية ( 1961م - 1963 م ) عرف صراع مع الشيوعيين ( أزمة الصواريخ - أزمة خليج الخنازير بكوبا - الفشل في الفتنام ) دعم حركة الحقوق المدنية للسود الأمريكيين ، تم اغتياله سنة 1963م	2- التعريف بالشخصيات الواردة في السند
	0.75	* خروتشوف : نيكيتا خروتشوف ( 1894/4/18م - 1971/9/11م ) زعيم شيوعي ورئيس الإتحاد السوفيتي ( 55-64 ) عضو اللجنة الثلاثية 53-55 سياسي معتدل صاحب فكرة التعايش السلمي أنهى أزمة كوريا سنة 53 ، دعم مصر أثناء العدوان الثلاثي ، ارتبطت به أزمة الصواريخ بكوبا 1962م توفي سنة 1971م	
	0.5	* هوشي منه : ( 1890/5/19م - 1969/5/2م ) مؤسس دولة الفتنام الشيوعية في 1945م ، خاض حرب تحريرية ضد الاستعمار الفرنسي ، استرجع استقلال الفتنام بمؤتمر جنيف الخاص بالهند الصينية 1954م، واجه سياسة ملاءم الفراع الأمريكية وأعلن الحرب ضدها توفي في 1969 م	
	0.25	توقيع على خريطة العالم دول محور عدم الانحياز الواردة في السند . ( الهند - مصر - اندونيسيا )	3- التوقيع على الخريطة
	0.25	- العنوان	
	3x0.5	- المفتاح - الإنجاز	
		<b>الجزء الثاني</b>	
	0.5	حركات التحرر في مواجهة الاستعمار التقليدي ومواقف المعسكرين	مقدمة
	0.25	1- الخصائص المشتركة لهذه الحركات التحررية	العرض
	X	- حركات تحررية وطنية شعبية شاملة	
	6	- الاستناد إلى الشرعية الدولية	
04 ن		- الإصرار على التحرر واسترجاع الاستقلال والسيادة لشعبها	
		- الاعتماد على الوسائل الذاتية والجمهير الشعبية	
		- التضامن والتعاون فيما بينها ماديا وسياسيا	
		- التزام بعد الحرب العالمية مع الصراع الإيديولوجي بين المعسكرين	
		2- مواقف المعسكرين منها	
	0.25	* المعسكر الغربي: وقف مع الدول الاستعمارية ودعمها ماليا وعسكريا وسياسيا خاصة دول الحلف الأطلسي، للمحافظة على النفوذ الرأسمالي مثل :	
	0.25	- دعم الحلف الأطلسي لفرنسا عسكريا في مواجهة الثورة التحريرية الجزائرية 1954م-1962م خاصة الولايات المتحدة الأمريكية	
	0.25	- دعم الولايات المتحدة الأمريكية لفرنسا في مواجهة حرب التحرير الفتنامية	
	0.25	- تطبيق الولايات المتحدة الأمريكية سياسة ملاءم الفراع الاستعماري في الفتنام 1954م-1973م لمواجهة المد الشيوعي	

		<p>* المعسكر الشرقي : كان موقفه مؤيدا مدعما لحركات تحريرية ومحايذا لبعض منها مثل:  - دعم الفتنام في حربها ضد الاستعمار الفرنسي 1946م- 1973م ، والثورة الكوبية 58-1960م  ماديا وعسكريا للمحافظة على المد الشيوعي  - دعم مصر ضد العدوان الثلاثي وهدد باستعمال السلاح الذري ضد الدول المعتدية  - اتخذ الحياد من الثورة الجزائرية ضد الاستعمار الفرنسي في بدايتها ثم دعمها سياسيا في نهايتها</p>	
	0.25		
	0.25		
	0.25		
	0.5	<p>حققت الحركات التحررية انتصارا على الاستعمار التقليدي واسترجعت الاستقلال واستطاعت مواجهة وتخفيف ضغط المعسكرين بالتضامن والتعاون مع محور عدم الانحياز</p>	<b>الخاتمة :</b>
	.....	.....	.....
		<p><b>الموضوع الأول</b></p> <p><b>ثانيا / الجغرافيا</b></p> <p><b>الجزء الأول</b></p>	
	0.75	<p>* <b>الدول النامية</b> : هي مجموعة الدول التي حققت تطور صناعي ونمو اقتصادي تنتمي إلى العالم الثالث ما عدا الدول الفقيرة منها .</p>	<b>1- تعريف ما تحته خط</b>
	0.75	<p>* <b>الناتج الداخلي الخام</b> : هو مجموع الثروة التي تنتجها الدولة محليا خلال السنة من مختلف القطاعات مقدرة بقيمة نقدية</p>	
06 ن	0.75	<p>* <b>التكنولوجيات الجديدة</b> : هي تكنولوجية الإعلام والاتصال التي تعتمد على الوسائل المتطورة تكنولوجيا كالأقمار الصناعية والهواتف النقالة ..الخ. والتي تعتمد على الانترنت والرقمنة</p>	
	0.5	<p>أ - <b>الرسم البياني</b> :</p> <p>أعمدة بيانية للناتج المحلي لبعض الدول مقياس ( 1سم ← 1000مليار - 1سم ← عرض العمود )</p>	<b>2- الرسم البياني والتعليق</b>
	1.5	<p>- العنوان</p>	
	0.25	<p>- الإنجاز</p> <p>- المقياس</p>	
	0.5	<p>ب - <b>التعليق على الجدول:</b></p>	
	0.5	<p>- يظهر من الجدول تفوق كل من الولايات المتحدة الأمريكية والصين في الناتج المحلي الخام ثم ألمانيا</p>	
	0.5	<p>- يظهر تقارب بقية الدول في الناتج المحلي</p>	
	0.5	<p>- يظهر تفوق الصين في نسبة نمو الناتج المحلي وتقارب نسبة النمو لبقية الدول</p>	
		<p><b>الجزء الثاني</b></p>	
	0.5	<p>سعي الجزائر إلى المساهمة في المبادلات والشراكة الدولية</p>	<b>مقدمة</b>
	0.75	<p><b>1- طبيعة المبادلات الجزائرية :</b></p> <p>- <b>الصادرات</b> : مواد أولية طاقوية ( بترول وغاز ) بنسبة 97 %  مواد معدنية ( حديد وفوسفات .. )  منتجات زراعية ( تمور خضروات )</p>	<b>العرض</b>
04 ن		<p>- <b>واردات</b> : مواد مصنعة ونصف مصنعة ( آليات وهايكل المصانع ،وسائل النقل .. )  وسائل تجهيز الخدمات  مواد غذائية والدواء</p>	
	0.75	<p><b>2- الآفاق المستقبلية في إطار الشراكة الأوروبيةمتوسطية</b></p> <p>- الاستفادة من التطور التكنولوجي الحاصل في أوروبا  - الاستفادة من السوق الأوروبية  - تفعيل السياسة الاقتصادية وكسب الخبرة  -توسيع الشراكة إلى المجالات الثقافية والعلمية</p>	
	0.5	<p>يبقى على الجزائر الاستمرار في سعيها والاستفادة من الشراكات لتحقيق نمو ومرتبنة مقبولة في المبادلات الدولية</p>	<b>الخاتمة</b>

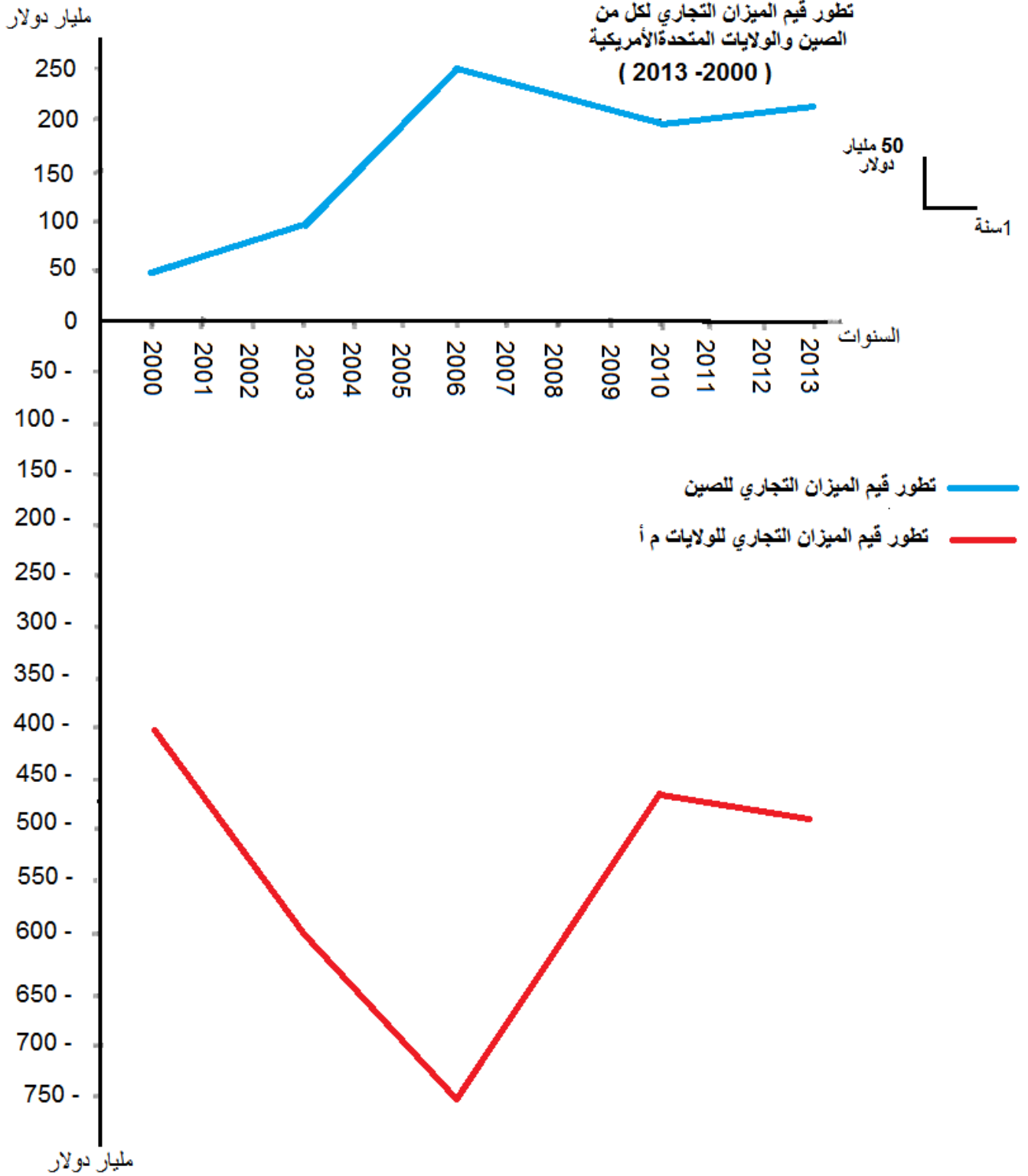






عناصر الإجابة	مؤشرات الإجابة	علامة مجزئة	علامة
	<b>الموضوع الثاني</b>		
	<b>أولاً/ التاريخ</b>		
	<b>الجزء الأول</b>		
1- تعريف ما تحته خط في السند	* <b>اللجنة الثورية</b> : هي اللجنة الثورية للوحدة والعمل أسسها مناضلي المنظمة الخاصة وأعضاء من اللجنة المركزية لحركة الانتصار للحريات الديمقراطية في 23 مارس 1954م حاولت المصالحة بين المصلين والمركزيين المتنازعين ، حلت نفسها في 23 جوان 1954م باجتماع 22 عضو	0.75	06 ن
	* <b>لجنة الخمسة</b> : هي لجنة تم تعيينها في اجتماع 22 في 23 جوان 1954م مثلت مجلس الثورة تشكلت من العربي بن مهدي ،ديدوش مراد ، مصطفى بن بولعيد ، رابح بيطاط ، محمد بوضياف كلفوا بالإعداد وتفجير الثورة ،ثم التحق بهم " كريم بالقاسم " وأصبحت تسمى لجنة الستة	0.75	
	* <b>المنظمة الخاصة</b> : هي الجناح العسكري لحزب حركة الانتصار للحريات الديمقراطية تم تأسيسها في 15 فيفري 1947 م وهي منظمة سرية هدفها تجنيد الشباب وتحضير للثورة والقيام بالعمليات ضد مصالح الاستعمار الفرنسي	0.75	
2- التعريف بالشخصيات	* <b>أحمد سوكرانو</b> : ( 1901/6/6 - 1970/6/21م) أول رئيس اندونيسيا ، أعلن استقلال اندونيسيا في 17 أوت 1945م ، قاد مقاومة الشعب الاندونيسي ضد الاستعمار الهولندي إلى غاية اعتراف هولندا باستقلال اندونيسيا في 1949م ، من مؤسسي التضامن الأفرو آسيوي ونظم عقد مؤتمر باندونغ بلده 18- 24 افريل 1955 م ، من مؤسسي حركة عدم الانحياز 1-6 سبتمبر 1961م ورؤسائها ، دعم حركة التحرر في المستعمرات منها ثورة الجزائر	0.75	
	* <b>بن يوسف بن خدة</b> : ( 1920/2/23 - 2003/2/04م) مناضل في حزب الشعب ، عضو في اللجنة المركزية لحركة الانتصار للحريات الديمقراطية ، عضو لجنة التنفيذ والتنسيق والمجلس الوطني للثورة ، رئيس الحكومة المؤقتة للجمهورية الجزائرية سنة 1961م اعتزل السياسة سنة 1962م.	0.75	
	* <b>ليونيد بريجنيف</b> : ( 1906/12/19 - 1982/11/10 م) رئيس الإتحاد السوفيتي ( 1964 - 1982 م) دعم حرب الفتنام ضد الولايات من 64-1973م ، وقع اتفاقية الحد من الأسلحة الإستراتيجية في 1972 م ، تدخل في أفغانستان عام 1979م ، اهتم بإنجاز محطة مير الفضائية توفي في 1982م.	0.75	
3- إكمال جدول الأحداث والتواريخ	- انعقاد مؤتمر باندونغ = 18 إلى 24 افريل 1955م - القصف الجوي الفرنسي لساقية سيدي يوسف = 8 فيفري 1958 م - توقيع اتفاقية سالت 1 = 26 ماي 1972 م	0.5 0.5 0.5	
	<b>الجزء الثاني</b>		
مقدمة	معركة جبهة التحرير الوطني لتجسيد مبادئ مواثيق الثورة واختيارات بناء الدولة الجزائرية المستقلة	0.5	04 ن
العرض	1- ما حققته جبهة التحرير في اتفاقية أفيان حسب مواثيق الثورة - حققت الاستقلال والسيادة الوطنية الكاملة على مصالحها الداخلية والخارجية - حققت الوحدة الترابية الوطنية - حققت الوحدة الشعبية الوطنية وضمان إطلاق سراح المساجين والمعتقلين الجزائريين - ضمنت المقومات الوطنية ( اللغة العربية ،العقيدة الإسلامية والثقافة الوطنية	0.5 0.5 0.25 0.25	
	2- الاختيارات التي قررتها جبهة التحرير الوطني لبناء الدولة الجزائرية انطلاقا من مواثيق الثورة - دولة جمهورية ديمقراطية شعبية والحكم المؤسسياتي - تبني مبدأ الحزب الواحد ( جبهة التحرير الوطني الحزب الطلائعي ) - استقلالية السياسة الخارجية	0.25	
	- دعم مبادئ الأمم المتحدة وحركة التحرر والقضايا العادلة - النهج الاشتراكي والتخطيط المركزي كأسلوب للتنمية - ثورة اجتماعية وثقافية للقضاء على مخلفات الاستعمار	x 6	
الخاتمة	استطاعت جبهة التحرير الوطني أن تحقق الأهداف التي رسمتها الثورة في مواثيقها رغم صعوبة مواقف الاستعمار الفرنسي أثناء المفاوضات وصعوبة إعادة بناء الدولة الجزائرية	0.5	

		<b>الموضوع الثاني</b>	<b>ثانيا / الجغرافيا</b>
		<b><u>الجزء الأول</u></b>	
06 ن	0.75	* اتفاق الشراكة الأورو متوسطية : هي مبادرة مؤتمر برشلونة يومي 27 و 28 نوفمبر 1995 ، وتضم 16 دولة مطلة على البحر المتوسط منها الجزائر التي وقعت اتفاقها مع الإتحاد الأوروبي في 19 ديسمبر 2001 ، جاءت المبادرة لتحقيق التعاون السياسي والأمني والاقتصادي والثقافي في منطقة البحر المتوسط	
	0.75	* الأسواق العالمية : هي أماكن المبادلات والمداولات بين البائعين والمشتريين للمواد والأسهم والسندات و العملات وتحديد أسعارها كالبورصات والمعارض	
	0.75	* الاستثمار : هو عملية توظيف لرؤوس أموال فعلية في مشاريع اقتصادية وخدماتية بهدف تحسين وزيادة الإنتاج وتحقيق الأرباح	
	0.5	تمثيل معطيات الجدول ( تطور قيم الميزان التجاري لكل من الصين والولايات المتحدة الأمريكية) بمنحنيات البيانية ( مقياس 1سم ← 1 سنة - 1سم ← 50 مليار دولار	
	1.5	- العنوان	
	0.25	- الإنجاز	
0.25	- المقياس		
0.25	- المفتاح		
04 ن	0.25	توقيع على خريطة أوروبا ثلاث دول مؤسسة الإتحاد الأوروبي ( 3 من 6 - إيطاليا - ألمانيا - فرنسا - هولندا - بلجيكا - لوكسمبورغ )	
	3 x 0.25	- العنوان	
	0.25	- الانجاز	
	0.25	- المفتاح	
		<b><u>الجزء الثاني</u></b>	
0.5	القطب الاقتصادي الأمريكي بين الاستمرار في القوة و الريادة والصعوبات التي تواجهه		مقدمة
0.25	1- مظاهر قوة هذا الاقتصاد :		العرض
x 6	- قوة إنتاج الثروة الأول في العالم 17.9 تريليون دولار - قوة الإنتاج الصناعي والغذائي - قوة المساهمة في التجارة العالمية 13 % من حجمها - قوة البورصات وعملة الدولار في الأسواق المالية - ضخامة الشركات وانتشار فروعها في العالم 65 شركة أمريكية من أصل 165 شركة متعددة الجنسيات في العالم - قوة الاستثمارات الخارجية وتمويل المشاريع في العالم		
0.25	2- الصعوبات التي يواجهها :		
x 6	- عجز الميزان التجاري المزمن - اقتصاد مستورد للمواد الأولية خاصة البترول والغاز منافسة قوية من اقتصاديات ناشئة - المنافسة القوية في الإنتاج والتجارة من الأقطاب الأخرى خاصة اليابان ، الصين ، ألمانيا ، روسيا - ضخامة النفقات العسكرية ( إنتاج الأسلحة ، تمويل الجيش و التدخل في الأزمات ...) - ضخامة الديون الداخلية 14 تريليون والخارجية 600مليار اتجاه صندوق النقد الدولي - الهزات المالية من حين لآخر كأزمة 2008 التي أثرت على العالم		
0.5	بالرغم من قوة هذا الاقتصاد ولعدم استقراره فإنه مهدد بالتراجع		الخاتمة



المصدر : المنظمة العالمية للتجارة 2014

خريطة اوروبا

توقيع ثلاث دول مؤسدة للإتحاد الأوروبي  
( 3 من 6 )



ينجز العمل المطلوب على الخريطة ويعاد مع أوراق الإجابة