

السنة الثانية & آداب و لغات			الفرض الثاني للثلاثي الأول في التاريخ والجغرافيا				ثانوية الحكيم الزروالي * سيق *			
2019-2018	06 قاط	M	الجزء الأول:				الجغرافيا			
(1) اشرح ما يلي: 03										
التسمية الجهوية										
الاتحاد المغاربي										
الامتداد										
(2) أكمل الفقرة بتوظيف المصطلح المناسب: 03										
العالم المتقدم	الشرق الإفريقي	أطلسي	العالم الثالث	الاتحاد الأوربي	القاري	تونس و ليبيا	الاتحاد الإفريقي	الشمال الإفريقي	المحلي	
إفريقيا و آسيا	المالي و النيجر	07 دول	الخارجي	الأم المتحدة	متوسطي	العالم الخارجي	أوروبا و إفريقيا	الاتحاد العربي	08 دول	

تتربع الجزائر على موقع جيو سياسي مميز ، إذ تربط قاريا بين و و تطل على شريط ساحلي هام جدا. و بحكم اتساعها على مساحة 2381741 كلم2 فان حدودها الجغرافية مع دول تسمح لها بأن تتحكم في طرق المواصلات بين الشرق و الغرب و أيضا من الشمال نحو كل من..... و علما أنها تتوسط بلدان..... .

و بالتالي هذه الأهمية تكسب الجزائر مكانة دبلوماسية عالية على الصعيد إفريقيا و عالميا، خصوصا في منظمات الإقليمية ك و بدورها فعالية واضحة في القضايا العالمية بين دول العالم..... و تكتلات اقتصادية مثل

الجزء الثاني: 04 قاط

" أعطى الموقع الجغرافي والفلكي للجزائر مميزات خاصة من حيث الأهمية ، وأكسبها جملة من الخصائص الطبيعية كان لها الأثر الكبير في توزيع وكثافة السكان ، بل وفي نشاطهم ، كما أن موقعها الاستراتيجي أهلها لأن تلعب أدوارا هامة بمختلف الأبعاد الإقليمية والعالمية ... " كتاب الجغرافيا للسنة الثانية ثانوي – بصرف –

المطلوب : انطلاقا من الفقرة و بناء على ما درست أكتب فقرة تشرح فيها :

➔ أمثلة واقعية عن العلاقة بين الوسطين الطبيعي و البشري في الجزائر .

	الاسم واللقب
	النتيجة:

(1) اشرح ما يلي: 03

الكفاح التحرري

الميز العنصري

المهاتما غاندي

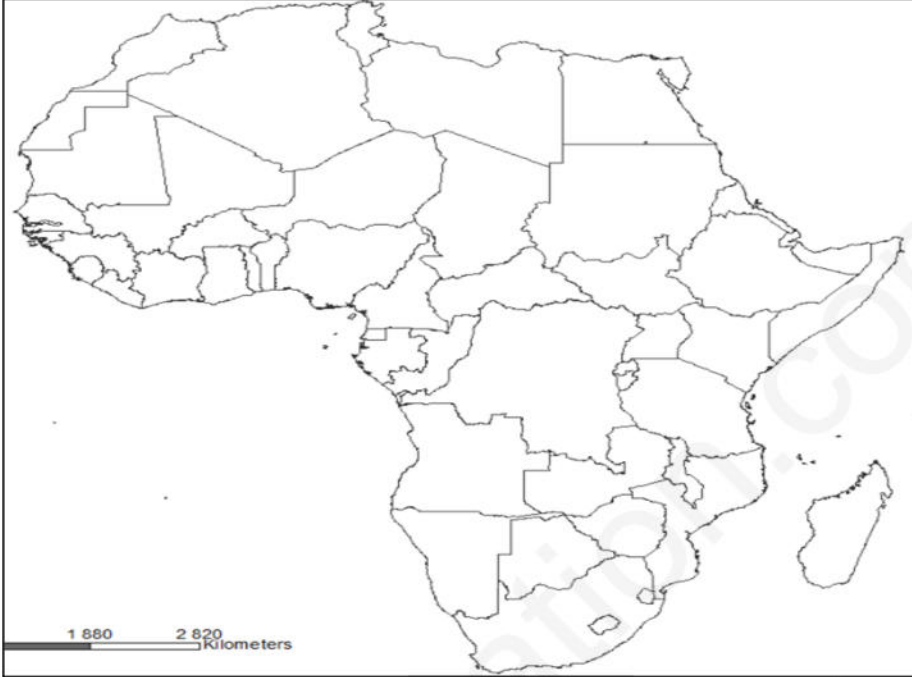
(2) أكمل الجدول الآتي: 1.5

الكاميرون/ مصر/ الهند/ تشاد/ السودان/ نيجيريا / النيجر / تونس / الأردن / جنوب إفريقيا / الصومال / سوريا / الرأس الأخضر/ نيجيريا / مدغشقر/ المغرب / غانا/ تنزانيا

مستعمرات فرنسية

مستعمرات بريطانية

(3) وقع على الخريطة: 03 دول من المستعمرات الفرنسية و 03 دول من المستعمرات البريطانية: 1.5



الجزء الثاني: 04 نقاط (...وترجع عصبة الأمم التي يرجع الفضل الأكبر في ظهورها إلى الرئيس ولسون...عاملا آخر سمح بإيجاد علاقات جديدة، تختلف عن العلاقات السابقة التي كانت تربط مستعمر بمستعمراته... أما العلاقات الجديدة أصبحت مقيدة بالأهداف ومحددة بالمواعيد حسب موثيق العصبة..) بالتصرف

المطلوب: انطلاقا من الفقرة و بناءا على ما درست أكتب فقرة تشرح فيها: مختلف الظروف التي جاءت فيها موجة الكفاح التحرري.

(4) اشرح ما يلي: 03

المقاطعة الاقتصادية

وعد بلفور

عمر الخطار

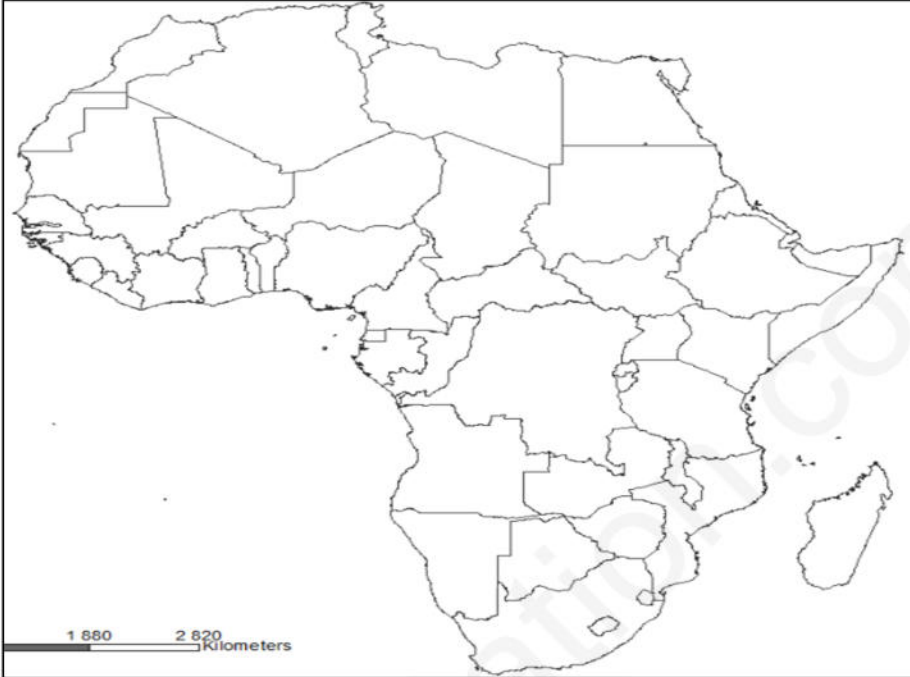
(5) أكمل الجدول الآتي: 1.5

الكاميرون/ مصر/ الهند/ تشاد/ السودان/ نيجيريا/ النيجر/ تونس/ الأردن/ جنوب إفريقيا/ الصومال/ سوريا/ الرأس الأخضر/ نيجيريا/ مدغشقر/ المغرب/ غانا/ تنزانيا

مستعمرات فرنسية

مستعمرات بريطانية

(6) وقع على الخريطة: 03 دول من المستعمرات الفرنسية و 03 دول من المستعمرات البريطانية: 1.5



الجزء الثاني: 04 نقاط (...وترجع عصبة الأمم التي يرجع الفضل الأكبر في ظهورها إلى الرئيس ولسون...عاملا آخر سمح بإيجاد علاقات جديدة تختلف عن العلاقات السابقة التي كانت تربط مستعمر بمستعمراته... أما العلاقات الجديدة أصبحت مقيدة بالأهداف ومحددة بالمواعيد حسب مواثيق العصبة..) بالتصرف

المطلوب: انطلاقا من الفقرة و بناءا على ما درست أكتب فقرة تشرح فيها: مختلف الظروف التي جاءت فيها موجة الكفاح التحرري.

ثانوية الحكيم الزروالي * سيق *		الفرض الثاني للثلاثي الأول في التاريخ والجغرافيا			السنة الثانية & آداب ولغات				
الجغرافيا		الجزء الأول:			A				
التنمية البشرية		06 قاط			03				
الاتحاد الإفريقي									
الموقع الاستراتيجي									
6) أكمل الفقرة بتوظيف المصطلح المناسب : 03									
العالم المتقدم	الشرق الإفريقي	أطلسي	العالم الثالث	الاتحاد الأوروبي	القاري	تونس و ليبيا	الاتحاد الإفريقي	الشمال الإفريقي	المحلي
إفريقيا و آسيا	المالي و النيجر	07 دول	الخارجي	الأمم المتحدة	متوسطي	العالم الخارجي	أوروبا و إفريقيا	الاتحاد العربي	08 دول
ترتبع الجزائر على موقع جيو سياسي مميز ، إذ تربط قاريا بين و و تطل على شريط ساحلي هام جدا. و بحكم اتساعها على مساحة 2381741 كلم2 فان حدودها الجغرافية مع دول تسمح لها بأن تتحكم في طرق المواصلات بين الشرق و الغرب و أيضا من الشمال نحو كل من و علما أنها تتوسط بلدان..... .									
و بالتالي هذه الأهمية تكسب الجزائر مكانة دبلوماسية عالية على الصعيد إفريقيا و عالميا ، خصوصا في منظمات الإقليمية ك و بدورها فعالية واضحة في القضايا العالمية بين دول العالم..... و تكنات اقتصادية مثل									

الجزء الثاني: 04 قاط

" أعطى الموقع الجغرافي والفلكي للجزائر مميزات خاصة من حيث الأهمية ، وأكسبها جملة من الخصائص الطبيعية كان لها الأثر الكبير في توزيع وكثافة السكان ، بل وفي نشاطهم ، كما أن موقعها الاستراتيجي أهلها لأن تلعب أدوارا هامة بمختلف الأبعاد الإقليمية والعالمية ... " كتاب الجغرافيا للسنة الثانية ثانوي - بصرف -
المطلوب : انطلقا من الفقرة و بناءا على ما درست أكتب فقرة تشرح فيها :

أمثلة واقعية عن العلاقة بين الوسطين الطبيعي و البشري في الجزائر .

الاسم واللقب	النقطة:
--------------	---------

(7) اشرح ما يلي: 03

المقاومة الرسمية

حق تقرير المصير

جمال الدين الأفغاني

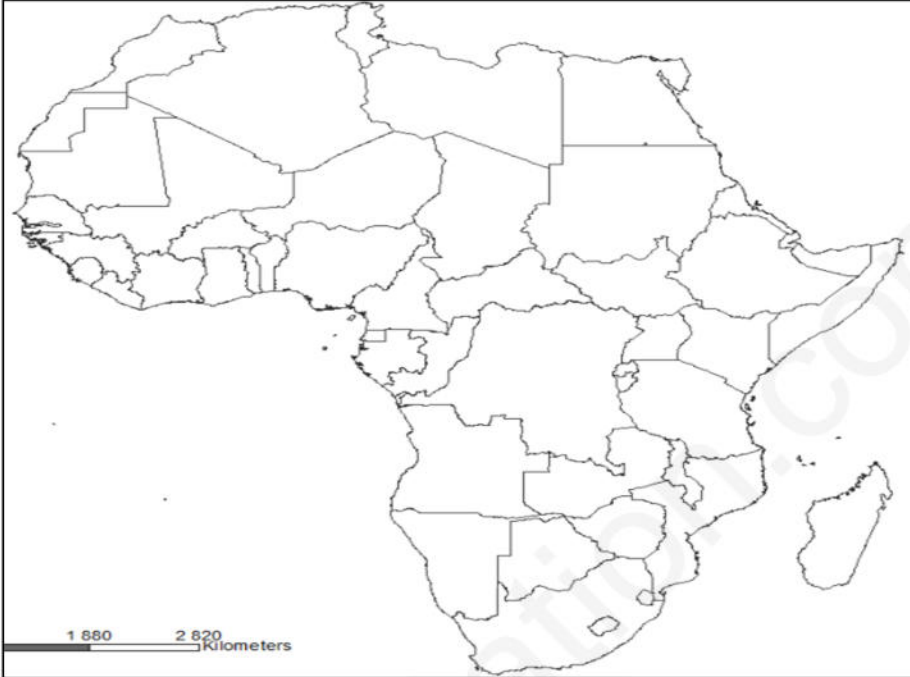
(8) أكمل الجدول الآتي: 1.5

الكاميرون/ مصر/ الهند/ تشاد/ السودان/ نيجيريا/ النيجر/ تونس/ الأردن/ جنوب إفريقيا/ الصومال/ سوريا/ الرأس الأخضر/ نيجيريا/ مدغشقر/ المغرب/ غانا/ تنزانيا

مستعمرات فرنسية

مستعمرات بريطانية

(9) وقع على الخريطة: 03 دول من المستعمرات الفرنسية و 03 دول من المستعمرات البريطانية: 1.5



الجزء الثاني: 04 نقاط (...وترجع عصبة الأمم التي يرجع الفضل الأكبر في ظهورها إلى الرئيس ولسون...عاملا آخر سمح بإنجاد علاقات جديدة، تختلف عن العلاقات السابقة التي كانت تربط مستعمر بمستعمراته... أما العلاقات الجديدة أصبحت مقيدة بالأهداف ومحددة بالمواعيد حسب موثيق العصبة..) بالتصرف

المطلوب: انطلاقا من الفقرة و بناءا على ما درست أكتب فقرة تشرح فيها: **مختلف الظروف التي جاءت فيها موجة الكفاح التحرري.**