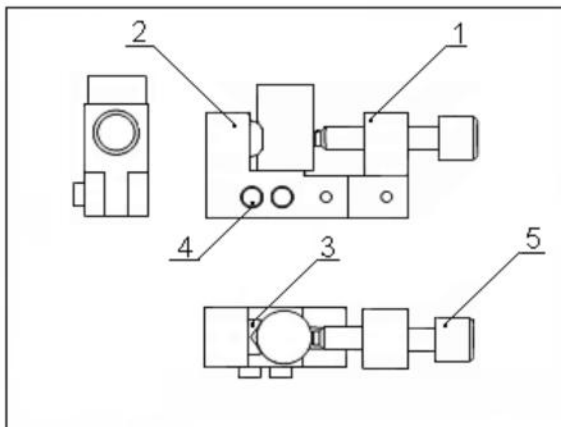

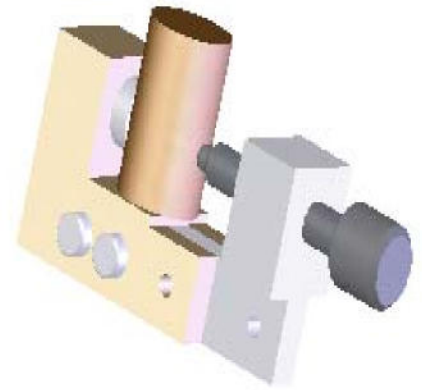
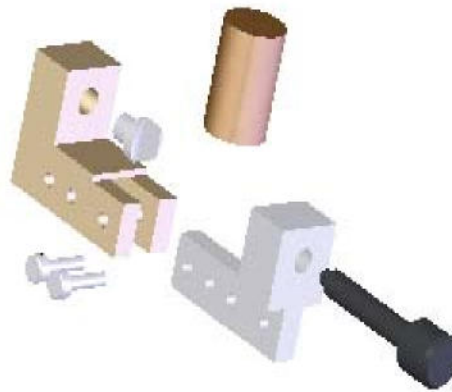
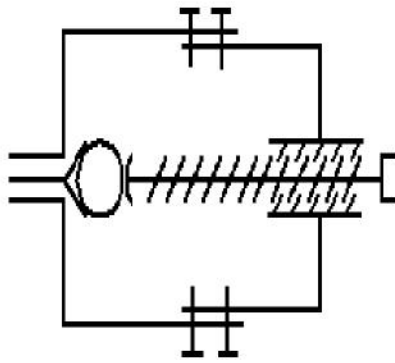


التمرين الاول صنف المؤسسات التالية حسب طبيعتها(ضع العلامة X في الخانة المناسبة)

مركب تركيب السيارات	مركب الاسمنت	شركة التصدير و الاستيراد	دكاكين	صيدلية	وكالة موبليس	
						مؤسسات خدمتية
						مؤسسات تجارية
						مؤسسات إنتاجية

النمرين الثاني اكتب تحت كل رسم من الرسومات اسم الرسم التقني المناسب



رقم	عدد	تعيينات	مادة	ملاحظات
5	1	برغي تشهيل	C22	
4	2	ساق	C22	
3	1	محور	C22	
2	1	جسم 1	S235	
1	1	جسم 2	C22	
رقم		عدد	تعيينات	مادة
2:1		مربط المركزة		ملاحظات
2:1		مربط المركزة		ملاحظات
2:1		مربط المركزة		ملاحظات

