

الإختبار الثلاثي الثاني في مادة التكنولوجيا

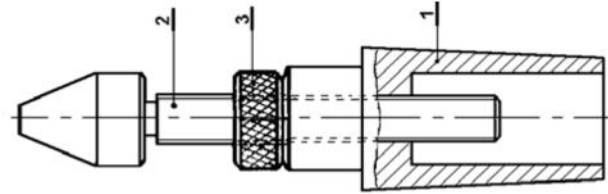
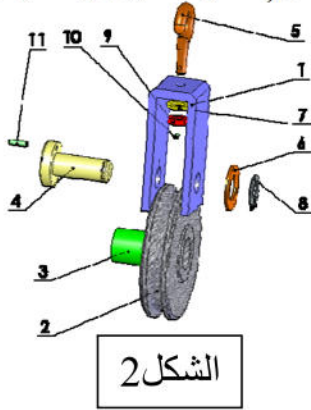
- فرع هندسة ميكانيكية - المدة الزمنية: ساعة

اللقب: الإسم: القسم:

التمرين الأول :

ضع علامة X في المكان المناسب :

- 1 - التكنولوجيا هي : التقنيات مؤسسة على مبادئ علمية .
 الوسائل والاختراعات المتطورة التي تلبي حاجة الإنسان .
 معارف علمية .
- 2 - المؤسسة هي مجموعة الموارد البشرية والمادية ، ضيف إلى هذا التعريف حتى يكون تاما إحدى المعاني التالية:
 أن تكون لها إدارة منظمة
 أن يكون لها ربح .
 أن يكون لها رأس مال
- 3- من بين ما تنتجه المؤسسة البكرات المستعملة في آبار المياه و بعض أعمال البناء. (أنظر الشكل 1 و الشكل 2)

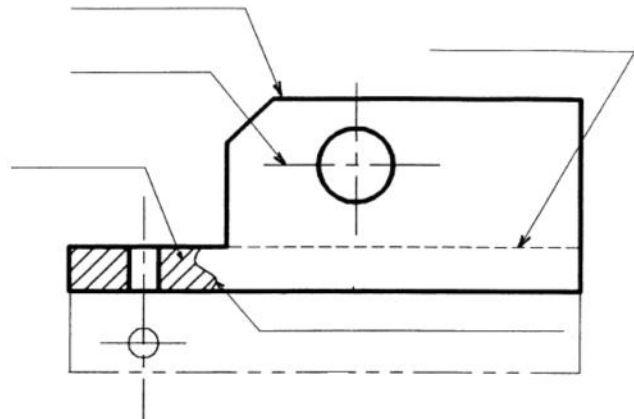


- ما نوع هذه الرسومات ؟

الشكل -1- :

الشكل -2- :



4- سم الخطوط المشار إليها في الرسم .



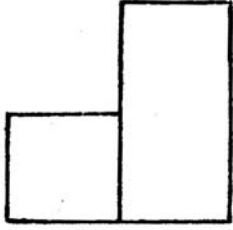
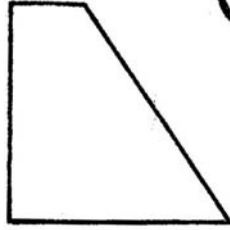
التمرين الثاني:

• أكتب أسماء المساقط في الأشكال الأربعة .

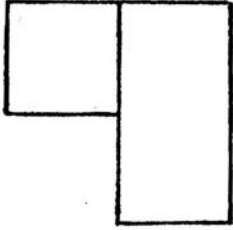

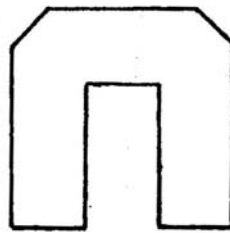

1



2




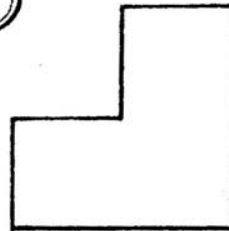
1



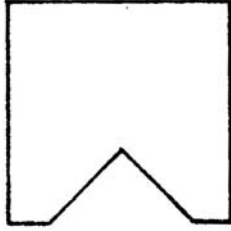
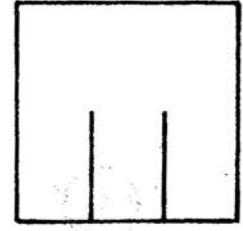

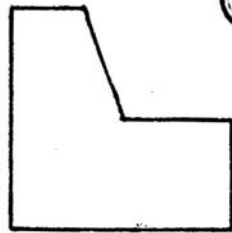
الشكل 1

الشكل 2

3



4



الشكل 3

الشكل 4