

## اختبار الفصل الثاني

### التمرين الأول:

اختر للعبارات التالية الجواب أو الأجوبة الموافقة مع العلم أن الإجابة الخاطئة تنفي الإجابة الصحيحة في نفس السؤال.

1) الخلية وحدة بنيوية للكائنات الحية لأنه مهما تنوعت الكائنات الحية فإنها تخضع لنفس النمط البنيوي:

أ- غشاء هيولي يحيط بهيولي تسبح فيها المادة الوراثية.

ب- غشاء هيولي يحيط بهيولي تسبح فيها النواة.

ج- غشاء هيولي يحيط بهيولي يسبح فيها كروموزوم حلقي.

2) تتميز الكائنات حقيقيات النواة بـ:

أ- غلاف نووي يحيط بالمادة الوراثية.

ب- عضيات كالجسيم المركزي والصانعات الخضراء.

ج- أنها كائنات حية متعددة الخلايا.

3) يتكوّن الصبغيّ من:

أ- من ADN وهيستونات عند بدائيات النواة.

ب- من ADN فقط عند حقيقيات النواة.

ج- من ADN وهيستونات عند حقيقيات النواة.

د- من ADN فقط عند بدائيات النواة.

4) يساهم الانقسام المنصف في التنوع البيولوجي عبر:

أ- الافتراق العشوائي للصبغيات في المرحلة الإستوائية I .

ب- الافتراق العشوائي للصبغيات في المرحلة الاستوائية II .

ج- الافتراق العشوائي للصبغيات في المرحلة الانفصالية .

د- الالتقاء العشوائي للصبغيات .

5) عدد القواعد الأزوتية في قطعة ADN يبلغ طولها 6.8 نانومتر، وتحتوي على 51 رابطة هيدروجينية :

أ-  $A=T=9$  و  $G=C=11$

ب-  $A=T=11$  و  $G=C=9$

ج-  $A=T=8$  و  $G=C=10$

د-  $A=T=10$  و  $G=C=8$

6) الإلقاء :

أ- هو الالتقاء العشوائي للأمشاج الذكورية والأنثوية أحادية الصيغة الصبغية.

ب- يؤدي للحصول على بويضة ملقحة (مخصبة) ذات صيغة صبغية ثنائية.

ج- اتحاد مشيج ذكري مع مشيج أنثوي للحصول على بويضة ملقحة.

7) في قطعة من جزيئة ال ADN مكونة من 24 قاعدة آزوتية حيث  $C+G:A+T=1.4$  ، يكون عدد القواعد :

أ-  $T=A=6$  و  $C=G=8$  و  $T=A=5$  و  $C=G=7$

ب-  $T=A=8$  و  $C=G=6$  و  $T=A=7$  و  $C=G=5$

8) تعطي الإماهة الكلية لل ADN :

أ- أربعة أنواع من النيكلوتيدات : نيكلوتيدة الأدينين ، نيكلوتيدة السيتوزين ، نيكلوتيدة العوانين و نيكلوتيدة الغوانين .

ب- أربع قواعد آزوتية A،C،T،G، حمض الفوسفوريك  $H_3PO_4$  و سكر خماسي منقوص الأكسجين  $C_5H_{10}O_4$ .

## التمرين الثاني:

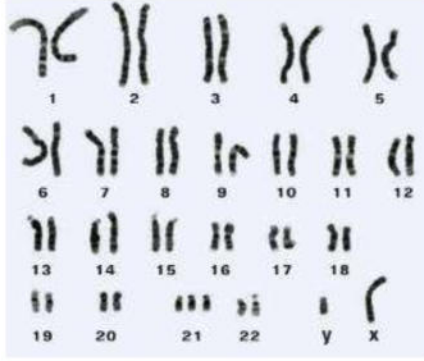
تنتقل المعلومات الوراثية عبر الأجيال بفضل آليات بيولوجية جد منظمة، لكن حدوث أي خلل في هذا النظام يؤدي إلى اضطرابات عديدة، ندرس فيما يأتي أحد الأمثلة لذلك.

## الجزء الأول:

متلازمة داون أو المنغولية هي مجموعة من الصفات الجسدية والنفسية الناتجة عن مشكلة أثناء تشكّل الأعراس عند أحد الأبوين، يتميز المصابون بمتلازمة داون (المنغولية) بلامح خاصة وغالبا ما يعانون من تخلف عقلي بدرجة معينة، لمعرفة أسباب هذه المتلازمة تقترح عليك الوثيقة (1) حيث:

. يمثل الشكل (أ) صورة لطفل مصاب بمتلازمة داون.

. يمثل الشكل (ب) الطابع النووي لخلية جسمية لشخص مصاب بمتلازمة داون.



الشكل (ب)



الشكل (أ)

الوثيقة (1)

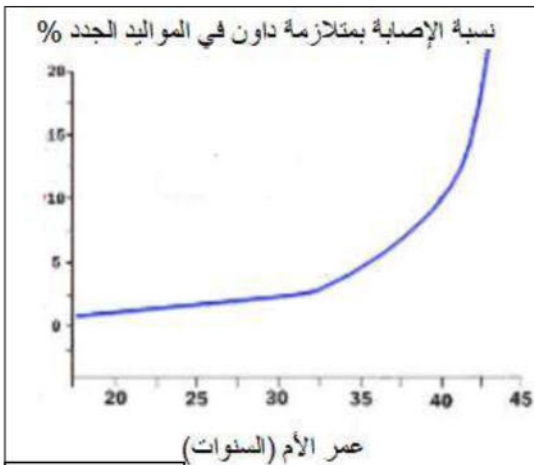
باستغلال نتائج الوثيقة (1):

- 1) حدّد الصبغة الصبغية للخليّة الجسميّة للشخص المصاب بمتلازمة داون.
- 2) اقترح فرضيّة تفسّر بها سبب متلازمة داون.

### الجزء الثاني:

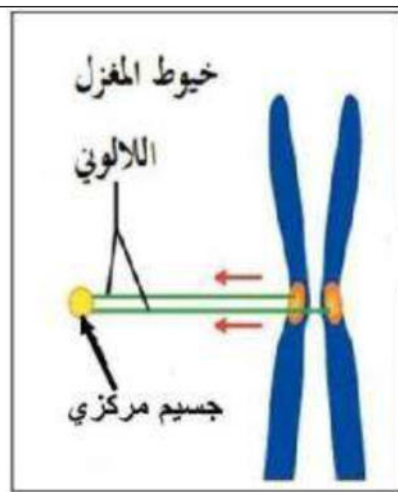
للتعرّف على الخلل المسبّب لمتلازمة داون وبعض العوامل التي تزيد فرص الإصابة بها نقترح عليك الوثيقة (2) حيث:

- 1) يوضّح الشكل (1) الطّابع النّوّي لبويضة ينتج عن إلقاحها فرد جديد مصاب بمتلازمة داون.
- 2) يوضّح الشكل (2) رسم تخطيطي يوضّح الشّدوذ في سلوك الصبغيات أثناء الانقسام المنصف.
- 3) يوضّح الشكل (3) إحصائيات لنسبة الأطفال المصابين بمتلازمة داون من أمّهات مختلفه الأعمار.

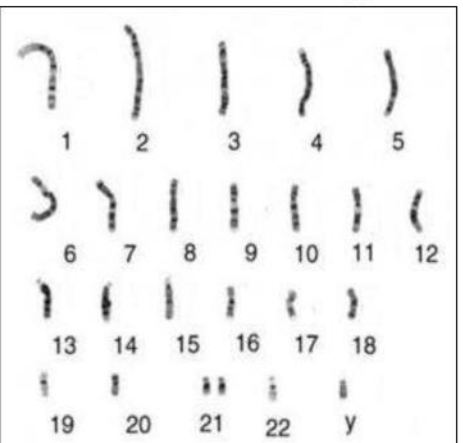


الوثيقة (2)

الشكل (3)



الشكل (2)



الشكل (1)

1) باستغلال أشكال الوثيقة (2) فسّر سبب ظهور متلازمة داون ثمّ راقب فرضياتك المقترحة.

### الجزء الثالث:

مثّل برسم تخطيطي مراحل تشكّل البويضة التي تؤدّي إلى ظهور متلازمة داون (نكتفي بتمثيل صيغة صبغية مختصرة  $2n=4$ ).

بالتّوفيق للجميع

التَّارِيخُ: 2022/03/13

المُدَّة: 02 سَا

المادَّة: العلوم الطبيعية

المستوى: 2 ع ت

## تصحيح اختبار الفصل الثاني

التمرين الأول:  $7.5 = (7 و 5) \times 0.5 = 5.5 + 2 \cdot 11$

1. أ. 2 / أ. 1 ، ب. 3 / ج. د / 4. أ. ، ج. 5 / أ. 6 ، ب. ، ج. 7 / ب. 8 / ب.

التمرين الثاني:

الجزء الأول:

1. استغلال نتائج الوثيقة (1) لتحديد الصيغة الصبغية للخلية الجسمية للشخص المصاب بمتلازمة داون :  
- يمثل الشكل (أ) صورة لطفل مصاب بمتلازمة داون حيث تظهر عليه مجموعة من الصفات الجسدية وملامح مميزة. 0.5

- أما الشكل (ب) فيمثل الطابع النووي لخلية جسمية لشخص مصاب بمتلازمة داون حيث نلاحظ أن الخلية تتكون من 21 زوج من الصبغيات الجسمية المتماثلة مثنى وثلاثية من الصبغي رقم 21 بالإضافة إلى زوج الصبغي الجنسي (XY)، ما يدل أن الأشخاص الذين يعانون من متلازمة داون يملكون ملامح مميزة لإمتلاكهم صبغي رقم 21 إضافي (أي لديهم ثلاثية من الصبغي 21). 1

الإستنتاج: الصيغة الصبغية للخلية الجسمية للأشخاص المصابون بمتلازمة داون  $2n = 47 \cdot 0.75$   
2. فرضية لتفسير سبب متلازمة داون:

سبب متلازمة داون وجود ثلاثية من الصبغي رقم 21، ناتجة عن اتحاد نطفة عادية ب  $n = 23$  صبغي وبويضة غير عادية  $n = 24$  صبغي ناتجة عن حدوث خلل في المرحلة الانفصالية II من الانقسام المنصف حيث ينشط الجزء المركزي وتهاجر الكروماتيدات الأختان للصبغي 21 لنفس القطب فتنتج خلية جنسية بصبغي إضافي  $n = 24$  وأخرى بصبغي ناقص  $n = 22$ . 1

الجزء الثاني:

1 - استغلال أشكال الوثيقة (2) لتفسير سبب ظهور متلازمة داون:

الشكل (1): يمثل الطابع النووي لبويضة ينتج عن إلقاحها فرد جديد مصاب بمتلازمة داون ، حيث نلاحظ أن الصيغة الصبغية لهذه البويضة  $n = 24$  كما نلاحظ أنها تحتوي على نسخة واحدة من كل صبغي إلا الصبغي رقم 21 فتوجد له نسختين. 1

الشكل (2): يمثل رسم تخطيطي يوضح الشذوذ في سلوك الصبغيات أثناء الإنقسام المنصف ، حيث نلاحظ صبغي مرتبط بخيوط للمغزل اللالوني ، و يظهر الجزء المركزي منشطر لكن خيوط المغزل تسحب

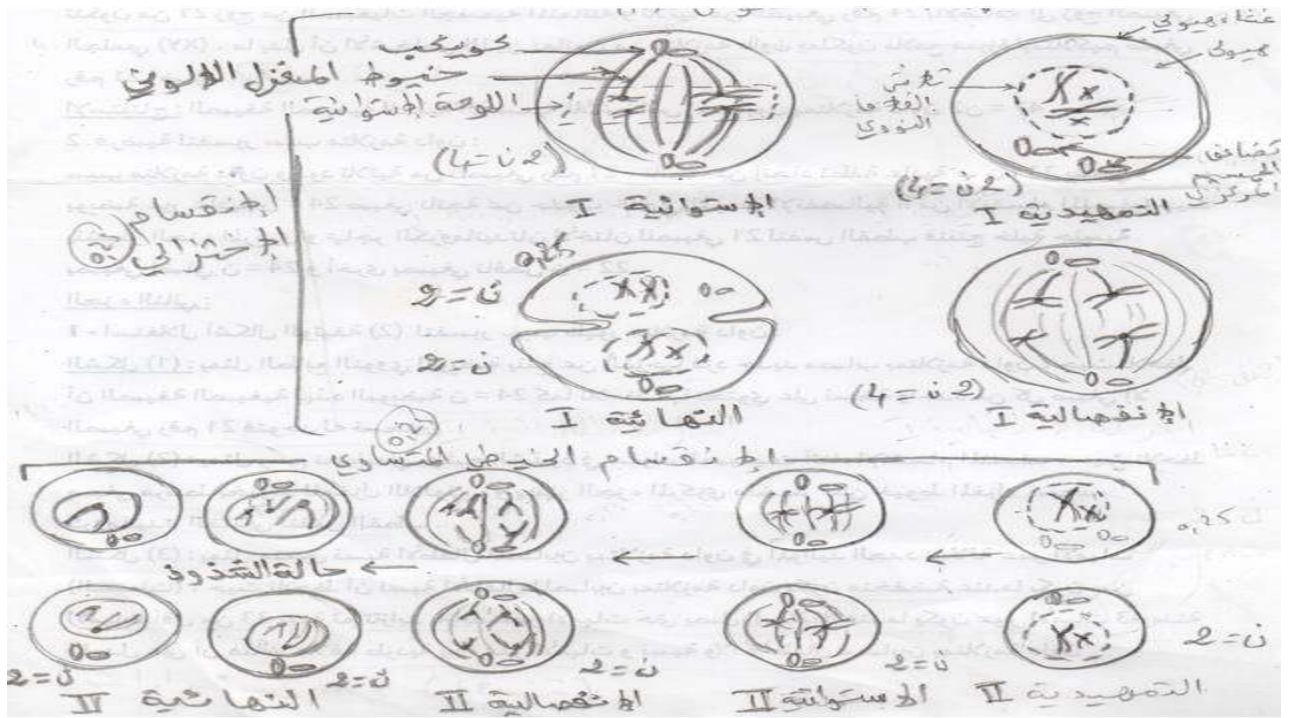
## كروماتيدتا الصبغي لنفس القطب. 1

الشكل (3): يمثل منحى نسبة الأطفال المصابين بمتلازمة داون في المواليد الجدد بدلالة عمر الأمهات (السنوات)، حيث نلاحظ أن نسبة الأطفال المصابين بمتلازمة داون تكون منخفضة عندما يكون سن الأمهات أقل من 33 سنة ثم تتزايد بتزايد عمر الأمهات حتى يصل إلى 20% عندما يكون عمر الأمهات 43 سنة ما يدل على أن هناك علاقة طردية بين عمر الأمهات و نسبة ولادة أطفال مصابين بمتلازمة داون إبتداء من سن معين (33 سنة). 1

- إذن يعود سبب ظهور متلازمة داون لحدوث شذوذ في سلوك الصبغيات أثناء المرحلة الانفصالية II من الانقسام المنصف خلال تشكل البويضات حيث تنفصل كروماتيدتا الصبغي رقم 21 بعد انشطار الجزء المركزي لكن تهاجران لنفس القطب فتتشكل بويضات غير طبيعية تتكون من 24 صبغي حيث زوج من هذه الصبغيات رقم 21 وأخرى من 22 لا تحتوي على الصبغي 21 ويحدث هذا الشذوذ في سلوك الصبغيات عند الأمهات التي يبلغ سنهم أكثر من 35 سنة، حيث عند اتحاد هذه البويضات بنطفة ب 23 صبغي يولد طفل مصاب بمتلازمة داون. 1.5

و هذا ما يؤكد صحة الفرضية المقترحة في الجزء الأول " سبب متلازمة داون وجود ثلاثية من الصبغي رقم 21، ناتجة عن اتحاد نطفة عادية ب ن=23 صبغي و بويضة غير عادية ن = 24 صبغي ناتجة عن حدوث خلل في المرحلة الانفصالية II من الانقسام المنصف حيث ينشطر الجزء المركزي تهاجر الكروماتيدتان الأختان للصبغي 21 لنفس القطب فتنتج خلية جنسية بصبغي إضافي ن = 24 و أخرى بصبغي ناقص ن = 22 ". 0.5

## الجزء الثالث:



رسم تخطيطي لمراحل تشكل البويضة التي تؤدي إلى ظهور متلازمة