

اختبار الفصل الأول في مادة : علوم الطبيعة و الحياة للسنوات الرابعة متوسط

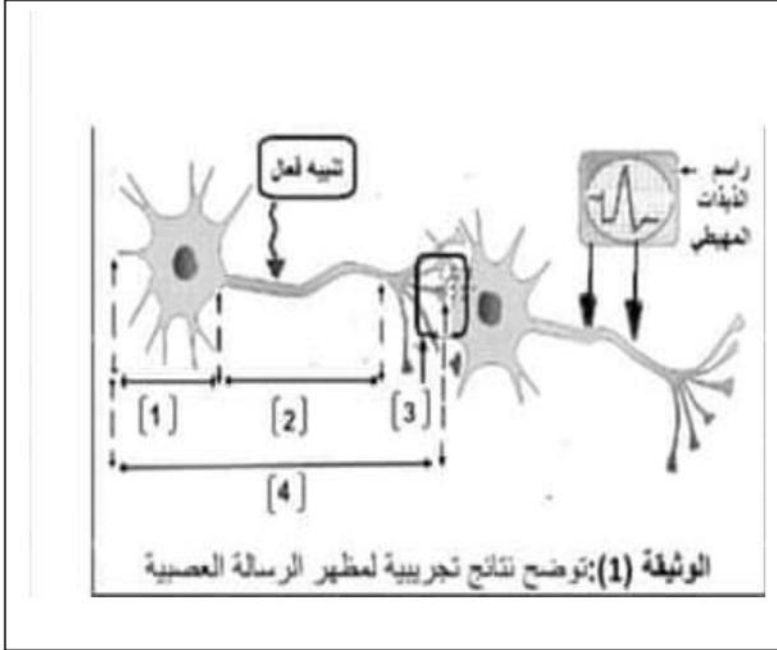
الجزء الأول (12 نقطة)التمرين الأول (06 نقاط)

لتحديد مظهر الرسالة العصبية على مستوى

الوحدة البنائية للجهاز العصبي اليك النتائج

التجريبية الموضحة في الوثيقة المقابلة

- 1- سم البيانات المرقمة ثم حدد مظهر الرسالة العصبية على مستوى العنصر 2 مبررا اجابتك .
- 2- العنصر 1 و العنصر 2 أيهما يشكل المادة الرمادية و أيهما يشكل المادة البيضاء .

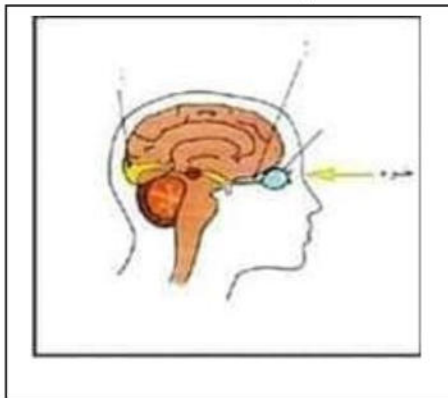
التمرين الثاني (06 نقاط)

لغرض تحديد الأعضاء المتدخلة في الأنشطة الحسية للعضوية اليك نتائج التجارب التالية

على مجموعة أرناب

الوثيقة 1 : جدول يوضح نتائج التجارب

التجارب الأرناب 3	التجربة 2 الأرناب 2	التجربة 1 الأرناب 1	التجارب
تخريب كل المراكز البصرية	قطع العصب البصري للعين اليمنى	نزع العين اليمنى	الخطوات
يصاب بالعمى رغم سلامة العينين	فقدان البصر بالعين اليمنى رغم سلامتها	يرى فقط بالعين اليسرى	النتائج



الوثيقة 2

اقلب الصفحة

الجزء الثاني (وضعية ادماج) (08 نقاط)

يعاني سكان العلم دون استثناء من مشاكل صحية غير معدية مرتبطة أساسا بالتغذية قد تحدث اضطرابات في الأنبوب الهضمي أو أمراضا تعرف بأمراض سوء التغذية .

- ✓ يعاني أحمد من نخر الأسنان
- ✓ يعاني خالد من الامساك
- ✓ تعاني ليلى من شحوب في الوجه و ضيق في التنفس

السندات :

الوثيقة 1 : النظام الغذائي للأطفال الثلاثة

ألياف السيليلوز	الحديد	السكريات	البروتينات	الدهن	
++	++	++++	+++	+++	أحمد
--	++	++	++	++	خالد
++	--	++	++	++	ليلى

++++ كبيرة جدا / +++ كمية كبيرة / ++ كمية مناسبة / -- لا توجد

الوثيقة 2



النخر: هدم جزئي للسن عن طريق الأحماض التي تفرزها البكتيريا الموجودة في الفم. بسبب عدم الانتظام في الوجبات (الأكل في كل وقت)

الوثيقة 3

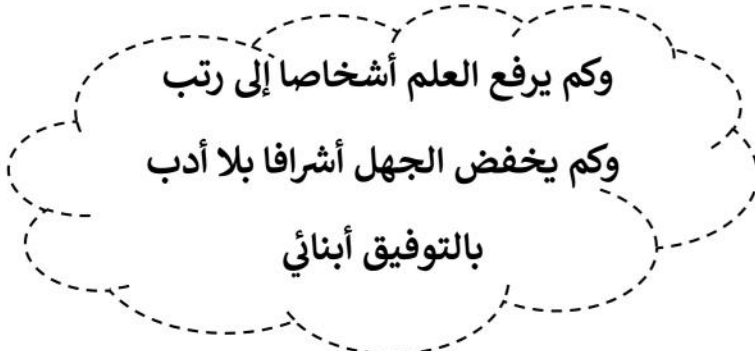
أعراض فقر الدم: شحوب واصفرار لون البشرة، صعوبة في التنفس أثناء النشاط وتعب شديد.
- الحديد عنصر أساسي في تركيب الهيموغلوبين.

الامساك: جفاف الفضلات في المعى الغليظ ، يتسبب في الإصابة بعدة أمراض.
أسبابه: وجبات فقيرة من الألياف الموجودة في الخضار و الفواكه.

التعليمات:

معتمدا على السندات و مكتسباتك أجب عما يلي :

- 1- قدم أسباب الحالات المرضية عند أحمد و خالد و ليلى .
- 2- فسر الأعراض التي ظهرت على ليلى .
- 3- قدم نصيحتين مبررتين علميا لزملائك لتفادي هذه الأمراض .



الاجابة النموذجية وسلام التنقيط

الاختبار الأول

مستوى : س 4م

العلامة		عناصر الاجابة	محاور الموضوع								
المجموع	مجزأة										
06	02	<p>1- تسمية البيانات :</p> <p>1-الجسم الخلوي 2-ليف عصبي 3-مشبك 4-عصبون</p> <p>مظهر الرسالة العصبية : هي من طبيعة كهربائية</p> <p>التبرير : لأنها تنتقل في شكل اشارات كهربائية يمكن تسجيلها بجهاز راسم الذبذبات المهبطي</p> <p>2- تحديد العناصر المشكلة للمادة الرمادية و المشكلة للمادة البيضاء : العنصر 1 أي الأجسام الخلوية هي التي تشكل المادة الرمادية</p> <p>العنصر 2 أي الألياف العصبية هي التي تشكل المادة البيضاء</p>	التمرين الأول								
	01										
	01										
06	03	<p>01-تفسير النتائج :</p> <table border="1"> <thead> <tr> <th>التفسير</th> <th>التجربة</th> </tr> </thead> <tbody> <tr> <td>يرى بالعين اليسرى فقط لأن العين اليمنى منزوعة و هي عبارة عن عضو حسي يستقبل المنبهات الخارجية</td> <td>1</td> </tr> <tr> <td>فقدان البصر بالعين اليمنى لأن عصبها البصري مقطوع و هو المسؤول عن نقل الرسالة العصبية الحسية</td> <td>2</td> </tr> <tr> <td>يصاب بالعمى رغم سلامة العينين لأن كل المراكز العصبية مخربة و هي المسؤولة عن ترجمة و معالجة الرسائل العصبية الحسية الواردة من العينين</td> <td>3</td> </tr> </tbody> </table> <p>02-أ- استخلاص الأعضاء المتدخلة في حدوث الأنشطة الحسية :</p> <p>العضو الحسي (المستقبلات الحسية) ناقل حسي (عصب حي) المركز العصبي المخ (المراكز العصبية الحسية)</p> <p>ب-تمثيلها بمخطط :</p> <div style="display: flex; align-items: center; justify-content: center;"> <div style="border: 1px solid black; padding: 5px; margin-right: 10px;">المنبه</div> <div style="border: 1px solid black; padding: 5px; margin-right: 10px;">عضو حسي</div> <div style="border: 1px solid black; padding: 5px; margin-right: 10px;">عصب حسي</div> <div style="border: 1px solid black; padding: 5px;">مركز حسي</div> </div> <p style="text-align: center;">اتجاه الرسالة العصبية الحسية</p> <p>العنوان : مخطط للأعضاء المتدخلة في وظيفة حسية</p>	التفسير	التجربة	يرى بالعين اليسرى فقط لأن العين اليمنى منزوعة و هي عبارة عن عضو حسي يستقبل المنبهات الخارجية	1	فقدان البصر بالعين اليمنى لأن عصبها البصري مقطوع و هو المسؤول عن نقل الرسالة العصبية الحسية	2	يصاب بالعمى رغم سلامة العينين لأن كل المراكز العصبية مخربة و هي المسؤولة عن ترجمة و معالجة الرسائل العصبية الحسية الواردة من العينين	3	التمرين الثاني
	التفسير		التجربة								
	يرى بالعين اليسرى فقط لأن العين اليمنى منزوعة و هي عبارة عن عضو حسي يستقبل المنبهات الخارجية		1								
فقدان البصر بالعين اليمنى لأن عصبها البصري مقطوع و هو المسؤول عن نقل الرسالة العصبية الحسية	2										
يصاب بالعمى رغم سلامة العينين لأن كل المراكز العصبية مخربة و هي المسؤولة عن ترجمة و معالجة الرسائل العصبية الحسية الواردة من العينين	3										
01.50											
01.50											

الوضعية الإدماجية

السؤال	المعيار	شبكة التقويم المؤشرات	العلامة	المجموع
س1	الوجاهة	عدم الخروج عن منطوق السؤال	0.50	04
	استعمال أدوات المادة	استعمال الوثائق الثلاثة	0.50	
	الانسجام	يعاني أحمد من نخر الأسنان لأنه يأكل في كل وقت و خاصة السكريات فيصبح الفم حامضي وهذا يؤدي الى هدم جزئي للسن يعاني خالد من الامساك لأن غذاءه فقير من الألياف فالألياف تساعد على تمرير الفضلات في المعى الغليظ تعاني ليلى من شحوب الوجه و ضيق في التنفس لأنها مصابة بفقر الدم وذلك بسبب غذاء فقير من الحديد	03	
س2	الوجاهة	عدم الخروج عن منطوق السؤال	0.50	02
	استعمال أدوات المادة	استعمال السند 3	0.50	
	الانسجام	الشحوب بسبب نقص في الكريات الدموية الحمراء و الهيموغلوبين الذي ينعكس لونهم على البشرة ضيق التنفس لأن الكريات الدموية الحمراء هي المسؤولة عن نقل الغازات التنفسية	01	
س3	الوجاهة	تقديم نصحتين	0.25	01.50
	استعمال أدوات المادة	استعمال الوثيقتين 2 و 3	0.25	
	الانسجام	تجنب القضم المستمر احترام شروط الراتب الغذائي	01	
الاتقان		عدم التشطيب و احترام تسلسل الأسئلة	0.50	