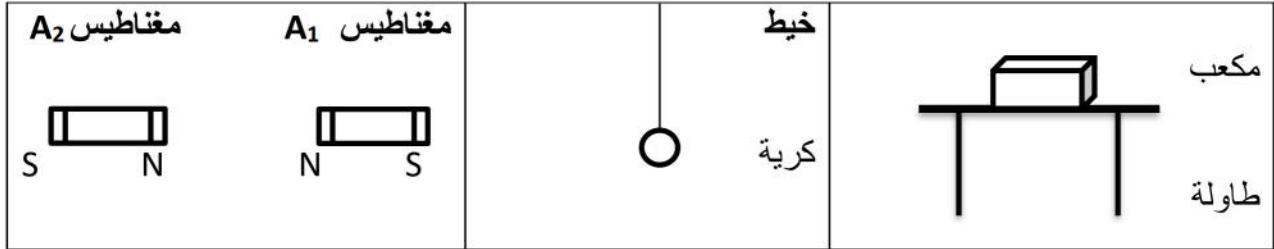


المتوسطة : الشهيد: علي شخشوخ. برج الغدير	فرض الثلاثي الثاني في مادة العلوم الفيزيائية والتكنولوجيا	المدة: 45 دقيقة
المستوى : السنة الرابعة متوسط		السنة الدراسية : 2021-2020

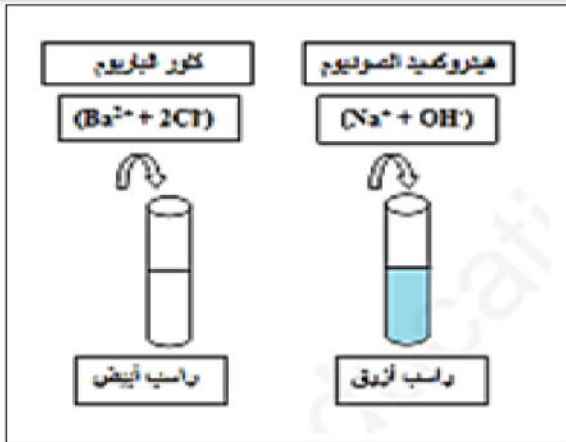
لوضعية الثانية(08ن):

تتبادل كل جملتين ميكانيكيتين مبينتين في كل شكل أفعالا ميكانيكية متنوعة



- 1) أكتب نص مبدأ الفعلين المتبادلين بين جملتين ميكانيكيتين (A) و (B)
- 2) حدد على كل جملتين الفعلين الميكانيكيين المتبادلين بشعاعي قوة مع تحديد رمز كل شعاع على الشكل $F_{A/B}$ و احترام الخصائص الأربعة لكل شعاع (-المبدأ - الحامل - الاتجاه - الطويلة مقارنة بالشعاع الذي يبادله الفعل)
- 3) سم نوع كل فعلين متبادلين بين الجملتين ميكانيكيتين في كل شكل

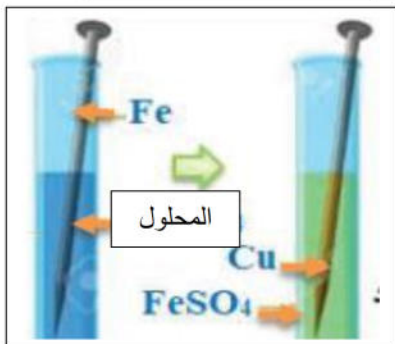
الوضعية الثانية(12ن):



نريد مخبريا الكشف عن الشوارد المشكلة لمحلول مائي أزرق اللون يستعمله فلاح لمعالجة بعض النباتات من بعض الأمراض الفطرية من أجل ذلك نستعمل قطرات من الكاشفين الموضحين أعلاه في الوثيقة فكانت الملاحظات كما هو أيضا مسجل أسفل كل أنبوب يحتوي ابتداء على المحلول الشاردي الأزرق اللون بسبب وجود شاردة معدنية مشهورة.

1) أكمل الجدول التالي بالاعتماد على الوثيقة المرفقة.

المحلول الشاردي الأزرق	الكاشف	الملاحظة	استنتاج
كمية منه في أنبوب 1	راسب	وجود شاردة	وجود شاردة
كمية منه في أنبوب 2	راسب	وجود شاردة	وجود شاردة



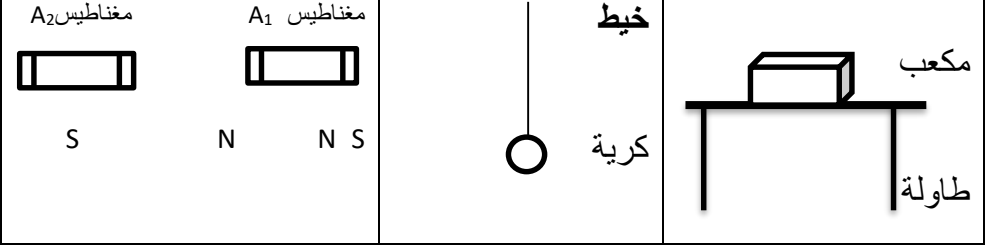
- 2) ما اسم المحلول المائي الشاردي الأزرق اللون
- 3) أكتب الصيغة الشاردية (..... ,) ثم الصيغة الاحصائية لهذا المحلول سكبت كمية من المحلول الأزرق في أنبوب اختبار يحتوي على مسمار من مادة الحديد وبعد مدة زمنية لاحظ التلاميذ
 - ✓ تشكل طبقة من الشعيرات الحمراء القرميدية على الجزء المغمور من المسمار الحديدي تتمثل في مادة النحاس
 - ✓ تحول المحلول أزرق اللون إلى محلول أخضر فاتح هو كبريتات الحديد الثنائي

- 4) ماهو مصدر النحاس المترسب على المسمار الحديدي؟ فسر بمعادلة التفاعل النصفية الأولى
- 5) ماهو مصدر شوارد الحديد الثنائية في المحلول الأخضر؟ فسر بمعادلة التفاعل النصفية الثانية
- 6) استنتج المعادلة الاجمالية المنمجة لهذا التفاعل بالصيغة الشاردية والاحصائية

بالتوفيق

متوسطة: الشهيد علي شخوخ برج الغدير	تصحيح نموذجي	المستوى: السنة الرابعة متوسط 2021...2020
الأستاذ: زاوي عبد الرزاق	فرض الثلاثي الثاني مادة العلوم الفيزيائية والتكنولوجيا	المدة الزمنية 45 دقيقة

الأجوبة النموذجية

م.ن	ن.مج	المحور																
	02	<p>الوضعية الأولى(08ن):</p> <p>(1) : مبدأ الفعلين المتبادلين: إذا أثرت جملة م (A) على جملة م (B) بقوة $F_{A/B}$ فإن الجملة (B) تؤثر على الجملة (A) بقوة $F_{B/A}$ تساويها في الشدة وتعاكسها في الاتجاه</p> $\vec{F}_{A/B} = -\vec{F}_{B/A}$																
	03	 <p>(2) تمثيل الفعلين الميكانيكيين المتبادلين بين كل جملتين بشعاعي قوة (3) نوع كل فعلين متبادلين بين الجملتين ميكانيكيتين في كل شكل - المكعب والطاولة: فعلين ميكانيكيين تلامسيين موزعين - الخيط و الكرة: فعلين ميكانيكيين تلامسيين موزعين - المغناطيسين: فعلين ميكانيكيين بعديين موزعين</p>																
	02	<p>لوضعية الادماجية(12ن):</p> <p>(1) أكمل الجدول بالاعتماد على الوثيقة المرفقة.</p> <table border="1" data-bbox="236 1122 1129 1384"> <thead> <tr> <th>المحلول الشاردي</th> <th>الكاشف</th> <th>الملاحظة</th> <th>استنتاج</th> </tr> </thead> <tbody> <tr> <td>الأزرق</td> <td>محلول NaOH</td> <td>راسب أزرق</td> <td>وجود شاردة Cu^{2+}</td> </tr> <tr> <td>كمية منه في أنبوب 1</td> <td>محلول BaCl₂</td> <td>راسب أبيض</td> <td>وجود شاردة SO_4^{2-}</td> </tr> <tr> <td>كمية منه في أنبوب 2</td> <td></td> <td></td> <td></td> </tr> </tbody> </table> <p>(2) المحلول المائي الشاردي الأزرق اللون i هو كبريتات النحاس (3) الصيغة الشارديّة هي: $(Cu^{2+} SO_4^{2-})$ الصيغة الاحصائية لهذا المحلول هي: $CuSO_4$</p> <p>(4) مصدر النحاس المترسب على المسام الحديدية هو شوارد النحاس الموجودة في المحلول الأول و المتحولة الى ذرات تفسير بمعادلة التفاعل النصفية الأولى: $Fe(s) \rightarrow Fe^{2+}(aq) + 2e^-$</p> <p>(5) مصدر شوارد الحديد الثنائية في المحلول الأخضر هي ذرات حديد المسام المتشردة تفسير بمعادلة التفاعل النصفية الثانية: $Cu^{2+}(aq) + 2e^- \rightarrow Cu(s)$</p> <p>(6) استنتج المعادلة الاجمالية الممنذجة لهذا التفاعل بالصيغة الشارديّة : $Fe(s) + (Cu^{2+}; SO_4^{2-})(aq) \rightarrow Cu(s) + (Fe^{2+}; SO_4^{2-})(aq)$ وبالصيغة الاحصائية: $Fe(s) + CuSO_4(aq) \rightarrow Cu(s) + FeSO_4(aq)$</p> <p>الاتقان و التمييز.....</p>	المحلول الشاردي	الكاشف	الملاحظة	استنتاج	الأزرق	محلول NaOH	راسب أزرق	وجود شاردة Cu^{2+}	كمية منه في أنبوب 1	محلول BaCl ₂	راسب أبيض	وجود شاردة SO_4^{2-}	كمية منه في أنبوب 2			
المحلول الشاردي	الكاشف	الملاحظة	استنتاج															
الأزرق	محلول NaOH	راسب أزرق	وجود شاردة Cu^{2+}															
كمية منه في أنبوب 1	محلول BaCl ₂	راسب أبيض	وجود شاردة SO_4^{2-}															
كمية منه في أنبوب 2																		
	05	