

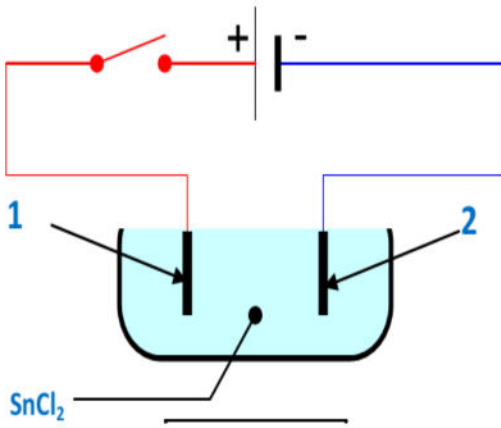
المدة: ساعة و نصف

اختبار في مادة: العلوم الفيزيائية والتكنولوجيا

الجزء الأول: (12 نقطة)

التمرين الأول: (06 ن)

نضع في وعاء محلولاً من كلور القصدير SnCl_2 ، الذي يتفكك كلياً في الماء إلى شوارد Sn^{2+} و شوارد Cl^- . نصل المسريين بقطبي مولد كهربائي وقاطعة (الشكل -01)، نلاحظ عند مرور التيار الكهربائي في المحلول ترسب معدن القصدير و انطلاق غاز الكلور .



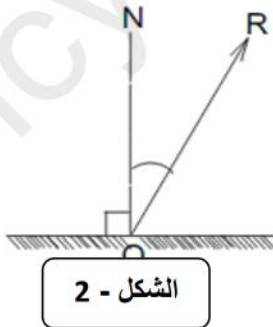
الشكل - 1

- (1) سم المسريين (1) و (2) .
- (2) حدد اتجاه انتقال كل من الشاردين Sn^{2+} و Cl^- .
- (3) اكتب المعادلة الكيميائية عند كل مسرى .
- (4) اكتب المعادلة الكيميائية الإجمالية لهذا التفاعل .

التمرين الثاني: (06 ن)

تستقبل مرآة مستوية (M) شعاعاً ضوئياً \vec{OI} من منبع ثابت ، فينعكس هذا الشعاع عند النقطة O مشكلاً مع الناظم ON زاوية \hat{i} قيمتها 20° ، كما هو مبين في الشكل (2).

- 1- مثل الشعاع الضوئي الوارد \vec{OI} عند النقطة O ، مع تحديد قيمة زاوية الورد \hat{i} .
- 2- ندير المرآة (M) بزاوية α في جهة دوران عقارب الساعة ، فيدور الشعاع المنعكس \vec{OR} بزاوية قدرها 10° عن وضعه السابق .



الشكل - 2

- أ- في أي جهة يدور الشعاع المنعكس؟
- ب- حدد قيمة الزاوية α .
- ج- أوجد قيمة زاوية الورد \hat{i} الجديدة.
- أعد رسم الشعاع المنعكس \vec{OR} والشعاع الوارد بعد تدوير المرآة.

الجزء الثاني: (08 نقاط)

الوضعية الإدماجية :

- أراد أحمد أن يكشف عن الطور لمأخذ التيار الكهربائي أطرافه A , B , T باستعمال جهاز الفولطمتر فتحصل على ما يلي :
- التوتر بين A , B يساوي 220V .
 - التوتر بين T , A يساوي 0V .
 - التوتر بين T , B يساوي 220V .

(1) حدد الطور باستعمال النتائج السابقة . اذكر أداة أخرى يمكنك من الكشف عن الطور؟

بعد إيصال المأخذ الكهربائي براسم الاهتزاز المهبطي تحصلنا على المنحنى الموضح في الشكل (3) :

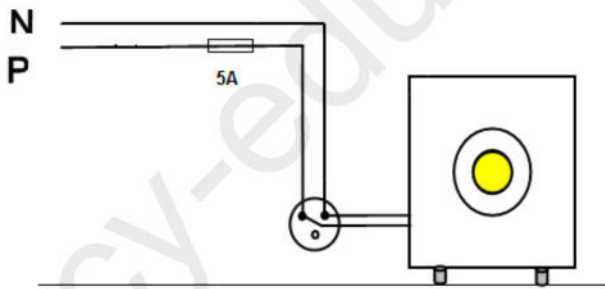
(2) احسب التوتر الأعظمي U_{max} ، التوتر الفعال U_{eff} ، الدور T و التواتر F .

أوصل أحمد جهاز كهربائي ذو هيكل معدني بالمأخذ الكهربائي كما هو مبين في الشكل(4)، لكنه لم يراعي شروط الأمن الكهربائي.

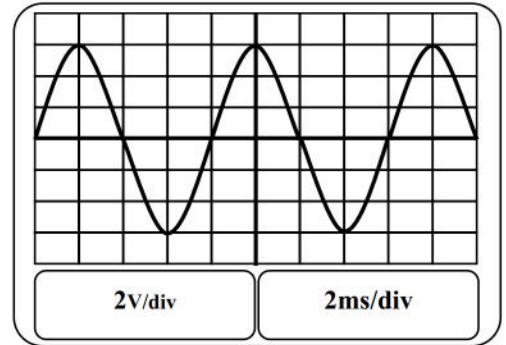
(3) ماهي التعديلات التي تراها مناسبة للتركيب من أجل سلامة الجهاز ومستعمله حيث انه مسجل على الجهاز القيمة (A10)؟ وضح ذلك على الشكل.

(4) مثل على نفس الرسم السابق قوة ثقل الجهاز الكهربائي إذا علمت أن كتلته تساوي 60 kg .

سلم الرسم: 1cm — 300N ، $g = 10N/Kg$



الشكل - 4



الشكل - 3