

إختبار الثلاثي الثاني لمادة الرياضيات

متوسطة بناني محمد الشريف

المدة: 2 ساعة

التاريخ: 05 مارس 2018

المستوى: السنة الثانية متوسط

التمرين الأول (3 نقاط):

أحسب كلاً من المجموعتين الجبريتين:

$$A = (-15) - (-11) - (+12) + (-13) + (+14)$$

$$B = (-5 + 1) + [(-2) - (-3 + 4) - (-2)] + (-3)$$

أحسب المسافة MN إذا علمت أن M و N نقطتان معلّتان على مستقيم مدرج حيث: $M(-27)$; $N(-10)$

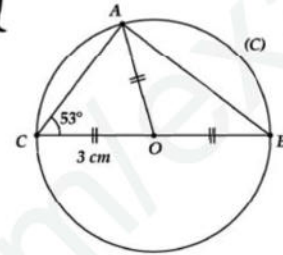

التمرين الثاني (3 نقاط):

أوجد قيمة العدد المجهول x في المعادلات الآتية مع توضيح طريقة الحساب:

$$\frac{7,5}{x} = 25 ; x - \frac{3}{7} = \frac{2}{7} ; 9 + x = -4$$

التمرين الثالث (5 نقاط):

(C) دائرة مركزها O ونصف قطرها 3 cm. [BC] قترنها.



أ) أعد رسم الشكل المقابل بأطواله الحقيقية.

ب) إستنتج قياس الزاوية \widehat{CAO} ثم احسب قياس الزاوية \widehat{COA}

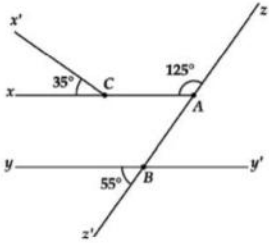
ج) أحسب \widehat{AOB} ثم احسب قياس الزاوية \widehat{OAB} .

د) حدد طبيعة المثلث ABC ؟

أطلب الأصغر

التمرين الرابع (3 نقاط):

استخرج من الشكل زاويتان متكاملتان و زاويتان متتامتان



أوجد قياس كل من: \widehat{xAz} , \widehat{zBy} .

هل (xA) و (yy') متوازيان؟ برر إجابتك.

الوضعية الإدماجية (6 نقاط):

ترن شاحنة لنقل مواد البناء وهي فارغة 4000 Kg. حُبِلَتْ بأكياس الإسمنت يزن كل واحد منها 50 Kg و بأكياس من الرمل يزن كل منها 80 Kg يريد صاحب هذه الشاحنة عبور جسر وعند بداية هذا الجسر توجد لافتة مكتوب فيها "لا يسمح بمرور الشاحنات التي حمولتها 6000 Kg فأكثر".

$$50x + 80y + 4000 < 6000$$

أماذا يمثل الحرفان x و y ؟

ب) اختبر صحة المتباينة في الحالتين:

$$y = 20 , x = 10 : (1)$$

$$y = 7 , x = 18 : (2)$$

ج) استنتج في أي حالة من الحالتين تستطيع الشاحنة عبور الجسر.

02 تستهلك هذه الشاحنة 12 L لقطع مسافة 120 Km. باعتبار المسافة المقطوعة و كمية البنزين المستهلك

مقداران متناسبان:

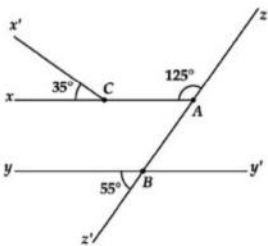

كم يلزمها لقطع مسافة 250 Km

ما هي المسافة التي تستطيع قطعها إذا كان في خزنها 84 L

ملاحظة: يسمح باستعمال الآلة الحاسبة

أساتذة المادة يطمئن لكم حقاً موفقاً

الصغير الناير - اتحي



التمرين الرابع (3 نقاط):

الزاويتان متكاملتان: \widehat{xAz} و \widehat{zBy}

الزاويتان متتامتان: $\widehat{x'CA}$ و $\widehat{yBz'}$

$$\widehat{xAz} = 180^\circ - 125^\circ ; \widehat{zBy} = 55^\circ$$

نعلم: $(xA) \parallel (yy')$

التبرير: \widehat{xAz} و $\widehat{yBz'}$ زاويتان متماثلتان متقابلتان.

الوضعية الإدماجية (6 نقاط):

01

أ) الحرف x هو: وزن كيس واحد من الإسمنت

الحرف y هو: وزن كيس واحد من الرمل

ب) اختبر صحة المتباينة في الحالتين:

$$y = 20 , x = 10$$

$$50 \times 10 + 80 \times 20 + 4000 = 6100 > 6000$$

$$50 \times 18 + 80 \times 7 + 4000 = 6100 > 6000$$

$$50 \times 18 + 80 \times 7 + 4000 = 6100 > 6000$$

تستطيع الشاحنة عبور الجسر في الحالة (2)

02

المسافة المقطوعة (Km)	120	250	840
كمية البنزين المستهلك (L)	12	25	84

يلزمها لقطع مسافة 250 Km 25 L من البنزين.

المسافة التي تستطيع قطعها إذا كان في خزنها 84 L 840 km

الصغير الناير - اتحي

الإجابة النموذجية لموضوع الإختبار مع سلم التقدير

التمرين الأول (3 نقاط):

$$A = (-15) - (-11) - (+12) + (-13) + (+14)$$

$$A = (-15) + (+11) + (-12) + (-13) + (+14)$$

$$A = (-40) + (+25) = -15$$

$$B = (-5 + 1) + [(-2) - (-3 + 4) - (-2)] + (-3)$$

$$B = (-4) + [(-2) - (+1) - (-2)] + (-3)$$

$$B = (-4) + [(-2) + (-1) + (+2)] + (-3)$$

$$B = (-4) + (-1) + (-3) = -7$$

$$MN = (-10) - (-27) = (-10) + (+27) = +17$$

التمرين الثاني (3 نقاط):

$$\frac{7,5}{x} = 25$$

$$x - \frac{3}{7} = \frac{2}{7}$$

$$9 + x = -4$$

$$x = \frac{7,5}{25}$$

$$x = \frac{2}{7} + \frac{3}{7}$$

$$x = (-4) - (+9)$$

$$x = 0,3$$

$$x = \frac{5}{7}$$

$$x = (-4) + (-9)$$

$$x = -13$$

التمرين الثالث (5 نقاط):

ب) $\widehat{CAO} = 53^\circ$

$$\widehat{COA} = 180^\circ - 53^\circ \times 2 = 74^\circ$$

$$\widehat{AOB} = 180^\circ - 74^\circ = 106^\circ$$

$$\widehat{OAB} = \frac{180^\circ - 106^\circ}{2} = 37^\circ$$

د) المثلث ABC قائم في A

