

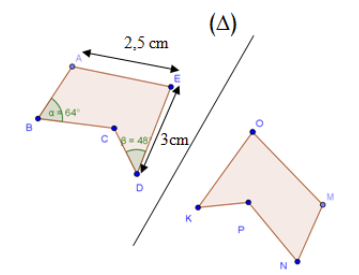
التمرين الثاني:
ضع علامة x في الخانة المناسبة

العدد/ يقبل القسمة على	2	3	4	5	6	9
						297
						120
						5406
						4632

التمرين الثالث الشكلان
التاليان متناظران بالنسبة إلى المستقيم (Δ)
انقل و أكمل الجدول التالي:

النقطة	A	D	M	P
نظيرتها				

ما هو نظير المثلث ACE بالنسبة إلى المستقيم (Δ)?
3. ما هو طول القطعة $[OM]$? برر جوابك
4. ما هو قياس الزاوية PNM ? برر جوابك



بالتوفيق

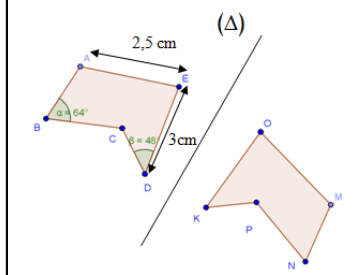
التمرين الثاني:
ضع علامة x في الخانة المناسبة

العدد/ يقبل القسمة على	2	3	4	5	6	9
						297
						120
						5406
						4632

التمرين الثالث الشكلان
التاليان متناظران بالنسبة إلى المستقيم (Δ)
انقل و أكمل الجدول التالي:

النقطة	A	D	M	P
نظيرتها				

ما هو نظير المثلث ACE بالنسبة إلى المستقيم (Δ)?
3. ما هو طول القطعة $[OM]$? برر جوابك
4. ما هو قياس الزاوية PNM ? برر جوابك



بالتوفيق

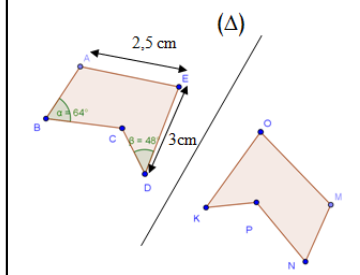
التمرين الثاني:
ضع علامة x في الخانة المناسبة

العدد/ يقبل القسمة على	2	3	4	5	6	9
						297
						120
						5406
						4632

التمرين الثالث الشكلان
التاليان متناظران بالنسبة إلى المستقيم (Δ)
انقل و أكمل الجدول التالي:

النقطة	A	D	M	P
نظيرتها				

ما هو نظير المثلث ACE بالنسبة إلى المستقيم (Δ)?
3. ما هو طول القطعة $[OM]$? برر جوابك
4. ما هو قياس الزاوية PNM ? برر جوابك



بالتوفيق

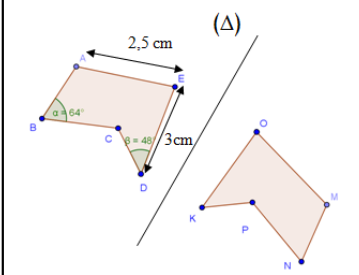
التمرين الثاني:
ضع علامة x في الخانة المناسبة

العدد/ يقبل القسمة على	2	3	4	5	6	9
						297
						120
						5406
						4632

التمرين الثالث الشكلان
التاليان متناظران بالنسبة إلى المستقيم (Δ)
انقل و أكمل الجدول التالي:

النقطة	A	D	M	P
نظيرتها				

ما هو نظير المثلث ACE بالنسبة إلى المستقيم (Δ)?
3. ما هو طول القطعة $[OM]$? برر جوابك
4. ما هو قياس الزاوية PNM ? برر جوابك



بالتوفيق

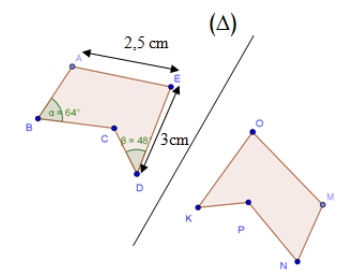
التمرين الثاني:
ضع علامة x في الخانة المناسبة

العدد/ يقبل القسمة على	2	3	4	5	6	9
						297
						120
						5406
						4632

التمرين الثالث الشكلان
التاليان متناظران بالنسبة إلى المستقيم (Δ)
انقل و أكمل الجدول التالي:

النقطة	A	D	M	P
نظيرتها				

ما هو نظير المثلث ACE بالنسبة إلى المستقيم (Δ)?
3. ما هو طول القطعة $[OM]$? برر جوابك
4. ما هو قياس الزاوية PNM ? برر جوابك



بالتوفيق

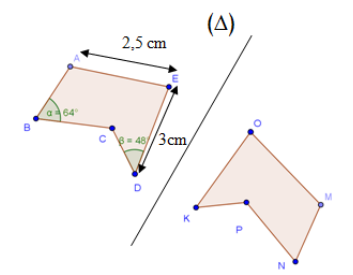
التمرين الثاني:
ضع علامة x في الخانة المناسبة

العدد/ يقبل القسمة على	2	3	4	5	6	9
						297
						120
						5406
						4632

التمرين الثالث الشكلان
التاليان متناظران بالنسبة إلى المستقيم (Δ)
انقل و أكمل الجدول التالي:

النقطة	A	D	M	P
نظيرتها				

ما هو نظير المثلث ACE بالنسبة إلى المستقيم (Δ)?
3. ما هو طول القطعة $[OM]$? برر جوابك
4. ما هو قياس الزاوية PNM ? برر جوابك



بالتوفيق