

اختبار الفصل الأول في مادة المعلوماتية

20

المستوى: أولى ثانوي ج م ع ت - ج م آداب .

اللقب والاسم: القسم: فوج:

التمرين الأول: (04 ن) أجب بصح أو خطأ مع تصحيح الخطأ - إن وُجد - :

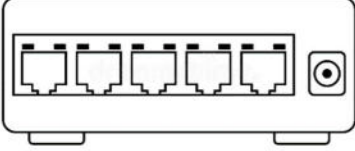
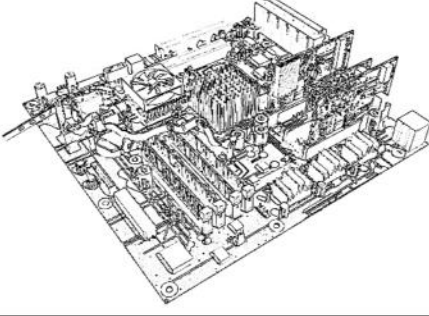

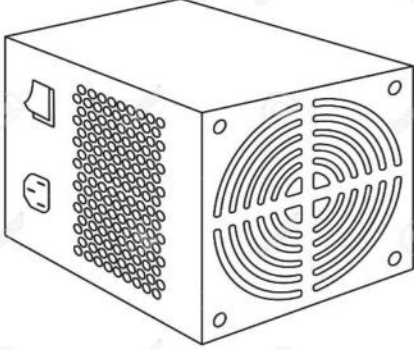
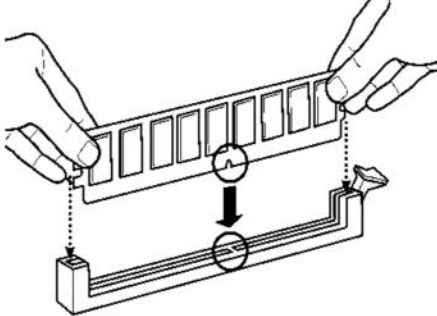
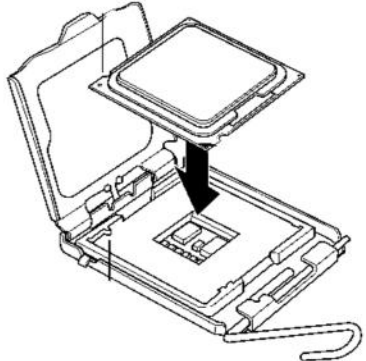
1- نظام "ماك - Mac OS" هو أحد أنظمة التشغيل المستعملة في الهواتف ◀

2- الأوكتية Octet هي وحدة قياس سعة الذاكرة ◀

3- اللوحة الأم دورها تغذية الوحدة المركزية بالكهرباء ◀

4- تعتبر بطاقة الصوت من بين وحدات الإدخال ◀

التمرين الثاني: (06 ن) أكمل أسماء المكونات في الجدول أسفله مع ذكر وظيفة كل مكون باختصار :

		
اسم المكون:	اسم المكون:	اسم المكون:
وظيفته:	وظيفته:	وظيفته:
		
اسم المكون:	اسم المكون:	اسم المكون:
وظيفته:	وظيفته:	وظيفته:

- اقلب الصفحة -

يملك "يوسف" جهاز حاسوب خصائصه كالتالي : intel CORE i3 -Rām 2GB +HDD 500 GB

بعد استعماله للحاسوب بشكل يومي في ألعاب الفيديو والبحث في الأنترنت لاحظ بطء في أداء الجهاز.

1- اذكر أهم مكونين في تحسين أداء الحاسوب ؟ 1- 2-

2- إلى أي مكون يشير هذا الاسم intel i3 ؟ ◀

3- ما هو المكون المسؤول عن عرض الرسومات والفيديو على الشاشة؟ ◀

4- ما هي الأسباب البرمجية التي قد تؤدي إلى بطء أداء الجهاز؟

◀

يريد يوسف أن ينقل مجموعة من الألعاب سعتها 40 GB من حاسوبه إلى حاسوب المنزل كنسخة احتياطية مع العلم أن

المساحة المتبقية في حاسوب المنزل تعادل 39424 MB، لكنه لا يملك قرص فلاش أو قرص مضغوط للقيام بذلك .

5- هل يمكن ليوسف نقل كل الألعاب من حاسوبه إلى حاسوب المنزل ؟ علل ذلك حسابياً.

◀

◀ التعليل :

.....

6- اقترح على يوسف طريقة عملية لنقل الملفات بدون الحاجة إلى استخدام ذاكرات ثانوية ؟

◀

7- ماذا يلزمه من وسائل للقيام بذلك ؟

◀

.....

8- رتب المراحل التي سيقوم بها على نظام ويندوز لمشاركة الملفات بكتابة رقم المرحلة قبل كل عملية :

.....	نختار des personnes spécifiques
.....	نضغط بالزر الأيمن على مجلد الألعاب .
.....	نضغط على Ajouter

.....	نختار Tout le monde
.....	ننقر على Terminer ثم partager
.....	نختار Partager avec

"تَمْنِيَاتِي لَكُمْ بِالتَّوْفِيقِ"

تحيات أستاذ المادة: نوار عبد القادر - Email : nouar4dz@gmail.com