

اختبار مادة التكنولوجيا  
هندسة ميكانيكية

الاسم واللقب : .....

1- ماهي مختلف الرسومات التي تنجز هذا الجهاز ؟ .

- ..... -
- ..... -
- ..... -
- ..... -
- ..... -

2- الى ماذا تشير الحروف A ; B ; C ; D . E مع شرح مختصر

- ..... : A
- ..... : B
- ..... : C
- ..... : D
- ..... : E

3- ما هو عدد القطع لهذا الجهاز ؟

- ..... -

4- ما اسم الرسم الممثل في الشكل -01- .

5- ما اسم الرسم الممثل في الشكل -02- .....

- عرفه :

6. عرف مؤسسة . ثم أتمم الجدول .

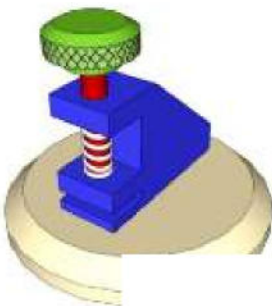
9	موزة	2	S235
8	مخري	1	S235
7	زبد	1	PF21
6	مخور	1	C80
5	خطة M8U	1	مخارة
4	خطة موزة لآخذة 1.5x1.5	1	مخارة
3	نايش	1	51 Cr V4
2	جسم	1	S235
1	فكيك	1	S235
رقم	عدد	تعيينات	ملاحظة
2/1	ملاحظات	ملاحظة	ملاحظة
4/2	ملاحظة	ملاحظة	ملاحظة

C

B

E

الشكل -01-



الشكل -02-

الشكل -02-

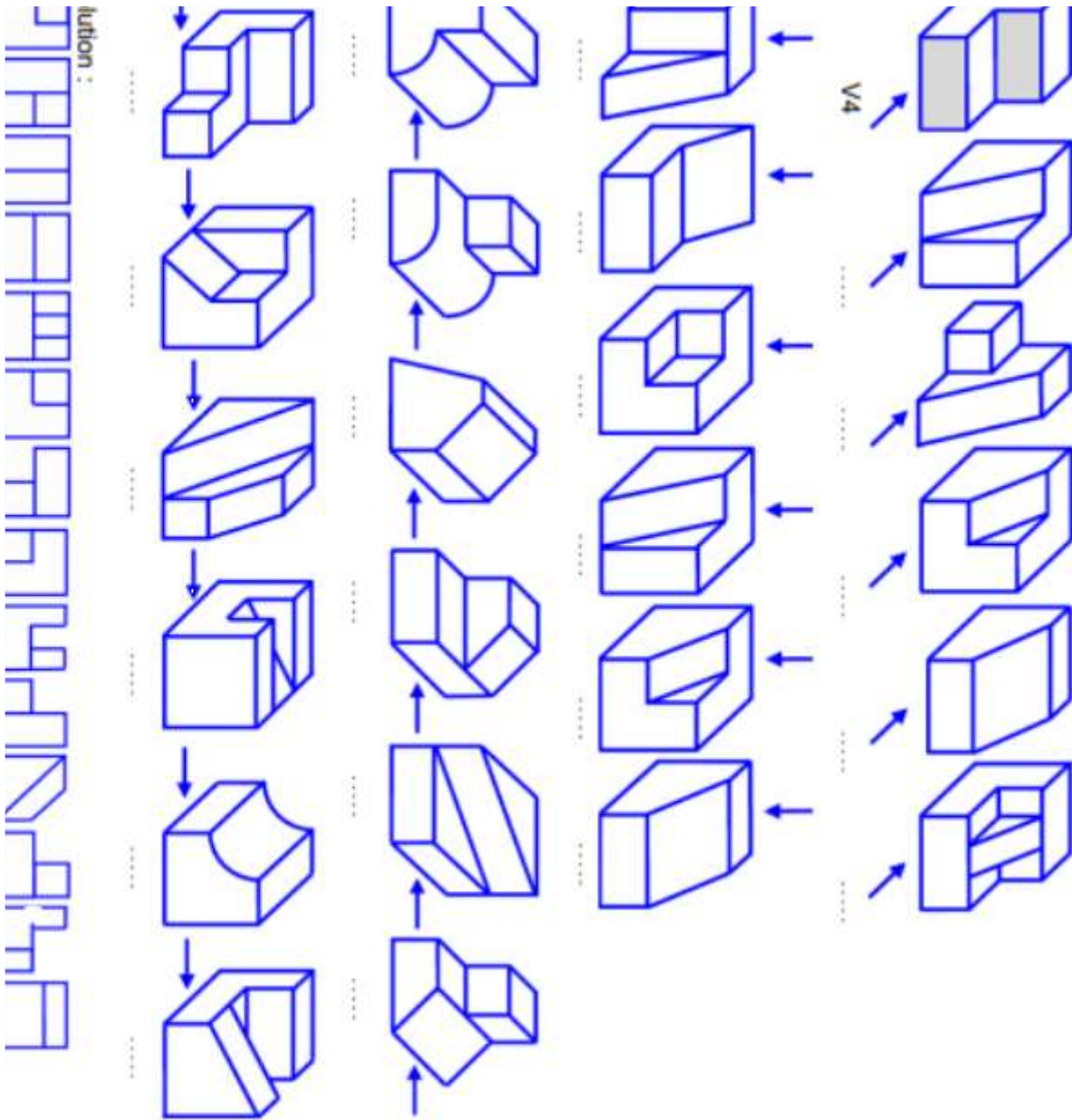
أمثلة	أصناف المؤسسة

7- ماهي أنواع الخطوط المستعملة في الرسم ؟ استعمل الجدول التالي .

الرقم	التسمية	التمثيل	الاستعمال
01			
02			
03			
04			

8 - اليك الأشكال التالية حيث أن المشاهد (الملاحظ) يقف حسب اتجاه السهم. 8

و المساقط  $V_1$   $V_2$   $V_3$  .....  $V_{14}$  . هي الأوجه التي تم مشاهدتها . اختر لكل شكل المسقط المناسب .

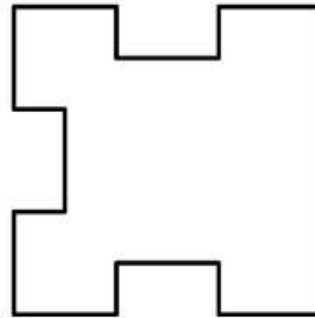
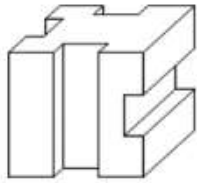
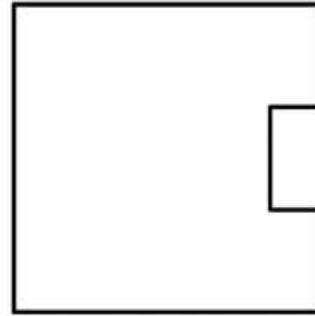



ج- أتم المساقط الناقصة .

- أكتب أسماء المساقط .


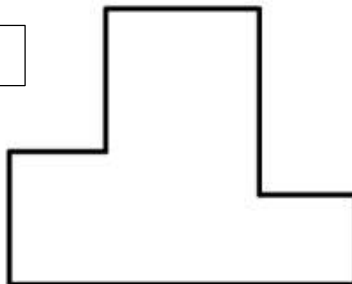
.....

.....



.....  
.....

.....



.....  
.....

