

مارس 2014

المستوى: الثانية متوسط (2AM)

المدة: ساعة و نصف

اختبار الفصل الثاني في مادة علوم الطبيعة و الحياة

**الجزء الأول :**

**التمرين الأول :** إملأ الجدول :

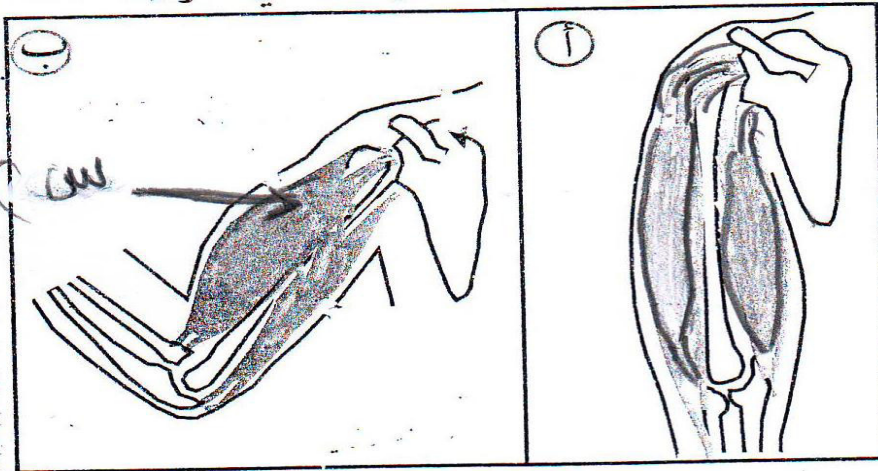
نمط التنقل	نمط التنفس	وسط العيش	الكائن الحي
			الفيل
			دلفين
			الجراد
			النسر
			الضفدع

**التمرين الثاني :** إليك الوثيقة 1

1\_ ماذا يمثل الشكل (أ) و الشكل (ب)

2\_ ما هي الأعضاء المشتركة لحدوث الحركة

3\_ ماذا يمثل العنصر (س) أعط تعريفا له



الصفحة 2/1

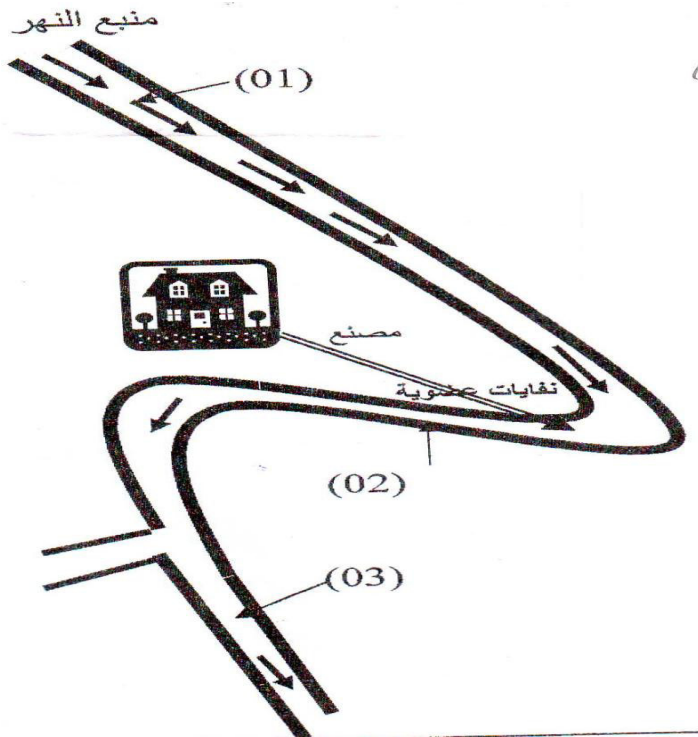
حي فغلول - برج البحري - الجزائر

## الجزء الثاني:

### الوضعية الإدماجية

أعطت التحاليل المخبرية لعينات من ماء النهر . أخذت من المناطق (01) و (2) و (3) عينات كما هو مبين في الشكل المقابل و أعطت النتائج المدونة في الجدول التالي :

منطقة أخذ العينة	(01)	(02)	(03)
درجات حرارة الماء	8	8	8
كمية O <sub>2</sub> المنحل في الماء mg/L	12.2	3.4	7.4
الكائنات الحية المائية	كثيرة و متنوعة	قليلة جدا	كثيرة



باستغلال معطيات الجدول و الشكل معا

1- حدد سبب قلة O<sub>2</sub> المذاب في الماء

في المنطقة (02)

2- قدم تفسيراً لإختلاف توزيع الكائنات الحية

في الماء في المناطق :

(01) و (02) و (03)

3- إذا علمت أن سمكة الشبوط مثلا تحتاج


على الأقل 05mg/L من O<sub>2</sub> المذاب في

الماء لتنمو و تتكاثر . حدد المنطقة التي

يمكن أن تتواجد فيها علل إجابتك

الصفحة 2/2

حي فعلول - برج البحري - الجزائر



الجمهورية الجزائرية الديمقراطية الشعبية

وزارة التربية الوطنية

مؤسسة التربية والتعليم الخاصة **سليم**

ETABLISSEMENT PRIVE D'EDUCATION ET D'ENSEIGNEMENT SALIM

www.ets-salim.com 021 87 10 51 021 87 16 89 Hai Galloul - bordj el-bahri alger

رخصة فتح رقم 1088 بتاريخ 30 جانفي 2011

تحضيري- ابتدائي- متوسط - ثانوي

إعتماد رقم 67 بتاريخ 06 سبتمبر 2010

**+المستوى: الثالث متوسط (2AM) مارس 2014**

**تصحيح اختبار الفصل الثاني في مادة علوم الطبيعة و الحياة**

**التمرين الأول : ملأ الجدول**

نمط التنقل	نمط التنفس	وسط العيش	الكائن الحي
المشي	رئوي	بري	الفيل
السباحة	رئوي	مائي	دلفين
القفز و الطيران	قصيبي	بري	الجراد
الطيران	رئوي	بري _ الجو	النسر
القفز و السباحة	جلدي _ رئوي	برمائي	الضفدع

**التمرين الثاني :**

1\_ يمثل الشكل (أ) : بسط الذراع

2\_ يمثل الشكل (ب) ثني الذراع

3\_ الأعضاء المشتركة لحدوث الحركة هي :

1 العظام 2 العضلات 3 المفاصل 4 الأوتار

4\_ يمثل العنصر س : العضلات

تعريفها : هي أعضاء مرنة ترتكز على العظام بواسطة الأوتار قابلة للتقلص و الإرتخاء

من خلال الوثيقة 1 : سبب قلة O2 المذاب في الماء في المنطقة 2 النفايات العضوية

التفسير : من خلال الوثيقة (1)

\_ في المنطقة (1) الكائنات الحية كثيرة و متنوعة لسبب وجود ال O2 لأنها بعيدة عن نفايات المصنع

\_ في المنطقة (2) الكائنات الحية قليلة جدا لقلة وجود ال O2 بسبب النفايات العضوية للمصنع

\_ في المنطقة (3) الكائنات الحية بكثرة بسبب وجود ال O2 لأن هذه المنطقة بعيدة عن نفايات المصانع

3/ إن المنطقة (1) و (3) يمكن أن تتواجد فيها الأسماك و تنمو و تتكاثر النجيل لأن كمية ال O2 المنحل في الماء في المنطقة (1) هي 7.4mgIL و في المنطقة (3) 12.2 mg IL

4/ نمط التنفس عند سمك الشبوط هو علصمي و نمط التنقل عند سمكة الشبوط هو السباحة

**الصفحة 2/1**

حي قعلول - برج البحري - الجزائر

Web site : [www.ets-salim.com](http://www.ets-salim.com) /021.87.16.89 -الفاكس : 021.87.10.51