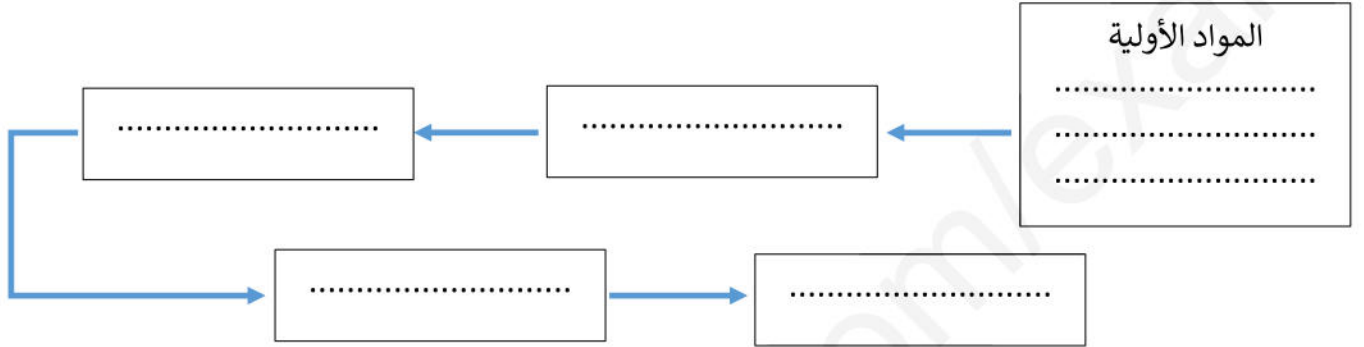


﴿ فرض محروس 01 في مادة التكنولوجيا ﴾  
﴿ هندسة ميكانيكية ﴾

السؤال الأول: (05 نقاط):

تأخذ على سبيل المثال محفظة، المطلوب: قم بإنجاز السيرورة التكنولوجية لإنتاجه



السؤال الثاني: (02.5 نقاط):

لرسم المنتجات الموائية على مقاس A4، ما هو المقياس الذي نختاره؟ هل هو مقياس تصغيري، مقياس حقيقي ام مقياس تكبير

ساعة يد بدون حزام، آلة الغسيل، ثلاجة، هاتف نقال، مبراة

المقياس المختار	المنتجات
.....	.....
.....	.....
.....	.....
.....	.....
.....	.....

السؤال الثالث: (02.5 نقاط):

1. اعطي دور كل أداة من الأدوات الموجودة في الجدول التالي:

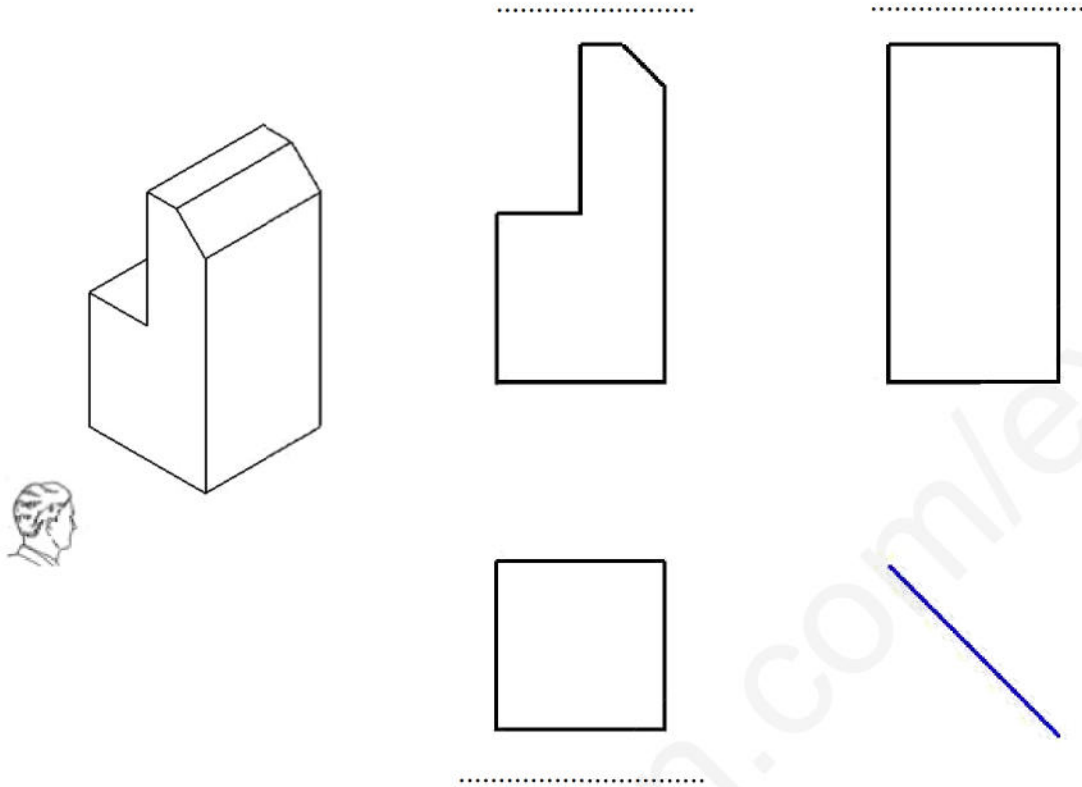
الأداة	دور الأدوات
	.....
	.....
	.....
	.....
	.....

التمرين الثالث: (10 نقاط): 1- على كل منظور لون بالأخضر المستوي الذي يراه المشاهد. (0.5 نقطة)

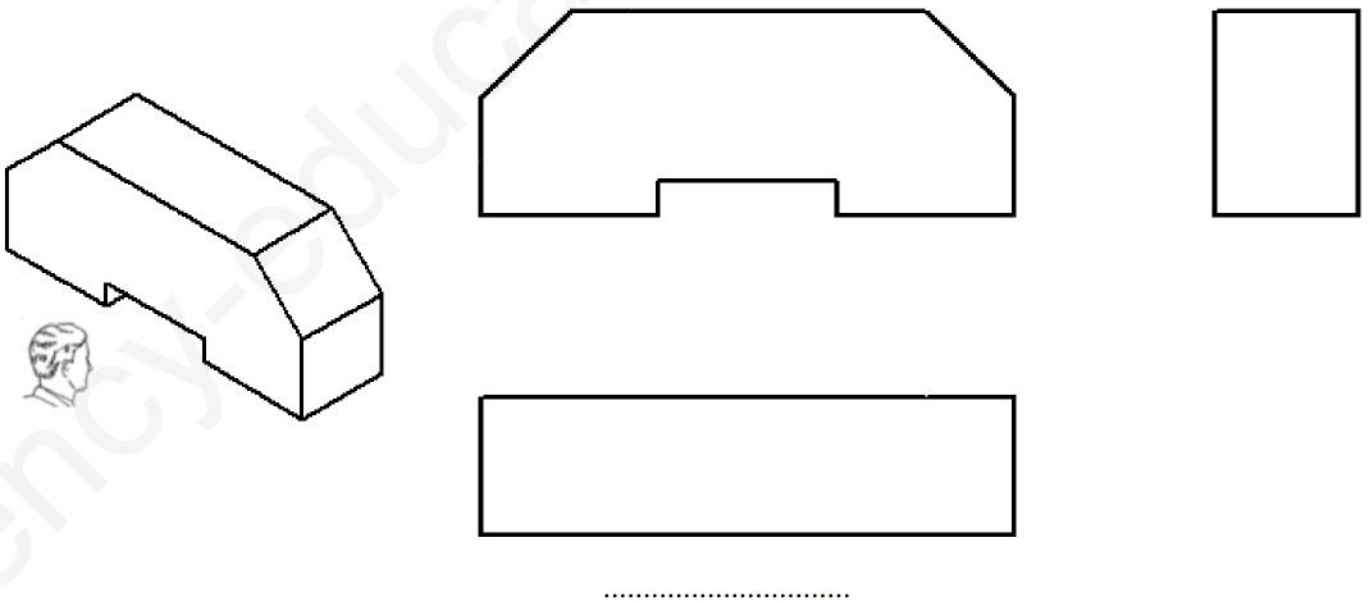
2- ما اسم كل مسقط (1.5 نقطة)

3- أكمل المسقط التالية، مستعينا بخطوط التناسب الأفقية، العمودية والمائلة. (08 نقاط)

1



2



والله ولي التوفيق  
الأستاذ: شيخ رشيد

الوثيقة 2/2

اللقب: .....  
الاسم: .....  
القسم: .....