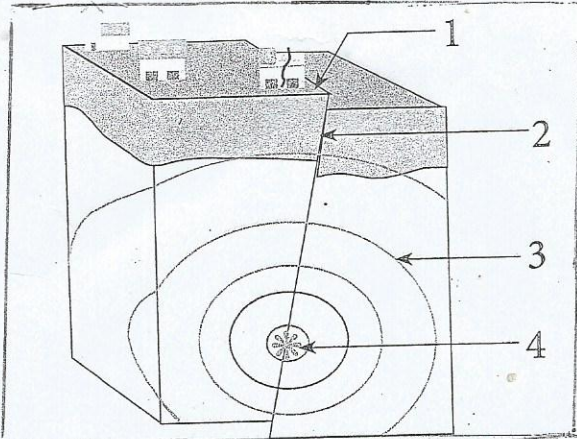


الفرض الاول لمادة العلوم الطبيعية والحياة



الوضعية التقويمية 01

تمثل الوثيقة المقابلة مخطط لحدوث هزة زلزالية

1- اكتب بيانات المخطط

2- عرف كل بيان من هذه البيانات المستعملة في الزلزال

الوضعية التقويمية 02

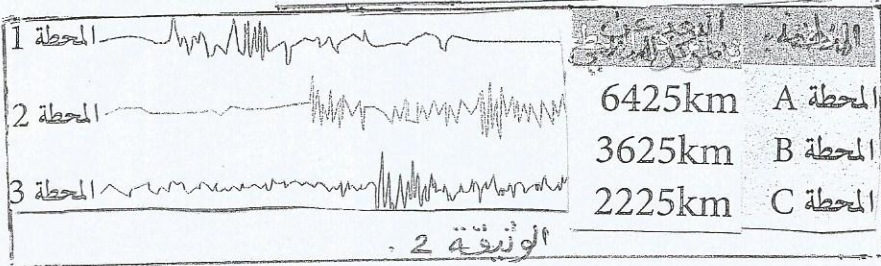
اليك الوثيقة المقابلة (2)

1- كيف نسمي هذه الوثيقة؟

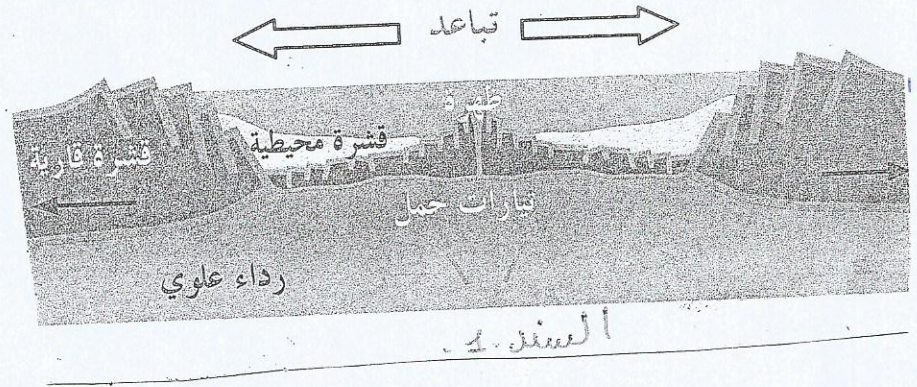
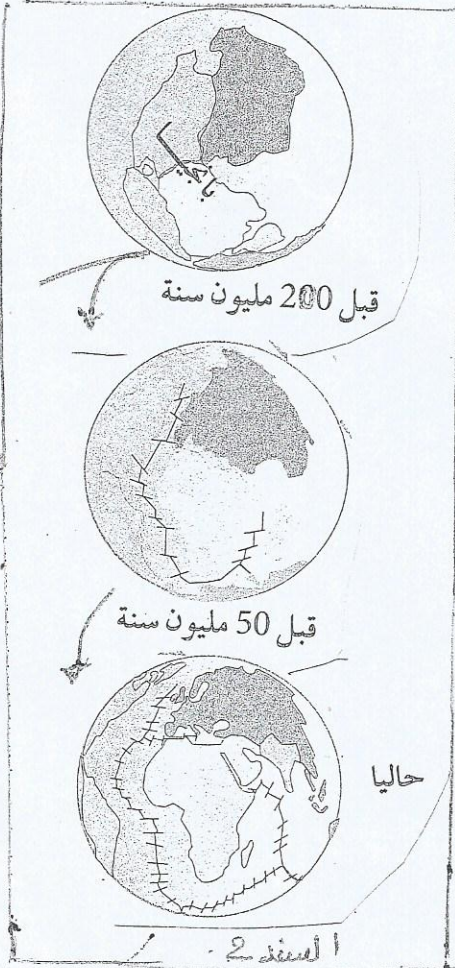
2- ما هو الجهاز الذي يمكننا من الحصول عليها؟

3- اربط كل محطة بالتسجيل الموافق لها في الوثيقة

الوضعية الانماجية



ان صورة العالم قبل 200 مليون سنة تبين ان القارات كانت كتلة عملاقة و بعدها بدأ الانفصال التدريجي حتى ظهور صورة عالمنا الحالي



التعليمات

من خلال السندات و مكتسباتك القبلية

1- حدد النشاط الجيولوجي المتسبب في هذا الانفصال (مع الشرح)

2- اذكر نتائج هذا النشاط (ثلاثة فقط)

بالتوفيق