


المفرض الشالء فى ماءة علوم الطفبعة والحفاة

انعبء الأول 12 ن:

الءمرفن الأول 05 ن:



ءزءر العبائر بموارء طفبعية باءفنفة مءعءءة من شمالفها إلى عبوبها .

1-عبء هءه الموارء مع ءقفم أمءلة .


2- البءرول أءء هءه الموارء أءكر ءاصفة ءففن أهمفءه الإءءصاءفة

الءمرفن الشافى 07 ن:

ءمءل الوءائفءءا ءالفة سعبء الءاصف للإنسان و الطفبعة فى الطاسفلف فى القءم و العصر الءالف



الوءففة 02




الوءففة 01

1- صف مناء الطاسفلف فبل ملايين السفنن .


2- كفف ءفسر انءقال منظر هءه الوءففة إلى منظر وءءنا الءالف ؟

يؤدي الإستغلال المفرط لمختلف الموارد الطبيعية إلى إفراغ المكامن و بالتالي نفاذ للبتروول و الغاز... و اختلال التوازن البيئي نتيجة للتلوث .

السندات:




(02)



(01)



(04)



(03)

التعليمات: من السياق و السندات و معارفك المكتسبة أجب على مايلي :

1- حدد كل نمط من الطاقة المتجددة المعبر عنها برقم .

بين أهمية استعمال الطاقات المتجددة على المحيط .

بالتوفيق أستاذة المادة