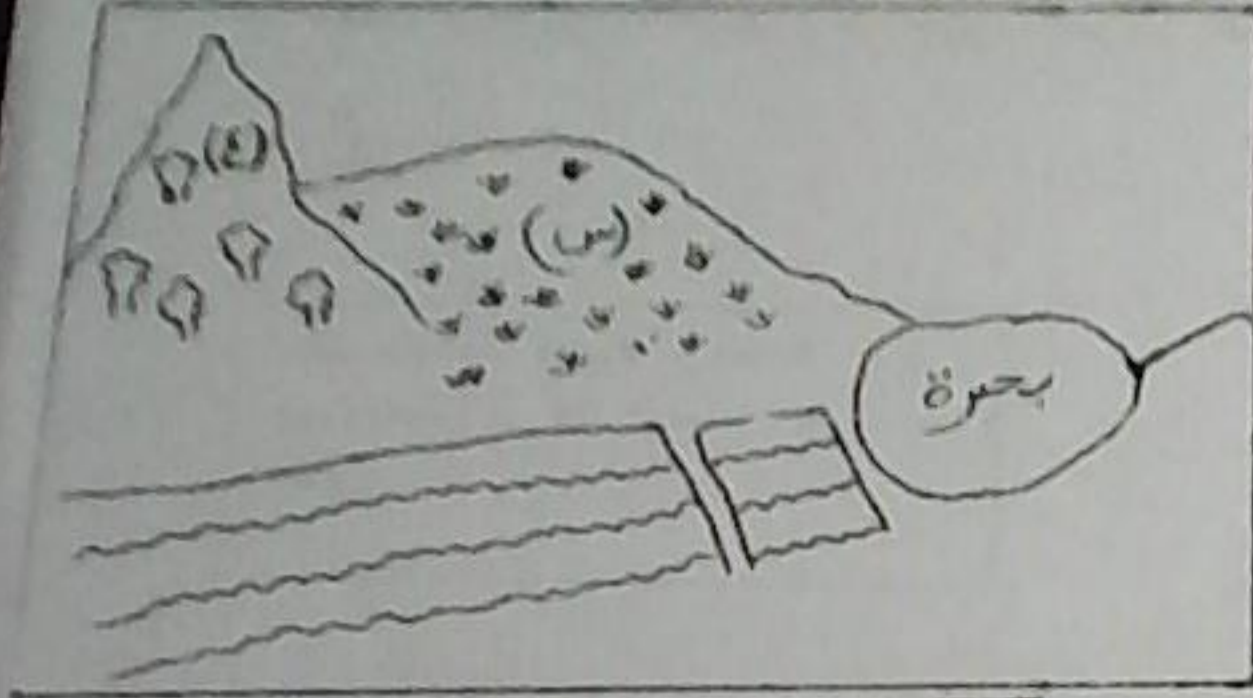


الامتحان الثلاثى الثانى فى مادة العلوم الطبيعية



التمرين الاول: (6 ن)

يمثل الشكل المقابل منظر طبيعي :

1) أذكر 4 عناصر مكونة له .

2) قمنا بمقطع فى العنصر (س) فتحصلنا على الوثيقة الموالية :

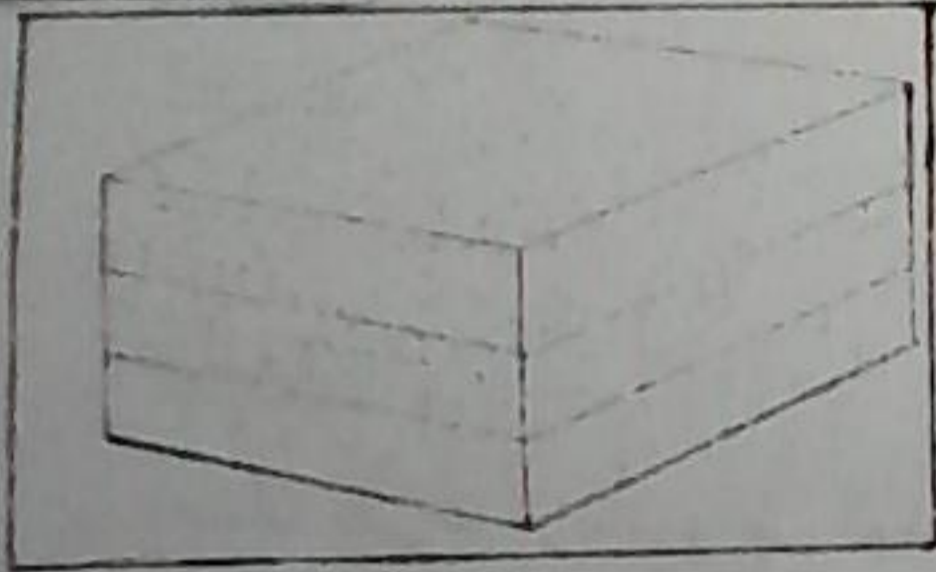
أ) كيف تسمى هذه الطبقات ؟

ب) أذكر مراحل تشكلها .

ج) اشرح أصل الاختلافات الملاحظة فى المناظر الطبيعية .

3) بداخل العنصر (ع) توجد مغارة ذات صخور كلسية ، كيف تشكلت ؟

التمرين الثانى: (6 ن)



تترخر بلادنا بمختلف الموارد الطبيعية ، ومن بين هذه الموارد المياه ، حيث توجد منها السطحية و الجوفية .


1) ما اسم البنية التى تجري بداخلها المياه الجوفية ؟

2) هل تنتقل من مكان إلى آخر ؟ كيف ذلك ؟

3) كيف يمكن استغلالها ؟

4) بماذا يرتبط مستوى المياه الجوفية ؟

5) إليك دورة الماء فى الطبيعة ، أكملها باستبدال الأرقام بما يناسب . (دون إعادة الرسم)



الموضعية الإدماجية : (8 ن)

اصاب ناقلة بترول عملاقة كانت تنقل البترول من دولة من الشرق الأوسط باتجاه أمريكا حادث ،
فتمرب البترول منها، وفي اليوم الموالي تناقلت وسائل الإعلام الخبر واعتبرته كارثة طبيعية .

السندات:

تشكلت بقعة سوداء كبيرة في المحيط

ماتت مختلف الأسماك و النباتات التي
كانت تعيش في تلك المنطقة وحتى
الطيور.

السند 2

السند 1

التعليمات:

اعتمدا على ما درست وعلى السندات أجب عما يلي :

(1) اشرح تأثير هذه الكارثة على المنظر الطبيعي .

(2) اشرح مراحل تشكل البترول .

(3) اقترح تدخلين للإنسان للحد من هذا النوع من الكوارث الطبيعية .