

مديرية التربية لولاية بسكرة

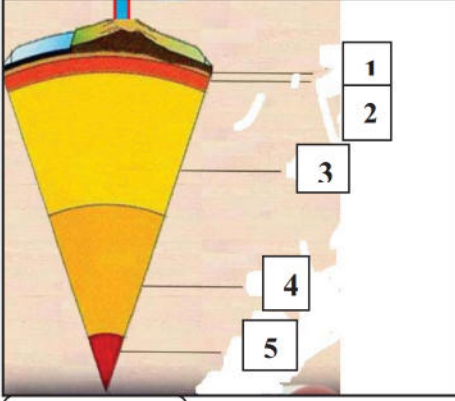
السنة الدراسية: 2018/2017

متوسطة: عبد الحميد بن باديس

المدة: ساعة واحدة

المستوى: ثالثة متوسط

فرض الثلاثي الثاني في مادة علوم الطبيعة والحياة



وثيقة (1)

التمرين الأول (8 نقاط):

تمثل الوثيقة (1) مقطع طولي لبنية الكرة الأرضية.

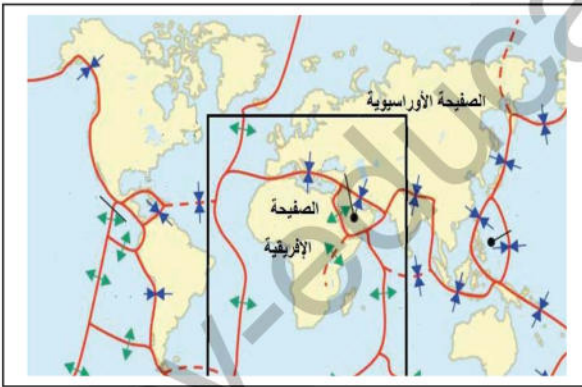
- (1) حدد البيانات المرقمة في الوثيقة (1).
- (2) حدد الطبقة المسؤولة عن النشاط الجيولوجي.
- (3) صف الرسم التخطيطي الموضح في الوثيقة (1) في نص علمي.

الوضعية الإدماجية (12 نقطة):

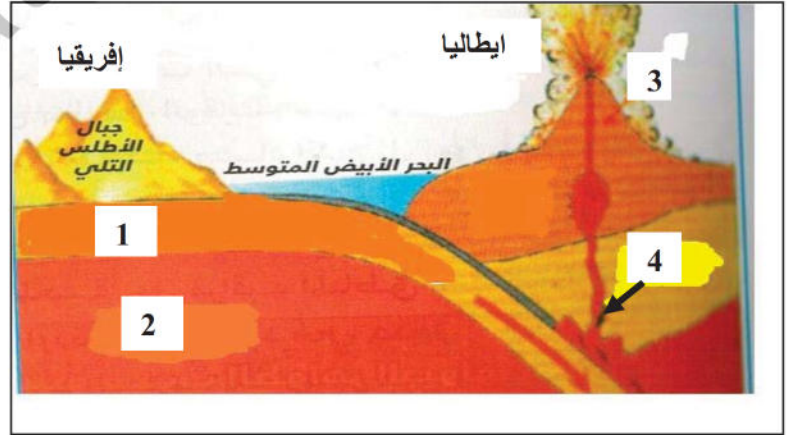
السياق:

سمير تلميذ في سنة ثالثة متوسط أثار فضوله كثرة نشاط الزلازل والبراكين في جنوب إيطاليا و كذا كثرة الزلازل في شمال إفريقيا و لفهم هذه الظواهر الجيولوجية جمع هذه الوثائق

السندات:



سند (1)



سند (2)



أقلب الورقة

سند (3)

التعليمات :

باستغلال السندات و مكتسراتك القبلية اجب على مايلي :

- 1) حدد عواقب زحزحة الصفيحة الإفريقية نحو الشمال ؟
- 2) فسر سبب توزع البراكين في جنوب ايطاليا ؟
- 3) حسب رأيك ماهي الإجراءات الوقائية الواجب اتخاذها للتقليل من مخاطر هذه الظواهر الجيولوجية ؟

يا تلميذي :

- لا تتسرع في الإجابة وركز أكثر.
- استغل السندات ونظم إجابتك.
- لا تستخدم المصحح ولا تشطب.

أنا ممتاز أنا ناجح إن شاء الله