



الجمهورية الجزائرية الديمقراطية الشعبية

وزارة التربية الوطنية

مؤسسة التربية و التعليم الخاصة **سليم**

ETABLISSEMENT PRIVE D'EDUCATION ET D'ENSEIGNEMENT **SALIM**

www.ets-salim.com 021 85 62 04 021 87 16 89 Hai Galloul - bordj el-bahri alger

رخصة فتح رقم 1088 بتاريخ 30 جانفي 2011

تحضيرى- ابتدائى- متوسط - ثانوى

اعتماد رقم 67 بتاريخ 06 سبتمبر 2010

فيفري : 2019

فرض الفصل الثاني في مادة التاريخ و الجغرافيا 1AM

التاريخ

الجزء الاول

السؤال الاول (8)

1- اكمل ما يلي

- مملكة نوميديا الشرقية

.....
.....
.....
.....

- مملكة نوميديا الغربية

.....
.....
.....
.....

- نوميديا الموحدة

.....
.....
.....
.....

- مملكة المور :

.....
.....
.....

2- حدد علاقات سكان شمال افريقيا مع شعوب الجوار.4ن

حي قعلول - برج البحري - الجزائر

مع الفتيقبن	مع المصربون

الجغرافيا


السؤال الاول 8ن

أكمل الجدول الموالي

المنطقة الحرارية	موقعها	اقاليمها المناخية	المتوسط السنوي الحراري	النباتات والحيوانات

بالتوفيق

حي قعلول - ببح البحري - الجزائر



الجمهورية الجزائرية الديمقراطية الشعبية

وزارة التربية الوطنية

مؤسسة التربية و التعليم الخاصة **سليم**

ETABLISSEMENT PRIVE D'EDUCATION ET D'ENSEIGNEMENT SALIM

www.ets-salim.com 021 85 62 04 021 87 16 89 Hai Galloul - bordj el-bahri alger

رخصة فتح رقم 1088 بتاريخ 30 جانفي 2011

تحتصري- ابتدائي- متوسط - ثانوي

اعتماد رقم 67 بتاريخ 06 سبتمبر 2010

فيفري : 2019

تصحيح الفرض في مادة التاريخ و الجغرافيا 1AM

التاريخ

الجزء الاول

الجواب الاول (8ن)

- مملكة نوميديا الشرقية
- تمتد من قرطاجة الى حدود مملكة نوميديا الغربية مالكاها ماسينيسا
- مملكة نوميديا الغربية
- تمتد من نوميديا الشرقية حتى حدود مملكة المور مالكاها سيفاكس.
- نوميديا الموحدة
- لمواجهة الاخطار الخارجية وحدها ماسينيسا و تشمل النوميديتين حيث كانت تشمل جيش قوي و تطور في الميادين الزراعية و التجارية و الثقافية.
- مملكة المور تمتد من واد ملوية حتى المحيط الاطلسي. اهم حكامها بوخوس.

2-علاقات سكان شمال افريقيا مع شعوب الجوار.4ن

مع المصريين	مع الفنيقيين
بسبب الجفاف هاجر اللوبيون نحو مصر و شغلوا مناصب مهمة.	استقروا في قرطاجة.
حكم شيشناق لمصر.	علاقات جيدة
عبدوا امون.	فرض الضرائب
	بداية التفكير في التخلص منهم.

الجغرافيا

السؤال الاول 8ن


اكمل الجدول الموالي

حي قعلول - برج البحري - الجزائر


المنطقة الحرارية	موقعها	اقليمها المناخية	المتوسط السنوي الحراري	النباتات و الحيوانات
الحارة	تقع بين مدار السرطان و الجدي	الاستوائى المداري الصحراوي الموسمي	20	الغابات الاستوائية اشجار السفانا الحلفاء الصبار طيور زواحف
المعتدلة	تقع بين مدار السرطان و الدائرة القطبية شمالا و مدار الجدي و الدائرة القطبية جنوبا	اقليم البحر الابيض المتوسط الموحيطي الصيني	14	الفلين البلوط الذئاب الخنازير
الباردة	شمال الدائرة القطبية شمالا و جنوب الدائرة القطبية جنوبا	التايقا التندار	10	غابات التايقا حشائش التندرا الدبية طيور البطريق


بالتوفيق

حي قعلول - برج البحري - الجزائر

Web site : www.ets-salim.com / 021.87.16.89 الفاكس - Tel-Fax : 021.87.10.51 : 

حي قعلول - برج البحري - الجزائر

Web site : www.ets-salim.com / 021.87.16.89 الفاكس - Tel-Fax : 021.87.10.51 : 




الصفحة 1/1

حي قعلول - بيج البحري - الجزائر

Web site : www.ets-salim.com / 021.87.16.89 الفاكس - Tel-Fax : 021.87.10.51 :☎

الصفحة 1/1

حي قعلول - برج البحري - الجزائر

Web site : www.ets-salim.com /021.87.16.89 الفاكس - : Tel-Fax : 021.87.10.51 :

حي قعلول - برج البحري - الجزائر

Web site : www.ets-salim.com / 021.87.16.89 الفاكس - Tel-Fax : 021.87.10.51 : 