



الاسم: اللقب: القسم:



الفرض الأول في مادتي التاريخ والجغرافيا

مادة التاريخ: (10 نقاط)

لحوالي مراد
أستاذ التعليم المتوسط
لمادة العلوم الاجتماعية

الجزء الأول: 06 نقاط

س¹ - عرف ما يلي : (02 ن)

ما قبل التاريخ :

الأثار :

س² - ما الفرق بين عالم الأثار و المؤرخ ؟ (02 ن)

س³ - صنف الجمل الموالية في الجدول: (02 ن)

- الانسان يسكن في الكهوف / - الانسان يستأنس الحيوانات
- الانسان يستقر و يبني الحضارات / - الانسان يتنقل و يرحل

المرحلة الأولى	المرحلة الثانية
-	-

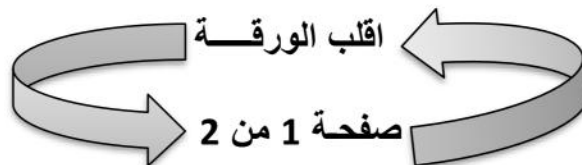
الجزء الثاني : (04 نقاط) أجب بـ " صحيح " أو " خطأ " أمام العبارات التالية مع تصويب الخطأ إن وجد :

*-/ يستخدم الكربون 14 المشع لمعرفة عمر الأشجار ()

*-/ الأشعة السينية تساعدنا في كشف الأثار على سطح الأرض ()

*-/ حلقات الأشجار تمكننا من معرفة عمر العظام ()

*-/ تقنية الموجات الصوتية تسمح بالكشف عن الأثار الغارقة ()





مادة الجغرافيا: (10 نقاط)

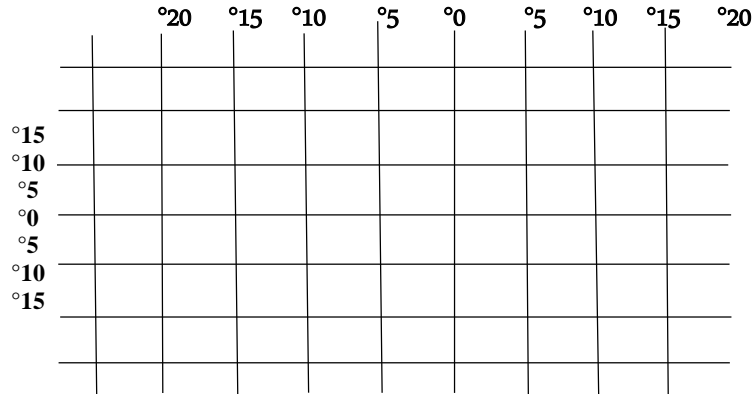
الأرض كوكب من كواكب المجموعة الشمسية .

الجزء الأول: (06 ن)

- س¹ / أكمل بقية الكواكب بالترتيب:
- عطارد / / / المريخ / / / / بلوتون. (03 ن)
- س² / اجب بـ " صحيح " أو " خطأ " مع تصحيح الخطأ إن وجد أمام الجمل التالية : (02 ن)
- /* عدد دوائر العرض 180 خطأ
/* تفيدينا خطوط الطول في تحديد الوقت.....
/* كلما اتجهنا شرقا ينقص الوقت وكلما اتجهنا غربا العكس.....
/* مدار السرطان درجته 23.5° شمالا.....
- س³ / لماذا تعتبر الأرض الكوكب الوحيد الأنسب لحياة الكائنات ؟ (01 ن)

الجزء الثاني: (04 ن) أكمل ما يلي :

- س¹ / تحتل الأرض المرتبة..... في تدور مرة واحدة في اليوم حول نفسها فيحدث وتدور مرة واحدة في السنة فيحدث..... (02 ن)
- س² / وضع العلماء شبكة وهمية من الخطوط تسمى خطوط الطول ودوائر العرض. (02 ن)
تفيدنا هذه الشبكة في : -
- */- حدّد على الشبكة الآتية باللون الأحمر خط غرينيتش و باللون الأزرق دائرة الاستواء مع تدوينهما.



*/ تأمل قول الشاعر:

العلمُ زين فكن للعلم مكتسباً
وكن حليماً رزين العقل محترساً

وكن له طالبا ما عشت مُقتبساً
وكن حليماً رزين العقل محترساً



الاسم: اللقب: القسم:



الفرض الأول في مادتي التاريخ والجغرافيا

مادة التاريخ: (10 نقاط)

لخوالي مراد
أستاذ التعليم المتوسط
لمادة العلوم الاجتماعية

الجزء الأول: 06 نقاط

س 1- عرف ما يلي : (02 ن)

التاريخ :

التنقيب :

س 2- يتبع عالم الآثار في دراسته الخطوات التالية: رتبها ترتيبا صحيحا (02 ن)

* الدراسة والتحليل / * تحديد الموقع الأثري / * التنقيب / * مسح الموقع (التسجيل و التقاط الصور)

1- 2- 3- 4-

س 3- مرّت معيشة الإنسان ما قبل التاريخ بمرحلتين : (02 ن)

/* ما هي مميزات المرحلة الثانية ؟

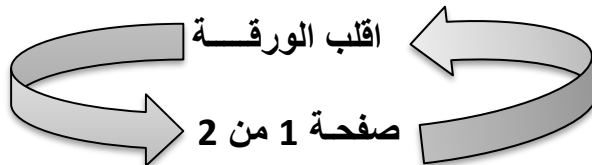
الجزء الثاني : (04 نقاط) اجب بـ " صحيح " أو " خطأ " مع تصويب الخطأ إن وجد :

_* - لمعرفة عمر الأشجار نستعمل الكربون 14 المشع.

_* - تنقسم فترة ما قبل التاريخ إلى 5 عصور تاريخية.

_* - يتم الكشف عن الآثار بواسطة البحث و التنقيب.

_* - حلقات الأشجار تمكننا من معرفة عمر العظام.





مادة الجغرافيا: (10 نقاط)

تقع الأرض ضمن كواكب المجموعة الشمسية .

الجزء الأول: (06 ن)

- س¹ / اذكر الكواكب الناقصة مع احترام الترتيب:

- عطارد / / / / / / / / بلوتون. (03 ن)

- س² / أكمل ما يلي :

(02 ن)

*/ الأرض كوكب متحرك ، تأتي في المرتبة..... ضمن لها حركة محورية حيث تدور دورة واحدة في مدة 24 ساعة فيحدث..... ولها حركة انتقالية فيحدث.....

- س³ / لماذا تعتبر الأرض أنسب الكواكب لحياة الكائنات الحية ؟ (01 ن)

الجزء الثاني: (04 ن)

- س¹ / أجب بـ " صحيح " أو " خطأ " مع تصحيح الخطأ إن وجد : (02 ن)

*/ عدد خطوط الطول هي 180 خطا

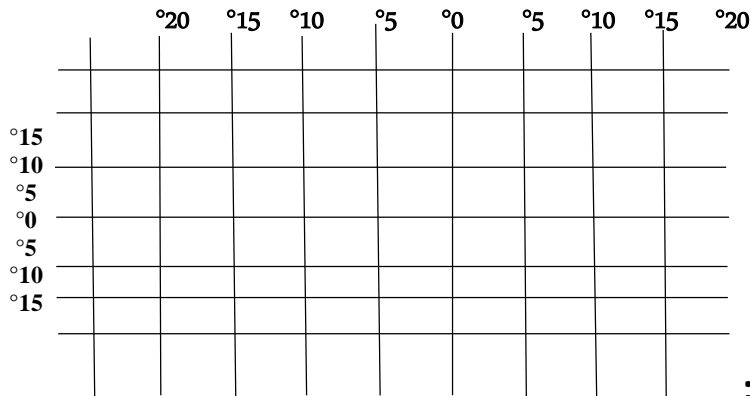
*/ تفيدنا دوائر العرض في تحديد النطاقات الحرارية

*/ كلما اتجهنا شرقا يزيد الوقت و كلما اتجهنا غربا ينقص الوقت.....

*/ مدار الجدي درجته 23.5° جنوبا.

- س² / وضع العلماء شبكة وهمية من الخطوط تسمى خطوط الطول و دوائر العرض. (02 ن)

- تفيدنا هذه الشبكة في:.....
- حدد على هذه الشبكة باللون الأحمر خط غرينيتش وباللون الأزرق دائرة الاستواء مع تدوينهما.



*/ تأمل قول الشاعر:

العلم زين فكن للعلم مكتسباً
وكن حليماً رزين العقل محترساً
وكن له طالبا ما عشت مُقتبساً
وكن حليماً رزين العقل محترساً

الصفحة 2 من 2

** وفقكم الله **