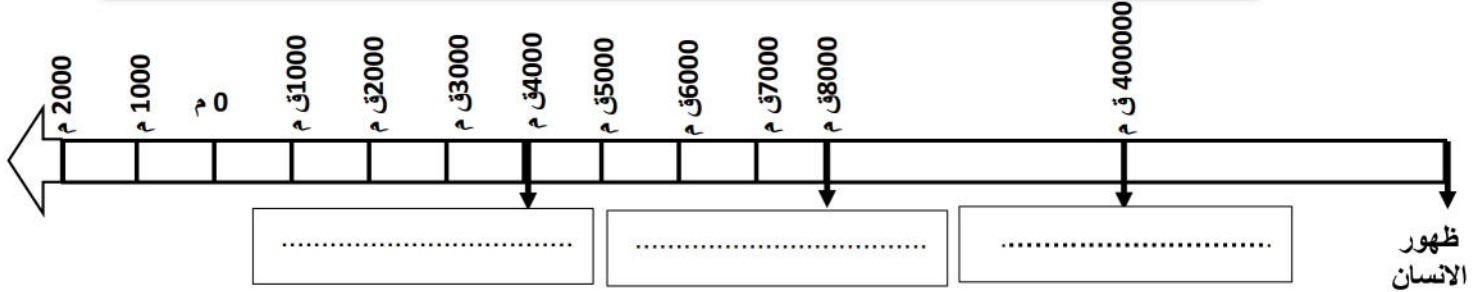


التاريخ

السؤال الأول

5 ن

1- ضع البيانات التالية في الفراغات المناسبة: بداية فجر التاريخ - ممارسة الزراعة - تعلم الانسان اشعال النار
2- حدد الامتداد الزمني للعصر الحجري القديم بتلويين الحيز المكاني الذي يشغله على السلم الزمني؟



4 ن

السؤال الثاني

ضع علامة (X) في الخانة المناسبة

العصر الحجري الحديث	العصر الحجري القديم	نشاط الإنسان
		استعمل الإنسان الحجارة الخشنة والسهام في الصيد
		لبس الإنسان أوراق الأشجار وجلود الحيوانات
		عاش الإنسان حياة التنقل وسكن الكهوف والمغارات
		مارس الانسان الزراعة واستأنس الحيوانات

2 ن

السؤال الثالث

لماذا كانت حياة الانسان في عصور مرحلة ما قبل التاريخ بطيئة التطور رغم طول مدتها؟

.....

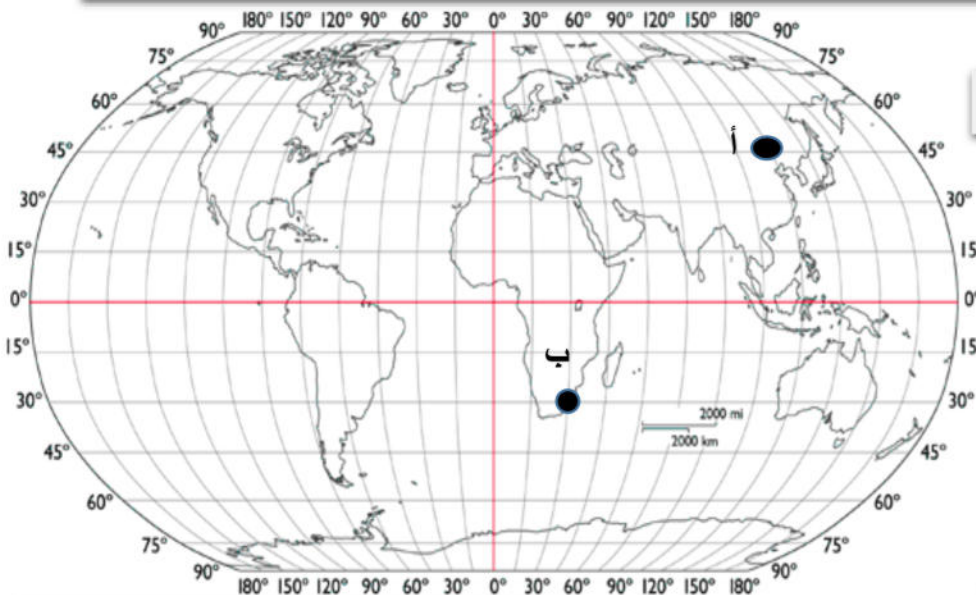
4 ن

الجغرافيا

حدد احداثيات نقاط التقاطع حسب خطوط الطول ودوائر العرض الموقعة على الخريطة:

(أ) : بين خط طول ودائرة العرض

(ب) : بين خط طول ودائرة العرض



2 ن

السؤال الثاني

أظهر خط غرينتش على الخريطة بلون بارز؟

3 ن

السؤال الثالث

أذكر فوائد دوائر العرض؟

.....
.....

إمضاء ولي الأمر

العلامة: 20/.....

الملاحظة:

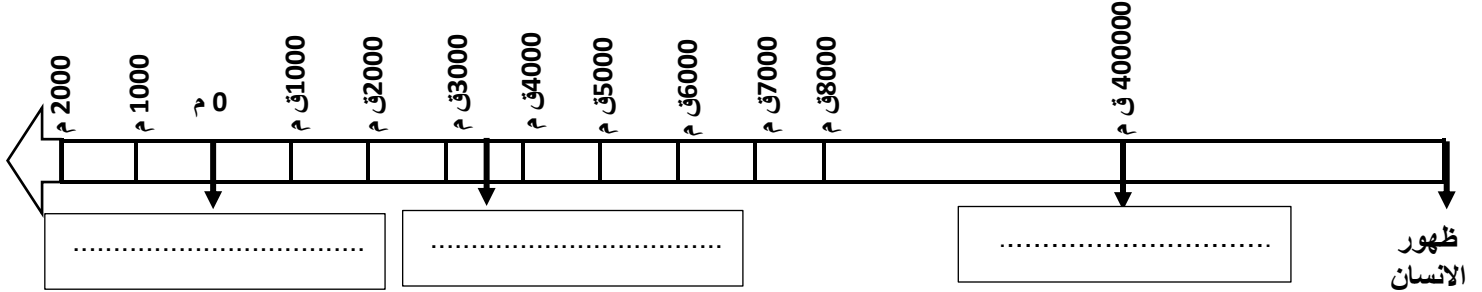
التاريخ

السؤال الأول

1- ضع البيانات التالية في الفراغات المناسبة: - اكتشاف الكتابة - ميلاد عيسى عليه السلام - تعلم الانسان اشعال النار

2- حدد الامتداد الزمني للعصر الحجري الحديث بتلويين الحيز المكاني الذي يشغله على السلم الزمني؟

5 ن



4 ن

ضع علامة (X) في الخانة المناسبة

السؤال الثاني

العصر الحجري الحديث	العصر الحجري القديم	نشاط الإنسان
		عاش الإنسان على الصيد والالتقاط الثمار
		استعمل الإنسان المحراث الخشبي في حرث الأرض
		عاش الإنسان حياة الاستقرار وبنى الأكواخ
		تميزت الأدوات الحجرية بالإتقان

2 ن

لماذا كانت حياة الانسان في عصور مرحلة ما قبل التاريخ بطيئة التطور رغم طول مدتها؟

السؤال الثالث

.....

4 ن

- حدد احدائيات نقاط التقاطع حسب خطوط الطول ودوائر العرض الموقعة على الخريطة:

(أ) : بيّن خط طول ودائرة العرض

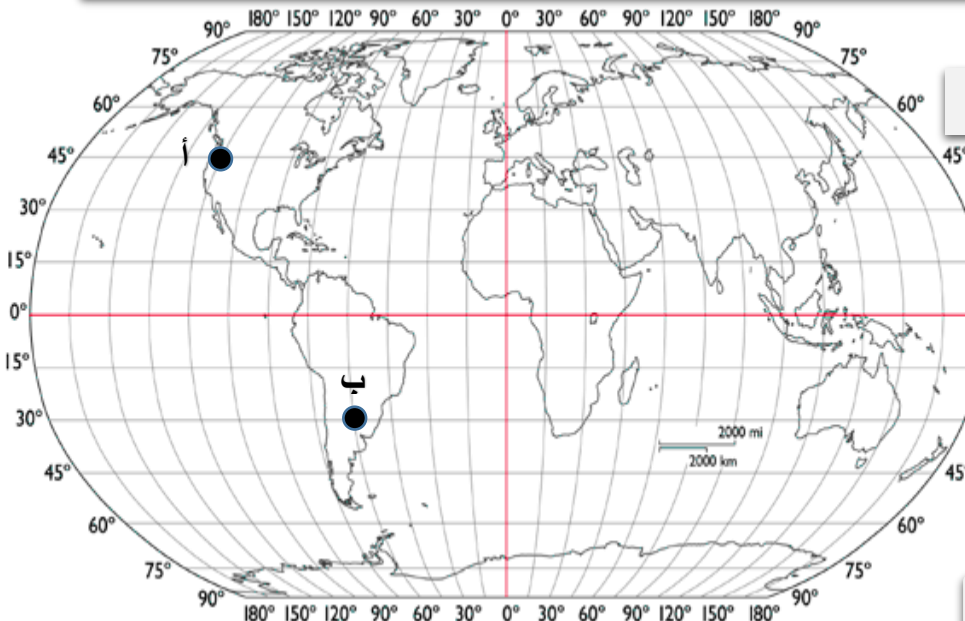
(ب) : بيّن خط طول ودائرة العرض

الجغرافيا

السؤال الأول

السؤال الثاني 2 ن

أظهر خط الاستواء على الخريطة بلون بارز؟



السؤال الثالث 3 ن

أذكر فوائد خطوط الطول:

.....
.....

العلامة: 20/.....

الملاحظة:

إمضاء ولي الأمر