

01/ ضع (ص) او (خ) امام كل عبارة:

- لم يترك الانسان القديم اي معالم تاريخية. ← (.....)
- الاهرامات توجد بدولة فرنسا. ← (.....)
- المعالم التاريخية هي عادات و تقاليد تتميز بها كل منطقة ← (.....)
- تقريبا كل دولة لها معالم تاريخية تتميز بها . ← (.....)
- خلفت الحضارات الغابرة العديد من الاثار ← (.....)
- صور الصين العظيم من المعالم الاثرية و يتواجد بالصين ← (.....)
- المخطوطات و المسكوكات من المعالم التاريخية. ← (.....)

02/ اربط كل معلم اثري بمنطقة تواجده:

حي القصبة	سوريا
قصر القرارة	الاردن
البتراء	اليزي (الجزائر)
الطاسيلي تاجر	الجزائر
قلعة بني حماد	المسيلة (الجزائر)
تذمر	سطيف (الجزائر)
الاثار الرومانية	غرداية(الجزائر)
الاهرامات	الصين
صور الصين العظيم	مصر

03/ اجب عن الاسئلة التالية معتمدا على ما درست:

- ماذا نقصد بالمعالم التاريخية ؟

- لماذا سميت بالتاريخية؟

هل تعلم ان المحافظة على قراءة
القران و تدبره و ترتيله بشكل دائم
و بانتظام تجعل لسانك فصيحاً و
تجل اسلوبك في الحديث في قمة
الراقي و الجاذبية

.....
.....
- اذكر بعض المعالم الاثرية في الجزائر و مع ذكر اماكن تواجها

.....
.....
- اذكر بعض المعالم الاثرية العالمية

.....
.....
- فيما تكمن اهمية هذه المعالم؟

.....
.....
04/ ضع (ص) او (خ) امام كل عبارة:

- تم اكتشاف الكتابة سنة 3200 ميلادي ← (.....)
- قسم المؤرخون المراحل التاريخية الى ثلاثة مراحل. ← (.....)
- اول المراحل التاريخية هي مرحلة التاريخ القديم ← (.....)
- تاريخ بداية فترة تاريخية معينة هو تاريخ نهاية الفترة التي سبقتها. ← (.....)
- تنتهي مرحلة التاريخ القديم باكتشاف الكتابة حوالي 3200 ق م ← (.....)
- سقطت روما على يد القبائل الجرمانية سنة 476م ← (.....)
- في مرحلة التاريخ الوسيط عاش العالم الاسلامي ازهى عصوره من حيث التطور ← (.....)
- من اشهر ملوك العصر القديم ماسينيسا. ← (.....)
- بدأت مرحلة التاريخ الحديث من الثورة الفرنسية سنة 1789م. ← (.....)
- في مرحلة التاريخ الحديث عرف العالم الاسلامي ركودا حضاريا ← (.....)
- عرفت اوروبا عصر النهضة في مرحلة التاريخ المعاصر ← (.....)

05/ اجب عن الاسئلة التالية:

.....
.....
- قسم المؤرخون العصور التاريخية الى اربعة مراحل. اذكرها بالترتيب

.....
.....
- في اي عصر عاش العالم الاسلامي ازهى عصوره من حيث التطور الحضاري؟

.....
- في أي عصر عرفت أوروبا عصر النهضة؟
.....

- في أي مرحلة تاريخية ظهر الإسلام؟
.....

- في أي مرحلة تاريخية تم مبايعة الأمير عبد القادر و في أي سنة؟
.....

06 / اكمل الجدول التالي :

المرحلة التاريخية	تبدأ من	تنتهي	مميزاتها و شخصياتها
مرحلة التاريخ القديم			
مرحلة التاريخ الوسيط			
مرحلة التاريخ الحديث			
مرحلة التاريخ المعاصر			

07/ اربط كل شخصية بالعصر المناسب لها:

الامير عبد القادر	ماسينيسا
مرحلة التاريخ القديم	خيرالدين بربروس
مرحلة التاريخ الوسيط	الرايس حميدو
مرحلة التاريخ الحديث	يوغرتا
مرحلة التاريخ المعاصر	العربي بن مهدي
	عقبة بن نافع

08/ اكمل الجدول التالي:

اليك بعض مميزات العصور التاريخية . اربط كل عصر تاريخي بما يميزه:

اكتشاف الكتابة	مرحلة التاريخ القديم
الحملة الاسبانية على السواحل الجزائرية	مرحلة التاريخ الوسيط
الاكتشافات الجغرافية و التطور التكنولوجي	مرحلة التاريخ الحديث
الاحتلال الفرنسي للجزائر	مرحلة التاريخ المعاصر
مولد النبي عيسى عليه السلام	
الحربين العالميتين	
صك النوميديون لعملة لتسهيل التجارة	
استرجاع السيادة و اعادة بناء الدولة الجزائرية	

09/ سطر الاجابة الصحيحة:

مر على الجزائر عدة شخصيات و في عصور مختلفة:

- طارق بن زياد ← العصر المعاصر - العصر القديم - العصر الوسيط

- ماسينيسا ← العصر القديم - العصر المعاصر

- الامير عبد القادر ← العصر المعاصر - العصر الحديث
خير الدين بربروس ← العصر القديم - العصر الحديث -العصر الوسيط.

10/ ضع (ص) او (خ) امام كل عبارة:

- تم فتح قنصلية فرنسا في الجزائر سنة 1518م←(.....)
- لم تكن للجزائر اي مكانة دولية و لم تكن تتمتع باي قوة بحرية في القرن 16 و النصف الاول من القرن 17←(....)
- كانت دول كثيرة تدفع اتاوات (ضرائب) للجزائر.←(.....)
- بفضل موقع الجزائري الهام كانت لها مكانة دولية.←(.....)
- كانت العلاقات الفرنسية الجزائرية متوترة خلال القرن 16 و النصف الاول من القرن 17.←(.....)
- المرجان و الصوف من صادرات الجزائر قبل الاحتلال.←(.....)
- خير الدين بربروس و الرايس حميدو من بين البحارة الشجعان في الاسطول الجزائري.←(.....)
- كانت الجزائر فقيرة من حيث الثروات قبل الاحتلال الفرنسي.←(.....)

11/ اجب عن الاسئلة التالية:

- اذكر بعض صادرات الجزائر قبل الاحتلال

.....
- في الفترة الممتدة بين 1518م و 1830 كانت كثير من الدول الاوروبية و غيرها الامريكية تسعى الى كسب ود الجزائر و رضاها .

اشرح ماذا كانت تفعل تلك الدول و لماذا؟ و بماذا كانت تتمتع الجزائر في تلك الفترة؟

.....
.....
.....
- خلال القرن 16 و النصف الاول من القرن 17 كيف اتسمت العلاقة بين فرنسا و الجزائر؟ و ماهو السبب الذي دفع الفرنسيين للتقرب من الجزائريين؟ و ماهي الامتيازات التي حصلت عليها جراء هذه العلاقة؟

.....
.....
.....
- اكتسبت البحرية الجزائرية مكانة دولية متميزة . و هذا بفضل

- خلال الثورة الفرنسية سنة 1789 م طلب فرنسا المساعدة من الجزائر و بماذا اجابتها الجزائر؟

12/ ضع (ص) ام (خ) امام كل عبارة :

- الاستعمار هو حماية دولة قوية لدولة صغيرة. (.....)
- الاستعمار هو نهب و سلب لثروات البلاد المستعمرة. (.....)
- شهد العصر الوسيط بداية الحركات التحررية. (.....)
- وقعت معظم الدول العربية تحت طائلة الاستعمار الاجنبي. (.....)
- نشر الدين المسيحي من بين دوافع الاستعمار. (.....)
- من بين اسباب الاحتلال الاوروبي ارتفاع اسعار التوابل للمستهلك الاوروبي. (.....)
- من بين اثار الاستعمار الاوروبي انتشار الفقر و الجهل. (.....)
- الاستعمار شيء ايجابي. (.....)
- الدافع الرئيسي للاستعمار هو الدافع الاقتصادي. (.....)
- الاستعمار ساعد الدول المستعمرة على بناء دولتهم. (.....)

13/ وضعية ادماجية 01:

- من خلال دراستنا للمراحل التاريخية الكبرى نعلم جيدا ان التاريخ المعاصر انطلق من سنة 1789م قيام الثورة الصناعية التي كانت نهضة كبيرة لقارة اوربا و منها بدأت قوة دولها تزداد وبذلك ازدياد حاجتهم الى المواد الاولية ومنه فقد كانوا بحاجة كبيرة الى ان يستغلوا مناطق اخرى لياخذوا منها كل ما يحتاجونه فانطلقوا في السيطرة على دول كثيرة الموارد الطبيعية و ضعيفة القوة و اخضعوها لسيطرتهم.

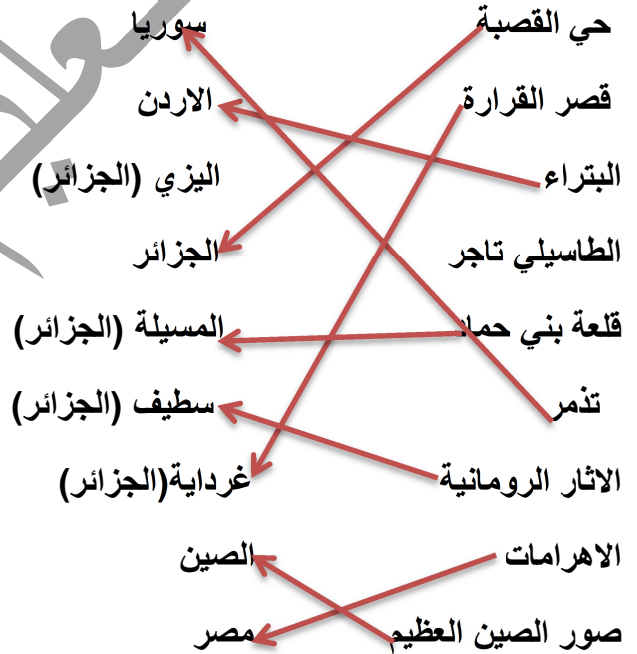
-من خلال السند ما هو مفهوم الاستعمار؟ و ماذا نقصد بالاستعمار الحديث؟

- و ماهي اسبابه و دوافعه؟ وكيف كانت اثاره و انعكاساته على هذه الدول و خاصة العربية و الاسلامية؟

01 / ضع (ص) او (خ) امام كل عبارة:

- لم يترك الانسان القديم اي معالم تاريخية. ← (خ)
- الاهرامات توجد بدولة فرنسا. ← (خ)
- المعالم التاريخية هي عادات و تقاليد تتميز بها كل منطقة ← (خ)
- تقريبا كل دولة لها معالم تاريخية تتميز بها. ← (ص)
- خلفت الحضارات الغابرة العديد من الاثار ← (ص)
- صور الصين العظيم من المعالم الاثرية و يتواجد بالصين ← (ص)
- المخطوطات و المسكوكات من المعالم التاريخية. ← (خ)

02 / اربط كل معلم اثري بمنطقة تواجد:



03 / اجب عن الاسئلة التالية معتمدا على ما درست:

- ماذا نقصد بالمعالم التاريخية ؟

هي ابنية او منشآت اثرية تتميز بها منطقة ما تكتسب اهميتها من حجمها او جمالها او من قدمها و توجد في العالم العديد من المعالم التاريخية فلا تكاد تخلو دولة ما من معلم اثري هام استطاع ان يخلد حضارة.

- لماذا سميت بالتاريخية؟ سميت بالتاريخية لأنها ارتبطت بتاريخ محدد او احداث معينة .

- اذكر بعض المعالم الاثرية في الجزائر و مع ذكر اماكن تواجدها ← مقام الشهيد بالجزائر العاصمة وهو رمز النضال و الاستشهاد من اجل الحرية - جامع كشاوة في الجزائر العاصمة معلم تاريخي ديني . قلعة بني حماد نجدها في المسيلة - الطاسيلي تاجر نجده في اليزي (الجزائر)

- اذكر بعض المعالم الاثرية العالمية ← اهرامات الجيزة نجدها بمصر وهي معلم تاريخي اثري يرجع لعهد الفراعنة- سور الصين العظيم وهو اطول سور في العالم و هو معلم تاريخي معماري. - برج بيزا المائل في ايطاليا بمدينة توكسانا و يعتبر من اهم المعالم الاثرية في العالم - تاج محل في الهند - البتراء و توجد جنوب الاردن
- فيما تكمن اهمية هذه المعالم؟ ← يمكن ان تعطينا فكرة عن الحقب التاريخية القديمة و شكلها و طبيعتها و عن طبيعة حياة البشر التي عاشت فيها و للآثار اهمية في ربط الماضي بالحاضر و المستقبل.

04/ ضع (ص) او (خ) امام كل عبارة:

- تم اكتشاف الكتابة سنة 3200 ميلادي ← (خ)
- قسم المؤرخون المراحل التاريخية الى ثلاثة مراحل. ← (خ)
- اول المراحل التاريخية هي مرحلة التاريخ القديم ← (ص)
- تاريخ بداية فترة تاريخية معينة هو تاريخ نهاية الفترة التي سبقتها. ← (ص)
- تنتهي مرحلة التاريخ القديم باكتشاف الكتابة حوالي 3200 ق م ← (خ)
- سقطت روما على يد القبائل الجرمانية سنة 476م ← (ص)
- في مرحلة التاريخ الوسيط عاش العالم الاسلامي ازهى عصوره من حيث التطور ← (ص)
- من اشهر ملوك العصر القديم ماسينيسا. ← (ص)
- بدأت مرحلة التاريخ الحديث من الثورة الفرنسية سنة 1789م. ← (خ)
- في مرحلة التاريخ الحديث عرف العالم الاسلامي ركودا حضاريا ← (ص)
- عرفت اوروبا عصر النهضة في مرحلة التاريخ المعاصر ← (خ)

05/ اجب عن الاسئلة التالية:

- قسم المؤرخون العصور التاريخية الى اربعة مراحل. اذكرها بالترتيب
- 1- مرحلة التاريخ القديم / 2- مرحلة التاريخ الوسيط / 3- مرحلة التاريخ الحديث / 4- مرحلة التاريخ المعاصر
- في اي عصر عاش العالم الاسلامي ازهى عصوره من حيث التطور الحضاري؟
- عاش العالم الاسلامي ازهى عصوره من حيث التطور الحضاري في مرحلة التاريخ الوسيط.
- في أي عصر عرفت أوروبا عصر النهضة؟ -- عرفت اوروبا عصر النهضة في مرحلة التاريخ الحديث
- في اي مرحلة تاريخية ظهر الاسلام؟ ظهر الاسلام في مرحلة التاريخ الوسيط حيث ان مولد الرسول محمد (ص) و ظهور الاسلام ابرز احداث العصور الوسطى

-في اي مرحلة تاريخية تم مبايعة الامير عبد القادر و في اي سنة ؟

تمت مبايعة الامير عبد القادر في مرحلة التاريخ المعاصر و كان ذلك في 27 نوفمبر 1832م

06/ اكمل الجدول التالي :

المرحلة التاريخية	تبدأ من	تنتهي	مميزاتها و شخصياتها
مرحلة التاريخ القديم	تبدأ من ظهور الكتابة حوالي 3200 ق م	تنتهي بسقوط روما سنة 476م	اكتشاف الكتابة – ميلاد سيدنا عيسى عليه السلام ظهور الديانات (المسيحية و اليهودية شخصياتها نجد الملك ماسينيسا – الملك يوغرطة الملك سيفاقس
مرحلة التاريخ الوسيط	تبدأ من سقوط روما سنة 476م	تنتهي ب فتح القسطنطينية سنة 1453م	فتح القسطنطينية – انتشار الجهل و الظلم و التخلف في اوربا – مولد النبي محمد (ص) – انتشار الفتوحات الاسلامية و ازدهار الحضارة الاسلامية في كل مجالات الحياة شخصياتها : عقبة بن نافع –محمد الفاتح –طارق بن زياد
مرحلة التاريخ الحديث	تبدأ من فتح القسطنطينية سنة 1453م	تنتهي بقيام الثورة الفرنسية سنة 1789م	قيام النهضة الاوروبية - ظهور الثورة الصناعية ظهور الاكتشافات الجغرافية – سقوط غرناطة احتلال الاسبان شخصياته:الاخوة بربروس (خير الدين و عروج)
مرحلة التاريخ المعاصر	تبدأ من الثورة الفرنسية سنة 1789م	تمتد الى يومنا هذا	الاكتشافات العلمية و التطور التكنولوجي ابرزها الصعود الى القمر-قيام الحرب العالميتين ظهور الحركات الاستعمارية – ظهور الحركات التحررية شخصياتها: الامير عبد القادر

07/ اربط كل شخصية بالعصر المناسب لها:



08 / اكمل الجدول التالي:

اليك بعض مميزات العصور التاريخية . اربط كل عصر تاريخي بما يميزه:

اكتشاف الكتابة	مرحلة التاريخ القديم
الحملة الاسبانية على السواحل الجزائرية	مرحلة التاريخ الوسيط
الاكتشافات الجغرافية و التطور التكنولوجي	مرحلة التاريخ الحديث
الاحتلال الفرنسي للجزائر	مرحلة التاريخ المعاصر
مولد النبي عيسى عليه السلام	
الحربين العالميتين	
صك النوميديون لعملة لتسهيل التجارة	
استرجاع السيادة و اعادة بناء الدولة الجزائرية	

09 / سطر الاجابة الصحيحة:

مر على الجزائر عدة شخصيات و في عصور مختلفة:

- طارق بن زياد ← العصر المعاصر - العصر القديم - العصر الوسيط

- ماسينييسا ← العصر القديم - العصر المعاصر

- الامير عبد القادر ← العصر المعاصر - العصر الحديث

- خير الدين بربروس ← العصر القديم - العصر الحديث - العصر الوسيط.

10/ ضع (ص) او (خ) امام كل عبارة:

- تم فتح قنصلية فرنسا في الجزائر سنة 1518م ← (خ)
- لم تكن للجزائر اي مكانة دولية و لم تكن تتمتع باي قوة بحرية في القرن 16 و النصف الاول من القرن 17 ← (خ)
- كانت دول كثيرة تدفع اتاوات (ضرائب) للجزائر. ← (ص)
- بفضل موقع الجزائري الهام كانت لها مكانة دولية. ← (ص)
- كانت العلاقات الفرنسية الجزائرية متوترة خلال القرن 16 و النصف الاول من القرن 17. ← (خ)
- المرجان و الصوف من صادرات الجزائر قبل الاحتلال. ← (ص)
- خير الدين بربروس و الرايس حميدو من بين البحارة الشجعان في الاسطول الجزائري. ← (ص)
- كانت الجزائر فقيرة من حيث الثروات قبل الاحتلال الفرنسي. ← (خ)

11/ اجب عن الاسئلة التالية:

- اذكر بعض صادرات الجزائر قبل الاحتلال ← كانت صادرات الجزائر قبل الاحتلال تتمثل في : الحبوب (القمح خاصة)

- المرجان - الصوف - الشمع

- في الفترة الممتدة بين 1518م و 1830 كانت كثير من الدول الاوروبية و غيرها الامريكية تسعى الى كسب ود الجزائر و رضاها .

اشرح ماذا كانت تفعل تلك الدول و لماذا؟ و بماذا كانت تتمتع الجزائر في تلك الفترة؟

- كانت كثير من الدول الاوروبية و الولايات المتحدة تدفع اتاوات (ضرائب) سنوية للجزائر مقابل كسب ودها و ضمان مرورها بسلام في حوض البحر الابيض المتوسط فقد كانت الجزائر تتمتع بقوة اقتصادية و بحرية في تلك الفترة

- خلال القرن 16 و النصف الاول من القرن 17 كيف اتسمت العلاقة بين فرنسا و الجزائر؟ و ماهو السبب الذي دفع الفرنسيين للتقرب من الجزائريين؟ و ماهي الامتيازات التي حصلت عليها جراء هذه العلاقة؟

- خلال القرن 16 و النصف الاول من القرن 17 احتلت الجزائر مكانة مرموقة بفضل موقعها الهام و قوة اسطولها و كفاءة و شجاعة بحارتها و كثرة ثرواتها هذه المكاتنة دفعت الفرنسيين الى التقرب من الجزائريين و محاولة كسب ودهم و رضاهم فتحسنت العلاقة بين البلدين فعم التعاون و الونام بينهما وفتحت فرنسا قنصلية لها في الجزائر سنة 1581م و تحصلت فرنسا على امتياز صيد المرجان بين القالة و عنابة.

- اكتسبت البحرية الجزائرية مكانة دولية متميزة . و هذا بفضل تنظيم و قوة بحارتها و شجاعتهم من امثال عروج خير الدين - مراد راييس - الرايس حميدو.....

- خلال الثورة الفرنسية سنة 1789 م طلبت فرنسا المساعدة من الجزائر .كيف كان رد الجزائر؟ .

* خلال الثورة الفرنسية سنة 1789م طلبت فرنسا المساعدة من الجزائر فزودتها الجزائر بكل ما تحتاجه من معدات و مؤن و مال .

12/ ضع (ص) ام (خ) امام كل عبارة :

- الاستعمار هو حماية دولة قوية لدولة صغيرة - (خ)
- الاستعمار هو نهب و سلب لثروات البلاد المستعمرة. - (ص)
- شهد العصر الوسيط بداية الحركات التحررية. - (خ)
- وقعت معظم الدول العربية تحت طائلة الاستعمار الاجنبي. - (ص)
- نشر الدين المسيحي من بين دوافع الاستعمار . - (ص)
- من بين اسباب الاحتلال الاوروبي ارتفاع اسعار التوابل للمستهلك الاوروبي . - (ص)
- من بين اثار الاستعمار الاوروبي انتشار الفقر و الجهل. - (ص)
- الاستعمار شيء ايجابي - (خ)
- الدافع الرئيسي للاستعمار هو الدافع الاقتصادي. - (ص)
- الاستعمار ساعد الدول المستعمرة على بناء دولتهم - (خ)

13/ وضعية ادماجية 01:

- من خلال دراستنا للمراحل التاريخية الكبرى نعلم جيدا ان التاريخ المعاصر انطلق من سنة 1789م قيام الثورة الصناعية التي كانت نهضة كبيرة لقارة اوربا و منها بدأت قوة دولها تزداد وبذلك ازدياد حاجتهم الى المواد الاولية ومنه فقد كانوا بحاجة كبيرة الى ان يستغلوا مناطق اخرى لياخذوا منها كل ما يحتاجونه فانطلقوا في السيطرة على دول كثيرة الموارد الطبيعية و ضعيفة القوة و اخضعوها لسيطرتهم.

-من خلال السند ما هو مفهوم الاستعمار؟ و ماذا نقصد بالاستعمار الحديث؟

- و ماهي اسبابه و دوافعه؟ وكيف كانت اثاره و انعكاساته على هذه الدول و خاصة العربية و الاسلامية؟

الاستعمار هو ظاهرة تهدف الى سيطرة دولة قوية على دولة ضعيفة لاستغلال خيراتها في المجالات الاقتصادية و الاجتماعية و الثقافية و تسمى الاراضي الواقعة تحت الاحتلال و الاستعمار البلاد المستعمرة وقد وقعت معظم البلاد العربية تحت الاستعمار الاجنبي.

اما الاستعمار الحديث فقد ظهر هذا الاستعمار بعد قيام الثورة الصناعية في اوروبا في القرن التاسع عشر حيث بدأت هذه الدول تبحث عن الاسواق لتصريف منتجاتها مستهدفة الشعوب و البلدان ضعيفة القوى الغنية بالموارد الاولية في افريقيا و اسيا

ومن بين اسباب و دوافع الاستعمار نجد:- استغلال ثروات و خيرات الشعوب -التخلص من مشاكلهم الداخلية -نشر المسيحية - استبدال اللغة الاصلية بلغة اخرى اجنبية -تخفيف الضغط السكاني في بلدانهم - توسيع رقعتهم الجغرافية من خلال السيطرة على مساحات جغرافية واسعة -الموقع الاستراتيجي الهام. توفير مناصب شغل للعاطلين من الاوروبيين. نشر الحضارة الاوروبية (رسالة الرجل الابيض)

وقد كان للاستعمار اثار سلبية و انعكاسات كثيرة على الشعوب و الدول المستعمرة منها :

- تدمير اقتصاد الدول المستعمرة -هدم القيم الاخلاقية الاسلامية وانتشار الرذيلة - سلب الدين وهو ابعاد الناس عن دينهم مه هدم العادات و التقاليد - التخلف في جميع الميادين - انقسام العالم العربي و الافريقي الى دويلات صغيرة -غرس الحضارة الاوروبية من خلال فرض اللغة الدخيلة و هو ما سبب تضاربا ثقافيا -زراعة الفرقة بين المسلمين .

(لا يجب التقيد باجاباتي و يجب الأخذ بعين الاعتبار ملخصات التلاميذ و التعاريف التي اخدوها في القسم لان كل استاذ له اسلوبه و طريقته في التلخيص) (و ايضا يرجى الانتباه للدروس و تحديد الدروس التي تم اخدها في القسم)

"" جل من لا يخطئ""

عند مراجعة الاجوبة يرجى الانتباه لربما وجدت اخطاء في الاجابة قد تكون وقعت مني سهوا او عن طريق خطأ غير مقصود (اخطاء مطبعية

ان احسنت فمن الله وان اسأت
فمن نفسي و الشيطان

01 / ضع (ص) او (خ) امام كل عبارة:

البلدية هي نفسها الولاية. ← (.....)

- تختلف مساحة البلديات كما يختلف موقعها الجغرافي ← (.....).

- كل بلديات الجزائر بلديات ساحلية ← (.....).

- بلدية عين الكرمة من البلديات الداخلية ← (.....).

- الولاية وحدة جغرافية تختلف كل واحدة عن الاخرى ← (.....).

- اصغر وحدة في التنظيم الهيكلي الاداري هي الولاية ← (.....).

- الولايات كلها لها نفس المقر. ← (.....)

- لكل ولاية نشاط اقتصادي و عدد سكان خاص بها. ← (.....)

- لكل ولاية مقر و رقعة جغرافية و ليس لها حدود معينة. ← (.....)

02 / اربط كل عبارة بما يناسبها :

بلديات حدودية	بلدية المحمدية
بلديات داخلية	بلدية ايليزي
بلديات صحراوية	بلدية ام الطبول
بلديات ساحلية	بلدية عين الكرمة

03 / اجب عن الاسئلة التالية:

- كيف يمكننا تحديد عنوان اي شخص نرغب في الوصول اليه؟

.....

- عرف البلدية؟

.....

- ماهي انواع البلديات؟ مع ذكر أمثال عن كل بلدية.

.....

.....

- ماذا تعرف عن الولاية؟.....

- ما هو الاختلاف بين كل ولاية و اخرى ؟

.....

- ما هي اصغر وحدة في التنظيم الهيكلي الاداري؟

.....

- ما هو التنظيم الاكبر من البلدية؟.....

- اذكر بعض الولايات التي تعرفها؟.....

04/ اربط كل عبارة بما يناسبها:

الولاية	رقعة جغرافية صغيرة من الوطن
	تضم عدة بلديات
	اصغر وحدة في التنظيم الهيكلي الاداري
البلدية	وحدة ادارية و جغرافية
	هي التنظيم الاكبر من البلدية
	لها مقر و رقعة جغرافية وحدود معينة

05/ ضع (ص) او (خ) امام كل عبارة:

- لتحديد موقع ما على سطح الارض نستعين بالبوصلـة←(.....).

- خطوط الطول و دوائر العرض حقيقية←(.....).

- لا يمر بالجزائر اي خط طول او دائرة عرض←(.....).

- تقع الجزائر بين خطي طول 12° شرقا و 9° غربا←(.....).

-تقع الجزائر بين دائرتي عرض 18° و 38° شمالا.←(.....)

- خط غرينيتش و درجته 0 يمر بالشمال الجزائري←(.....).

- خط غرينتش درجته 12 درجة←(.....)

-- مدار السرطان يمر بالصحراء الجزائرية.←(.....)

06/ اجب عن الاسئلة التالية:

- عرف خطوط الطول و دوائر العرض؟

.....
.....
- يمر على الجزائر خطان اساسيان ما هما ؟

.....
.....
- ما هو موقع الجزائر بالنسبة للوطن العربي؟

.....
.....
- ما هو موقع الجزائر بالنسبة لقارة افريقيا ؟

.....
.....
- للجزائر حدود مشتركة مع عدة بلدان من المغرب العربي .اذكرها ؟

.....
.....
- ما هي مرتبة الجزائر من حيث المساحة بالنسبة لبلدان المغرب العربي و بلدان حوض البحر الابيض المتوسط ؟

.....
.....
- ما هو طول الساحل الجزائري؟

07 / اربط كل عبارة بما يناسبها:

بلديات الشمال	واسعة المساحة
بلديات الجنوب	كثيرة عدد السكان
	صغيرة المساحة
	قليلة عدد السكان

08 / ضع (ص) او (خ) امام كل عبارة:

الجزائر احدى بلدان المغرب العربي. ← (.....)

- ليس للجزائر حدود مشتركة مع دول المغرب العربي . ← (.....)

- تحتل الجزائر المرتبة الثانية من حيث المساحة بالنسبة لبلدان المغرب العربي. ← (.....)

- طول الساحل الجزائري 1500 كلم. ← (.....)

- للجزائر امتداد كبير بين الشرق و الغرب و الشمال و الجنوب. ← (.....)

- موقع الجزائر الاستراتيجي جعلها محل اطماع الاستعمار. ← (.....)

- تقع الجزائر في قارة اسيا. ← (.....)

09/ اربط كل عبارة بما يناسبها:

للجزائر امتداد كبير بين الشرق و الغرب و الشمال و الجنوب .

ابعاد الجزائر كالتالي:

1978كلم
1200كلم
1820كلم
1840كلم
1883كلم

من الشمال الى الجنوب
من تندوف الى اقصى الشمال الشرقي
من تندوف الشرق (الحدود)
من اقصى الشمال الغربي الى الجنوب
طول الساحل

10/ اذكر دول المغرب العربي حسب الأرقام :



.....1-2-3

.....4-5-6

11/ اجب عن الاسئلة التالية:

- على ماذا نعتد لتحديد موقع ما على سطح الأرض ؟

.....

- اعتمادا على ما ذكرت ، حدد موقع الجزائر .

.....

- ما هي الخطوط الرئيسية التي تمر بالجزائر ؟ .

- أذكر حدود الجزائر من الجهات الأربعة .

- ما هي الأشياء التي جعلت موقع الجزائر هاماً .

- ما هو طول الساحل الجزائري ؟ .

12/ اربط كل عبارة بما يناسبها:

الجزائر احدى	شمال افريقيا
مساحة الجزائر	بلدان المغرب العربي
تتوسط الجزائر بلدان	بلدان حوض البحر الابيض المتوسط
تقع الجزائر	كلم 2381741

13/ اكمل الفراغات بما يناسب:

تتوسط الجزائر بلدان و بلدان حوض
- الجزائر هي الدولة الوحيدة التي ترتبط بحدود مع كل بلدان
للجزائر واجهة شمالية على
- موقع الجزائر جعلها محل و استعمارية عبر التاريخ مما يحتم
عليها ان تكون

14/ ضع ص () او (خ) امام كل عبارة:

- تضاريس الجزائر متشابهة بين الشمال و الجنوب. < (.....)
- مدار السرطان يمر بالشمال الجزائري. < (.....)
- تطل الجزائر على البحر الابيض المتوسط بساحل متعرج من جيجل الى وهران. < (.....)
- معظم تضاريس الجزائر هضاب. < (.....)
- للجزائر سلسلة جبلية واحدة. < (.....)
- هناك نوعان من السهول في شمال الجزائر. < (.....)
- جبال الهقار تنتمي الى سلسلة الاطلس الصحراوي. < (.....)
- الرق هي سهول رملية واسعة. < (.....)
- اعلى قمة جبلية في الجزائر هي قمة تاهات. < (.....)
- موقع الجزائر الهام جعلها طريق فاصل بين قارات العالم. < (.....)

15/ اربط كل عبارة بما يناسبها:

- | | |
|-------------------------|--|
| ● سلسلة الاطلس الصحراوي | ● خصبة سهل متيجة و سهل وهران |
| ● سهول داخلية | ● تتكون من جبال القصور . العمور |
| ● سهول ساحلية | ● سهول صخرية |
| ● سلسلة الاطلس التلي | ● اقل خصوبة و اكثر جفاف مل سهل سيدي بلعباس |
| ● العرق | ● تتكون من جبال تسالا . الونشريس |
| ● الرق | ● سهول رملية |

16 / اكمل :

اذكر حدود الجزائر من :

-- الشمال
-- الجنوب
-- الشرق
-- الغرب

17 / اربط كل عبارة بما يناسبها:

- اعلى قمة في جبال الاطلس التلي
- اعلى قمة في جبال الاطلس الصحراوي
- اعلى قمة في جبال الهقار
- اعلى قمة في افريقيا
- قمة تاهاات
- قمة لالا خديجة
- قمة كليمانجارو
- قمة الشيلية

18 / اكمل الجدول التالي معتمدا على ما درست و على معلوماتك :

دولتين من قارة افريقيا	دولتين من قارة اسيا	دولتين من قارة امريكا	دولتين من قارة اوروبا

19 / اكمل بما يناسب:

- للجزائر واجهة شمالية على البحر الابيض المتوسط تمتد منعلى الحدود التونسية شرقا الىعلى الحدود المغربية غربا بطول
- الخط الطولي الرئيسييقسم الكرة الارضية الى جهتينو.....
 - الدائرة العرضية الرئيسيةتقسم الكرة الارضية الى جهتينو.....
 - في الجزائر سلسلتين جبليتين هما:-
 - سلسلة
 - سلسلة

20 / اربط كل دولة بمساحتها:

الجزائر	165150 كلم
المغرب الاقصى	2381741 كلم
تونس	1775000 كلم
ليبيا	1030700 كلم
موريتانيا	446550 كلم

21 / اكمل الفراغ ما يناسب:

-الجزائر احدى دولتمتد بين خطي طول.....و.....

و درجتي عرضو..... يحدها من الشمالويمر في جنوبها

<https://modawanettaalimboukhechemmeriem.blogspot.com/>

مدونة التعليم بوخشم مريم

مدار مساحتها تقدر ب و يبلغ شريطها الساحلي
و توجد بها سلسلتان جبليتان هما
تقع الجزائر في قارة وتبلغ مساحتها

22/ اربط كل عبارة بما يناسبها:

المسافة بين الجزائر و عواصم بلدان المغرب العربي:

بين الجزائر و تونس 1024 كلم

بين الجزائر و طرابلس 642 كلم

بين الجزائر و العيون 944 كلم

بين الجزائر و الرباط 1861 كلم

23/ صنف في الجدول التالي الدول الآتية:

الجزائر - مصر - السعودية - العراق - الاردن - تونس - سوريا - المغرب - اليمن

دول عربية افريقية	دول عربية اسيوية

24/ اجب عن الاسئلة التالية:

- ما معنى دول حوض البحر الابيض المتوسط؟

.....
- اذكر دولتين تنتميان الى هذا الحوض؟

- للجزائر واجهة شمالية على البحر الابيض المتوسط.

* كم يبلغ امتداد هذه الواجهة؟

* ما هي حدود هذه الواجهة؟

.....
تتنوع التضاريس في الجزائر . اذكرها؟

- هناك نوعان من السهول شمال الجزائر . ما هما ؟ مع ذكر امثلة.

- ماذا تعرف عن الصحراء؟

- تتكون الصحراء الجزائرية من عدة مظاهر تضاريسية. اذكرها مع شرح بسيط؟

25 / اربط كل عبارة بما يناسبها :

عدد ولايات الجزائر	2381741 كلم
مساحة الجزائر	23
طول الساحل الجزائري	1200 كلم
عدد الدول العربية	48
مساحة افريقيا	30 مليون كلم ²
عدد بلديات الجزائر	1541

26 / املأ الفراغات بالكلمات التالية:

الوطن العربي - البحر الابيض المتوسط - - 19° و 37° شمالا - مدار السرطان - 2381741 كلم²

- افريقيا - 30 مليون كلم² - 12° شرقا و 9° غربا

- الجزائر هي احدى دول.....تمتد بين خطي طول.....و درجتي عرض.....

يحدّها ما شمال.....و يمر في جنوبها.....مساحتها تقدر ب.....

من مساحة.....البالغة.....

27 / املأ الفراغات التالية بالكلمات المناسبة:

تتنوع تضاريس الجزائر. فهناك السلسلة الجبلية التلية المكونة من جبال.....و.....و.....

و هناك السلسلة الجبلية الصحراوية المكونة من جبال.....و.....و.....

و هناك نوعان من السهول. السهول.....مثل سهل متيجة و السهول.....مثل سهل سيدي بلعباس

- اما الصحراء ففيها ثلاثة مظاهر و هي.....و.....و.....

28 ضع (ص) او (خ) امام كل عبارة:

- التصحّر ظاهرة جيدة للأراضي ←(.....)
- ازالة الغابات من عوامل التصحر .←(.....)
- لا توجد اسباب بشرية للتصحّر.←(.....)
- من بين اسباب التصحر قلة المطر.←(.....)
- للحد من التصحر الاكثار من الرعي.←(.....)

29/ اجب عن الاسئلة التالية:

- ماذا تعرف عن التصحر؟

- اذكر بعض العوامل المؤدية للتصحّر؟

- اقترح بعض الحلول للحد او التقليل من ظاهرة التصحر

30/ صنف في الجدول :

يعرف التصحر بأنه تحول الاراضي من اراضي خصبة وصالحة للزراعة الى اراضي جافة جرداء و غير صالحة للزراعة و ذلك لعدة اسباب .

1- صنف اسباب التصحر التالية ال اسباب بشرية و اسباب طبيعية :

2- ازالة الغابات و قطع الاشجار

3 -انجراف التربة بسبب السيول

4- قلة الامطار

5- زحف رمال الصحراء بفعل الرياح

6- الاستغلال المفرط للأراضي بالزراعة المستمرة

7- اساليب الري الحديثة

عوامل و اسباب بشرية	عوامل و اسباب طبيعية

31/ وضعية ادماجية 01:

جاء عندي اخي الصغير مستفهما عن بعض المعلومات . قال لي كنت اشاهد برنامجا تلفزيونيا يتحدث عن الكرة الارضية و يعرض صوراً لها من الفضاء و قد قالو في البرنامج انه توجد خطوط طول و دوائر عرض تقسم الكرة الارضية و تحدثوا ايضا عن احداثيات بعض الدول .

لكنني لم ارى هذه الخطوط و الدوائر في صورة الكرة الارضية المأخوذة عن طريق الاقمار الصناعية من الفضاء.

فهل بإمكانك يا اخي ان تفهمني ما معنى كل هذا؟ و بما تفيدنا هذه الخطوط و الدوائر؟

و هل تعلم اذا كان هناك اي خط يمر بالجزائر؟ و ماهي احداثيات دولتنا؟

او يمكننا ان نطرح سؤال واحد فقط = هل يمكنك يا اخي ان تشرح لي كل هذه المعلومات و ما معنى كل هذا؟

هنا السؤال يتضمن عدة اسئلة مخفية

.....

.....

.....

.....

.....

.....

32/ وضعية ادماجية 02:

ربطت صداقة عبر الأنترنت مع طفل من بلد اخر و قارة اخرى . وهو من معلوماته السابقة يعلم ان الجزائر تقع في افريقيا . لهذا السبب كان يظن انها عبارة عن بلد صحراوي . ولا يوجد بها الا الرمال و الجبال .

في هذه الحالة كيف ستصحح له معلوماته و ماذا ستقول له عن الجزائر؟

.....

.....

.....

.....

.....

.....

01 / ضع (ص) او (خ) امام كل عبارة:

البلدية هي نفسها الولاية. ← (خ)

- تختلف مساحة البلديات كما يختلف موقعها الجغرافي. ← (ص)

- كل بلديات الجزائر بلديات ساحلية. ← (خ)

- بلدية عين الكرمة من البلديات الداخلية. ← (ص)

- الولاية وحدة جغرافية تختلف كل واحدة عن الاخرى. ← (ص)

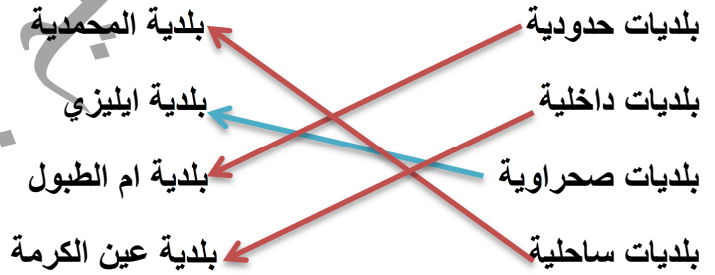
- اصغر وحدة في التنظيم الهيكلي الاداري هي الولاية. ← (خ)

-الولايات كلها لها نفس المقر. ← (خ)

- لكل ولاية نشاط اقتصادي و عدد سكان خاص بها. ← (ص)

- لكل ولاية مقر و رقعة جغرافية و ليس لها حدود معينة. ← (خ)

02 / اربط كل عبارة بما يناسبها :



03 / اجب عن الاسئلة التالية:

- كيف يمكننا تحديد عنوان اي شخص نرغب في الوصول اليه؟

لتحديد عنوان اي شخص نرغب في الوصول اليه يجب معرفة بلديته ثم ولايته ثم بلده دون الحاجة الى معرفة حتى الشارع في بعض البلديات الريفية.

- عرف البلدية ؟ البلدية هي رقعة جغرافية صغيرة من الوطن .

- ماهي انواع البلديات ؟ مع ذكر أمثال عن كل بلدية.

هناك اربعة انواع من البلديات :- بلديات ساحلية مثل بلدية المحمدية – بلديات صحراوية مثل بلدية ايليزي- بلديات حدودية مثل بلدية ام الطبول – بلديات داخلية مثل بلدية عين كرمة

- ماذا تعرف عن الولاية ؟ الولاية هي وحدة جغرافية و ادارية. لكل ولاية مقر و رقعة جغرافية و حدود معينة

- ما هو الاختلاف بين كل ولاية و اخرى ؟

تختلف كل ولاية عن الاخرى من حيث المساحة و النشاط الاقتصادي و عدد السكان.

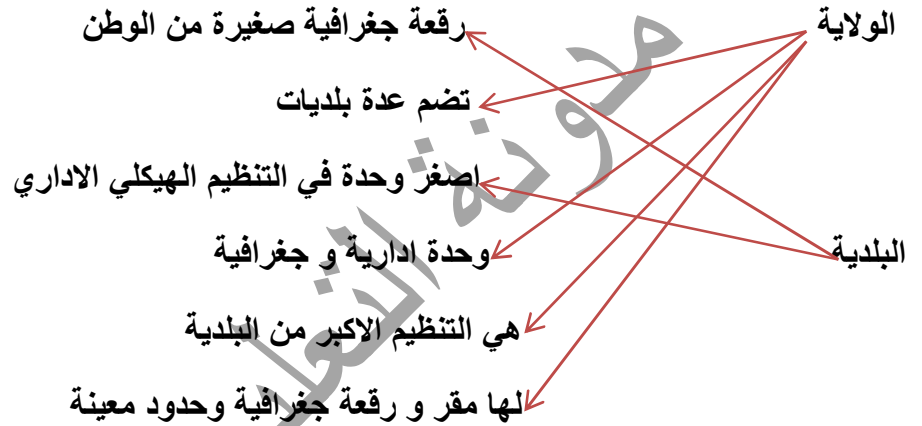
- ما هي اصغر وحدة في التنظيم الهيكلي الاداري؟

- اصغر وحدة في التنظيم الهيكلي الاداري هي البلدية.

- ما هو التنظيم الاكبر من البلدية؟ التنظيم الاكبر من البلدية هي الولاية.

- اذكر بعض الولايات التي تعرفها؟ **جيجل - قسنطينة - عنابة - وهران - الوادي - غرداية - خنشلة.....**

04 / اربط كل عبارة بما يناسبها:



05 / ضع (ص) او (خ) امام كل عبارة:

- لتحديد موقع ما على سطح الارض نستعين بالبوصله ← (خ).
- خطوط الطول و دوائر العرض حقيقية ← (خ).
- لا يمر بالجزائر اي خط طول او دائرة عرض ← (خ).
- تقع الجزائر بين خطي طول 12° شرقا و 9° غربا ← (ص).
- تقع الجزائر بين دائرتي عرض 18° و 38° شمالا ← (خ).
- خط غرينيتش و درجته 0° يمر بالشمال الجزائري. ← (خ)
- خط غرينتش درجته 12 درجة ← (خ)
- مدار السرطان يمر بالصحراء الجزائرية. ← (ص)

06 / اجب عن الاسئلة التالية:

- عرف خطوط الطول و دوائر العرض؟

خطوط الطول و دوائر العرض خطوط وهمية فخط الطول ← خط غرينيتش خط وهمي يتوسط الكرة الارضية عموديا و يقسمها الى قسمين شرقي و غربي.

-دائرة العرض ← الدائرة الاستوائية دائرة وهمية تتوسط الكرة الأرضية أفقيا و تقسمها الى قسمين شمالي و جنوبي.

- يمر على الجزائر خطان اساسيان ما هما ؟

- يمر بالجزائر خطان رئيسيان هما :- خط غرينتش و درجته 0° و يمر بالغرب الجزائري قرب مدينة مستغانم

- مدار السرطان و درجته 23°27- شمالا و يمر الى الشمال من مدينة تمنراست.

- ما هو موقع الجزائر بالنسبة للوطن العربي؟

- تقع الجزائر في الجناح الغربي من الوطن العربي.

- ما هو موقع الجزائر بالنسبة لقارة افريقيا ؟

- تقع الجزائر في شمال قارة افريقيا .

- للجزائر حدود مشتركة مع عدة بلدان من المغرب العربي .اذكرها ؟

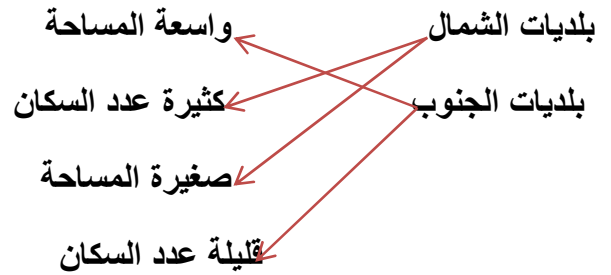
- للجزائر حدود مشتركة مع عدة بلدان من المغرب العربي و هي :ليبيا - تونس - المغرب الأقصى - الصحراء الغربية - موريتانيا

- ما هي مرتبة الجزائر من حيث المساحة بالنسبة لبلدان المغرب العربي و بلدان حوض البحر الابيض المتوسط ؟

- تحتل الجزائر المرتبة الاولى من حيث المساحة بالنسبة لبلدان المغرب العربي و بلدان البحر الابيض المتوسط.

- ما هو طول الساحل الجزائري؟ - طول الساحل الجزائري 1200 كلم.

07/ اربط كل عبارة بما يناسبها:



08/ ضع (ص) او (خ) امام كل عبارة:

الجزائر احدى بلدان المغرب العربي. ← (ص)

- ليس للجزائر حدود مشتركة مع دول المغرب العربي. ← (خ)

- تحتل الجزائر المرتبة الثانية من حيث المساحة بالنسبة لبلدان المغرب العربي. ← (خ)

- طول الساحل الجزائري 1500 كلم. ← (خ)

- للجزائر امتداد كبير بين الشرق و الغرب و الشمال و الجنوب. ← (ص)

- موقع الجزائر الاستراتيجي جعلها محل اطماع الاستعمار. ← (ص)

- تقع الجزائر في قارة اسيا. ← (خ)

09/ اربط كل عبارة بما يناسبها:

للجزائر امتداد كبير بين الشرق و الغرب و الشمال و الجنوب .

ابعاد الجزائر كالتالي:

1978 كلم	من الشمال الى الجنوب
1200 كلم	من تندوف الى اقصى الشمال الشرقي
1820 كلم	من تندوف الى الشرق (الحدود)
1840 كلم	من اقصى الشمال الغربي الى الجنوب
1883 كلم	طول الساحل

10/ اذكر دول المغرب العربي حسب الأرقام :

1- موريتانيا 2- الصحراء الغربية 3- المغرب الأقصى .

4- الجزائر 5- تونس 6- ليبيا

11/ اجب عن الاسئلة التالية:

- على ماذا نعتمد لتحديد موقع ما على سطح الأرض ؟

لتحديد موقع ما على سطح الارض وضع العلماء شبكة من الخطوط الوهمية اطلقوا عليها اسم (خطوط الطول و دوائر العرض)

- اعتمادا على ما ذكرت ، حدد موقع الجزائر .

- تقع الجزائر بين خطي طول 12° شرقا و 9° غربا و بين دائرتي عرض 19° و 37° شمالا

- ما هي الخطوط الرئيسية التي تمر بالجزائر ؟ .

- يمر بالجزائر خطان رئيسيان هما : -خط غرينيتش و درجته 0° و يمر بالغرب الجزائري قرب مدينة مستغانم.

- مدار السرطان و درجته 23° 27- و يمر الى الشمال من مدينة تمنراست.

- اذكر حدود الجزائر من الجهات الأربعة .

يحد الجزائر من الشمال البحر الابيض المتوسط .و من الشرق تونس و ليبيا و من الغرب المغرب الاقصى و الصحراء الغربية و موريتانيا و من الجنوب مالي و النيجر.

- ما هي الأشياء التي جعلت موقع الجزائر هاما .

احتلالها موقعا هاما ضمن بلدان الوطن العربي و افريقيا كما تتوسط بلدان العالم فهي منطقة عبور افريقية اوروبية و اسبوية و ملتقى حضارات العالم عبر العصور و لها واجهة شمالية تطل على البحر الابيض المتوسط بطول ساحل

1200 كلم(موقعها الاستراتيجي جعلها محل تنافس و اطماع استعمارية عبر التاريخ)

12/ اربط كل عبارة بما يناسبها:

- | | | |
|---------------------|---|--------------------------------|
| الجزائر احدى | ← | شمال افريقيا |
| مساحة الجزائر | ← | بلدان المغرب العربي |
| تنوسط الجزائر بلدان | ← | بلدان حوض البحر الابيض المتوسط |
| تقع الجزائر | ← | كلم 2381741 |

13/ اكمل الفراغات بما يناسب:

- تنوسط الجزائر بلدان **المغرب العربي** و بلدان **حوض البحر الابيض المتوسط**
- الجزائر هي الدولة الوحيدة التي ترتبط بحدود **جغرافية** مع كل بلدان **المغرب العربي**
- للجزائر واجهة شمالية على **البحر الابيض المتوسط**
- موقع الجزائر **الاستراتيجي** جعلها محل **تنافس** و **اطماع** استعمارية عبر التاريخ مما يحتم عليها ان تكون **دائمة التأهب**

14/ ضع ص () او خ () امام كل عبارة:

- تضاريس الجزائر متشابهة بين الشمال و الجنوب. ← (خ)
- مدار السرطان يمر بالشمال الجزائري. ← (خ)
- تطل الجزائر على البحر الابيض المتوسط بساحل متعرج من جيجل الى وهران. ← (خ)
- معظم تضاريس الجزائر هضاب. ← (خ)
- للجزائر سلسلة جبلية واحدة. ← (خ)
- هناك نوعان من السهول في شمال الجزائر. ← (ص)
- جبال الهقار تنتمي الى سلسلة الاطلس الصحراوي. ← (خ)
- الرق هي سهول رملية واسعة. ← (خ)
- اعلى قمة جبلية في الجزائر هي قمة تاهات ← (ص)
- موقع الجزائر الهام جعلها طريق فاصل بين قارات العالم. ← (ص)

15/ اربط كل عبارة بما يناسبها:

- | | | |
|-------------------------|---|---|
| ● سلسلة الاطلس الصحراوي | ← | ● خصبة سهل متيجة و سهل وهران |
| ● سهول داخلية | ← | ● تتكون من جبال القصور . العمور |
| ● سهول ساحلية | ← | ● سهول صخرية |
| ● سلسلة الاطلس التلي | ← | ● اقل خصوبة و اكثر جفاف مثل سهل سيدي بلعباس |
| ● العرق | ← | ● تتكون من جبال تسالا . الونشريس |
| ● الرق | ← | ● سهول رملية |

16/ اكمل :

- اذكر حدود الجزائر من :
- الشمال = **البحر الابيض المتوسط**
- الجنوب = **مالي و النيجر**
- الشرق = **تونس و ليبيا**
- الغرب = **المغرب الاقصى - الصحراء الغربية - موريتانيا**

17/ اربط كل عبارة بما يناسبها:

- اعلى قمة في جبال الاطلس التلي
اعلى قمة في جبال الاطلس الصحراوي
اعلى قمة في جبال الهقار
اعلى قمة في افريقيا
- ← قمة تاهاات
● ← قمة لالا خديجة
● ← قمة كليمانجارو
● ← قمة الشيلية

18/ اكمل الجدول التالي معتمدا على ما درست و على معلوماتك :

دولتين من قارة افريقيا	دولتين من قارة اسيا	دولتين من قارة امريكا	دولتين من قارة اوروبا
السودان - النيجر - مصر - ليبيا - تونس -	السعودية - عمان - سوريا - العراق	الولايات المتحدة الامريكية كندا - البرازيل - الارجنتين	فرنسا - المانيا - روسيا - ايطاليا

19/ اكمل بما يناسب:

- للجزائر واجهة شمالية على البحر الابيض المتوسط تمتد من **القاله** على الحدود التونسية شرقا الى **الغزوات** على الحدود المغربية غربا بطول **1200 كلم**
- الخط الطولي الرئيسي **خط غرينيتش** يقسم الكرة الارضية الى جهتين **شرقي و غربي**
- الدائرة العرضية الرئيسية **الدائرة الاستوائية** تقسم الكرة الارضية الى جهتين **شمالي و جنوبي**
- في الجزائر سلسلتين جبليتين هما:-
- سلسلة **الاطلس التلي**.
- سلسلة **الاطلس الصحراوي**
- 20/ اربط كل دولة بمساحتها:

- الجزائر ← 165150 كلم²
- المغرب الاقصى ← 2381741 كلم²
- تونس ← 1775000 كلم²
- ليبيا ← 1030700 كلم²
- موريتانيا ← 446550 كلم²

21/ اكمل الفراغ ما يناسب:

-الجزائر احدى دول المغرب العربي و ايضا احدى بلدان حوض البحر الابيض المتوسط تمتد بين خطي طول 12° و شرقا و 9° غربا

و درجتي عرض 19° و 37° شمالا يحدها من الشمال البحر الابيض المتوسط ويمر في جنوبها

مدار السرطان مساحتها تقدر ب 2381741 كلم² و يبلغ شريطها الساحلي 1200 كلم

و توجد بها سلسلتان جبليتان هما سلسلة الاطلس التلي و سلسلة الاطلس الصحراوي

تقع الجزائر في قارة افريقيا وتبلغ مساحتها 30 مليون كلم²

22/ اربط كل عبارة بما يناسبها:

المسافة بين الجزائر و عواصم بلدان المغرب العربي:

بين الجزائر و تونس	1024 كلم
بين الجزائر و طرابلس	642 كلم
بين الجزائر و العيون	944 كلم
بين الجزائر و الرباط	1861 كلم

23/ صنف في الجدول التالي الدول الاتية :

الجزائر - مصر - السعودية - العراق - الاردن - تونس - سوريا - المغرب - اليمن

دول عربية افريقية	دول عربية اسيوية
الجزائر - مصر - تونس - المغرب	السعودية - العراق - الاردن - سوريا - اليمن

24/ اجب عن الاسئلة التالية:

- ما معنى دول حوض البحر الابيض المتوسط؟

- دول حوض البحر الابيض المتوسط يقصد بها الدول المطلة على البحر الابيض المتوسط

- اذكر دولتين تنتميان الى هذا الحوض؟ - الجزائر - اسبانيا

- للجزائر واجهة شمالية على البحر الابيض المتوسط.

* كم يبلغ امتداد هذه الواجهة؟ يبلغ امتداد هذه الواجهة 1200 كلم

* ما هي حدود هذه الواجهة؟ - تمتد من القالة على الحدود التونسية شرقا الى الغزوات على الحدود المغربية غربا

تتنوع التضاريس في الجزائر . اذكرها ؟ - تتنوع تضاريس الجزائر من جبال و سهول و هضاب و صحراء

- هناك نوعان من السهول شمال الجزائر . ما هما ؟ مع ذكر امثلة.

- هناك نوعان من السهول شمال الجزائر:- سهول ساحلية = تشرف على البحر . خصبة مثل سهل متيجة عنابة

سهول داخلية = بعيدة نسبيا عن البحر . اقل خصوبة و اكثر جفافا مثل سهل تلمسان . سهل سطيف.

- ماذا تعرف عن الصحراء؟

- الصحراء اقليم واسع تبلغ مساحته حوالي 2 مليون كلم² يتميز سطحه بالرتابة و الاستواء عموما مع وجود العديد من المظاهر التضاريسية المتنوعة.

- تتكون الصحراء الجزائرية من عدة مظاهر تضاريسية. اذكرها مع شرح بسيط؟

- تتكون الصحراء الجزائرية من عدة مظاهر تضاريسية :

أ- السهول و هي نوعان = العرق و هي سهول رملية -الرق و هي سهول صخرية

ب- الهضاب = مثل هضبة تادميت

ج- الجبال = و اهمها جبال الهقار و بها اعلى قمة في الجزائر تاهاث 2918م

25/ اربط كل عبارة بما يناسبها :

عدد ولايات الجزائر	2381741 كلم ²
مساحة الجزائر	23
طول الساحل الجزائري	1200 كلم
عدد الدول العربية	48
مساحة افريقيا	30 مليون كلم ²
عدد بلديات الجزائر	1541

26/ املأ الفراغات بالكلمات التالية:

الوطن العربي - البحر الابيض المتوسط - - 19° و 37° شمالا — مدار السرطان — 2381741 كلم²

- افريقيا - 30 مليون كلم² - 12° شرقا و 9° غربا

- الجزائر هي احدى دول **الوطن العربي** تمتد بين خطي طول **12° شرقا و 9° غربا** و درجتي عرض **19° و 37° شمالا**

يحتها ما شمال **البحر الابيض المتوسط** و يمر في جنوبها **مدار السرطان** مساحتها تقدر ب**2381741 كلم²**.

من مساحة **افريقيا** البالغة **30 مليون كلم²**

27/ املأ الفراغات التالية بالكلمات المناسبة:

تتنوع تضاريس الجزائر. فهناك السلسلة الجبلية التلية المكونة من جبال **تسالا و الونشريس و جرجرة**

و هناك السلسلة الجبلية الصحراوية المكونة من جبال **القصور و العمور و الاوراس**

و هناك نوعان من السهول. السهول **الساحلية** مثل سهل متيجة و السهول **الداخلية** مثل سهل سيدي بلعباس

- اما الصحراء ففيها ثلاثة مظاهر و هي السهول و الهضاب و الجبال

28 ضع (ص) او (خ) امام كل عبارة:

- التصحّر ظاهرة جيدة للأراضي ←(خ)
- ازالة الغابات من عوامل التصحر .←(ص)
- لا توجد اسباب بشرية للتصحّر.←(خ)
- من بين اسباب التصحر قلة المطر.←(ص)
- للحد من التصحر الاكثار من الرعي.←(خ)

29/ اجب عن الاسئلة التالية:

- ماذا تعرف عن التصحر ؟

التصحّر هي ظاهرة تحول مساحات واسعة من الأراضي الواسعة و الخصبة الى مساحات فقيرة و ضعيفة الحياة النباتية و الحيوانية و ذلك نتيجة للعديد من العوامل البشرية و الطبيعية (تغيرات المناخ الحاصلة)

- اذكر بعض العوامل المؤدية للتصحّر؟

- الاستغلال المفرط للأراضي (الزراعة المستمرة للأراضي) – الرعي الجائر و الذي يؤدي الى حرمان الأراضي من الحشائش- ازالة الغابات – اساليب الري الرديئة- قلة الامطار – زحف الكثبان الرملية – انجراف التربة بفعل السيول و الامطار الغزيرة- التعرية – الاعتماد على ميله الابار في السقي حيث ان تلك المياه مع مرور الوقت تزداد ملوحتها مما يؤدي الى ارتفاع درجة ملوحة التربة و تصحرها .

- اقترح بعض الحلول للحد او التقليل من ظاهرة التصحر

- الحفاظ على المراعي الطبيعية

- استغلال مياه السيول و الامطار في السقي – وقف قطع الاشجار – اقامة السدود و ذلك لمحاولة التقليل من قوة السيول – الابتعاد عن الاساليب الزراعية التي تلحق الضرر بالبيئة- تشجيع البحث العلمي في مجال مكافحة التصحر و الجفاف و الزحف الصحراوي – غرس الاشجار – العمل على وقف زحف الكثبان الرملية بغرس الاشجار

30/ صنف في الجدول :

عوامل و اسباب بشرية	عوامل و اسباب طبيعية
7 – 6 – 5 – 1	4 – 3 – 2

جاء عندي اخي الصغير مستفهما عن بعض المعلومات . قال لي كنت اشاهد برنامجا تلفزيونيا يتحدث عن الكرة الارضية و يعرض صوراً لها من الفضاء و قد قالو في البرنامج انه توجد خطوط طول و دوائر عرض تقسم الكرة الارضية و تحدثوا ايضا عن احداثيات بعض الدول .

لكنني لم ارى هذه الخطوط و الدوائر في صورة الكرة الارضية المأخوذة عن طريق الاقمار الصناعية من الفضاء.

فهل بإمكانك يا اخي ان تفهمني ما معنى كل هذا ؟ و بما تفيدنا هذه الخطوط و الدوائر؟

و هل تعلم اذا كان هناك اي خط يمر بالجزائر ؟ و ماهي احداثيات دولتنا ؟

على التلميذ ان يعطي تعريفا لخطوط الطول و دوائر العرض مع ذكر اسماءها و يتكلم عن فوائدها ويذكر الخطان الرئيسيان اللذان يمران بالجزائر دون ان ينسى التحدث عن احداثيات الجزائر

(جميع هذه الاسئلة اجبت عنها من قبل)

ربطت صداقة عبر الأنترنت مع طفل من بلد اخر و قارة اخرى . وهو من معلوماته السابقة يعلم ان الجزائر تقع في افريقيا . لهذا السبب كان يظن انها عبارة عن بلد صحراوي . ولا يوجد بها الا الرمال و الجبال .

في هذه الحالة كيف ستصحح له معلوماته و ماذا ستقول له عن الجزائر؟

يتحدث التلميذ عن موقع الجزائر قاريا و عالميا و عن اهمية موقعها و يذكر حدودها مع الدول الاخرى

و في الاخير يتحدث عن تنوع تضاريسها و عن طول ساحلها .

(جميع هذه المعلومات ذكرت من قبل)

ان احسنت فمن الله وان اسأت فمن نفسي و
الشيطان