

الجزء الأول : (12)

1_ الإعلام الآلي هو :

.....

2_ جهاز الكمبيوتر هو :

.....

3_ ميز بين المكونات الأساسية ومحيطات الكمبيوتر في الجدول الآتي :

لوحة المفاتيح _ الطابعة _ الماسح الضوئي _ الوحدة المركزية _ مكبر الصوت _ الفأرة _ الشاشة

النقطة والملاحظة

المحيطات	المكونات الأساسية
.....
.....
.....
.....

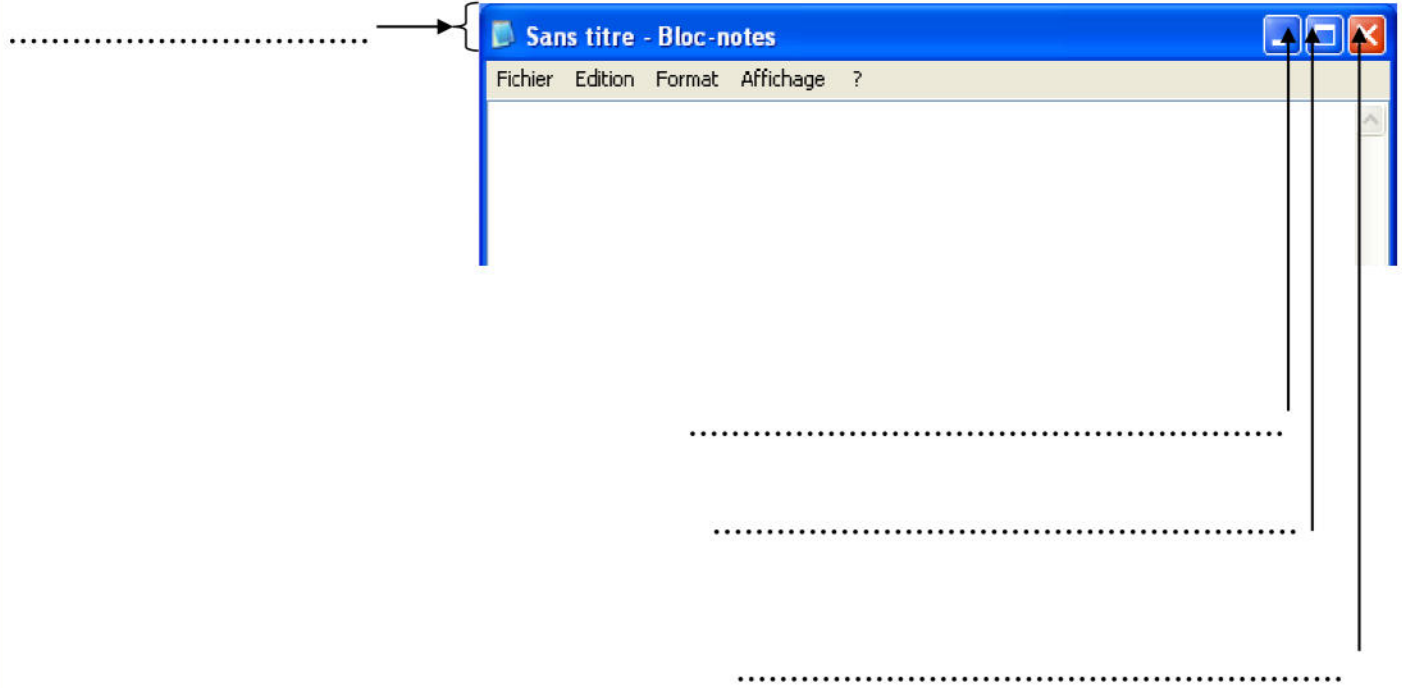
4_ أكمل مالي :

أ_ لفتح أيقونة نضع المشيرة فوق.....

ب _ عند النقر على أيقونة بالزر الأيمن تظهر.....

.....

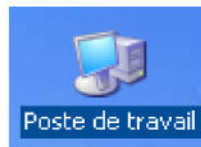
الجز الثاني : (08)
1 _ أكمل البيانات التالية



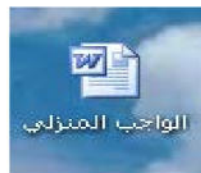
2 _ اربط بسهم كل أيقونة بإسها:



أيقونة جهاز الكمبيوتر



أيقونة اختصار



أيقونة سلة المحذوفات



أيقونة ملف