



Etablissement Privé  
d'Education et d'Enseignement  
**SALIM**



العام الدراسي  
2013/2012

كتراس العطلة



العطلة بين الامتحن والدراسة


..... : اللقب

..... : الاسم

..... : القسم

حي قعلول سرج البحري - الجزائر

- Tel-Fax : 021.87.10.51 : ☎ Web site : [www.ets-salim.com](http://www.ets-salim.com) /021.87.16.89



## التمرين الأول:

أكمل باستعمال الرموز (<, >):

- 2300m.....3km  
3200m .....32hm  
280m.....28 ham  
1Km.....830m  
1Km 1Hm.....1200m  
1Km500m.....2Km  
1537m.....15hm  
1950m.....195dam  
1Km500m.....150dam

حول :

- 8Km = m  
5cm = mm  
1hm = m  
2000mm= m  
3dam= m  
300cm= m



## التمرين الثاني:

أنا عدد مكون من 5 أرقام

مجموع أرقامه هو 7

رقم المئات هو 0

رقم وحداته هو نصف رقم عشرات الآلاف

رقم عشراته هو ضعف رقم وحداته

رقم الآلاف هو رقم العشرات

من أنا؟

حي قعلول سبرج البحري- الجزائر

- Tel-Fax : 021.87.10.51 : ☎ Web site : [www.ets-salim.com](http://www.ets-salim.com) /021.87.16.89

## التمرين الثالث:

اكتب بالأرقام الأعداد التالية

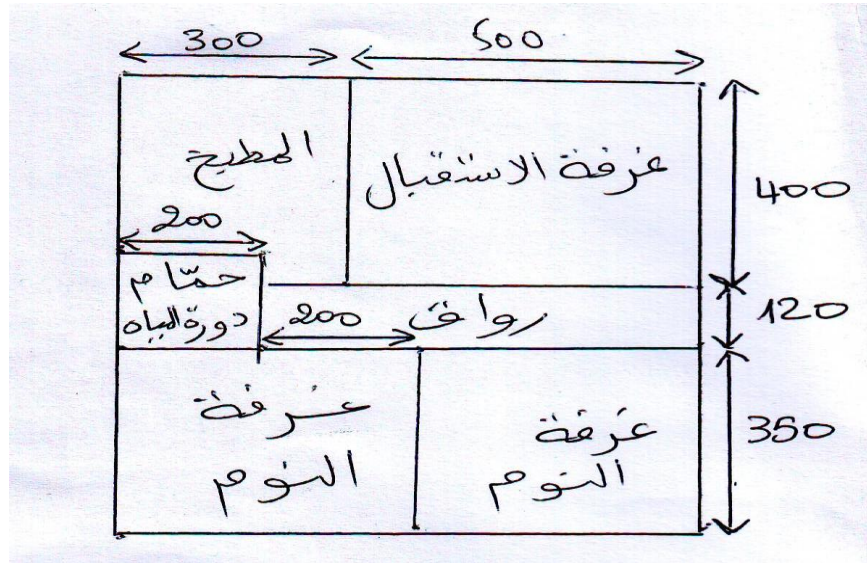
- خمسة و عشرون ألفا و أربع مئة وثلاثون
- اثنان و خمسون ألفا وثلاث مئة وأربعون

اكتب بالحروف الأعداد التالية

73455 - 80408 - 91919

## التمرين الرابع:

إليك تصميم المنزل الآتي:



- ما هي وحدة الطول المستعملة؟
- ما هو طول البيت؟ وعرضه؟
- ما هو طول غرفة النوم؟ عرضها؟
- احسب محيط البيت؟ ومساحته؟

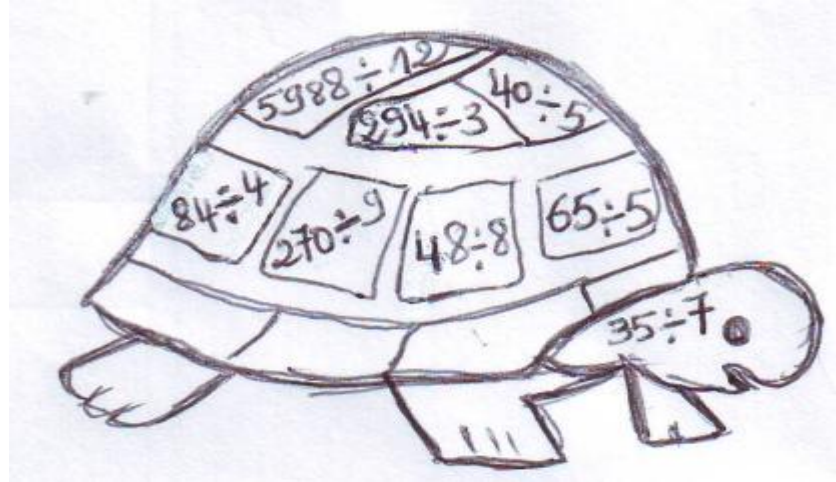
## التمرين الخامس:

- استعمل ورق الشفاف لنقل الرسم .
- أوجد حاصل القسمة في كل حالة.
- لون الرسم باستعمال الجدول التالي:

حاصل القسمة التام	98	8	30	13	21	5	49
اللون	احمر	اخضر	اصفر	ازرق	برتقالي	بني	اسود

حي قعلول - برج البحري - الجزائر

- Tel-Fax : 021.87.10.51 : Web site : [www.ets-salim.com](http://www.ets-salim.com) /021.87.16.89



### المسألة :

يلتقط طائر السنونوة معدل 60 يريقة في اليوم لإطعام صغاره، و لكل زوج من هذا الطائر

8 فراخ

- كم يريقة يلتقط الزوج الواحد من طائر السنونوة في اليوم الواحد؟

إذا اطعم الزوج الواحد من طائر السنونوة صغاره بالتساوي.

- كم يريقة يأكلها فرخ في اليوم؟

- كم يريقة تلتقط 5 أزواج من السنونوة خلال شهر (30 يوما)؟

### التمرين السادس :

احصر كل عدد من العددين الآتيتين بين مائتين متتاليتين: 635210 ، 108700

### التمرين السابع :

رتب الأطوال الآتية من الأصغر إلى الأكبر:

3m 25cm , 32dm 2cm , 4m 25cm , 350cm .

### التمرين الثامن :

أكمل ملاً الجدول الآتي:

المقسوم	القاسم	الحاصل	الباقي
74	9	.....	.....
90	8	.....	.....
.....	8	7	3
.....	6	6	0

حي قعلول سرج البحري - الجزائر

- Tel-Fax : 021.87.10.51 : ☎ Web site : [www.ets-salim.com](http://www.ets-salim.com) /021.87.16.89

## المشكلة 1 :

يقطع عامل مسافة 36 km يوميا للوصول إلى مكان عمله.

- ما هي المسافة التي يقطعها خلال أسبوعين، علما أنه يستفيد من يوم عطلة كل أسبوع؟

## المشكلة 2 :

قطعت سيارة مسافة 103km في الرحلة الأولى و قطعت مسافة 500dam في الرحلة الثانية.  
- ما هي المسافة التي قطعها السائق؟

## المشكلة 3 :

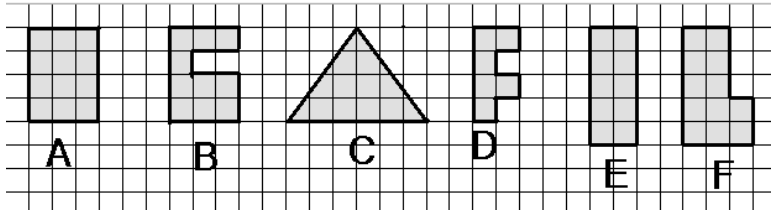
جمع مربّي نحل 197 kg من العسل و أراد أن يجعلها في أدنان يحمل كل واحد 15 kg .

- كم دنا يمكنه أن يملأ؟


- ما هو وزن العسل الباقي؟

## الهندسة :

لاحظ الأشكال و املأ الجدول التالي



الأشكال التي لها	
نفس المحيط مع	نفس المساحة مع
A	A



حي قعلول سرج البحري- الجزائر

- Tel-Fax : 021.87.10.51 : ☎ Web site : [www.ets-salim.com](http://www.ets-salim.com) /021.87.16.89

# اللغة العربية

## ❖ السنن

حديقة التجارب بالحامة في الجزائر العاصمة جنة الدنيا هي أزوع الحدايق و أجملها تَعْلِسُ الجَمال والرَّوْعَة والسَّخِرَ والَمَعانَ (عندما تجلس فيها ساعة ستبحث عن ساعده أخرى وستكون مدمنا بغيرها) لأن الحديقة ساحرة و الفن فيها لا ينقطع.

هي ثالث حديقة في العالم من حيث النباتات النادرة والتي يفوق عمر بعضها مائة سنة، و من أهم مميزاتا عتدال مناخها و أسهمت هذه الميزة المناخية في تنوع النباتات والأشجار، كما تم تخصيص جزء منها حديقة للحيوان فيها مئات من أصناف الحشرات و الأسماك و الحيوانات.

## الأسئلة

### ● البناء الفكري:

1. هات عنوانا مناسباً للتص.
2. بم يتميز المناخ في حديقة الحامة؟
3. أستخرج من السنن مرادف للكلمتين التاليتين:  
- القليلة = .....، - أنواع = .....

### ● البناء اللغوي

1. املا الجدول الآتي من السنن

ضمير منفصل	خبر "أن"	اسم مجرور	صفة


2. حول ما بين قوسين في السنن إلى المثنى المخاطب
3. لماذا كتبت الهمزة في كلمة (( المئات )) على النبرة؟

حي قعلول سرج البحري - الجزائر

- Tel-Fax : 021.87.10.51 : ☎ Web site : [www.ets-salim.com](http://www.ets-salim.com) /021.87.16.89

## ● الوضعية الإدماجية:

— في أَحَدِ الأَيَّامِ قَدِمْتَ بِزِيَارَةِ الغَابَةِ مَعَ عَائِلَتِكَ، فهالكُ منظرُ الخرابِ الذي صارت فيه . فدار جدالَ بينك وبين أصحابك عن ضرورة المحافظة عليها . اكتب هذا الحوارَ في فقرةٍ لا تتعدى ( 10 أسطر )، مبينا حالة الغابة التي شاهدتها مظهرا المتسبب في ذلك مقدا حولا. مُوظِّفًا ناسخا.



حي قعلول سبرج البحري- الجزائر

- Tel-Fax : 021.87.10.51 : ☎ Web site : [www.ets-salim.com](http://www.ets-salim.com) /021.87.16.89

# Français

## Texte :

### *Au parc zoologique*

*A midi, au parc zoologique, les élèves ont trouvé un petit bois de pins. Bien installés, les élèves tirent leur repas. Yasmina a apporté un peu de fromage et de la galette. Amine, son cousin, a apporté des dattes et du pain.*

*L'institutrice a distribué quelques bonbons et de l'eau car tous ont soif. A la fin de la journée, les enfants sont très contents par ce qu'ils ont vu beaucoup d'animaux.*

*D'après JEAN Muzi*

## Questions

### 1- Compréhension de l'écrit :

- 1- *qu'est ce que Yasmina a apporté ?*
- 2- *L'institutrice a distribué quoi ?*
- 3- *Combien d'animaux ont – ils vu dans ce parc ?*

### 2- Fonctionnement de la langue :

- 1- *Complète avec les expressions :*

*De la soupe – des yaourts – du poulet.*

*Au repas, nous avons mangé.....et.....*

*Au dessert, la cantinière, nous a donné.....*

- 2- *Recopie en écrivant les mots contraires, ensemble :*

*Lourd – rapide – courte – faux – léger – beau – lent – longue – laid – juste.*

*Exemple :*

*Beau ≠ laid.*

- 3- *J'écris à la forme négative :*

*Les élèves mangent leur repas.....*

*Les enfants regardent les animaux.....*

حي قعلول سبرج البحري - الجزائر

- Tel-Fax : 021.87.10.51 : ☎ : الفاكس Web site : [www.ets-salim.com](http://www.ets-salim.com) /021.87.16.89



4- Réunis ce qui va ensemble :

Nous

êtes en 4<sup>ème</sup> AP

Vous

sont très sages

Ils

sommes en classe

5- Complète le texte avec (es) ou (est)

Où.....- tu ?

Yasmina n'.....pas encore arrivée. Elle.....en retard.

Tu.....en 4<sup>ème</sup> AP.

Tu.....bien sage aujourd'hui. Il .....le plus rapide à la course.

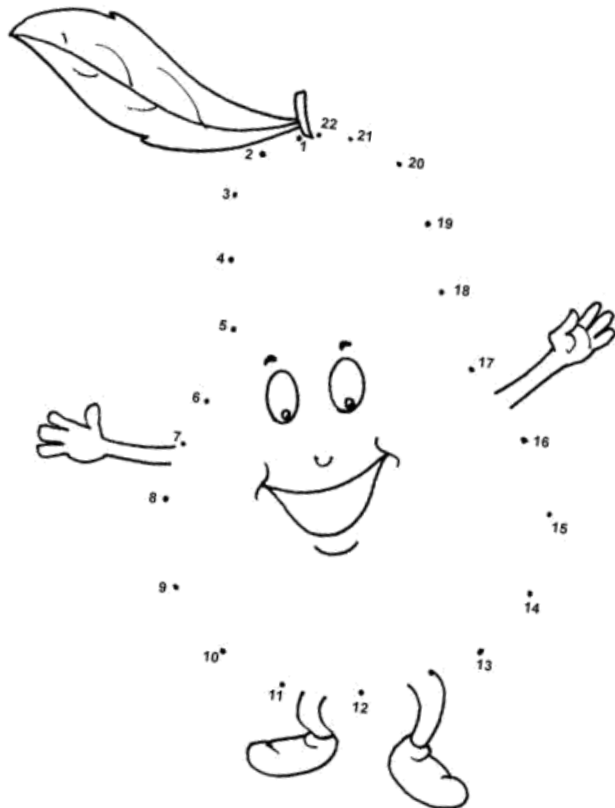
3- **Production écrite :**

Complète le texte avec les mots suivants :

Couleurs – coquelicots – costumes – classe – bouquet.

Pour la photo de....., les élèves se déguisent : les filles se sont habillées de.....de toutes les.....Manane a fabriqué un petit.....de.....en

Papier.



حي قعلول سبرج البحري - الجزائر

- Tel-Fax : 021.87.10.51 : ☎ : Web site : [www.ets-salim.com](http://www.ets-salim.com) /021.87.16.89

## Jeu n° 1 :



- Des enfants sont en train de jouer au foot - ball sur un terrain vague.
- Ces deux images se ressemblent - elles ?

- .....
- Regarde bien tu trouveras 2 erreurs qui le différencient !
  - **Exercice** : Cherche les mots dans tous les sens barre les !

	p	T	⊗	⊗	R	R	O	U	L	E	R	A	
Porte	O	R	O	H	E	U	R	E	U	X	A	G	Roulera
Fantôme	R	A	F	⊗	D	E	⊗	⊗	P	S	M	R	Télé
Docteur	T	V	F	A	N	T	O	M	E	⊗	E	i	Tours
Agriculteur	E	A	R	N	A	C	P	L	A	C	E	C	Avancer
Rue	L	i	i	N	V	O	i	T	U	R	E	U	Heureux
Voiture	i	L	R	O	A	D	⊗	E	E	N	U	L	Place
Corbeaux	E	L	⊗	N	O	i	T	L	R	U	O	T	Peau
Sucre	S	E	⊗	C	O	R	B	E	A	U	X	E	Rame
Conseil	N	U	O	E	O	E	L	i	V	R	E	U	Lune
Livre	D	R	⊗	G	U	C	R	E	T	U	O	R	Route
Sort	C	S	R	U	O	T	S	O	U	R	i	i	Souris
Offrir-tours													

حي قعلول سبرج البحري - الجزائر

- Tel-Fax : 021.87.10.51 : ☎ : الفاكس Web site : [www.ets-salim.com](http://www.ets-salim.com) /021.87.16.89

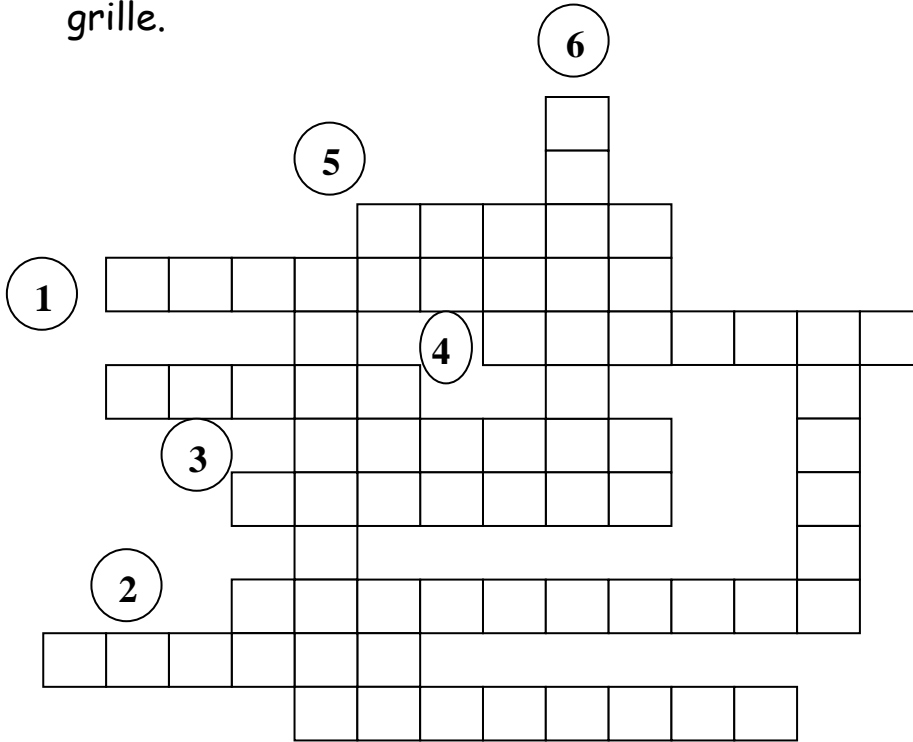
**\*Jeux n° 2 :**

**- Mots dans le sens horizontal :**

- ④ - Girafes    ③ - Tigre    ② - Crocodile    ① - Eléphants  
Loups - Chacals - Singe - Serpents - Lions.

**- Mots dans le sens vertical :**

- ⑤ - Panthère - Renards - ⑥ - Reptile .  
- Retrouve les noms de ces animaux et place les convenablement dans la grille.



**-Exercice :**

\*Parmi les ci - dessous retrouve les intrus et colorie leur nom en jaune.

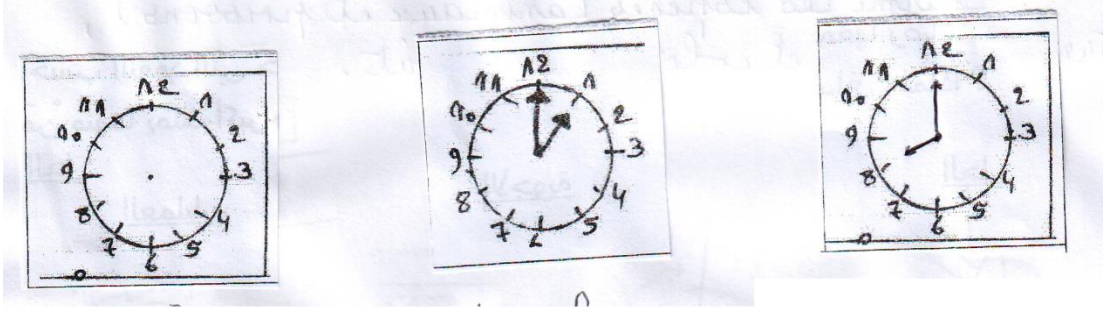
( Aide-toi du dictionnaire en cas de besoin.)

- Des requins - une baleine - Des cétacés - des moineaux - des cachalots -  
Des hirondelles - Un chardonneret - Une otarie - Des dauphins - Des  
rouge- gorge - Des Phoques - Le merlan - Des condors - Des pigeons - Des  
vautours

حي قعلول سبرج البحري - الجزائر

- Tel-Fax : 021.87.10.51 : ☎ الفاكس : Web site : [www.ets-salim.com](http://www.ets-salim.com) /021.87.16.89

## 1-Quelle heure est-il ?



- Il est 20 heures .  
(Placez les aiguilles)

- Il est .... Heure  
de l'après -midi.

- Il est ..... heures  
exactement (du matin)

### Mathématiques

1- Manil habite à 300m de l'école. Il fait ce trajet 4 fois par jour pour se rendre en classe .

Le mardi ; l'après- midi est libre .

Quelle distance parcourt-il par semaine ?

.....  
.....  
.....  
.....

2- Pour se rendre à l'école - SALIM- ; Yanis prend le bus à 8 heures .

25 minutes plus tard ; le voila arrivé.

- A quelle heure arrive t-il à l'école habituellement ?

Le salut aux couleurs nationales se fait à 8h30 mn.

- A-t-il le temps de participer au salut du drapeau ?

- De combien de mn est-il en avance ?















.....  
.....  
.....  
.....

حي قعلول سبرج البحري - الجزائر

- Tel-Fax : 021.87.10.51 : الفاكس Web site : [www.ets-salim.com](http://www.ets-salim.com) /021.87.16.89

**\* Jeu n° 3 :**


Parmi ces espèces (animaux et poissons); trouve l'intrus et colorie à ton goût.



حي قعلول سبرج البحري - الجزائر

- Tel-Fax : 021.87.10.51 : ☎ : الفاكس Web site : [www.ets-salim.com](http://www.ets-salim.com) /021.87.16.89

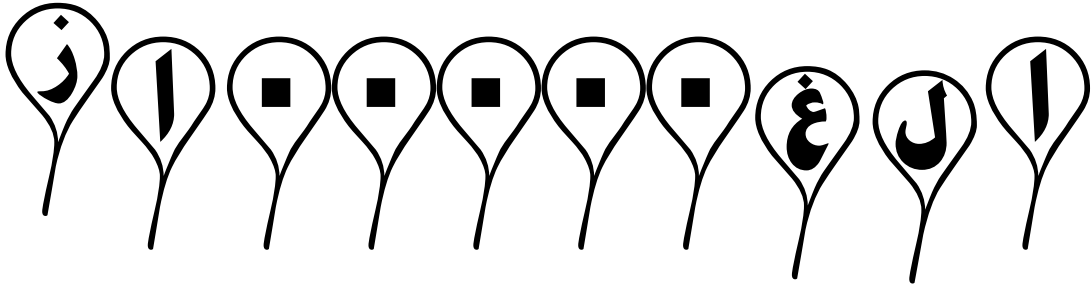
ع ا ل م ا ل م ا ل س ل ي ة



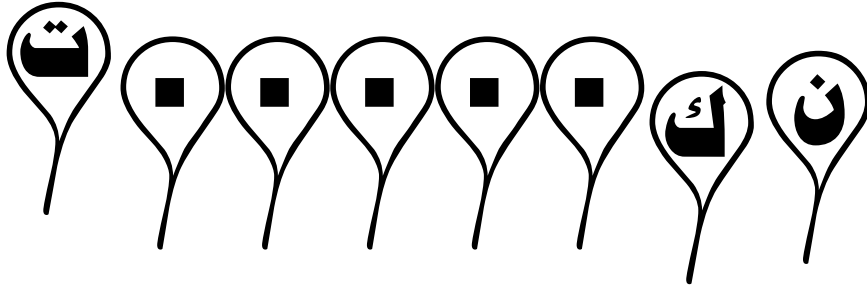
ابحث عن المخرج ثم أعد رسم الكتكوت :

حي قعلول سبرج البحري- الجزائر

- Tel-Fax : 021.87.10.51 : ☎ Web site : [www.ets-salim.com](http://www.ets-salim.com) /021.87.16.89



عددین حاصل ضربهما 15 و حاصل جمعهما 16 ما هما ؟  
امشي بلا قدمين و أطير بلا جناحين و ابكي بلا عينين من أنا ؟  
كله ثقوب لكنه يحتفظ بالماء فمن هو ؟  
شيء كلما أخذت منه كبر ما هو ؟  
امرأة عقيم أي لا تنجب أطفال فهل تنجب ابنتها أطفال أم تكون مثل أمها ؟



- أرسلت الأم ابنها إلى المخبرة ليشتري ثلاثة أرغفة، واحد للأب، و الثاني للام و الثالث للولد، وعندما عاد الفتى، وجد أمه تصرخ من النافذة، اعد الرغيف الثالث و هات ثمنه، فسأل الولد مستغربا لماذا يا أمي ؟ ردت الأم لقد مات والدك .
- سأل الولد أبوه، ما الفرق بين القضاء و القدر و المصيبة.  
فأجابه الأب، مثلا لو ذهبنا إلى البحر و غرقت أمك، فذلك هو القضاء و القدر  
أما إذا كانت تجيد السباحة فتلك هي المصيبة .



حي قعلول سبرج البحري- الجزائر

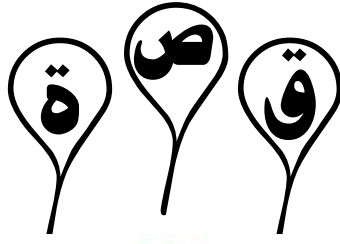
Web site : [www.ets-salim.com](http://www.ets-salim.com) /021.87.16.89 الفاكس : 021.87.10.51 - Tel-Fax :



حي قعلول سبرج البحري - الجزائر

- Tel-Fax : 021.87.10.51 : ☎ : الفاكس Web site : [www.ets-salim.com](http://www.ets-salim.com) /021.87.16.89





# الأرنب والضفدعة



أرادت الضفدعة أن تصادق الأرنب .  
الأرنب اندهش .. وامتلاً قلبه بالشك و تساءل :

هل من الممكن أن تنشأ صداقة بين ضفدعة وأرنب!



هروول الأرنب بسرعة للبحث عن حيوان ما كريس تشيرة ، فلم



يجد غير الثعلب .  
الثعلب وجدها فرصة ذهبية  
جاءت إليه دون أي مجهود .  
فافترس الأرنب .

كان بالقرب من هذا المشهد عصفورة  
صغيرة ، تساءلت في جيرة :

( كيف وصل الغباء بالأرنب لكي يأخذ النصيحة من ثعلب! )

سمعت الضفدعة ما قالت العصفورة ، فهست لنفسها :  
( انه الشك .. يؤدي بصاحبه دائما إلى مصيبة أو كارثة )

حي قعلول سرج البحري - الجزائر

- Tel-Fax : 021.87.10.51 : الفاكس : Web site : [www.ets-salim.com](http://www.ets-salim.com) /021.87.16.89