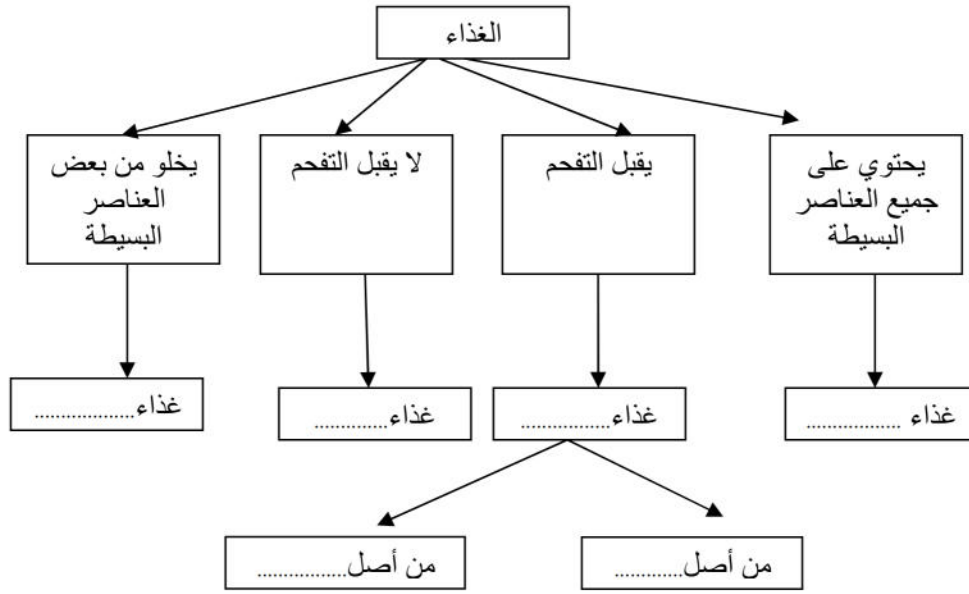


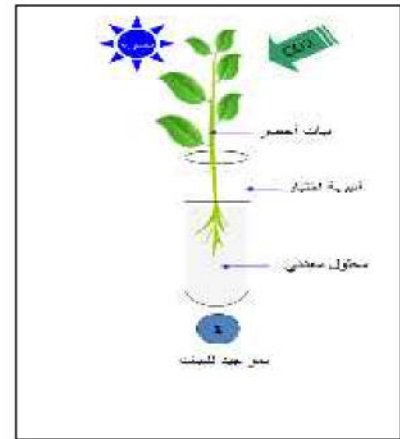
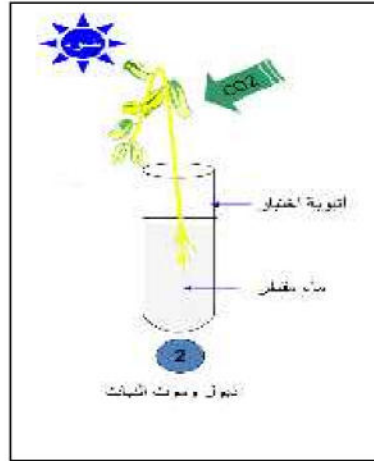
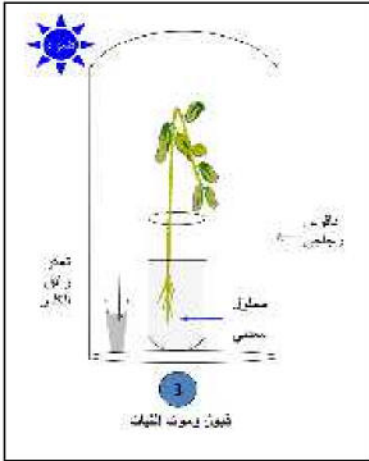
الاختبار الفصلي الأول في مادة علوم الطبيعة والحياة

الجزء الأول:



التمرين الأول 6ن:
أعد رسم المخطط المقابل ثم املاه بما يلائمه من مصطلحات:

التمرين الثاني 6ن: من أجل دراسة المتطلبات الغذائية للنبات الأخضر قمنا بانجاز التجارب الموضحة في الوثائق التالية:

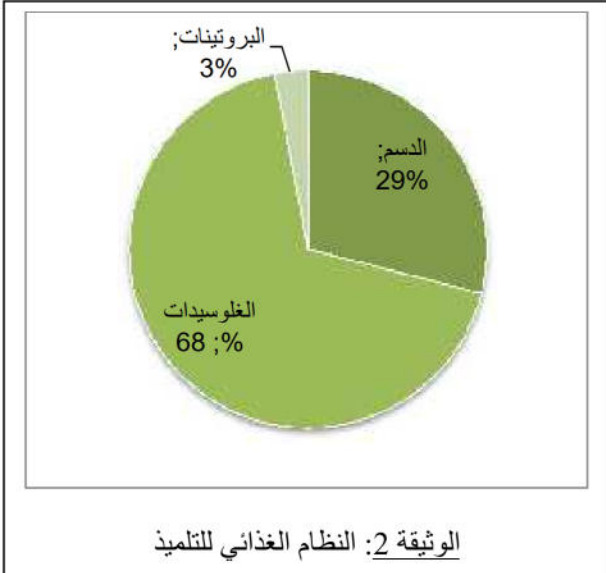


1. فسر سبب ذبول وموت النبات في الأنبوبة 2؟
2. فسر سبب ذبول وموت النبات في الأنبوبة 3؟
3. استنتج من التجربة ما هي الاحتياجات الغذائية للنبات الأخضر؟

الصفحة 1/2 (اقلب الصفحة)

بينما كان طبيب الصحة المدرسية يفحص تلاميذ أحد المؤسسات التعليمية ، لاحظ بعض الصفات غير العادية عند تلميذ في السنة الأولى متوسط فقال له الطبيب: ((أنت تعتمد على نظام غذائي غير متوازن.))

السندات :



التعليمات: بالاعتماد على السياق والسندات المقترحة وكذا معلوماتك السابقة في مجال التغذية أجب عما يلي:

1. لماذا في نظرك قال الطبيب للتلميذ أنت تعتمد نظاما غذائيا غير متوازن؟
2. أذكر من خلال هذه الوضعية ثلاثة أمراض تنتج عن إتباع مثل هذا النظام الغذائي ؟
3. ما هو النظام الغذائي الذي تنصح به نفسك وزملائك إتباعه لتجنب مثل حالة هذا التلميذ؟

بالتوفيق.