

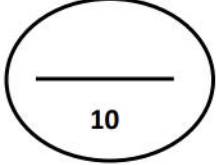


2021/2020

المستوى: الاولى متوسط

فرض الثلاثي الثاني في مادة الاعلام الالي

الموضوع الاول



التمرين 1: اليك المفاهيم التالية ضع صحيح أو خطأ

- عند نقل ملف الى مكان آخر لا يختفي من المكان القديم.
- الدفتر هو برنامج يستعمل في إنجاز رسومات هندسية.
- الملف هو عبارة عن مساحة تحوي المجلدات.
- لحفظ رسم في برنامج الرسام نقوم بالنقر على Fichier ثم على Enregistrer

التمرين 2 :

(a) العمليات التي يمكن إنجازها على الملفات والمجلدات هي:

1.
2.
3.
4.

(b) أربط ما يلي:

صور . فيديو. أصوات

Coller

Copier

أماكن مخصصة لحفظ وترتيب

Couper

نسخ

قص

المجلدات

انواع الملفات

لصق

(c) حتى تتمكن من إيجاد ملفات ضائعة نتبع المراحل التالية :

-
-
-



تصحيح الفرض

التمرين 1: اليك المفاهيم التالية ضع صحيح أو خطأ

- عند نقل ملف الى مكان آخر لا يختفي من المكان القديم. (خ)
- الدفتر هو برنامج يستعمل في إنجاز رسومات هندسية. (خ)
- الملف هو عبارة عن مساحة تحوي المجلدات. (خ)
- لحفظ رسم في برنامج الرسام نقوم بالنقر على Fichier ثم على Enregistrer . (ص)

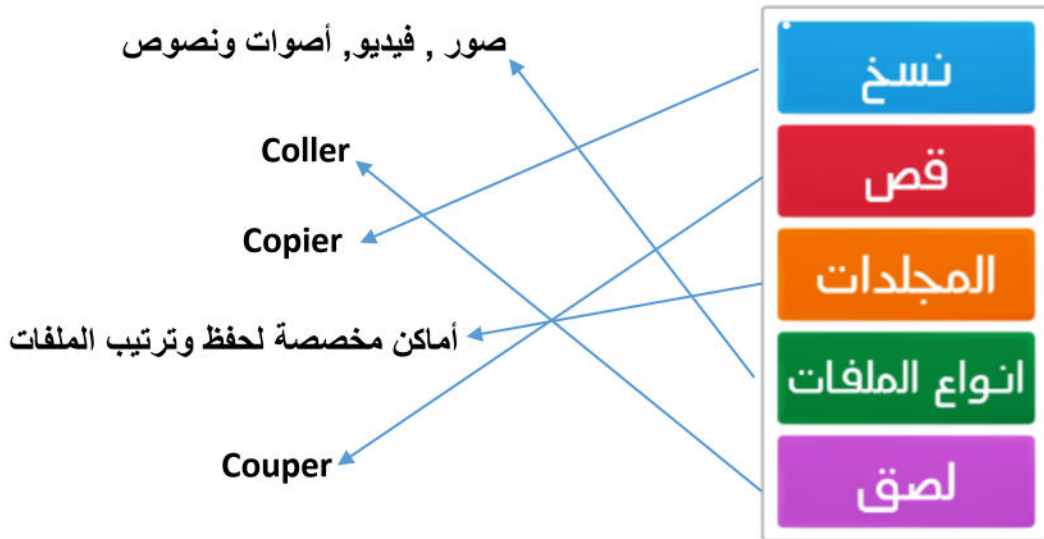
التمرين 2 :

(a) العمليات التي يمكن إنجازها على الملفات والمجلدات هي:

1. إنشاء ملف جديد داخل المجلد 3. حذف ملف أو مجلد

2. تغيير اسم ملف أو مجلد 4. نسخ أو نقل ملف أو مجلد

(b) أكمل الجدول الآتي :



(c) حتى تتمكن من إيجاد ملفات ضائعة نتبع المراحل التالية :

- ننقر على الزر أبدأ (Démarrer) ثم أختار التعليلة بحث (Rechercher)
- تظهر لنا علبة الحوار أكتب فيها اسم الملف
- نضغط على الأمر بحث ومنتظر نتائج البحث

المجلد هو (dossier) وهو حاوية تستعمل لتخزين الملفات
أو المجلدات الفرعية

الملف هو (fichier) وهو عنصر حواري معلومات كدسوهون
أو صور أو موسيقى أو فيديو أو برامج يتكون منها
الإسم والإمتداد مقبولتي بنوعه

التمرين الثاني: اجب بصحيح أو خطأ:

- 1- الدفتر يمكن أن يكون عبارة عن صورة أو صوت
- 2- لحذف مجلد نختار من قائمة الخيارات "Renommer"
- 3- النقل "Couper" يعني إنشاء نسخة من المجلد أو الملف في مكان آخر
- 4- يمكن وضع ملف في مجلد ولا يمكن وضع مجلد في ملف
- 5- لا يمكن استعادة الملفات المحذوفة
- 6- لا يمكن إنشاء مجلد داخل مجلد

التمرين الثالث:

أ / العمليات التي يمكن إجراؤها على الملفات والمجلدات هي:

- 1
- 2
- 3
- 4

ب / للسخ مجلد نابع الخطوات التالية:

- 1
- 2

5:02 / 8:23

التمرين الثاني

التمرين الثاني : أكمل ما يلي

لفتح ايقونة : نضغط متتاليين بالزر على الأيقونة

لإلغاء ايقونة : نضغط على الأيقونة بالزر ثم على

لتغيير اسم ايقونة : نضغط على الأيقونة بالزر ثم على

لتغيير خلفية سطح المكتب : نذهب الى مكان فارغ فوق سطح المكتب نضغط بالزر الأيمن على

..... ثم نختار الصورة التي نريد

وفقكم الله

الوضعية الإدماجية : (08 ن)

السياق :


لغرض تنظيم المعطيات في الحاسوب ، قام المستخدم بإجراء تغييرات على الوثيقة الأولى للوصول إلى الوثيقة 04 مرورا بالوثيقتين 02 و 03 :



الوثيقة 03 : تمثل محتويات المجلد "لروس المعلوماتية"



الوثيقة 02 : نفس المجلدات السابقة الفارغة لكن مع تعديل بسيط



الوثيقة 01 : مجلدات حديثة الإنشاء و فارغة



الوثيقة 04 : تمثل محتويات المجلد "مشاريع المعلوماتية"

المطلوب :

قدم بالتفصيل العمليات التي قام بها المستخدم في الوثائق : 02 ، 03 ، 04
علما أن محتويات الوثيقة 03 أنشئت قبل محتويات الوثيقة 04.

ثم نكتب الاسم
و نضغط على المفتاح `enter`
نعيد نفس الخطوات بالبيج للمجلد الثاني
مع الاسم مستار مع المعلومات

في الوثيقة 03 :

بعد إنشاء الملفين نظام التشغيل ووحدة
قياس الدائرة في برنامج الورد نحدد
الملفين ثم نضغط بالزر الايسر للفأرة
و نختار من القائمة `File` نسخ
و في المجلد نعيد النقر بالزر الايسر للفأرة
و نختار من القائمة لصق

الوثيقة الإدمان جيب :

في الوثيقة 02 :

نضغط بالزر الايسر على المجلد الاول
فتظهر قائمة الاختيارات نختار
منها عادة تسمية (`Renamer`)
ثم نكتب الاسم الجديد دروس المعلومات
و نضغط على المفتاح `enter`
نعيد نفس الخطوات بالبيج للمجلد الثاني
مع الاسم

في الوثيقة 04 : نختار الملفين من أدروس
 المعلوماتية و نهنم بالزر الأيسر للفأرة ثم نختار
 من القائمة نسخ وفي مجلد مشايع
 المملو مائبة نضع بالزر الأيسر للفأرة
 و نختار من القائمة لصق بالمجلد

الوضعية الاماجية (8) :




اشرت حاسوب مستعمل و لاحظت انه يحتوي على العديد من المجلدات و الملفات (صور، نصوص ،
 فيديوهات ...)

1- ما هو الفرق بين الملف و المجلد ؟

- الملف:
- المجلد:
- و ما العلاقة بينهما ؟

2- يظهر على سطح مكتب حاسوبك بعض الايقونات الموضحة في الشكل التالي

أ- صنّفها حسب ما درست الى ملفات و مجلدات

	(2)		(1)
	(4)		(3)
	(4)		(3)
	(4)		(3)

ب- ماهي المراحل التي تقوم بها لنقل العنصر (3) الى العنصر (2)

-
-
-
-

ج- كيف تقوم بتغيير اسم العنصر (1) الى النشيد الوطني ؟

-
-
-

education-onec-dz.blogspot.com

