

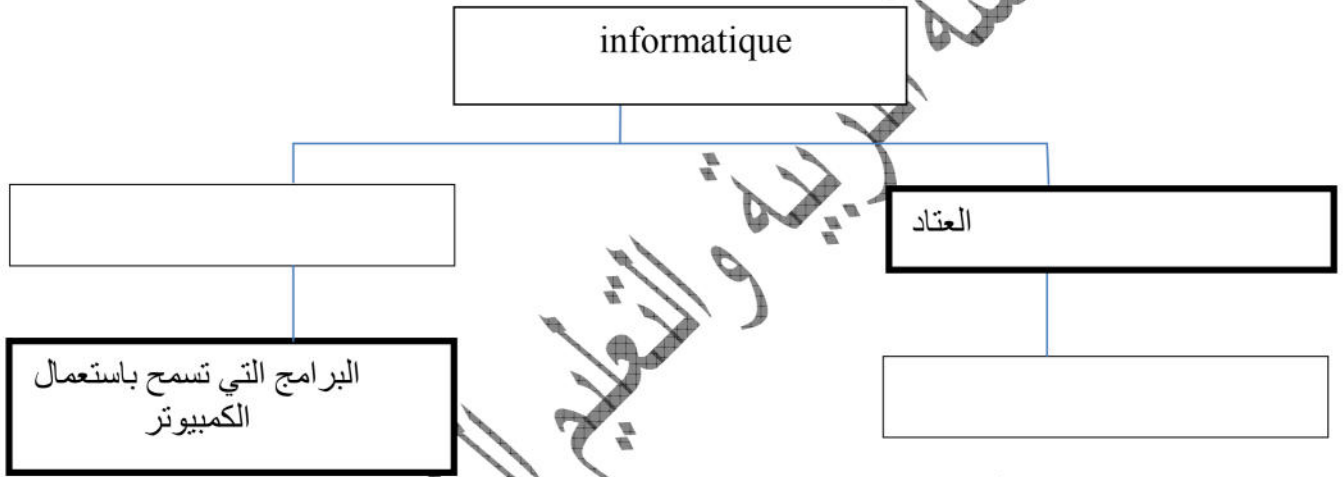


اختبار الفصل الأول في مادة الإعلام الآلي

العام الدراسي: 2012-2013

المستوى: 1AM

تمارين: 1: أكمل المخطط الآتي



تمارين: 2: أربط بسهم

1970-1965

1946

1980-1970

1980 إلى يومنا هذا

الجيل الأول

الجيل الخامس

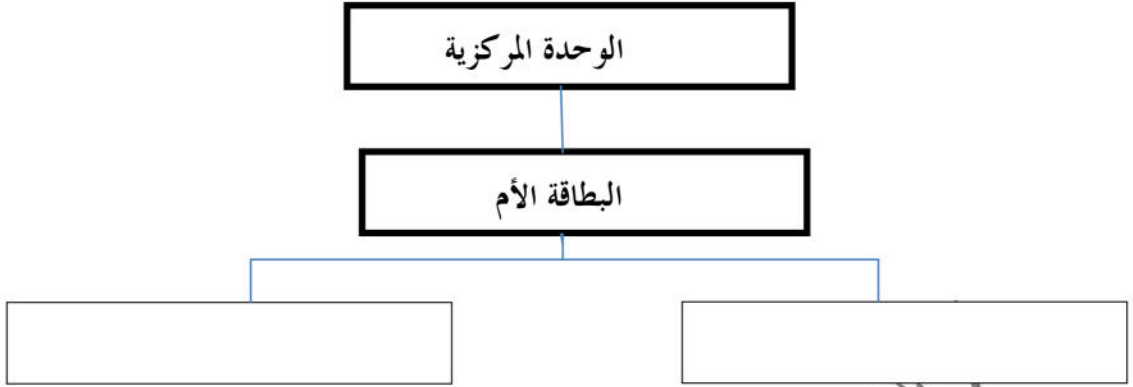
الجيل الرابع

الجيل الثالث

تمارين: 3: أكمل أجدول

وحدات إدخال	وحدات تخزين	وحدات إخراج
1-.....	1- القرص الصلب	1- مكبر الصوت
2-.....	2-.....	2-.....
3-الماسح الضوئي	3-.....	3-.....

تمارين 4: أكمل ما يلي



تمارين 5: أحسب ما يلي

- 2 كيلو أو كتي = ؟ أو كتي
45 كيلو أو كتي = ؟ أو كتي
8455 أو كتي = ؟ كيلو أو كتي
96213 أو كتي = ؟ كيلو أو كتي

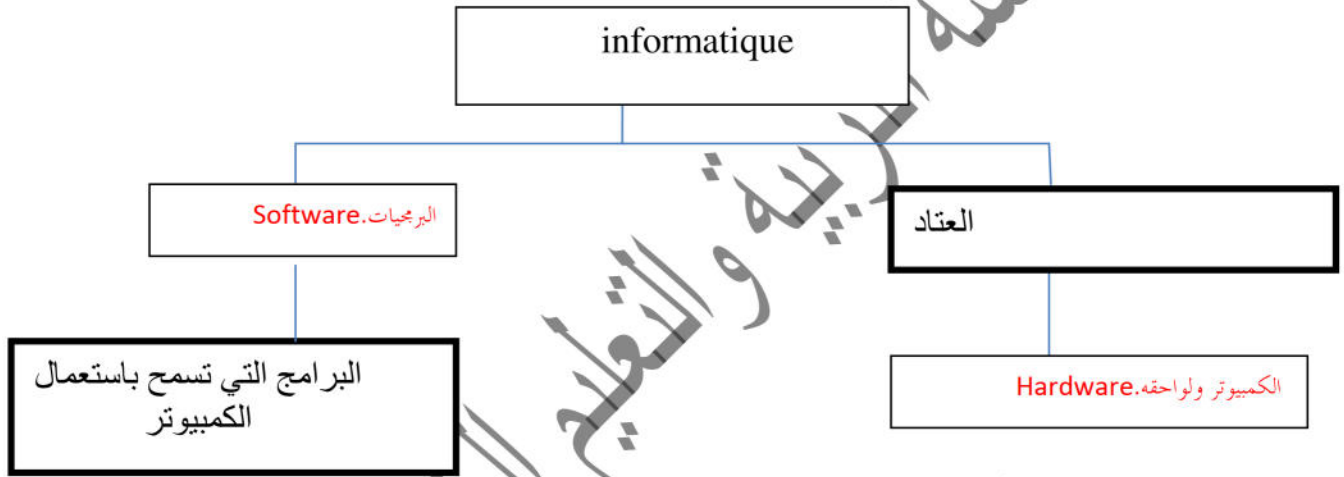


تصحيح إختبار الفصل الأول في مادة الإعلام الآلي

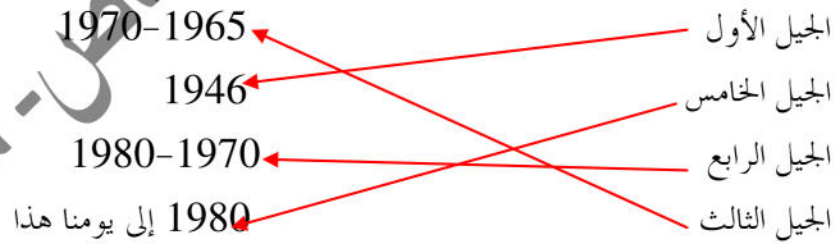
العام الدراسي: 2012-2013

المستوى: 1AM

تمرين 1: أكمل المخطط الآتي



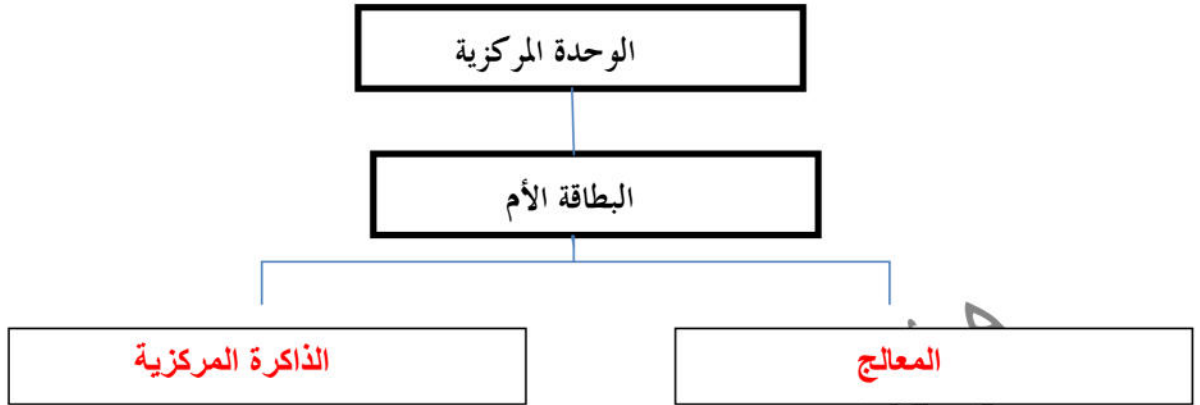
تمرين 2: أربط بسهم



تمرين 3: أكمل الجدول

وحدات إدخال	وحدات تخزين	وحدات إخراج
1- لوحة المفاتيح	1- القرص الصلب	1- مكبر الصوت
2- الفأرة	2- القرص المرن	2- الشاشة
3- المسح الضوئي	3- قرص	3- الطابعة

تمرين 4: أكمل ما يلي



تمرين 5: أحسب ما يلي

- 2 كيلو أوكتي = ؟ أوكتي
- 45 كيلو أوكتي = ؟ أوكتي
- 8455 أوكتي = ؟ كيلو أوكتي
- 96213 أوكتي = ؟ كيلو أوكتي
- 2000 أوكتي
- 45000 أوكتي
- 8.455 كيلو أوكتي
- 96.213 كيلو أوكتي