

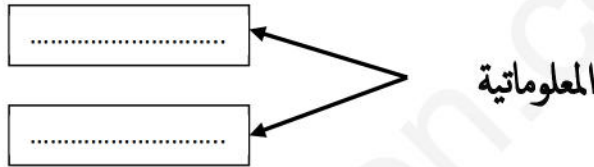
## الجزء الأول: (12 نقطة)

## التمرين الأول: (06 نقطة)

1) أعط تعريفا للحاسوب؟

الحاسوب: هو .....

2) ما هو أصل كلمة المعلوماتية؟



3) أكمل نموذج عمل الحاسوب:



التمرين الثاني: (06 نقطة) صنف الوحدات التالية في الجدول أدناه: (لوحة المفاتيح، مكبرات الصوت، الشاشة، الفأرة، القرص الصلب، الطابعة، المعالج، الماسح الضوئي).

وحدات التخزين والمعالجة	وحدات الإخراج	وحدات الادخال
.....	.....	.....
.....	.....	.....
.....	.....	.....

## الجزء الثاني: (08 نقطة)

### الوضعية الإدماجية:

إشترى والدك حاسوباً جديداً وبعد تركيبه لم يعرف طريقة استخدامه فطلب منك المساعدة، وحينها طرح عليك الأسئلة التالية:

(1) ماهي خطوات تشغيل الحاسوب؟

أ- .....  
ب- .....

ج- .....

(2) عند تشغيل الحاسوب ظهر على الشاشة شعار نظام التشغيل التالي .  


أ-ما اسم نظام التشغيل الذي ظهر على الشاشة؟ .....





ب-أعط تعريفاً لنظام التشغيل؟

نظام التشغيل: هو .....

(3) بعد ظهور واجهة نظام التشغيل شاهدت بعض الرموز على سطح المكتب.

أ- ماذا تسمى هذه الرموز؟ .....

ب- سمِّ نوع كل رمز في الجدول المقابل؟

 Ordinateur	 FICHE_INSCRIP...	 Corbeille	 Word 2013
.....	.....	.....	.....