

الجزء الأول: (6 نقط)

التمرين الأول: (1.5)

إليك الأرقام التالية: 3، 5، 7، 0، 4.

- كَوّن جميع الأعداد الممكنة باستعمال جميع الأرقام في كلّ مرّة، بحيث يكون الرقم: 3 في رتبة الآلاف، والرقم: 7 في رتبة عشرات الآلاف.
- رتّب هذه الأرقام ترتيبا تصاعديا من اليسار إلى اليمين.

التمرين الثاني: (1.5)

قطع محمد مسافة (15km) في مدة ثلاث ساعات. ما هي المسافة التي يقطعها في سبع ساعات؟

التمرين الثالث: (1.5)

كتلة شاحنة وهي محمّلة بالبضائع هي: 8.375 طنا، وكتلتها وهي فارغة هي: 3.875 طنا.
- احسب كتلة حمولة الشاحنة.

التمرين الرابع: (1.5)

ارسم مستقيمين (x) و (y) متعامدين في النقطة: O ، عيّن على المستقيم (x) النقطتين: A و C تبعدان عن O بـ 3 cm ، وعلى المستقيم (y) عيّن النقطتين: B و D تبعدان عن O بـ 3 cm ، ارسم الرباعي $ABCD$ ، قارن بين أطوال أضلاعه. قارن بين زواياه. ما نوع الرباعي؟

الجزء الثاني: المسألة: (4 نقط)

استصلح فلاح حقلًا مستطيل الشكل، طوله: 84m ، وعرضه: 52m .

1- ما هي المساحة المستصلحة؟

شغل هذا الفلاح 4 عمال أجرتهم الإجمالية 96000DA .

2- ما هي أجرة العامل الواحد؟

أحيط الحقل بسيلاج، ثمن المتر الواحد منه: 980DA .

3- احسب محيط هذا الحقل.

4- ما هو ثمن السياج المستعمل؟

الجزء الأول: (6 نقط)

التمرين الأول: (1.5)

$$73045 > 73054 > 73405 > 73450 > 73504 > 73540$$

(0.25) (0.25) (0.25) (0.25) (0.25) (0.25)

التمرين الثاني: (1.5)

المسافة التي يقطعها في ساعة واحدة: (0.25) $15 : 3 = 5 \text{ Km}$ (0.5)
المسافة التي يقطعها في 7 ساعات: (0.25) $.5 \times 7 = 35 \text{ Km}$ (0.5)

التمرين الثالث: (1.5)

كتلة شاحنة وهي محملة بالبضائع هي: 8.375 طنا، وكتلتها وهي فارغة هي: 3.875 طنا.
- كتلة حمولة الشاحنة: (0.5) $8.375 - 3.875 = 4.5 \text{ t}$ (1)

التمرين : (1.5)

- رسم المستقيمين (x) و (y) المتعامدين في النقطة: O. (0.25)
- رسم النقط: A B C D. (0.5)
- رسم الرباعي ABCD. (0.25)
- الأضلاع متقايسة، والزوايا متقايسة. (0.25)
- نوع الرباعي: مربع. (0.25)

الجزء الثاني: المسألة: (4 نقط)

استصلح فلاح حقلًا مستطيل الشكل، طوله: 84m، وعرضه: 52m.

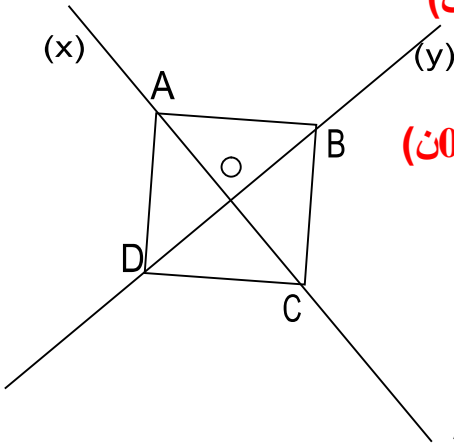
المساحة المستصلحة: (0.25) $52 \times 84 = 4368 \text{ m}^2$ (0.5)

أجرة العامل الواحد: (0.25) $96000 : 4 = 24000 \text{ DA}$ (0.5)

محيط هذا الحقل: (0.25) $52 + 84 = 272 \text{ m}$ (0.5)

ثمن السياج المستعمل: (0.25) $272 \times 980 = 266560 \text{ DA}$ (0.5)

(0.25) لكلّ عملية عمودية.



التمرين الأول: (1.5)
صنع العم مختار خاتما لابنته سلمى، فمزج 6.25 غراما من الذهب، و13.125 غراما من الفضة، وزينه بياقوته وزنها: 1.625 غراما.
• ما هو وزن الخاتم؟

التمرين الثاني: (1.5)
دفع سائق سيارة 322 دينارا مقابل 14 لترا من البنزين.
• كم يدفع ليحصل على: 21 لترا؟

التمرين الثالث: (1.5)
خزان سعته: 200 ل، مملوء بالماء، استعمل لملء قارورات سعة القارورة الواحدة: 250.ل.
- ما هي كمية الماء المتبقية في الخزان؟

التمرين الرابع: (1.5)
ارسم مستطيلا ABCD، طوله 7 cm وعرضه 3 cm، ثم ارسم القطر AC.
- ما نوع المثلثين الناتجين؟
- احسب مساحة أحدهما.

_____ : (4)
اشترى خياط لفة قماش طولها 125 مترا، فإذا كان سعر المتر الواحد: 270 دينارا.
• احسب ثمن شراء اللفة.
خاط منها 35 فستانا، وبقي من اللفة 20 مترا، غير صالحة للاستعمال.
• ما هو طول القماش المستعمل لخياطة فستان واحد؟
باع الخياط الفستان الواحد بـ: 1355 دينارا.
• ما هو ثمن بيع جميع الفساتين؟
• هل ربح الخياط أم خسر؟

التمرين الأول: (1.5)

وزن الخاتم: $6.25 + 13.125 + 1.625 = 21 \text{ g}$

العملية العمودية: (0.75ن)

(0.5ن)

(0.25ن)

التمرين الثاني: (1.5)

• يدفع ليحصل على لتر واحد: (0.25ن) $23 \ell = 14 : 322$ (0.5ن)

• يدفع ليحصل على: 21 لترا: (0.25ن) $483 \ell = 21 \times 23$ (0.5ن)

التمرين الثالث: (1.5)

- التحويل: $200 \text{ l} = 20000 \text{ cl}$ (0.5ن)

- $20000 = (250 \times 80) + 0$ (0.5ن)

- لا يبقى في الخزان ماء. (0.5ن)

التمرين: (1.5)

- رسم المسطيل: (0.25ن)، رسم القطر: (0.25ن)

- المثلثان الناتجان قائمان. (0.25ن)

- حساب المساحة: (0.25ن) $10.5 \text{ cm}^2 = (3 \times 7) / 2$ (0.5ن)

: _____ : (4)

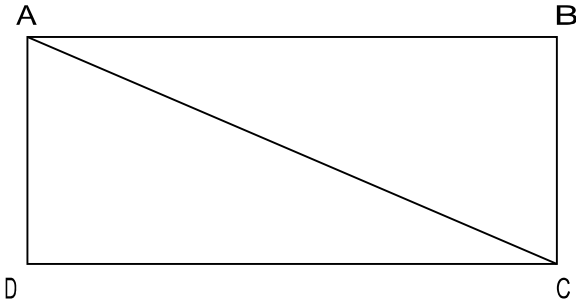
• حساب ثمن شراء اللقمة: (0.25ن) $270 \times 125 = 33750 \text{ DA}$ (0.5ن)

• طول القماش المستعمل لخياطة جميع الفساتين: (0.25ن) $125 - 20 = 105 \text{ m}$ (0.5ن)

• طول القماش المستعمل لخياطة فستان واحد: (0.25ن) $105 : 35 = 3 \text{ m}$ (0.5ن)

• ثمن بيع جميع الفساتين: (0.25ن) $1355 \times 35 = 47425 \text{ DA}$ (0.5ن)

• نعم ربح التاجر (0.5ن) لأن ثمن البيع (47425 DA) أكبر (0.5ن) من ثمن الشراء (33750 DA).



التمرين الأول: (1.5)

وزن التاجر قطعة زبدة فسجل الميزان الإلكتروني: 625.745 غراما، عندها طلب الزبون منه أن ينقص قليلا، فأنقص التاجر قطعة، عندها سجل الميزان: 575.540 غراما.
 • ما هو وزن القطعة التي أنقصها التاجر.

التمرين الثاني: (1.5)

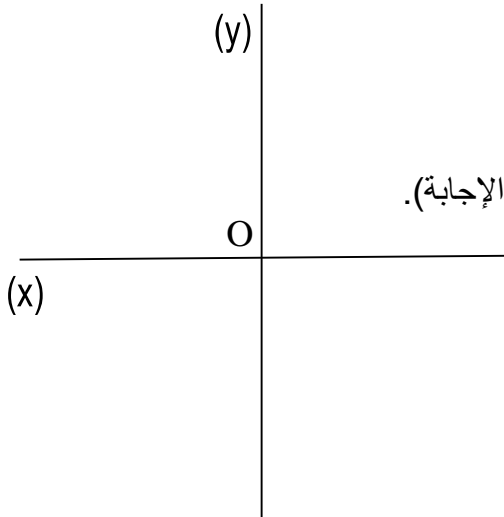
في مدرستنا موظفون وأساتذة وعمال عددهم 20، وهم موزعون حسب الجدول التالي:

| العدد | النسبة | الفئة |
|-------|--------|--------------------|
| | 05 % | الموظفون الإداريون |
| | 60 % | الأساتذة والمعلمون |
| | 35 % | الحراس والمنظفات |

- احسب العدد في كل فئة.

التمرين الثالث: (1.5)

باع تاجر في اليوم الأول: 75.5 كيلو غراما من التفاح، وفي اليوم الثاني باع 245 هيكثو غراما، فإذا كان لديه 120 كيلو غراما قبل البيع.
 - كم بقي عنده من البرتقال بالكيلو غرام ؟



التمرين الرابع: (1.5)

في الشكل المقابل المستقيمان (x) و (y) متعامدان (انقل الشكل على ورقة الإجابة).
 عيّن النقطة A على المستقيم (x) حيث: $OA = 3\text{cm}$.
 عيّن النقطة B على المستقيم (y) حيث: $OB = 3\text{cm}$.
 • ارسم الدائرة التي مركزها O وتشمل النقطتين A و B.
 • ارسم [AB] ولون الشكل الناتج.
 • احسب مساحته.

_____ : (4) :

باع صاحب محطة وقود في اليوم الأول 666 لترا من البنزين، وباع في اليوم الثاني أكثر ممّا باع في اليوم الأول بـ 334 لترا، أمّا في اليوم الثالث فقد باع أقلّ ممّا باع في اليوم الأول بـ 166 لترا.
 • كم لترا بقي في الخزّان، علما أنّ الخزّان البنزين الذي كان في الخزّان هي: 2500 لترا.
 • إذا كان ثمن اللتر الواحد 23 دينارًا. ما هو المبلغ الإجمالي الذي يقبضه صاحب المحطة بعد أن يفرغ الخزّان من كلّ البنزين ؟

التمرين الأول: (1.5)

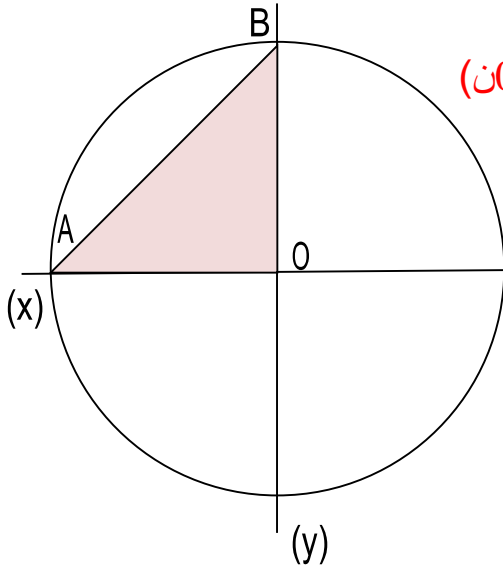
- وزن القطعة التي أنقصها التاجر: (0.5 ن) $575.540 - 625.745 = 50.205 \text{ g}$ (0.5 ن)، العملية العمودية كذلك (0.5 ن).

التمرين الثاني: (1.5)

| العدد | النسبة | الفئة |
|-----------------------------------|--------|--------------------|
| $20 \times 5 / 100 = 1$ (0.5 ن) | 05 % | الموظفون الإداريون |
| $20 \times 60 / 100 = 12$ (0.5 ن) | 60 % | الأساتذة والمعلمون |
| $20 \times 35 / 100 = 7$ (0.5 ن) | 35 % | الحراس والمنظفات |

التمرين الثالث: (1.5)

- باع تاجر في اليوم الأول: 75.5 كيلو غراما من التفاح، وفي اليوم الثاني باع 245 هيكثو غراما، فإذا كان لديه 120 كيلو غراما قبل البيع.



- التحويل: $245 \text{ hg} = 24.5 \text{ kg}$ (0.5 ن)
- وزن البرتقال المباع: $75.5 + 24.5 = 100 \text{ kg}$ (0.25 ن)
- وزن البرتقال الباقي: $125 - 100 = 25 \text{ kg}$ (0.25 ن)

التمرين الرابع: (1.5)

في الشكل المقابل المستقيمان (x) و (y) متعامدان.

- عيّن النقطة A على المستقيم (x) حيث: $OA = 3 \text{ cm}$ (0.25 ن)
- عيّن النقطة B على المستقيم (y) حيث: $OB = 3 \text{ cm}$ (0.25 ن)
- ارسم الدارة التي مركزها O وتشمل النقطتين A و B. (0.25 ن)
- ارسم [AB] ولون الشكل الناتج. (0.25 ن)
- احسب مساحته. (0.5 ن)

_____ : (4) :

- باع صاحب محطة وقود في اليوم الأول 666 لترا من البنزين، وباع في اليوم الثاني أكثر ممّا باع في اليوم الأول بـ 334 لترا، أمّا في اليوم الثالث فقد باع أقلّ ممّا باع في اليوم الأول بـ 166 لترا.
- كم لترا بقي في الخزان، علما أنّ الخزان البنزين الذي كان في الخزان هي: 2500 لترا.
- إذا كان ثمن اللتر الواحد 23 ديناراً. ما هو المبلغ الإجمالي الذي يقبضه صاحب المحطة بعد أن يفرغ الخزان من كلّ البنزين؟

- باع في اليوم الثاني: $666 + 334 = 1000 \text{ l}$ (0.5 ن)
- باع في اليوم الثالث: $666 - 166 = 500 \text{ l}$ (0.5 ن)
- سعة البنزين المباع: $666 + 1000 + 500 = 2166 \text{ l}$ (0.5 ن)
- بقي في الخزان: $2500 - 2166 = 334 \text{ l}$ (0.5 ن)
- المبلغ الذي قبضه صاحب المحطة: $23 \times 2500 = 57500 \text{ DA}$ (0.5 ن)

