



الجمهورية الجزائرية الديمقراطية الشعبية
وزارة التربية الوطنية

مؤسسة التربية والتعليم الخاصة - **سليم** -

S . A . L . I . M - ETABLISSEMENT PRIVE D'EDUCATION ET D'ENSEIGNEMENT - **SALIM** -

إعتماد رقم 67 بتاريخ 06 سبتمبر 2010 تحضيرى - ابتدائى - متوسط - ثانوى رخصة فتح رقم 1088 بتاريخ 30 جانفى 2011

4 AP

كراس العطلة



للفصل الأول

□ العام الدراسي 2013/2014

حي قعلول - برج البحري - الجزائر

Web site : www.ets-salim.com / 021.87.16.89 : الفاكس : 021.87.10.51 : ☎

اللغة العربية

التمرين الأول :

1. ضع خطأً تحت الفعل المتعدّي وخطين تحت الفعل اللازم :
2. يشاهدُ محمدُ المباراةَ.
3. أحسَّتْ بفرحٍ شديدٍ .
4. أنجزَ التلميذُ واجبهَ .
5. سلّمتِ المديرَةُ هديّةً للمجتهدِ .
6. أعملُ بإخلاصٍ.
7. قام الولدُ من مكانه.

التمرين الثاني :

لوّن الأفعال الماضية باللون الأحمر، الأفعال المضارعة بالأخضر، والأسماء بالأزرق وحروف الجرّ ب
البنفسجي

| | | | | | |
|-------------|---------|----------|----------|-----------|--------|
| العطلةُ | ترسُمان | الاجتهاد | إلى | إلْتَحَقَ | سَمِعَ |
| تَنْجَحِينَ | أو | يَبْحَثُ | عَصَفَتْ | ب | |

التمرين الثالث :

حوّل الجمل الاسمية إلى جمل فعلية:

1. المطرُ ينزلُ بغزارة.

2.

3. الرّياحُ تهبُّ قويّة.

4.

4. الثّلجُ يتناثرُ على الجبال.

5.

5. التلميذُ يجتهدُ لينال درجة ممتازة.

6.



حي قعلول - برج البحري - الجزائر

Web site : www.ets-salim.com /021.87.16.89 : الفاكس - Tel-Fax : 021.87.10.51 ☎

التمرين الرابع:

علّل سبب رسم الهمزة في كل كلمة من الكلمات التالية:

"سؤال"، "مسألة"، "رؤوف"، "سأل"

.....
.....
.....
.....

أثري لغتي:

اعط لكل كلمة تحتها خطاً مرادفها ثم أعد كتابة الجمل:

← جرى التهر عبر الأراضي الشاسعة

← العمارات الشاهقة

← تكره فاطمة الظلم والطغيان

← الأوراق خضراء فاقع لونها

← الحديقة العامة حاشدة بالناس

التمرين الخامس:

أعرب الجمل التالية:

قطفت الفتاة أزهاراً ملونةً.

يُنجز التلميذ واجبه.

العلم نور.

| الكلمة | |
|--------|--|
| | |

التمرين السادس:

صرف الفعل "تفرّج" في الماضي والمضارع مع جميع الضمائر.

حي قعلول - برج البحري - الجزائر

Web site : www.ets-salim.com / 021.87.16.89 : الفاكس : Tel-Fax : 021.87.10.51 : ☎

الرياضيات

التمرين الأول:

أكمل ما يلي:

- رقم العشرات في العدد 2540 هو:.....
- رقم الآلاف في العدد 25468 هو:.....
- عدد فيه 34 مئة و 15 وحدة هو:.....
- أضيف 9 عشرات إلى العدد 5469 أتحصل على:.....

التمرين الثاني:

أ - الفرق بين عددين هو 45 ، أصغرهما هو 451
ما هو أكبر هذين العددين؟

ب - أفكر في عدد أضيف له 250 ثم أضيف له 312 فأحصل على 1254

التمرين الثالث:

إختر مضاعفين للعدد 11.
جد مجموعهما وفرقهما.
هل كل من المجموع والفرق مضاعفين للعدد 11؟

التمرين الرابع:


- فكر في عدد مكون من ثلاثة أرقام رقم أحاده 6 و رقم عشراته نصف رقم أحاده.

- إضربه في 10 ، كم يصبح رقم عشراته؟

كم يصبح رقم مئاته؟

- إضربه في 100 ، كم يصبح رقم مئاته؟

كم يصبح رقم آلافه؟

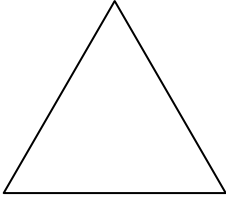


حي قعلول - برج البحري - الجزائر

Web site : www.ets-salim.com /021.87.16.89 - الفاكس : 021.87.10.51 - ☎

التمرين الخامس:

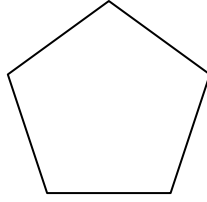
لون المضلعات فقط و اكتب اسم كل منها.




.....



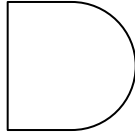
.....



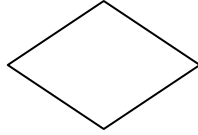
.....



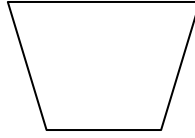
.....



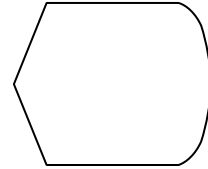
.....



.....



.....



.....

مشكلات:

1 - تتسع قاعة عرض سينمائية لـ 600 متفرج بحيث بيعت 450 تذكرة، من بين المتفرجين

يوجد مدعوون عددهم 65.

- كم تذكرة يمكن بيعها أيضا؟

.....
.....
.....
.....
.....

2 - فناء مدرسة طوله 60 مترا وعرضه 40 مترا

- أحسب محيطه.

.....
.....

حي قعلول - برج البحري - الجزائر

Web site : www.ets-salim.com / 021.87.16.89 : الفاكس : Tel-Fax : 021.87.10.51 : ☎

3 - عند خياط 250 مترا من القماش ، يستعمل 3 أمتار لخياطة فستان.

أراد هذا الخياط خياطة 43 فستانا.

- كم مترا من القماش يلزمه لخياطة 43 فستانا؟

- كم مترا من القماش يبقى له؟

- إذا باع الفستان الواحد بـ 1750 دينارا، ما هو المبلغ الذي يقبضه؟

.....

.....

.....

.....

.....

.....

1 Les tables d'addition jusqu'à 5. Je complète.



$5+1 =$ $9+2 =$ $6+3 =$ $8+4 =$ $5+5 =$

$8+1 =$ $4+2 =$ $7+3 =$ $3+4 =$ $8+5 =$

حي قعلول - برج البحري - الجزائر

Web site : www.ets-salim.com /021.87.16.89 : الفاكس - Tel-Fax : 021.87.10.51 : ☎

Français

I. Conjugue les verbes suivants à toutes les personnes du futur de l'indicatif :

CHOISIR - FINIR - TRAVAILLER

II. Ecris les questions aux réponses suivantes :

- Le Petit Chaperon rouge rencontre le loup.

.....

- Je vais au cinéma ce soir.

.....

- Tu as appris ta leçon.

.....



III. Classe les mots suivants selon les mots étiquettes :

Corbeau - banane - chaise - orange - fraise - fauteuil - mandarine - crocodile - chacal
- armoire.

| Mots étiquettes | Les mots |
|-----------------|----------|
| Animaux | |
| Fruits | |
| meubles | |

IV. Place le signe de ponctuation qui convient :

- Quelle belle maison
- Où est le coffre
- Oh le coffre est plein de pièces d'or
- Est-ce une plage

حي قعلول - برج البحري - الجزائر

Web site : www.ets-salim.com / 021.87.16.89 : الفاكس - Tel-Fax : 021.87.10.51 : ☎

V. Classe ces phrases dans un tableau : déclarative - impérative - interrogative

- Maman utilise un nouveau mixeur.
- Préparez nous une pastilla.
- Tu sais préparer un sorbet ?
- Ne mangez pas trop de sucreries.
- Achète-toi un lave vaisselle.
- Comment prépare-t-on un clafoutis ?
- Je ne me précipite jamais quand je travaille.

| Phrases déclaratives | Phrases interrogatives | Phrases exclamatives |
|----------------------|------------------------|----------------------|
| | | |




حي قعلول - برج البحري - الجزائر


Web site : www.ets-salim.com /021.87.16.89 : الفاكس - Tel-Fax : 021.87.10.51 : ☎


Anglais

ACTIVITY ONE :

Look and write(Those ,These)(window,clock,pencil sharpner)

1- 

2-.....are..... 

3- 

ACTIVITY TWO :

make in plural


1*This is a window-----


2*That is a clock-----


3*This is a book-----

Activity three :

Circle and write

* This door is..... Little 
That big

*This clock is round 
That square



حي قعلول سبرج البحري- الجزائر

Web site : www.ets-salim.com /021.87.16.89 : الفاكس - Tel-Fax : 021.87.10.51 : ☎



Colorier par numéro

- | | | |
|-----------|-----------|---------|
| 1. MARRON | 4. VERT | 7. GRIS |
| 2. JAUNE | 5. BLEU | 8. ROSE |
| 3. ROUGE | 6. VIOLET | |

حي قعلول سرج البحري- الجزائر

Web site : www.ets-salim.com /021.87.16.89 : الفاكس - Tel-Fax : 021.87.10.51 ☎