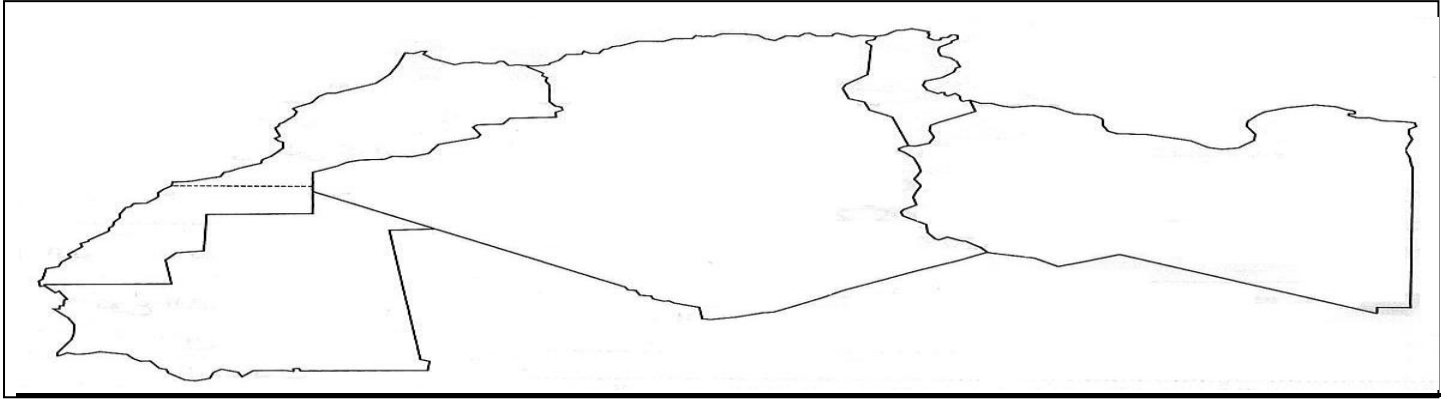


الجغرافيا:

التمرين الأول : أكتب اسم كل دولة من دول المغرب العربي على الخريطة التالية



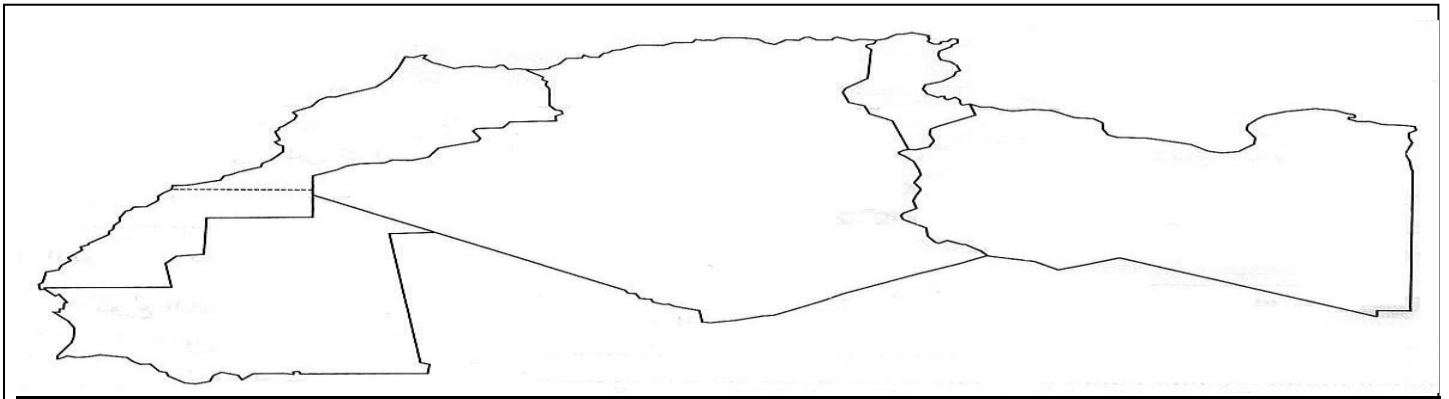
التمرين الثاني : مكونات الخريطة هي : 1..... 2..... 3..... 4.....

التمرين الثالث : أكمل كل عبارة من العبارات الآتية :

الجَزَائِرُ دَوْلَةٌ مِنْ دَوْلِ قَارَةِ / الجَزَائِرُ دَوْلَةٌ مِنْ دَوْلِ المَغْرِبِ /الجَزَائِرُ تُطَلُّ عَلَى البَحْرِ
 الجَزَائِرُ أَكْبَرُ بَلَدٍ وَالْعَاشِيرُ / الجَزَائِرُ لَهَا حُدُودٌ مَعَ دَوْلٍ وَهِيَ بَوَابَةُ إِفْرِيقِيَا مِنْ جِهَةِ
 / تَبْلُغُ مِسَاحَةُ الجَزَائِرِ /تَبْلُغُ مِسَاحَةُ الوَطَنِ العَرَبِيِّ /خَطُّ غَرِينِيْتِشِ خَطُّ

الجغرافيا:

التمرين الأول : أكتب اسم كل دولة من دول المغرب العربي على الخريطة التالية



التمرين الثاني : مكونات الخريطة هي : 1..... 2..... 3..... 4.....

التمرين الثالث : أكمل كل عبارة من العبارات الآتية :

الجَزَائِرُ دَوْلَةٌ مِنْ دَوْلِ قَارَةِ / الجَزَائِرُ دَوْلَةٌ مِنْ دَوْلِ المَغْرِبِ /الجَزَائِرُ تُطَلُّ عَلَى البَحْرِ
 الجَزَائِرُ أَكْبَرُ بَلَدٍ وَالْعَاشِيرُ / الجَزَائِرُ لَهَا حُدُودٌ مَعَ دَوْلٍ وَهِيَ بَوَابَةُ إِفْرِيقِيَا مِنْ جِهَةِ
 / تَبْلُغُ مِسَاحَةُ الجَزَائِرِ /تَبْلُغُ مِسَاحَةُ الوَطَنِ العَرَبِيِّ /خَطُّ غَرِينِيْتِشِ خَطُّ

التاريخ:

التمرين الأول: أكمل كل عبارة باختصار:

يُرْتَبَطُ التَّقْوِيمُ المِيلَادِيُّ بِمِيلَادٍ

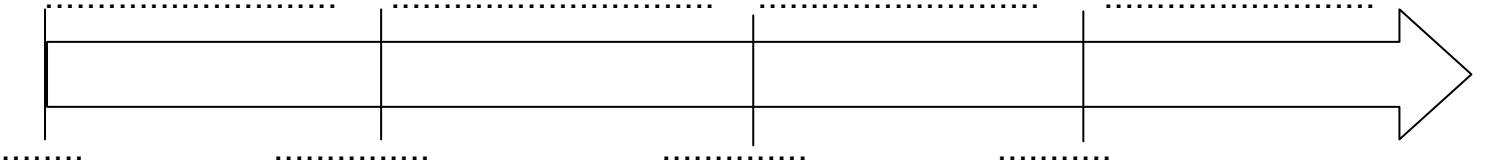
يُرْتَبَطُ التَّقْوِيمُ الهِجْرِيُّ بِهَجْرَةِ

إِنْدَلَعَتِ الثَّوْرَةُ التَّحْرِيرِيَّةُ الجَزَائِرِيَّةُ يَوْمَ

إِسْتَرْجَعَ الشَّعْبُ الجَزَائِرِيُّ سِيَادَتَهُ فِي

التمرين الثاني: يَفْصِلُ بَيْنَ كُلِّ مَرَحَلَةٍ مِنَ المَرَاكِجِ التَّارِيخِيَّةِ أَحْدَاثٌ بَارِزَةٌ، بَدَأَتْ مِنْ إِكْتِشَافِ الكِتَابَةِ ثُمَّ سُقُوطِ رُومًا ثُمَّ فَتْحِ القُسْطَنْطِينِيَّةِ ثُمَّ قِيَامِ الثَّوْرَةِ الفَرَنْسِيَّةِ .

ضَعْ عَلَى المُخَطَّطِ التَّالِيِ كُلًّا مِنَ المَرَاكِجِ التَّارِيخِيَّةِ وَهَذِهِ الأَحْدَاثُ :



التاريخ:

التمرين الأول: أكمل كل عبارة باختصار:

يُرْتَبَطُ التَّقْوِيمُ المِيلَادِيُّ بِمِيلَادٍ

يُرْتَبَطُ التَّقْوِيمُ الهِجْرِيُّ بِهَجْرَةِ

إِنْدَلَعَتِ الثَّوْرَةُ التَّحْرِيرِيَّةُ الجَزَائِرِيَّةُ يَوْمَ

إِسْتَرْجَعَ الشَّعْبُ الجَزَائِرِيُّ سِيَادَتَهُ فِي

التمرين الثاني: يَفْصِلُ بَيْنَ كُلِّ مَرَحَلَةٍ مِنَ المَرَاكِجِ التَّارِيخِيَّةِ أَحْدَاثٌ بَارِزَةٌ، بَدَأَتْ مِنْ إِكْتِشَافِ الكِتَابَةِ ثُمَّ سُقُوطِ رُومًا ثُمَّ فَتْحِ القُسْطَنْطِينِيَّةِ ثُمَّ قِيَامِ الثَّوْرَةِ الفَرَنْسِيَّةِ .

ضَعْ عَلَى المُخَطَّطِ التَّالِيِ كُلًّا مِنَ المَرَاكِجِ التَّارِيخِيَّةِ وَهَذِهِ الأَحْدَاثُ :

