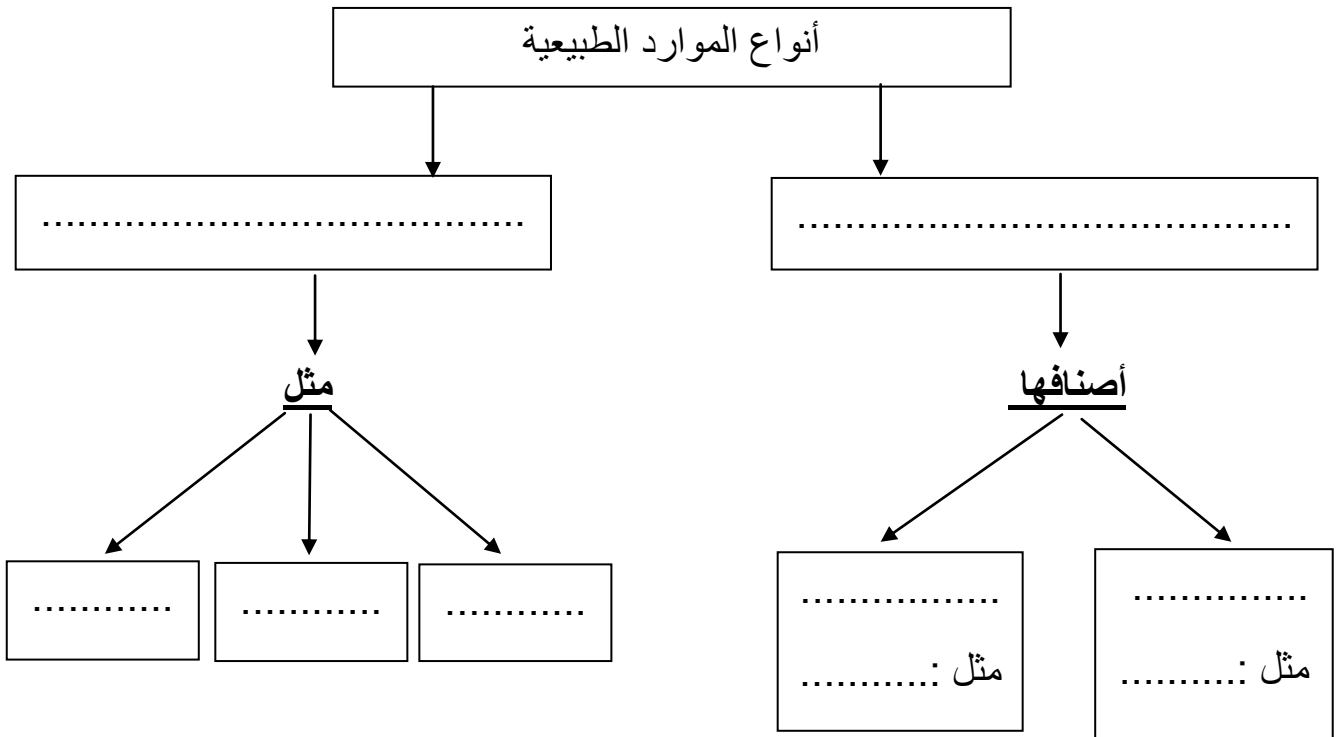


المستوى :الرابعة ابتدائي 4AP، مارس، 2020

اختبار الفصل الثاني في مادة الجغرافيا

الوضعية الأولى :

اقترح موعد الإختبارات فكثفت المراجعة وقمت بإنجاز مخطط حول الموارد الطبيعية التي تزخر بها الجزائر حتى تسهل علي المراجعة والحفظ فرسمت ودونت مايلي :



الوضعية الثانية :

تتوفر الجزائر على موارد معدنية وموارد طاقة متنوعة ، عرف زميلك بمناطق تواجد المعادن التالية :

- الحديد : هو أهم المعادن ومتوفر في :
- الفوسفات : تتمركز أهم مناجمه في :
- الذهب : يوجد في :
- الغاز الطبيعي : تتمركز حقوله في :

الوضعية الثالثة :

ليلة الامتحان حاولت أمك أن تختبر مراجعتك ومدى تأهيلك للإمتحان فقدمت لك التمرين التالي :

حاول أنتربط كل عبارة بما يناسبها :

- المؤسسات التربوية

- صناعة الأواني الفخارية

- صناعة الورق

- خدمات البريد

- تكرير البترول

- صناعة الشاحنات

- المحاكم

- الشرطة

الوضعية الثالثة :

تزرع الجزائر بموارد فلاحية كثيرة تساعدها على تطوير الفلاحة ،اذكر هذه الموارد .

..... -

..... -

..... -

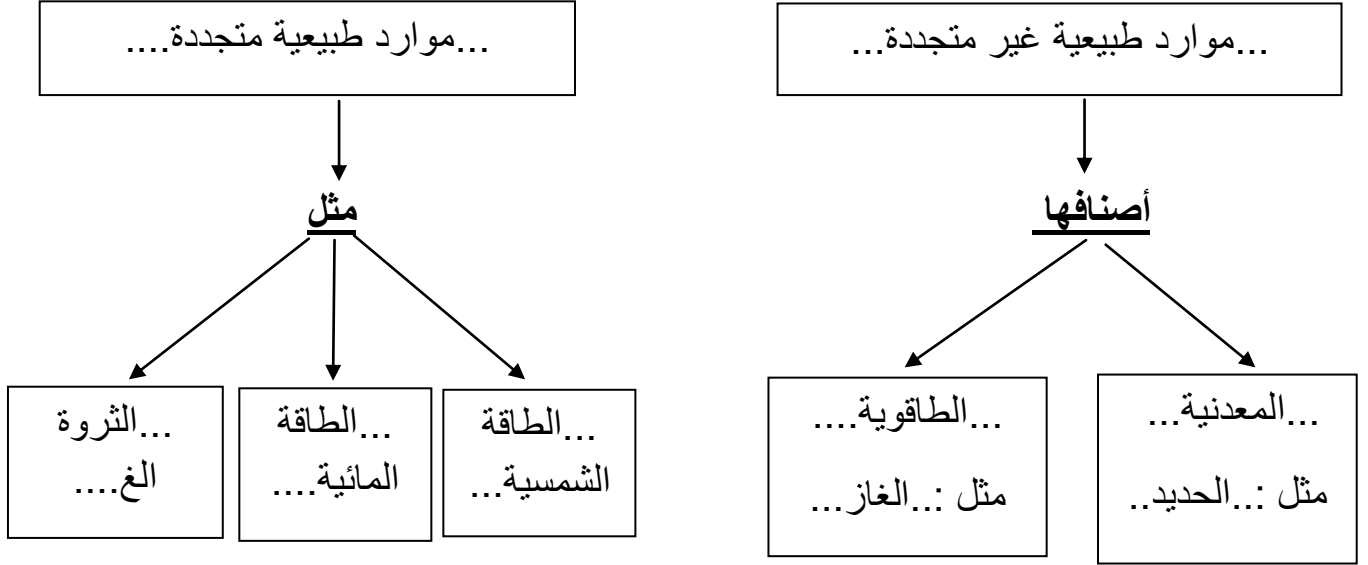
تصحيح اختبار الفصل الثاني في الجغرافيا

السنة الرابعة

الوضعية الأولى :

اقترب موعد الإختبارات فكثفت المراجعة وقمت بإنجاز مخطط حول الموارد الطبيعية التي تزخر بها الجزائر حتى تسهل عليك المراجعة والحفظ فرسمت ودونت مايلي : (3.5ن)

أنواع الموارد الطبيعية



الوضعية الثانية : (3 ن)

تتوفر الجزائر على موارد معدنية وموارد طاقوية متنوعة ، عرف زميلك ببعض مناطق تواجد المعادن التالية :

- الحديد : هو أهم المعادن ومتوفر في :...مصنع الحديد والصلب بعنابة ، الونزة ، مصنع بلارة....

- الفوسفات : تتمركز أهم مناجمه في :...منجم تبسة ...

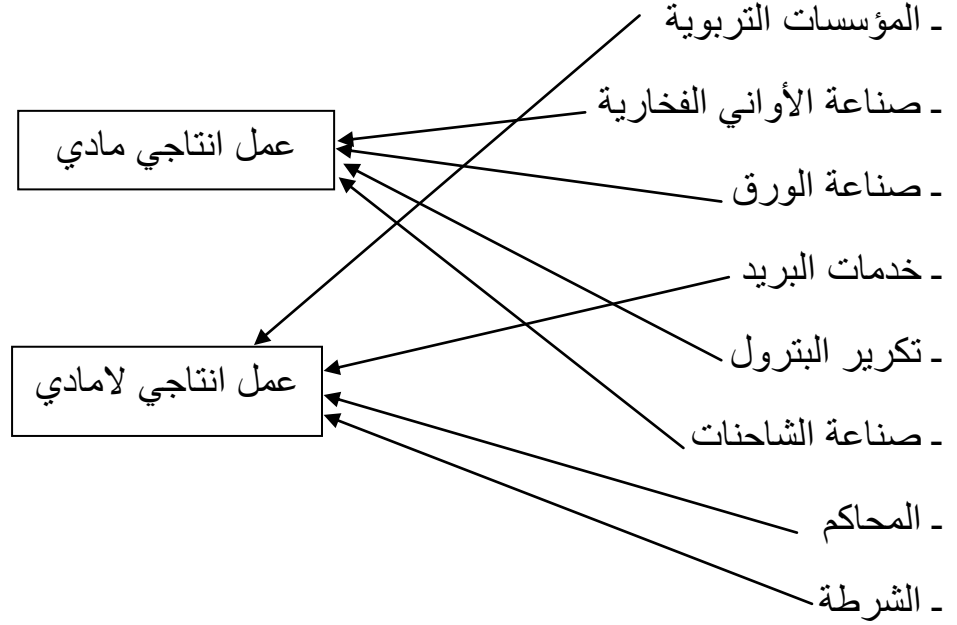
- الذهب : يوجد في :...منجم الهقار....

- الغاز الطبيعي : تتمركز حقوله في :...حاسي رمل ، عين أميناس ، عين صالح..

الوضعية الثالثة: (2ن)

ليلة الامتحان حاولت أمك أن تختبر مراجعتك ومدى تأهيلك للإمتحان فقدمت لك التمرين التالي :

حاول أنتربط كل عبارة بما يناسبها :



الوضعية الرابعة: (1.5ن)

تزخر الجزائر بموارد فلاحية كثيرة تساعد على تطوير الفلاحة ،اذكر هذه الموارد .

- ...التربة.....

- ...الثروة الحيوانية...

- ...الثروة المائية...