

التاريخ: 2021/03/03  
المدة: 1 سا و30 د

المادة: التربية العلمية  
المستوى: الرابعة ابتدائي

## اختبار الفصل الأول

الاسم واللقب: .....

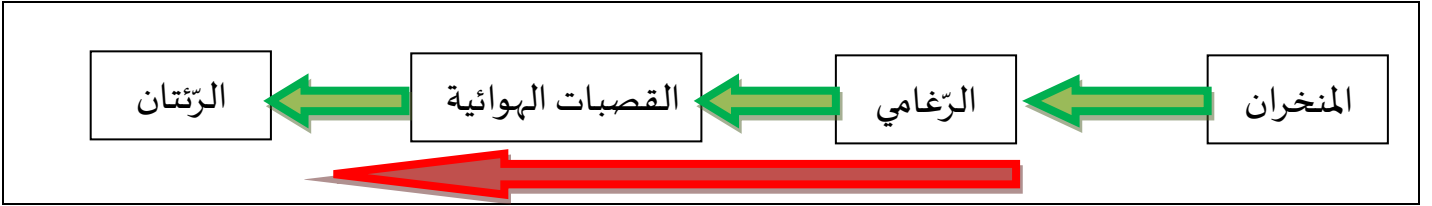
اقرا كل سؤال ثم أجب.

1) تمثل الحركات التنفسية في عمليتي الشهيق والزفير.

- ما هو هواء الشهيق؟

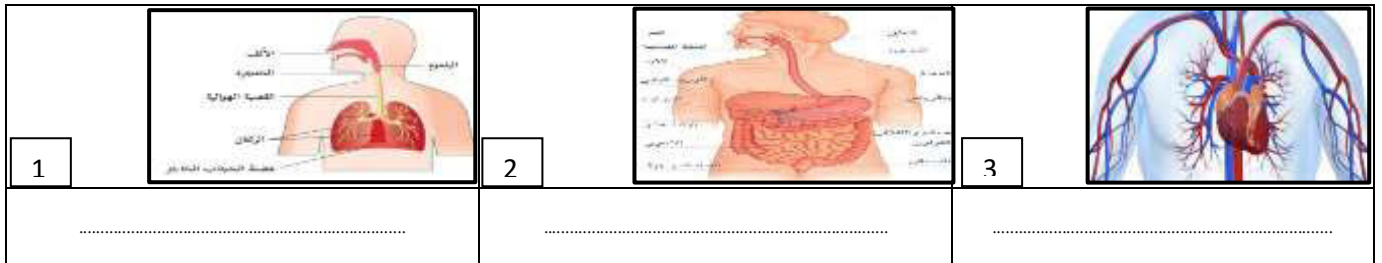
- ما هو هواء الزفير؟

2) يمثل التخطيط الآتي مسار دخول هواء الشهيق.



- ارسم التخطيط المعاكس له (مسار خروج هواء الزفير).

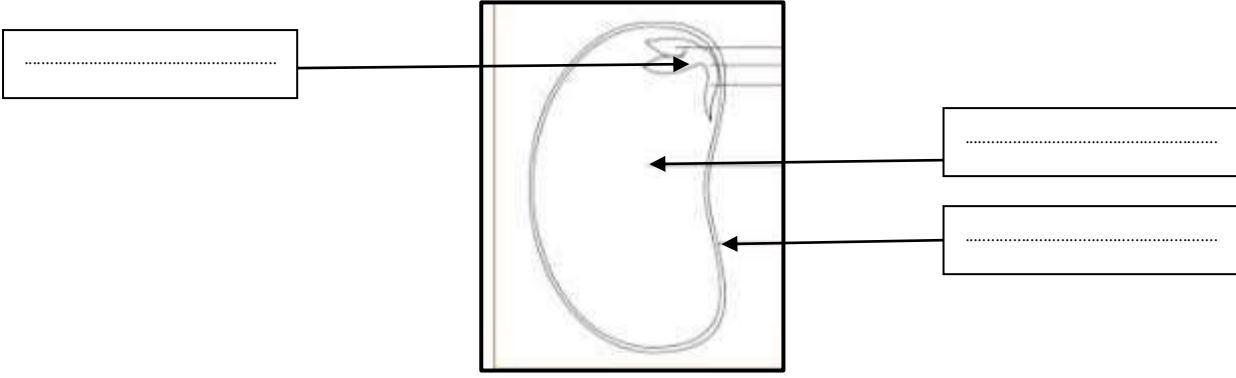
3) لاحظ الوثائق الآتية وسم كل واحدة منها.



- ما علاقة جهاز الوثيقة 3 بالجهازين 2 و 1

- أذكر الأساسي لكل جهاز.

4) ضع البيانات المناسبة لمكونات البذر:



### الوضعية الإدماجية:

كانت أمك تحضر الغذاء وفجأة أصابت إصبعها بسكين حاد، فسال دمها، لما رأيته هكذا قمت بمساعدتها لإيقاف النزيف.

-أذكر الخطوات التي اتبعتها.

.....

.....

.....

.....

.....

التاريخ: 2021/03/03  
المدة: 1 ساو 30د

المادة: التربية العلمية  
المستوى: الرابعة ابتدائي

## تصحيح اختبار الفصل الأول

الاسم واللقب: .....

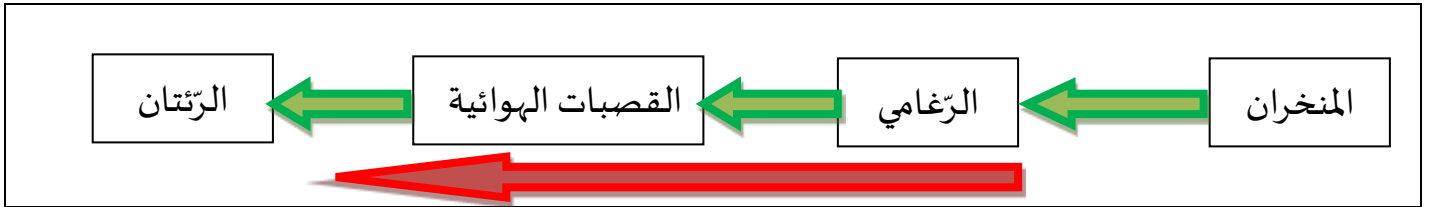
اقرا كل سؤال ثم أجب.

(1) تتمثل الحركات التنفسية في عمليتي الشهيق والزفير.

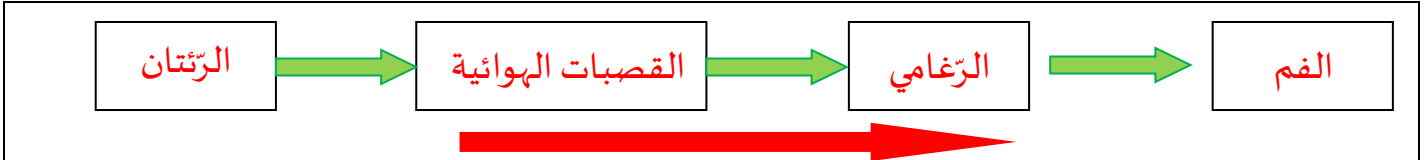
- ما هو هواء الشهيق؟ هواء الشهيق هو الأكسجين.

- ما هو هواء الزفير؟ هواء الزفير هو ثاني أكسيد الكربون.

(2) يمثل التخطيط الآتي مسار دخول هواء الشهيق.



- ارسم التخطيط المعاكس له (مسار خروج هواء الزفير)



(3) لاحظ الوثائق الآتية وسم كل واحدة منها.



- ما علاقة جهاز الوثيقة 3 بالجهازين 2 و 1

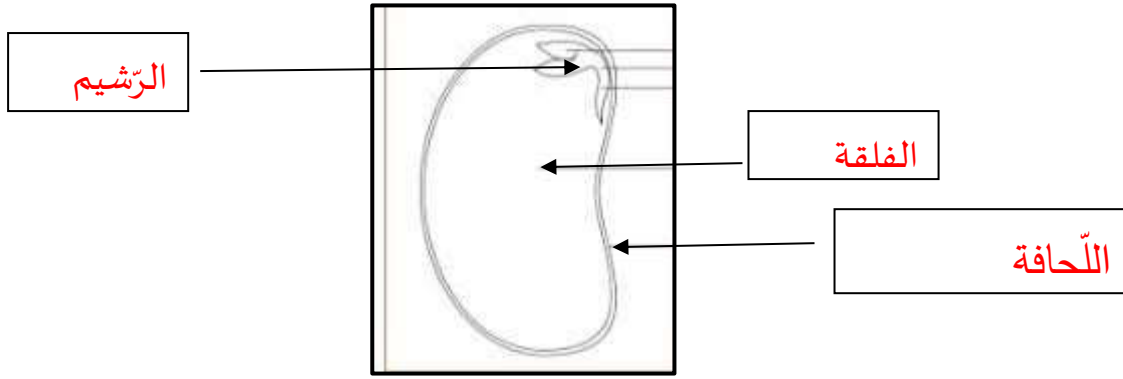
يقوم بتوزيع الغذاء والاكسجين إلى سائر الجسم.

- العضو الأساسي لكل جهاز هو: العضو الأساسي لجهاز الدوران هو القلب

العضو الأساسي لجهاز الهضم هو المعدة

العضو الأساسي لجهاز التنفس هو الرئتان

#### 4) ضع البيانات المناسبة لمكونات البذرة:



#### الوضعية الإدماجية:

كانت أمك تحضر الغذاء وفجأة أصابت إصبعها بسكين حاد، فسال دمها، لما رأيته هكذا قمت بمساعدتها لإيقاف النزيف.

-أذكر الخطوات التي اتبعتها.

-تنظيف مكان الجرح بقطن أو شاش معقم.

-الضغط على مكان النزيف باستعمال ضمادة نظيفة.

-جعل الجزء المصاب أعلى من القلب.

-ربط الضمادة على الجرح بعد توقف النزيف.