











إختبار الفصل الثالث في التربية العلمية والتكنولوجية

إسم ولقب التلميذ..... السنة الأولى ابتدائي
التمرين الأول: أكتب الكلمة المناسبة لكل جسم (صُلْب) أو (سَائِل). (2.5 ن)

				
.....
				
.....

التمرين الثاني: إربط كل أداة بمادة صنعها. (1 ن)





التمرين الثالث: أكمل الفراغ بالكلمة المناسبة : (2.5 ن)

قلم الحبر - قلم الرصاص - السيالة - الألوان المائية - الطباشير

مواد الكتابة و الرسم تترك أثراً يسهُلُ إزالته عند استعمال أو

وتصعبُ عند استعمال أو

التمرين الرابع: شطب على الأشياء التي لا تذوب بالحرارة. (1.5 ن)



التمرين الخامس: إربط كل صورة بالتي تناسبها. (2.5 ن)



إختبار الفصل الثالث في التربية المدنية

إسم ولقب التلميذ..... السنة الأولى ابتدائي

التمرين الأول: سَمِ السُّورَةَ الْكَرِيمَةَ، وَرَتِّبْهَا . (3 ن)

فَصَلِّ لِرَبِّكَ وَأَنْحَرِ - إِنَّ شَانِكَ هُوَ الْأَبْتَرُ - إِنَّا أَعْطَيْنَاكَ الْكَوْثَرَ

سُورَةٌ.....

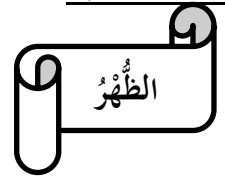
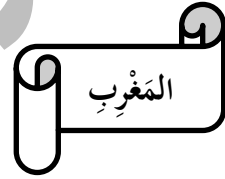
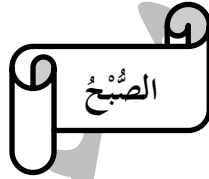
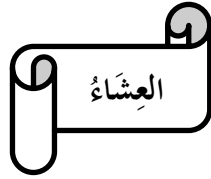
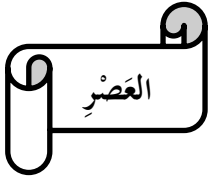
بِسْمِ اللَّهِ الرَّحْمَنِ الرَّحِيمِ

.....(1).....

.....(2).....(3).....

صَدَقَ اللَّهُ الْعَظِيمُ

التمرين الثاني: إِرْبِطْ كُلَّ صَلَاةٍ حَسَبَ تَرْتِيبِهَا . (2.5 ن)



[5]

[4]

[3]

[2]

[1]

التمرين الثالث: أَكْمِلِ الْحَدِيثَ الشَّرِيفَ : سَمِّ - يَمِينِكَ - يَلِيكَ (1.5 ن)

قَالَ رَسُولُ اللَّهِ صَلَّى اللَّهُ عَلَيْهِ وَسَلَّمَ

" يَا غُلَامُ:اللَّهُ ، وَكُلْوَكُلْ مِمَّا"

التمرين الرابع: أَجِبْ بـ (ص) أَوْ (خ) . (3 ن)

• الشَّهَادَتَانِ هُمَا الرُّكْنُ الْأَخِيرُ مِنْ أَرْكَانِ الْإِسْلَامِ (.....)

• أَحْتَرَمُ النَّاسَ وَ أَحْيِيهِمْ (.....)

• أَنَامُ عَلَى جَنْبِي الْأَيْسَرِ وَأَقْرَأُ دُعَاءَ النَّوْمِ (.....)

• الْإِسْلَامُ يَأْمُرُنَا بِالطَّهَارَةِ (.....)

• فِي عِيدِ الْأَضْحَى لَا نُصَلِّي فِي الْمَسْجِدِ (.....)

• الْمُسْلِمُ يَذْكُرُ اللَّهَ كَثِيرًا (.....)

إختبار الفصل الثالث في التربية المدنية

إسم ولقب التلميذ..... السنة الأولى ابتدائي

التمرين الأول: حوِّطْ عَلَى النُّقُودِ الَّتِي تُمَثِّلُ عُمْلَةَ الْجَزَائِرِ. (4 ن)



..... العُمْلَةُ الْوَطَنِيَّةُ هِيَ:

التمرين الثاني: لَوْنُ بِالْأَصْفَرِ الْبِطَاقَاتِ الَّتِي تُمَثِّلُ وَثَائِقَ هَوِيَّتِي. (2 ن)

جَوَازُ السَّفَرِ

تَذَكُّرَةُ الْقِطَارِ

الْبِطَاقَةُ الْمَدْرَسِيَّةُ

الْكِتَابُ الْمَدْرَسِيُّ

بِطَاقَةُ التَّعْرِيفِ الْوَطَنِيَّةُ

الدَّفْتَرُ الصَّحِّي

التمرين الثالث: اكْمِلِ الناقِصَ. (4 ن)

قَسَمًا - مُقَدِّمِي زَكْرِيَا - الْجَزَائِرُ - مُحَمَّدٌ فَوْزِي

أَنَا أَعِيشُ فِي وَطَنِي

عُنْوَانُ نَشِيدِ وَطَنِي هُوَ.....

..... هُوَ الَّذِي أَلْفَ النَّشِيدِ الْوَطَنِيِّ ،

وَلَحَنَهُ.....

إختبار الفصل الثالث في اللغة العربية

إسم ولقب التلميذ..... السنة الأولى ابتدائي

جَوَادُ فِي الْعِيَادَةِ

إِرْتَفَعَتْ حَرَارَةُ أَيُّوبَ فَأَخَذَهُ أَبُوهُ إِلَى الْعِيَادَةِ الطَّبِيبَةِ ، كَانَ أَيُّوبُ خَائِفًا مِنْ أَنْ يُعْطِيَهُ الطَّبِيبُ حُقْنَةً ، فَحَصَّ الطَّبِيبُ حَلَقَهُ وَ أَدْنَاهُ وَ أَسْنَانَهُ وَ تَسَمَّعَ لِدَقَاتِ قَلْبِهِ وَوَضَعَ الْمِحْرَارَ عَلَى جَسَدِهِ ، فَوَجَدَ حَرَارَتَهُ مُرْتَفَعَةً ، سَأَلَهُ: مَاذَا أَكَلْتَ بِالْأَمْسِ ؟ قَالَ أَيُّوبُ: فَاكِهَةٌ وَبَعْضُ الْمُثَلَّجَاتِ .

أَسْئَلَةُ النِّصِّ: (3 ن)

- مَاذَا حَدَثَ لِأَيُّوبَ؟
 - مَنْ أَخَذَهُ عِنْدَ الطَّبِيبِ؟
 - مِمَّ كَانَ أَيُّوبُ خَائِفًا؟
 - لِمَاذَا إِرْتَفَعَتْ حَرَارَةُ أَيُّوبَ؟
- أَسْئَلَةُ اللُّغَةِ:

1/ إِخْتَرِ الإِجَابَةَ الصَّحِيحَةَ: (1 ن)

- الْوَقَايَةُ خَيْرٌ مِنْ:  الدَّوَاءِ
- أَخَذَ الْأَبُ أَيُّوبَ إِلَى:  الْعِيَادَةِ الطَّبِيبَةِ
- العِلَاجُ 
- السُّوقِ 

2/ إِسْتَخْرِجْ مِنَ النِّصِّ: (2 ن)

الشَّدَّة	الْهَمْزَةُ	آلُ الشَّمْسِيَّةِ	ث

3/ إِرْبِطْ كُلَّ كَلِمَةٍ بِضِدِّهَا. (1 ن)

سَمِينٌ	خُلُوٌ	حَاضِرٌ	طَوِيلٌ
قَصِيرٌ	نَحِيفٌ	غَائِبٌ	مُرٌّ

4/ رَتِّبِ الْجُمْلَةَ التَّالِيَةَ (1.5 ن)

الطَّبِيبُ - وَجَدَ - مُرْتَفَعَةً - أَيُّوبَ - حَرَارَةَ

.....


كِتَابَةٌ: إِعَادَةُ كِتَابَةِ النِّصِّ فِي كُرَاسِ الإِخْتِبَارِ. (1.5 ن).

إختبار الفصل الثالث في الرياضيات

إسم ولقب التلميذ..... السنة الأولى ابتدائي
التمرين الأول: أَنْجِزِ الْعَمَلِيَّاتِ التَّالِيَةَ. (3 ن)

32	24	55	23	65	14
+17	+63	+42	+42	+54	+33
= ..	= ..	= ..	= ..	= ..	= ..

التمرين الثاني: أَحْسِبْ وَأَلَوْنِ. (2 ن)



عَدَدُ الْمُثَلَّثَاتِ هُوَ..... مُثَلَّثَاتٍ، لَوْنُهُ بِالْأَصْفَرِ.

عَدَدُ الْمُرَبَّعَاتِ هُوَ..... مُرَبَّعَاتٍ، لَوْنُهُ بِالْأَزْرَقِ.

عَدَدُ الدَّوَائِرِ هُوَ..... دَوَائِرٍ، لَوْنُهُ بِالْأَحْمَرِ.

عَدَدُ الْمُسْتَطِيلَاتِ هُوَ..... مُسْتَطِيلَاتٍ، لَوْنُهُ بِالْأَزْرَقِ.

التمرين الثالث: أَحْسِبْ مَا يَلِي: (2 ن)

$$27 + 12 = \dots + \dots + \dots + \dots$$

$$= \dots + \dots$$

$$= \dots$$

$$45 + 23 = \dots + \dots + \dots + \dots$$

$$= \dots + \dots$$

$$= \dots$$

التمرين الرابع: أَكْمِلِ الشَّرِيطَ الْعَدَدِي حَسَبَ رَقْمِ الْأَحَادِ. (1.5 ن)

17
----	---	---	---	---	---	---

المشكلة: عِنْدَ فَرِيدَ 25 دِينَارًا ، زَادَتْهُ أُمُّهُ 63 دِينَارًا . أَحْسِبْ كَمْ صَارَ عِنْدَ فَرِيدَ؟ (1.5 ن)

الْحَلُّ

$$. . + . . = \dots$$

صَارَ عِنْدَ فَرِيدَ..... دِينَارًا.

$$. .$$

$$+ . .$$

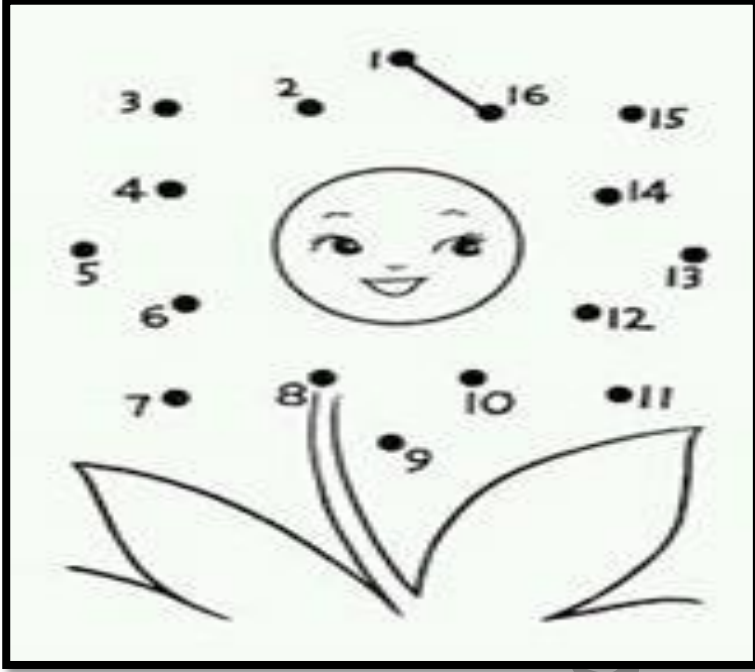
$$= . .$$

إختبار الفصل الثالث في التربية التشكيلية

إسم ولقب التلميذ..... السنة الأولى ابتدائي

التمرين الأول (4 ن)

1/ أكمل الرسم مُستعينًا بِالمِسطرة ثُمَّ لَوْنُهُ. (3.5ن)



2/ سَمِّ الشَّكْلَ الْمُتَحَصِّلَ عَلَيْهِ (0.5ن)

.....

التمرين الثاني: (6 ن)

1/ لَوْنُ الرَّسْمِ بِأَلْوَانٍ مُخْتَلِفَةٍ. (4 ن)

2/ إِخْتَرْ عُنْوَانًا مُنَاسِبًا لِلرَّسْمِ:..... (0.5 ن)

3/ سَمِّ ثَلَاثَ حَيَوَانَاتٍ مَوْجُودَةٍ فِي الصُّورَةِ:..... (1.5 ن)

