

التمرين الأول:

1

أكمل الجدول التالي:

رقم العشرات	رقم الوحدات	العدد بالحروف	العدد بالأرقام
..	66
..	..	أربعة و تسعون	...
8	0
..	72

رتب الأعداد من الأصغر إلى الأكبر: 80 ، 66 ، 94 ، 43 ، 72 ،

.....


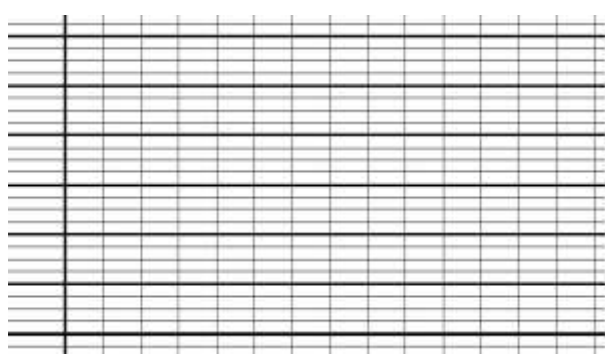
فكك الأعداد التالية :

$72 = \dots + \dots$	$66 = \dots + \dots$
$80 = \dots + \dots$	$94 = \dots + \dots$

التمرين الثاني:

2

أحسب المجاميع التالية حسب المثال: $46+23=40+20+6+3=69$

$62 + 78$	$53 + 49$
	

من بين الاجابات التالية اختر الإجابة الصحيحة:

الطريقة التي اتبعتها لحساب المجاميع هي :

الإتمام إلى العشرة الموالية

التفكيك و التجميع

التقدم على الشريط العددي

3 التمرين الثالث:

أكمل الجدول التالي:

العشرة الموالية	المتمم	العدد
70	4	66
50	2	...
...	...	21
...	...	46
20	6	...
10	5	...

أكمل حسب المثال : $25 = 30 - 5$

$46 = \dots - \dots$	$13 = \dots - \dots$
$72 = \dots - \dots$	$61 = \dots - \dots$
$88 = \dots - \dots$	$37 = \dots - \dots$

أحسب المجاميع باستعمال الطريقة التالية:

$$76 + 46 = 76 + 50 - 4$$

$$76 + 46 = 126 - 4$$

$$76 + 46 = 122$$

التمرين الأول: أكتب الأرقام بالحروف

.....	15	17
.....	9	3
.....	2	20
.....	11	7

التمرين الثاني: أحسب عدد الأشكال في الصورة ثم أدون الرقم بالحروف



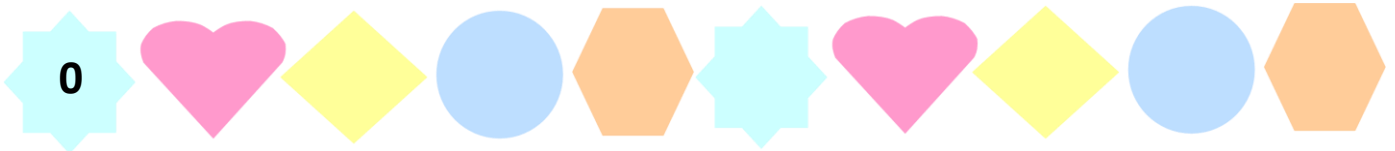
عدد الفراشات

عدد الزهور

عدد حبات الفطر

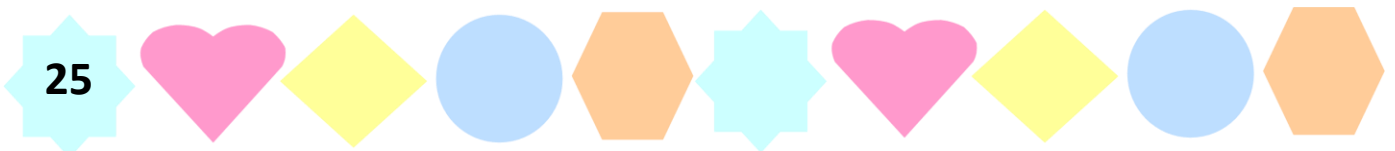
التمرين الرابع: أرتب الأرقام التالية تصاعديا

28، 29، 3، 0، 23، 11، 15، 7، 9، 20



التمرين الخامس: أرتب الأرقام التالية تنازليا

2، 4، 6، 11، 13، 22، 17، 25، 5، 10



التمرين السادس : أضع علامة (> ، < ، =) في المكان المناسب

10	14 - 4	11 + 5	15
14	22	4 + 2	25 - 23
18 - 4	3 + 11	7	10
12 - 10	7 - 5	3 + 3	5

التمرين السابع : أحسب ثم أربط بالعدد المناسب

$14 + 5$

$10 + 17$

$23 - 4$

$14 - 5$

$24 - 5$

9

19

27

$16 + 11$

$4 + 5$

$27 - 8$

$16 + 3$

$20 + 7$

$10 - 1$

$3 + 6$

التمرين الثامن: ألاحظ الصورة ثم أضع علامة (x) أمام الجواب الصحيح



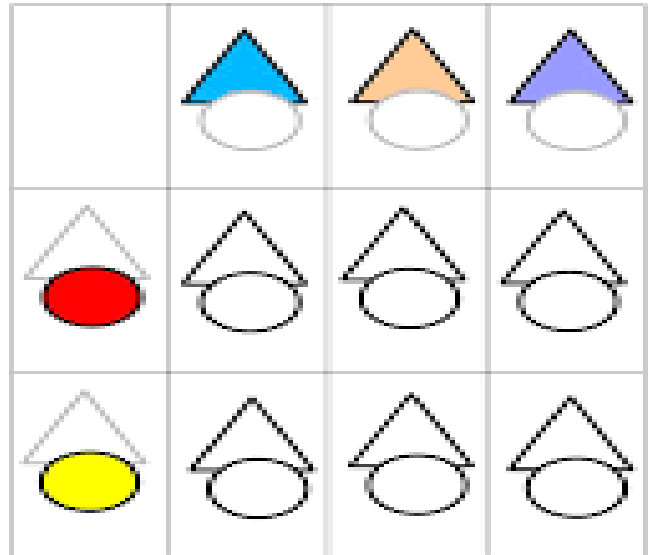
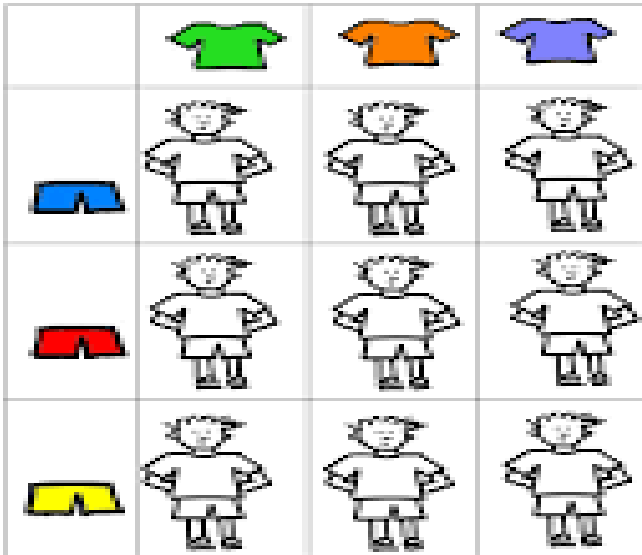
الكرة أمام القطّة

الكرة خلف القطّة

العصفور على يمين القطّة

العصفور على يسار القطّة

التمرين التاسع: أكمل الجدول و لون ما يجب تلوينه



مسائل حسابية:

عِنْدَ مَرَامَ سِتَّةُ حَبَّاتِ حَلْوَى، أَعْطَتْهَا أُمُّهَا خَمْسُ حَبَّاتٍ، وَ أَضَافَ لَهَا أَبُوهَا ثَمَانِ حَبَّاتٍ، فَكَمْ أَصْبَحَ عِنْدَ مَرَامَ؟

العملية :

أصبح عند مرام من الحلوى

اشْتَرَى يُوسُفَ 5 سَيَّارَاتٍ، وَ كَانَتْ لَهُ مِنْ قَبْلُ 24 سَيَّارَةً، فَكَمْ مِنْ سَيَّارَةٍ يَمْتَلِكُ يُوسُفَ؟

العملية :

يَمْتَلِكُ يُوسُفَ سَيَّارَةً.

أضع علامة (x) مكان الجواب الصحيح

27 هو نتيجة العمليات :

$$20 + 7 = \square \quad 23 + 5 = \square \quad 15 + 12 = \square \quad 29 - 2 = \square \quad 13 + 5 = \square$$

في حديقة منزلنا 15 وردة حمراء، و 5 ورود صفراء، و 3 ورود بيضاء، قطفنا منها أمي 4 ورود (2 حمراء، 1 صفراء و 1 بيضاء). ما هو عدد الورد المتبقية؟



العملية :

بقيت في حديقتنا وردة.

العملية :

بقيت في حديقتنا وردة حمراء.

العملية :

بقيت في حديقتنا وردة صفراء.

العملية :

بقيت في حديقتنا وردة بيضاء.

أعدت لنا جدتي 27 قطعة من البسكويت، أكلت منها مرام 6 قطع و أكل يوسف 4 قطع، أحسب كم قطعة من البسكويت تبقّت؟

العملية :

تبقّت قطعة من البسكويت .

اصطاد علي 11 سمكة، أكلت القطعة 5 سمكات

فكم من سمكة تبقّت؟

العملية :

تَبَقَّتْ عِنْدَ عَلِيٍّ سَمَكَةٌ.