

مراجعة في التاريخ و الجغرافيا للفصل الثاني

السنة الثالثة ابتدائي (الجيل الجديد)

1/ تاريخ

1/ أكمل :

الادوات الحجرية هي أدوات صنعها في العصر واستعملها في مختلف مجالات حياته كما.....

و

2/ أجب عن الاسئلة التالية:

1- ماذا نقصد بالأدوات الحجرية؟(قدم تعريفا لها)

.....

2- ماذا ترك الانسان الذي عاش في منطقة الناسيلي ؟

.....

3- كيف تمكن علماء الآثار من التعرف على حياة الانسان الذي عاش في العصر القديم ؟

.....

4/ أين تقع مدينة تيمقاد؟.....

5/ تتوفر منطقة شمال افريقيا على عدد كبير من الاثار العمرانية القيمة , أذكر البعض منها

.....

6- ما هي المسكوكات؟.....

.....

3/ أربط بسهم بين المواقع الاثرية و أماكن تواجدها :

- | | | | |
|---------------|---|---------|---|
| عين الحنش | ● | معسكر | ● |
| موقع تيغنيف | ● | سطيف | ● |
| ضريح ماسينيسا | ● | باتنة | ● |
| ضريح امدغاسن | ● | قسنطينة | ● |

من اعداد المعلمة : بوخشم مريم

4/ صنف الاثار التالية في الجدول التالي :

فأس حجري – مدينة تيمقاد – مدينة جميلة الاثرية – رسوم كهوف التاسيلي – الاثار الرومانية بتييازة – قطع نقدية
نوميديية – رأس رمح حجري – كتابة على ورق البردي

أدوات حجرية	نقوش صخرية	اثار عمرانية	مسكوكات و مخطوطات

5/ اشطب خانة العبارات الخاطئة :

الاثار القديمة هي كل مخلفات الانسان في العصر القديم	النقوش الصخرية هي من الاثار القديمة
قسم المؤرخون فترة التاريخ الى 5 مراحل	استقر الانسان في شمال افريقيا منذ القدم
لم يترك الانسان القديم أي أثر على وجوده	المسكوكات هي أدوات حجرية

6/ ضع (ص) أو (خ) أمام كل جملة :

- يذكر المؤرخون ان الانسان استقر في شمال افريقيا منذ القدم ← (.....)
- عين الحنش بسطيف من أقدم المواقع الاثرية بشمال افريقيا ← (.....)
- تقع مشتى العربي جنوب منطقة تلمسان ← (.....)
- عثر في مشتى العربي على جماجم بشرية تعود للعصر الحجري القديم ← (.....)
- بنى الانسان في مرحلة قبل التاريخ العمارات و شيد المباني ← (.....)
- عثر في منطقة تيغنيف بالقرب من معسكر على اهرام عالية ← (.....)

7/ صنف في الجدول أنماط المعيشة التالية حسب مرحلتها :

ممارسة الزراعة – ممارسة الصيد – السكن في الكهوف و المغارات – اكتشاف المعادن – ابتكار الكتابة – التنقل م
الترحال من اجل جمع القوت

مرحلة ما قبل التاريخ	المرحلة التاريخية

8/ ضع كل كلمة في مكانها المناسب

ما قبل التاريخ - الصيد - الزراعة - مرحلتين - الكتابة - التاريخية - الكهوف - المعادن - الكتابة - 3200 سنة
قسم المؤرخون فترة التاريخ الىهما :

1- مرحلةوهي الفترة الممتدة منذ ظهور الانسان على سطح الارض الى غاية اكتشاف..... حوالي
سنةقبل الميلاد . حيث سكن الانسان خلالهاو المغارات ومارسلكي يقاتل.

2- مرحلةو تمتد من ابتكار الكتابة حوالي3200 سنة قبل الميلاد الى غاية 476 ميلادية , حيث تكيف
الانسان مع بيئته , فابتكرو مارسو اكتشفواستخدمها في حياته اليومية .

9/سطر تحت الاجابة الصحيحة :

1- يقصد بفترة ما قبل التاريخ الفترة الممتدة منذ ظهور الانسان على سطح الارض الى :

* ميلاد الرسول محمد (ص)

* استقلال الجزائر سنة 1962مليادي

* غاية ابتكار الكتابة حوالي 3200 سنة قبل الميلاد

2- تمتد المرحلة التاريخية من :

* ميلاد الرسول محمد (ص) الى غاية هجرته من مكة الى المدينة .

* ابتكار الكتابة حوالي 3200سنة قبل الميلاد الى غاية 476 سنة ميلادية تاريخ سقوط روما.

* احتلال الجزائر سنة 1830 ميلادي الى غاية استقلالها سنة 1962 ميلادي

10 / ضع (ص) أو (خ) أمام كل جملة :

- التاسيلي هي منطقة جبلية تقع في فرنسا ← (.....)

- لم يترك الانسان الذي عاش في القديم أي أثر ← (.....)

- الادوات الحجرية هي أدوات صنعها الانسان في العصر الحديث ← (.....)

- عاش الانسان في العصر القديم في الكهوف و المغارات ← (.....)

-لا تتوفر منطقة شمال افريقيا على اثار عمرانية ← (.....)

- تقع مدينة تيمقاد الاثرية شرق ولاية باتنة ← (.....)

- المسكوكات هي ادوات حجرية ← (.....)

-عين الحنش بولاية سطيف من أقدم المواقع الاثرية بشمال افريقيا ← (.....)

- قسم المؤرخون فترة التاريخ القديم الى ثلاثة مراحل ←(.....)

-استقر الانسان في شمال افريقيا حديثا فقط ← (.....)

- تقع مشتى العربي بولاية جيجل ←(.....)

11/ اربط كل شخصية بتاريخ و مكان ميلادها :

- الاديب أبوليس
- ولد عام 238 قبل الميلاد
- الفيلسوف القديس أوغستين
- 125 ميلادي في مدينة مادور (مداوروش حاليا)
- الملك ماسينيسا
- 354 ميلادي تاغاست (سوق اهراس حاليا)

12/ املأ الفراغات بما يناسب :

- تتنوع آثار العصر القديم بمنطقة شمال افريقيا منها المخطوطات و..... و..... و.....
- و..... وهي توجد بمختلف المواقع الاثرية.
- تمتد مرحلة ما قبل التاريخ من والى غاية اكتشاف سنة
- حيث كان الانسان خلال هذه المرحلة يسكن في و يمارس حرف
- و ينتقل من مكان لأخر بحثا عن.....

13/ اربط ما يلي :

- الاثار العمرانية القديمة
- رسومات ملونة على جدران الكهوف
- المسكوكات و المخطوطات
- أدباء العصر القديم و ما خلفوه من كتب و مؤلفات
- النقوش الصخرية
- القطع النقدية التي كانت تستعمل في العصور القديمة و الحلي
- المباني التي خلفها الانسان في العصور القديمة
- الشخصيات التاريخية

14/ أكمل الجدول التالي :

كان الانسان خلال مرحلة	
مرحلة	مرحلة
يرسم و ينقش على	يكتب على
يمارس	يمارس الزراعة باعتماده على
يسكن في	يسكن

من اعداد المعلمة : بوخشم مريم

15/ أكتب داخل الخط الزمني المرحتين التاريخيتين وداخل الاطار التاريخ المعلمي الفاصل بينهما :

16/ ضع سطر تحت الاجابة الصحيحة :

- 1- ترك الانسان الذي عاش في التاسيلي الكثير من الاثار منها :
- الادوات الحجرية - الاثار العمرانية - الرسوم و النقوش الصخرية الملونة على جدران الكهوف
- 2- تقع مدينة تيمقاد الاثرية :
- شرق ولاية باتنة - شرق ولاية عنابة - شرق ولاية جيجل
- 3- مدينة تيمقاد بناها :
- الفرنسيون سنة 1830 ميلادي
- الامازيغ سنة 1200 ميلادي
- الرومان سنة 100 ميلادي

17/ أشطب ما هو خطأ :

- 1- تتنوع أثار العصر القديم بمنطقة شمال افريقيا و منها :
-المخطوطات
- مقام الشهيد
- المسكوكات
- ميناء جن جن بجيجل
- الادوات الحجرية
- الرسوم الملونة على جدران الكهوف
- المسجد الكبير بالجزائر العاصمة

ضريح ماسينيلا - نقوش صخرية - مسكوكات نوميديية - تمثال -مدن أثرية - أدوات حجرية - مخطوطات-
ورق البردي

الاثار المادية	الرسوم و النقوش	الوثائق المكتوبة



1/ ضع كل كلمة في مكانها المناسب :

الزراعي - تكيف - مستوية - بانحدار - متنوعة - الاستقرار - صعوبة

السهول هي مناطق من سطح الارض تتوفر فيها شروط و التعمير ,يسودها نشاط يغلب عيه الطابع

أما الجبال فهي مناطق تتميزالسطح والمسلك غير أن الانسانمع هذه البيئة بأساليب مختلفة و أنشطة

2/ أربط كل كلمة بما يناسبها :

- الطقس ● حالة الجو لمدة قصيرة في منطقة من المناطق
- المناخ ● حالة الجو السائدة لمدة طويلة
- متقلب
- يسود لمدة طويلة

3/ أجب عن الاسئلة التالية :

1- عرف الطقس

.....

2- بما يفيدنا معرفة الطقس ؟

.....

3- هناك اختلاف واضح بين المناخ و الطقس ,أذكره

4/ تتنوع مظاهر السطح و تختلف و تتباين فيما بينها في الطبيعة

بماذا يسمى؟

أذكر أنواعها؟

5/ ماذا يميز الصحراء؟

6/ أين تقع؟

7/ ضع (ص) أو (خ) أمام كل جملة :

- تتميز الهضاب بارتفاعها الشديد ← (.....)
- الطقس هو حالة الجو لمدة قصيرة ← (.....)
- المناخ هو نفسه الطقس ← (.....)
- يتميز المناخ في شمال الجزائر بارتفاع الحرارة في فصل الشتاء ← (.....)
- الجبال مظاهر تضاريسية تتميز بالانخفاض و سطح شبه مستوي ← (.....)
- توحد الصحراء في شمال الجزائر ← (.....)
- توجد سهول تلية فقط في بلادي ← (.....)

8/ أجب عن الاسئلة التالية :

1- ماهي أنواع الجبال في الجبال؟

2- ماهي أهم أنواع الهضاب في الجزائر؟

3- ما لفرق بين السهول و الجبال؟

4- ما هي أهم مظاهر تضاريس الصحراء الجزائرية ؟

9/ ضع (ص) أو (خ) أما كل جملة :

- تقع السهول الساحلية في الجنوب الجزائري ← (.....)
- يسود المناطق الداخلية من الجزائر مناخ البحر الابيض المتوسط ← (.....)
- تقع الهضاب العليا في المناطق الشمالية للجزائر ← (.....)
- المناخ هو حالة جوية سائدة في منطقة معينة لفترة زمنية طويلة ← (.....)
- تقع جبال التاسيلي في منطقة الهضاب العليا من الجزائر ← (.....)
- مناخ البحر الأبيض المتوسط يتميز بالحرارة المرتفعة و ندرة الأمطار (.....)
- تقع الجزائر في شمال قارة افريقيا ← (.....)
- الطقس و هو حالة الجو لمدة طويلة ← (.....)
- يتراوح معدل الامطار التي تتساقط في شمال افريقيا سنويا (800/600 ملم) ← (.....)
- في فصل الشتاء تسقط الثلوج على المرتفعات الي في شمال الجزائر خلال ايام معدودة ← (.....)

10/ أكمل :

تتنوع مظاهر السطح و تختلف و تتباين فيما بينها في الطبيعة و نذكر منها :

- 1 - الجبال و تتمثل في سلسلة و سلسلة
- 2- الهضاب و توجد هضاب و هضاب
- 3- السهول و توجد مثل سهل و سهول تسمى ...

11/ ضع كل كلمة في مكانها المناسب :

(مسطحة - منخفضة - قمم - واسعة - مرتفعة - مستوية)





الجبال : هي تضاريس تتميز بـ صخرية و حادة

الهضاب : هي أراضي مرتفعة مساحتها و قممها

السهول : هي أراضي و

- 1- تعريف الطقس
- 2- تعريف المناخ
- 3- تعريف الجبال
- 4- تعريف الهضاب
- 5- تعريف السهول

12/ لاحظ الصور ثم املأ الفراغ :

هضاب	سهول	جبال	كثبان رملية
			
.....

بالتوفيق و اتمنى لكم النجاح

آسفة ان وجدت أخطاء فجل من لا يخطئ

