



## المستوى :الأولى ابتدائي (1AP) مارس: 2017

### اختبار الفصل الثاني في مادة الرياضيات

#### التمرين الأول : .....(ن2)

اكمل لتحصل على متتالية عددية

		10
--	--	----

	25	
--	----	--

19		
----	--	--

21		
----	--	--

#### التمرين الثاني :

1/ اكتب بالاعداد أو بالحروف.....(ن2)

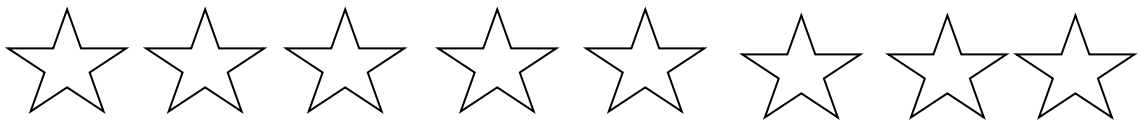
- 18 : .....

- خمسة و ثلاثون : .....

- 23 : .....

- إثنان و ثلاثون : .....

2/ لون النجمة الثانية و السابعة.....(ن1)



### التمرين الثالث:.....(ن1)

أضع \* أكبر من \* / \* أصغر من \* أو \* يساوي \*

$$9..... 4+ 5$$

$$10..... 8-1$$

$$23..... 32$$

$$17.....14$$

### التمرين الرابع:.....(ن1)

أكمل بالعبارة الصحيحة: " ضعف " أو " نصف "

$$9..... 18$$

$$12..... 6$$

$$10..... 5$$

$$7..... 14$$

### الوضعية الإدماجية

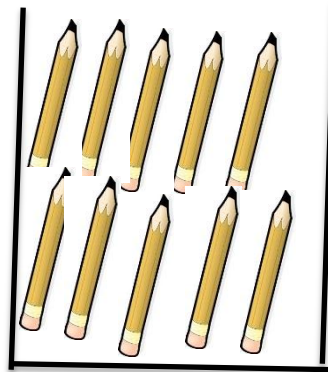

عند منى 35 قلم ملون، تريد أن تضع كل 10 أقلام في علبة. ساعدها في ذلك و أجب :

1/ على كم علبة تحصّلت منى ؟

\_ تحصّلت منى على ..... علب .

2/ كم قلم بقي خارج العلب ؟

\_ بقي خارج العلب ..... أقلام .



التصحيح

<p>0,25 2</p> <p>0,25 2</p> <p>0,25 2</p> <p>0,25 2</p>	<p>.....24 -25 -26</p> <p>.....8 - 9 - 10</p> <p>.....19 - 20 - 21</p> <p>.....21- 22 - 23</p>	<p>التمرين الاول</p>
<p>0,5</p> <p>0,5</p> <p>0,5</p> <p>0,5</p> <p>0,5 /2</p>	<p>18 ثمانية عشر</p> <p>35 خمسة و ثلاثون</p> <p>23 ثلاثة و عشرون</p> <p>32 إثنان وثلاثون</p> <p>تلوين</p>	<p>التمرين الثاني</p>
<p>0,25</p> <p>0,25</p> <p>0,25</p> <p>0,25</p>	<p>يساوي.....</p> <p>اصغر من.....</p> <p>اكبر من.....</p> <p>اصغر من.....</p>	<p>التمرين الثالث</p>
<p>0,25</p> <p>0,25</p> <p>0,25</p> <p>0,25</p>	<p>9 18 ضعف</p> <p>3 6 ضعف</p> <p>10 5 ضعف</p> <p>7 14 ضعف</p>	<p>التمرين الرابع</p>
<p>1,5</p> <p>1,5</p>	<p>منى على علب تحصات</p> <p>بقي خارج العلب 5 اقلام</p>	<p>الوضعية</p>