



الجمهورية الجزائرية الديمقراطية الشعبية  
وزارة التربية الوطنية  
مؤسسة التربية و التعليم الخاصة **سليم**

ETABLISSEMENT PRIVE D'EDUCATION ET D'ENSEIGNEMENT **SALIM**

www.ets-salim.com 021 87 10 51 021 87 16 89 Hai Galloul - bordj el-bahri alger

رخصة فتح رقم 1088 بتاريخ 30 جانفي 2011

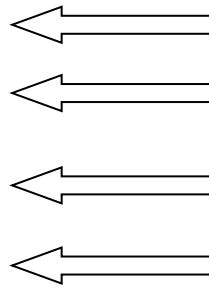
غضيري- ابتدائي- متوسط - ثانوي

إعتماد رقم 67 بتاريخ 06 سبتمبر 2010

المستوى: الأول ابتدائي (1AP) فيفري 2016

اختبار الفصل الثاني في مادة الرياضيات

التمرين الأول: الأَحْظُ ثُمَّ أَكْتُبُ العَدَدَ (2ن)



• 3 عَشْرَات و 9 وحدات

• عَشْرَةٌ و 5 وحدات

• 5 عَشْرَات و 7 وحدات

• عَشْرَتَان و 4 وحدات

التَّمْرِينُ الثَّانِي: أَكْمِلْ بَوَضْعِ (1.5 ن)

< أَصْغَرُ مِنْ - يُسَاوِي - أَكْبَرُ مِنْ >

• 23.....32

• 24+1.....5+20

• 50+ 9.....58

الصفحة 2/1

حي فغلول - برج البحري - الجزائر

Web site : [www.ets-salim.com](http://www.ets-salim.com) /021.87.16.89 :الفاكس : 021.87.10.51 :☎

## التَّمْرِينُ الثَّالِثُ : أَكْمِلُ الْجَدُولَ : (3ن)

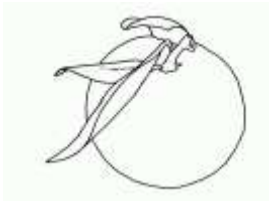
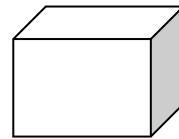
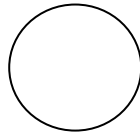
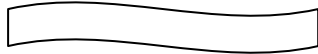

العَشْرَةُ الَّتِي تَلِي	العَدَدُ	العَشْرَةُ الَّتِي تَسْبِقُ
.....	23	.....
20	17	....
.....	49	40
.....	31	.....

## التَّمْرِينُ الرَّابِعُ : الْأَحْظُ ثُمَّ أَكْمِلُ : (2ن)

30	....33...	.....	.....	.....	.....
----	-----------	-------	-------	-------	-------

## التَّمْرِينُ الْخَامِسُ : (1.5ن)

الْوَنُّ بِالْأَزْرَقِ الْأَشْكَالِ ذَاتِ رُؤُوسٍ وَبِالْأَخْضَرِ الْأَشْكَالِ الْمُنْحَنِيَّةِ



## إِخْتِبَارُ الْفَصْلِ الثَّانِي فِي مَادَّةِ الرِّيَاضِيَّاتِ

التمرين الأول: أَلْحِظْ ثُمَّ أَكْتُبِ الْعَدَدَ (ن2)

• 3 عَشْرَاتٍ وَ 9 وَحَدَاتٍ  $\leftarrow$  33

• عَشْرَةٌ وَ 5 وَحَدَاتٍ  $\leftarrow$  15

• 5 عَشْرَاتٍ وَ 7 وَحَدَاتٍ  $\leftarrow$  57

• عَشْرَتَانِ وَ 4 وَحَدَاتٍ  $\leftarrow$  24

التمرين الثاني أَكْمِلْ بِوَضْعِ (1.5 ن)

< أَصْغَرُ مِنْ - يُسَاوِي - أَكْبَرُ مِنْ >

• 32..... أَكْبَرُ مِنْ 23,,,

• 20+5..... يُسَاوِي 1+24

• 58..... أَصْغَرُ مِنْ 9+50

## التمرين الثالث : أكمل الجدول : (3 ن)

العشرة التي تسبق	العدد	العشرة التي تلي
20.....	23	...30..
10	17	20
...40...	49	...50...
30	31	...40...

## التمرين الرابع: ألاحظ ثم أكمل : (2 ن)

...30...	....33....	.....36....	...39.....	...42.....	...45.....
.	.	.	...	.	.

## التمرين الخامس : (1.5 ن)

ألون بالأزرق الأشكال ذات رؤوس وبالأخضر الأشكال المنحنية

